

Proba E: Specializarea : matematică –informatică, științe ale naturii

Proba F: Profil: tehnic – toate specializările

♦ Sunt obligatorii toți itemii din două arii tematice dintre cele patru prevăzute în programă, adică: A.MECANICĂ, B.ELECTRICITATE ȘI MAGNETISM, C. ELEMENTE DE TERMODINAMICĂ ȘI FIZICĂ MOLECULARĂ, D. OPTICĂ

♦ Se acordă 10 puncte din oficiu.

♦ Timpul efectiv de lucru este de 3 ore.

Varianta 1

B. ELECTRICITATE ȘI MAGNETISMPermeabilitatea magnetică a vidului are valoarea $\mu_0 = 4\pi \cdot 10^{-7} \text{ N/A}^2$.**I. Pentru itemii 1-5 scrieți pe foaia de răspuns litera corespunzătoare răspunsului considerat corect****15 puncte**

1. Pe factura de curent electric a unei familii este trecut un consum lunar de 150 kWh, ceea ce este echivalent cu:

- a. $42 \cdot 10^{-6} \text{ J}$ b. $15 \cdot 10^4 \text{ J}$ c. $24 \cdot 10^6 \text{ J}$ d. $54 \cdot 10^7 \text{ J}$

2. La capetele unui fir conductor se aplică o tensiune electrică constantă U . În situația în care coeficientul termic al rezistivității este pozitiv, intensitatea curentului electric prin conductor:

- a. scade cu creșterea temperaturii, deoarece rezistivitatea electrică scade cu temperatura
b. crește cu creșterea temperaturii, deoarece rezistivitatea electrică scade cu temperatura
c. scade cu creșterea temperaturii, deoarece rezistivitatea electrică crește cu temperatura
d. nu se modifică, deoarece rezistivitatea electrică nu depinde de temperatură.

3. Un reșou electric degajă o putere $P = 2 \text{ kW}$ dacă la borne i se aplică o tensiune $U = 200 \text{ V}$. Sârma din care este confecționatărezistența reșoului are diametrul $d = 1 \text{ mm}$ și rezistivitatea $\rho = 1 \frac{\Omega \cdot \text{mm}^2}{\text{m}}$. Lungimea sârmei este egală cu:

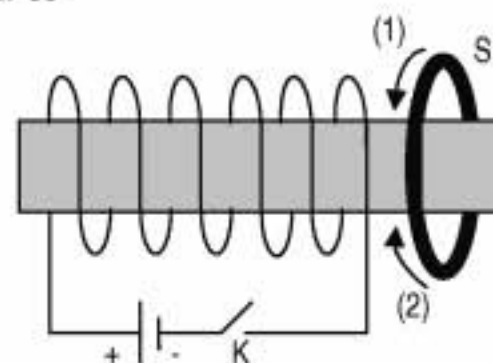
- a. 10 m b. 15,7 m c. 25,5 m d. 31,4 m

4. Un solenoid fără miez magnetic, situat în aer ($\mu_{\text{aer}} \equiv \mu_0$) are $N = 100$ spire, lungimea $l = 10 \text{ cm}$ și este parcurs de un curent cu intensitatea $I = 100 \text{ mA}$. Un proton cu sarcina electrică $q = 1,6 \cdot 10^{-19} \text{ C}$, pătrunde cu viteza $v = 10^4 \text{ m/s}$, orientată sub unghiul α față de axa solenoidului, în interiorul acestuia. În cazul în care câmpul magnetic din solenoid acționează asupra protonului cu forța $F = 3,2 \cdot \pi \cdot 10^{-20} \text{ N}$, unghiul α este egal cu:

- a. 0° b. 30° c. 45° d. 60°

5. La închiderea întrerupătorului K din figura alăturată, prin inelul conductor S:

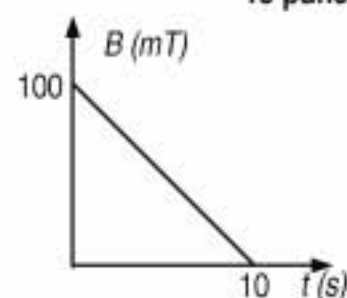
- a. se induce pentru scurt timp curent electric având sensul (1);
b. se induce curent electric al cărui sens se modifică periodic;
c. nu se induce curent electric, fluxul magnetic prin inel rămânând constant;
d. se induce pentru scurt timp curent electric având sensul (2).

**II. Rezolvați următoarele probleme:**1. O sursă cu t.e.m $E = 24 \text{ V}$ și rezistența internă $r = 2 \Omega$, alimentează un circuit electric format din n becuțe identice, legate în paralel, având fiecare rezistența electrică $R = 30 \Omega$. Determinați:

- a. numărul maxim (n) de becuțe care pot fi legate în paralel, știind că sursa nu suportă un curent mai mare decât $I_{\text{max}} = 7 \text{ A}$;
b. căldura degajată de becuțe într-o oră, în condițiile descrise la punctul a.;
c. puterea maximă pe care sursa ar putea să o degajeze pe circuitul exterior.

15 puncte2. O spiră conductoare de rază $r = 6 \text{ cm}$ și rezistență electrică $R = 0,5 \Omega$, se află într-un câmp magnetic omogen. Dependența valorii inducției câmpului magnetic de timp este ilustrată în figura alăturată. Planul spirei formează un unghi $\alpha = 30^\circ$ cu direcția liniilor de câmp. Determinați:

- a. fluxul magnetic prin spiră la momentul inițial $t = 0$;
b. tensiunea indusă în spiră la momentul $t_1 = 5 \text{ s}$;
c. sarcina electrică transportată prin spiră în primele 8 s.

**15 puncte**

Proba E: Specializarea : matematică –informatică, științe ale naturii

Proba F: Profil: tehnic – toate specializările

♦ Sunt obligatorii toți itemii din două arii tematice dintre cele patru prevăzute în programă, adică: A.MECANICĂ, B.ELECTRICITATE ȘI MAGNETISM, C. ELEMENTE DE TERMODINAMICĂ ȘI FIZICĂ MOLECULARĂ, D. OPTICĂ

♦ Se acordă 10 puncte din oficiu.

♦ Timpul efectiv de lucru este de 3 ore.

Varianta 2

B. ELECTRICITATE ȘI MAGNETISM

Permeabilitatea magnetică a vidului este $\mu_0 = 4\pi \cdot 10^{-7} \text{ N/A}^2$

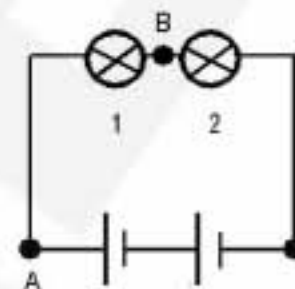
Sarcina electrică elementară $e = 1,6 \cdot 10^{-19} \text{ C}$

I. Pentru itemii 1-5 scrieți pe foaia de răspuns litera corespunzătoare răspunsului considerat corect

15 puncte

1. În circuitul din figura alăturată, sursele identice au rezistențe interne neglijabile și tensiunea de 1,5 V fiecare. Becurile sunt de asemenea identice. Tensiunea electrică între punctele A și B este de:

- a. 0 V b. 0,75 V c. 1,5 V d. 3 V



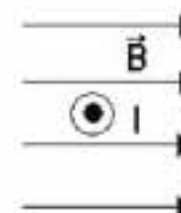
2. Considerând că notațiile sunt cele folosite în manualele de fizică, unitatea de măsură a mărimii fizice

egală cu $\frac{\mu I}{2\pi r}$, este:

- a. N b. T c. V d. Wb

3. Un conductor liniar, este plasat perpendicular pe liniile de câmp ale unui câmp magnetic omogen și este parcurs de un curent electric cu sensul reprezentat în figura alăturată. Orientarea forței electromagnetice este reprezentată corect în cazul:

- a.  b.  c.  d. 

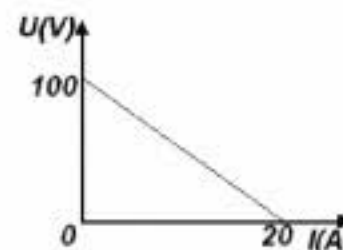


4. N surse identice de tensiune electromotoare E și rezistență internă r sunt conectate mai întâi în serie și apoi în paralel și alimentează același rezistor. Rezistența R a rezistorului, pentru care intensitatea curentului electric prin acesta are aceeași valoare în ambele cazuri este egală cu:

- a. r/N b. r c. Nr d. 2Nr

5. Graficul alăturat ilustrează modul în care variază tensiunea la bornele unei surse (cu tensiune electromotoare E și rezistență internă r constante) când intensitatea curentului electric prin circuit variază. Rezistența internă a sursei este de:

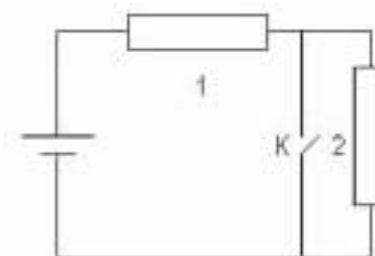
- a. 5 Ω b. 20 Ω c. 100 Ω d. 2000 Ω



II. Rezolvați următoarele probleme:

1. O sursă cu tensiunea electromotoare de 6 V și rezistența electrică neglijabilă este conectată în circuitul reprezentat în figura alăturată. Rezistorii din circuit sunt identici și au rezistențele egale cu 2 Ω , iar întrerupătorul K poate fi închis sau deschis.

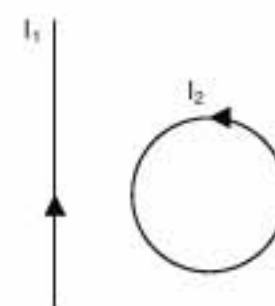
- a. Determinați cu cât crește intensitatea curentului electric prin rezistorul 2 atunci când întrerupătorul K este comutat din poziția închis în poziția deschis.
b. Determinați căldura degajată prin rezistorul 1 timp de 5 minute, dacă întrerupătorul K este închis.
c. Explicați de ce se schimbă valorile intensităților curentilor electrice din circuit atunci când întrerupătorul K este comutat din poziția închis în poziția deschis.



15 puncte

2. Un conductor liniar infinit de lung și o spirală circulară de rază $r = 2 \text{ cm}$ se află în același plan. Distanța dintre centrul spiralei și conductorul liniar este 2 r, iar prin conductor și spirală trec curentii electrice de intensități I_1 , respectiv I_2 , ca în figura alăturată. Se îndepărtează apoi conductorul liniar și se plasează spira perpendicular pe liniile unui câmp magnetic uniform a cărei inducție variază în timp după legea $B = 5 \cdot 10t$. (Timpul t este măsurat în secunde iar inducția câmpului magnetic B este măsurată în Tesla)

- a. Determinați raportul intensităților celor doi curenti I_1/I_2 astfel ca atunci când centrul spiralei se află la distanța 2r de conductorul liniar, în centrul spiralei inducția câmpului magnetic să fie nulă.
b. Definiți fenomenul de inducție electromagnetice și enunțați legea inducției electromagnetice.
c. Determinați valoarea tensiunii electromotoare indusă în spirală, atunci când aceasta este plasată în câmpul magnetic variabil în timp.



15 puncte

Proba E: Specializarea : matematică –informatică, științe ale naturii

Proba F: Profil: tehnic – toate specializările

♦ Sunt obligatorii toți itemii din două arii tematice dintre cele patru prevăzute în programă, adică: A.MECANICĂ, B.ELECTRICITATE ȘI MAGNETISM, C. ELEMENTE DE TERMODINAMICĂ ȘI FIZICĂ MOLECULARĂ, D. OPTICĂ

♦ Se acordă 10 puncte din oficiu.

♦ Timpul efectiv de lucru este de 3 ore.

Varianta 3

B. ELECTRICITATE ȘI MAGNETISMPermeabilitatea magnetică a vidului are valoarea $\mu_0 = 4\pi \cdot 10^{-7} \text{ N/A}^2$.**I. Pentru itemii 1-5 scrieți pe foaia de răspuns litera corespunzătoare răspunsului considerat corect.****15 puncte**

1. Unitatea de măsură în S.I. pentru inducția câmpului magnetic este:

- a. Weber b. Watt c. Volt d. Tesla

2. Patru fire metalice, sunt caracterizate fiecare prin lungimi, raze și rezistivități electrice diferite, după cum urmează : pentru primul fir (ℓ_0, r_0, ρ_0) , pentru cel de-al doilea $(2 \cdot \ell_0, r_0 \cdot \sqrt{2}, \rho_0)$, pentru cel de-al treilea $(\ell_0 \cdot \sqrt{2}, r_0 \cdot \sqrt{2}, \rho_0 \cdot \sqrt{2})$ iar pentru cel de-al patrulea $(\ell_0 \cdot \sqrt{2}, r_0 \cdot \sqrt{2}, \rho_0)$. În aceste condiții unul dintre fire are rezistența electrică diferită de celelalte trei. Firul metalic cu rezistența diferită este:

- a. primul b. al doilea c. al treilea d. al patrulea

3. O bobină ideală, fără miez magnetic situată în aer ($\mu_{\text{aer}} \equiv \mu_0$), cu lungimea $\ell = (2 \cdot \pi) \text{ cm}$ și secțiunea transversală $S = 1 \text{ cm}^2$ are inductanța $L = 2 \text{ mH}$; bobina are axa longitudinală paralelă cu liniile unui câmp magnetic uniform de inducție $B = 1 \text{ T}$. T. e. m. medie indusă în bobină, când aceasta este scoasă din câmp în $\Delta t = 0,05 \text{ s}$ are valoarea:

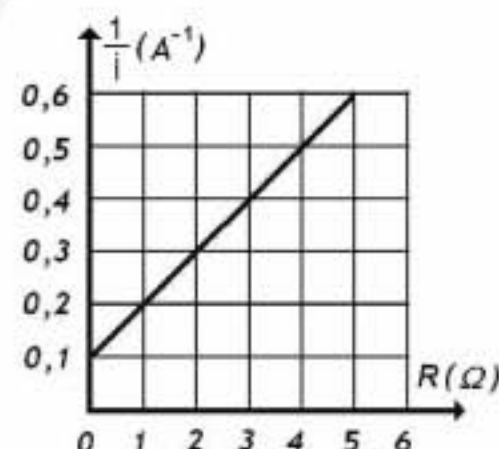
- a. 1V b. 2V c. 4V d. 5V

4. Un circuit electric este compus dintr-o baterie cu rezistența internă r , care debitează curent electric pe o rezistor cu rezistența electrică de 9 ori mai mare decât rezistența internă a bateriei. Raportul dintre puterea debitată de baterie pe rezistor și puterea totală debitată de baterie (randamentul circuitului) are valoarea:

- a. 0 b. 1/2 c. 9/10 d. 1

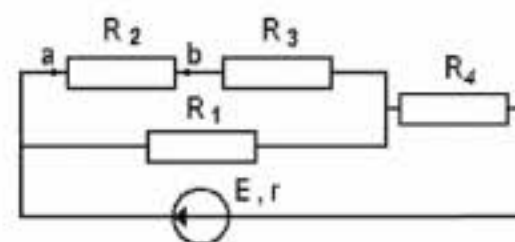
5. La bornele unei baterii este legat un rezistor cu rezistență R , variabilă. Dependența inversului intensității curentului electric $1/I \text{ (A}^{-1}\text{)}$ ce străbate rezistorul, de rezistența electrică a rezistorului este ilustrată în figura alăturată. Folosind datele din figură, tensiunea electromotoare a bateriei E și rezistența sa internă r au valorile:

- a. $E = 10 \text{ V}; r = 10 \Omega$
b. $E = 1 \text{ V}; r = 1 \Omega$
c. $E = 10 \text{ V}; r = 1 \Omega$
d. $E = 1 \text{ V}; r = 10 \Omega$

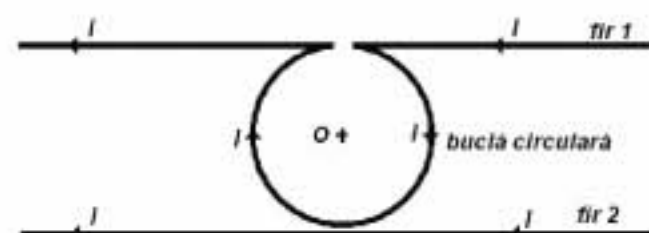
**II. Rezolvați următoarele probleme:**

1. Circuitul electric a cărui diagramă este ilustrată în figura alăturată conține o baterie cu t.e.m. $E = 18 \text{ V}$ și rezistența internă $r = 0,2 \Omega$ și patru rezistori având rezistențele electrice $R_1 = 6 \Omega$, $R_2 = 2 \Omega$, $R_3 = 4 \Omega$ și $R_4 = 5,8 \Omega$. Neglijând rezistența electrică a firelor conductoare din circuit, determinați:

- a. intensitatea curentului electric din ramura ce conține bateria;
b. energia electrică disipată în rezistorul cu rezistența R_1 , în timpul $\tau = 5 \text{ min}$;
c. căderea de tensiune U_{ab} pe rezistorul cu rezistența electrică R_2 .

**15 puncte**

2. Circuitul din figură, în care firul 1 are o buclă circulară tangentă în punctul cel mai de jos la firul 2, poate fi considerat ca un ansamblu de două fire lineare, paralele foarte lungi și o spiră circulară cu raza $R = 10 \text{ cm}$. Firele și spira sunt parcurse de curenți electrici staționari având intensitatea $I = 1 \text{ A}$. Cunoscând că sistemul de conductoare este plasat în aer ($\mu_{\text{aer}} \equiv \mu_0$), determinați:



- a. inducția câmpului magnetic produs de firele lineare în punctul aflat la jumătatea distanței dintre ele într-o zonă foarte depărtată de buclă;
b. mărimea forței de atracție pe unitatea de lungime, exercitate de fiecare fir asupra celuilalt, într-o zonă foarte depărtată de buclă;
c. inducția câmpului magnetic produs de curentul care circulă prin ansamblul conductoarelor în punctul aflat în centrul O al spirei.

15 puncte

Proba E: Specializarea : matematică –informatică, științe ale naturii

Proba F: Profil: tehnic – toate specializările

♦ Sunt obligatorii toți itemii din două arii tematice dintre cele patru prevăzute în programă, adică: A.MECANICĂ, B.ELECTRICITATE ȘI MAGNETISM, C. ELEMENTE DE TERMODINAMICĂ ȘI FIZICĂ MOLECULARĂ, D. OPTICĂ

♦ Se acordă 10 puncte din oficiu.

♦ Timpul efectiv de lucru este de 3 ore.

Varianta 4

B. ELECTRICITATE ȘI MAGNETISMPermeabilitatea magnetică a vidului are valoarea $\mu_0 = 4\pi \cdot 10^{-7} \text{ N/A}^2$, $g = 10 \text{ m} \cdot \text{s}^{-2}$ **I. Pentru itemii 1-5 scrieți pe foaia de răspuns litera corespunzătoare răspunsului considerat corect****15 puncte**

1. Exprimată în unități fundamentale SI, unitatea de măsură pentru inductanța unui circuit este:

- a. $\text{kg} \cdot \text{m}^2 \text{s}^{-2} \text{A}^{-2}$ b. $\text{kg} \cdot \text{m}^2 \text{s}^{-2} \text{A}$ c. $\text{kg} \cdot \text{m}^2 \text{s}^2 \text{A}^{-2}$ d. $\text{kg} \cdot \text{m}^2 \text{s}^2 \text{A}$

2. Pe rețeaua de iluminat sunt conectate mai multe becuri în paralel. Fiecare bec necesită $0,2 \text{ A}$ și are o rezistență de 550Ω . Pierderea de tensiune pe firele de legătură este de 10 V . Tensiunea la bornele generatorului este:

- a. $U = 100 \text{ V}$ b. $U = 110 \text{ V}$ c. $U = 120 \text{ V}$ d. $U = 220 \text{ V}$

3. Numărul de rezistori identici, având fiecare rezistența $R = 10 \Omega$, legați în paralel la bornele unei surse cu rezistența internă $r = 2 \Omega$, care absorb aceeași putere ca și unul singur legat la bornele aceleiași surse este:

- a. 5 b. 15 c. 20 d. 25

4. Se consideră o bobină L_1 de lungime 75 cm cu 1500 spire, fără miez magnetic, situată în aer ($\mu_{\text{aer}} \equiv \mu_0$) și parcursă de un curent electric staționar cu intensitatea de 8 A . În interiorul bobinei se plasează o altă bobină L_2 plată, circulară, având 250 de spire suprapuse, fiecare cu diametrul 8 cm . Bobina plată este așezată astfel încât suprafața acesteia este perpendiculară pe liniile câmpului magnetic creat de bobina L_1 . Fluxul magnetic care traversează bobina L_2 este:

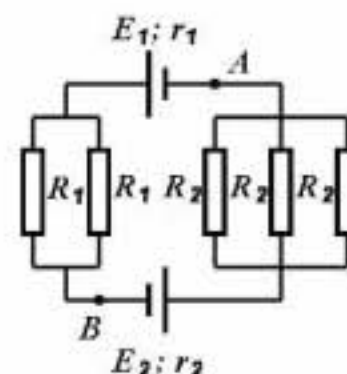
- a. $\Phi = 15,6 \text{ mWb}$ b. $\Phi = 20,6 \text{ mWb}$ c. $\Phi = 25,6 \text{ mWb}$ d. $\Phi = 35,6 \text{ mWb}$

5. O porțiune de conductor, de lungime $l = 30 \text{ cm}$, parcursă de un curent electric de intensitate $I = 10 \text{ A}$, este așezată perpendicular pe liniile unui câmp magnetic uniform de inducție $B = 200 \text{ mT}$. Forța electromagnetică ce acționează asupra conductorului are valoarea:

- a. $0,36 \text{ N}$ b. $0,60 \text{ N}$ c. $0,96 \text{ N}$ d. $1,06 \text{ N}$

II. Rezolvați următoarele probleme:1. Considerați circuitul electric reprezentat în figura alăturată, care conține două generatoare cu t.e.m. $E_1 = 6 \text{ V}$, $E_2 = 9 \text{ V}$ și rezistențele interne $r_1 = 1 \Omega$, $r_2 = 2 \Omega$ și rezistoarele având rezistențele electrice $R_1 = 22 \Omega$ și $R_2 = 33 \Omega$, grupate în paralel. Determinați:

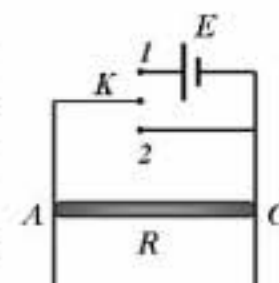
- a. rezistența electrică echivalentă a circuitului exterior;
b. intensitatea curentului electric care străbate generatoarele;
c. diferența de potențial dintre punctele A și B ale circuitului.

**15 puncte**2. Circuitul electric reprezentat în figura alăturată este situat în plan vertical. Sursa electrică are t.e.m. $E = 0,9 \text{ V}$ și rezistența internă neglijabilă. Tija orizontală AC cu rezistența electrică $R = 0,5 \Omega$, lungimea $L = 5 \text{ cm}$ și masa $m = 8,1 \cdot 10^{-3} \text{ kg}$, poate aluneca fără frecare în lungul a două șine verticale și de rezistență electrică neglijabilă, păstrând contactul electric cu șinele în A și C. Ansamblul circuitului este plasat într-un câmp magnetic \vec{B} perpendicular pe planul șinelor.

a. Se comută întrerupătorul K pe poziția 1. Determinați inducția câmpului magnetic astfel încât tija AC să fie imobilă.

b. Se comută întrerupătorul K pe poziția 2. Câmpul magnetic își păstrează sensul și valoarea determinate la punctul a. Stabiliți valoarea curentului indus în tijă în momentul în care viteza tijei atinge valoarea $v = 0,5 \text{ m/s}$.

c. Determinați viteza staționară de cădere a tijei (poziția întrerupătorului K și câmpul magnetic corespund cazului b).

**15 puncte**

EXAMENUL DE BACALAUREAT - 2007

Proba scrisă la Fizică

Proba E: Specializarea : matematică –informatică, științe ale naturii

Proba F: Profil: tehnic – toate specializările

♦ Sunt obligatorii toți itemii din două arii tematice dintre cele patru prevăzute în programă, adică: A.MECANICĂ, B.ELECTRICITATE ȘI MAGNETISM, C. ELEMENTE DE TERMODINAMICĂ ȘI FIZICĂ MOLECULARĂ, D. OPTICĂ

♦ Se acordă 10 puncte din oficiu.

♦ Timpul efectiv de lucru este de 3 ore.

Varianta 5

B. ELECTRICITATE ȘI MAGNETISM

Permeabilitatea magnetică a vidului are valoarea $\mu_0 = 4\pi \cdot 10^{-7} \text{ N/A}^2$

I. Pentru itemii 1-5 scrieți pe foaia de răspuns litera corespunzătoare răspunsului considerat corect.

15 puncte

1. Dacă notațiile sunt cele utilizate în manualele de fizică, unitatea de măsură în S.I. a mărimii fizice descrise de relația $I^2 R t$ este:

- a. W b. kWh c. J d. kW

2. Inducția magnetică pe axul unui solenoid fără miez feromagnetic, situat în aer ($\mu_{\text{aer}} \equiv \mu_0$), având $N = 1000$ de spire și lungimea $l = 12,56 \text{ cm}$, parcurs de un curent electric staționar cu intensitatea $I = 10 \text{ A}$ este :

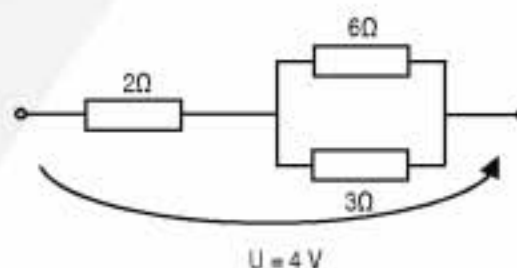
- a. 0,01 T. b. 0,1 T. c. 1 T. d. 10 T.

3. Un câmp magnetic omogen cu inducția $B = 0,2 \text{ T}$ intersectează un cadru multiplicator pătrat cu latura $l = 25 \text{ cm}$ și $N=1000$ spire, sub un unghi de 60° față de normala la suprafața cadrului multiplicator. Fluxul total al vectorului inducție magnetică prin suprafața cadrului multiplicator este:

- a. 6,25 Wb. b. 7,25 Wb. c. 8,25 Wb. d. 9,25 Wb.

4. În figura alăturată este prezentată o porțiune dintr-un circuit electric de curent continuu. Energia disipată în porțiunea de circuit în timp de 2 minute este:

- a. 180 J b. 280 J c. 380 J d. 480 J



5. Inductanța unei bobine cu miez feromagnetic poate avea expresia:

- a. $\frac{\Phi}{S}$
 b. $\frac{\mu_0 \cdot N^2 \cdot S}{\ell}$
 c. $\frac{\mu_0 \cdot \mu_r \cdot N^2 \cdot S}{\ell}$
 d. $\frac{\mu_0 \cdot \mu_r \cdot N \cdot l}{\ell}$

II. Rezolvați următoarele probleme:

1. Un multiplicator circular cu $N=10^3$ spire și rază $r=1 \text{ m}$ este situat într-un câmp magnetic, având axul paralel cu liniile de câmp. Inducția magnetică variază după legea $B(t) = 5t \text{ mT}$, timp de 10 s, după care devine constantă. Determinați:

- a. dependența de timp a fluxului magnetic prin multiplicator;
 b. tensiunea electromotoare indusă în multiplicator în primele 5 s de la începerea acțiunii câmpului magnetic;
 c. tensiunea electromotoare indusă în multiplicator în a 12-a secundă.

15 puncte

2. Două surse având tensiunile electromotoare $E_1=6 \text{ V}$ și $E_2=12 \text{ V}$ și rezistențele interne $r_1=3 \Omega$ și $r_2=6 \Omega$ sunt montate în paralel și debitează energie electrică pe o rezistență exterioară $R=4 \Omega$. Determinați:

- a. intensitatea curentului electric prin rezistența exterioară;
 b. tensiunea electromotoare echivalentă a celor 2 surse și rezistența internă echivalentă;
 c. energia care se disipă pe întreg circuitul în $t = 20 \text{ s}$.

15 puncte

Proba E: Specializarea : matematică –informatică, științe ale naturii

Proba F: Profil: tehnic – toate specializările

♦ Sunt obligatorii toți itemii din două arii tematice dintre cele patru prevăzute în programă, adică: A.MECANICĂ, B.ELECTRICITATE ȘI MAGNETISM, C. ELEMENTE DE TERMODINAMICĂ ȘI FIZICĂ MOLECULARĂ, D. OPTICĂ

♦ Se acordă 10 puncte din oficiu.

♦ Timpul efectiv de lucru este de 3 ore.

Varianța 6

B. ELECTRICITATE ȘI MAGNETISM

Permeabilitatea magnetică a vidului are valoarea $\mu_0 = 4\pi \cdot 10^{-7} \text{ N/A}^2$.

I. Pentru itemii 1-5 scrieți pe foaia de răspuns litera corespunzătoare răspunsului considerat corect

15 puncte

1. Dacă se dublează diametrul secțiunii unui conductor, de lungime ℓ și rezistivitate ρ , la capetele căruia se aplică o tensiune constantă, atunci intensitatea curentului prin conductor se modifică astfel:

- a. rămâne constantă b. crește de două ori c. crește de patru ori d. scade de două ori

2. Un bec funcționează normal la tensiunea de 220 V și are puterea de 100 W. Rezistența filamentului este:

- a. 4,54 Ω b. 22 Ω c. 484 Ω d. 22000 Ω

3. Două conductoare paralele, foarte lungi, aflate în vid la distanța r unul față de altul sunt parcurse de curenți electrici staționari în același sens. În acest caz cele două conductoare:

- a. se atrag b. se resping c. nu interacționează între ele d. se rotesc

4. Forța Lorentz ce acționează asupra unei particule încărcată electric, aflată în mișcare într-un câmp magnetic uniform, NU este:

- a. proporțională cu inducția câmpului magnetic
b. independentă de unghiul dintre viteza particulei și liniile de câmp
c. proporțională cu sarcina electrică a particulei
d. proporțională cu viteza particulei

5. Inductanța L poate fi măsurată în:

- a. $\Omega \cdot s^{-1}$ b. VsA^{-1} c. JsA^{-1} d. ΩA^{-1}

II. Rezolvați următoarele probleme:

1. Un fir din crom-nichel ($\rho = 10^{-6} \Omega m$) cu lungimea $\ell = 1 m$ și secțiunea $S = 0,1 \text{ mm}^2$ este legat la bornele unei surse cu t.e.m. $E = 24 V$ și rezistența internă neglijabilă.

- a. Calculați rezistența electrică a firului.
b. Determinați intensitatea curentului prin fir.
c. Din firul dat se realizează un contur închis de forma unui dreptunghi cu una din laturi $d = 0,3 m$. Se leagă mai întâi bornele sursei la capetele unei laturi mici a dreptunghiului și apoi la capetele diagonalei dreptunghiului. Determinați de câte ori este mai mare căldura degajată, în același timp, în primul caz față de cel de al doilea.

15 puncte

2. Doi conductori paraleli foarte lungi parcurși de curenți electrici staționari în același sens și de intensitate $I = 20 A$ fiecare se află în vid. Cei doi conductori sunt perpendiculari pe un plan, P , pe care este trasat un sistem de axe XOY. Ei intersectează planul în două puncte ale căror coordonate, exprimate în metri, sunt: N (0,2; 0) și M (-0,2; 0). Determinați:

- a. coordonatele punctului, din planul P , în care inducția câmpului magnetic este nulă.
b. mărimea, direcția și sensul inducției câmpului magnetic într-un punct C, situat în același plan P , de coordonate C(0; 0,2).
c. mărimea inducției câmpului magnetic în punctul C, dacă în planul P se aduce o spirală circulară cu raza $r = 6,28 (\equiv 2\pi) dm$ parcursă de curentul de intensitate $I = 20 A$ și cu centrul în C.

15 puncte

Proba E: Specializarea : matematică –informatică, științe ale naturii

Proba F: Profil: tehnic – toate specializările

♦ Sunt obligatorii toți itemii din două arii tematice dintre cele patru prevăzute în programă, adică: A.MECANICĂ, B.ELECTRICITATE ȘI MAGNETISM, C. ELEMENTE DE TERMODINAMICĂ ȘI FIZICĂ MOLECULARĂ, D. OPTICĂ

♦ Se acordă 10 puncte din oficiu.

♦ Timpul efectiv de lucru este de 3 ore.

Varianta 7

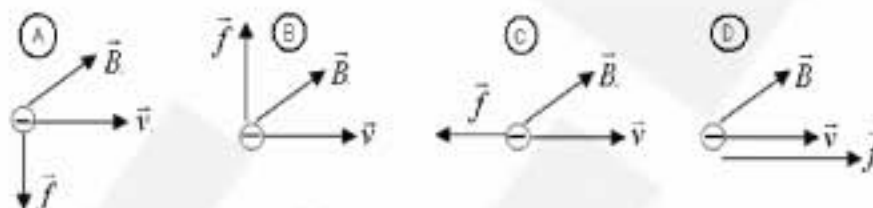
B. ELECTRICITATE ȘI MAGNETISM**I. Pentru itemii 1-5 scrieți pe foaia de răspuns litera corespunzătoare răspunsului considerat corect****15 puncte**1. Dacă notațiile sunt cele utilizate în manualele de fizică, atunci unitatea de măsură în S.I. a mărimii fizice descrise de relația Φ / l este:

a. $N / (A^2 \cdot m)$

b. $N \cdot m / A^2$

c. A / m

d. N / A^2

2. Direcția și sensul forței Lorentz \vec{f} care acționează asupra unui electron care pătrunde cu viteza \vec{v} perpendiculară pe liniile unui câmp magnetic uniform de inducție \vec{B} este corect reprezentată în figura:

a. A

b. B

c. C

d. D

3. Un solenoid cu lungimea $l = 0,4 \text{ m}$ este parcurs de un curent electric staționar de intensitate I_1 . În interiorul acestuia, la centru se plasează o spiră de diametru $d = 2 \text{ cm}$, al cărei plan este paralel cu planul spirelor solenoidului parcursă de un curent $I_2 = 10 I_1$. Pentru ca inducția magnetică în centrul spirei să fie nulă, numărul de spire ale solenoidului este:

a. 20

b. 100

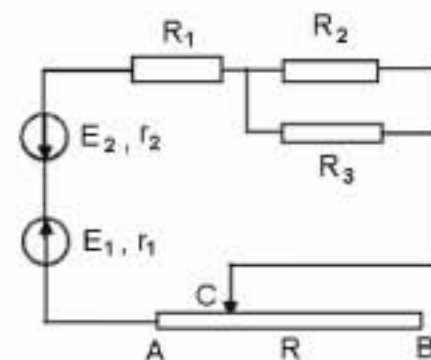
c. 200

d. 250

4. Un generator electric disipă aceeași putere electrică dacă i se conectează la borne un rezistor având rezistența electrică de 5Ω , sau un alt rezistor având rezistența electrică de 80Ω . Rezistența internă a generatorului are valoarea:a. 1Ω b. 5Ω c. 20Ω d. 40Ω 5. O spiră circulară cu diametrul $d = 10 \text{ cm}$ și rezistența $r = 0,314 \Omega (\approx 0,1\pi \Omega)$ se află într-un plan orizontal, fiind plasată într-un câmp magnetic uniform cu linii de câmp verticale de inducție $B = 2 \text{ mT}$. La rotirea spirei în jurul unui diametru cu un unghi egal cu $\pi / 3$, prin aceasta circulă o sarcină electrică:a. $13,5 \mu\text{C}$ b. $25 \mu\text{C}$ c. $35,35 \mu\text{C}$ d. $50 \mu\text{C}$ **II. Rezolvați următoarele probleme:**1. Circuitul electric a cărui diagramă este ilustrată în figura alăturată conține două generatoare cu t.e.m. $E_1 = 21 \text{ V}$, $E_2 = 6 \text{ V}$ și rezistențe interne $r_1 = 0,5 \Omega$, $r_2 = 0,5 \Omega$, rezistorii având rezistențele electrice: $R_1 = 1 \Omega$, $R_2 = 2 \Omega$ și $R_3 = 6 \Omega$ și un fir metalic AB cu rezistența $R = 10 \Omega$. Cursorul C este poziționat astfel încât distanța AC constituie o fracțiune $f = 0,4$ din distanța AB. Determinați:

a. rezistența electrică echivalentă a circuitului exterior surselor;

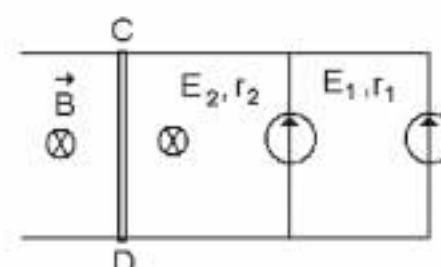
b. intensitatea curentului electric prin circuit;

c. lungimea AB, știind că rezistivitatea firului AB este $\rho = 50 \cdot 10^{-8} \Omega \text{ m}$, iar diametrul $d = 0,56 \text{ mm} (\equiv 0,1 / \sqrt{\pi}) \text{ mm}$.**15 puncte**2. Pentru circuitul din figura alăturată se cunosc: $E_1 = 10 \text{ V}$, $E_2 = 20 \text{ V}$, $r_1 = 1 \Omega$, $r_2 = 1 \Omega$. Rezistența barei CD este $R = 14,5 \Omega$ iar lungimea acesteia $l = 20 \text{ cm}$ și inducția magnetică $B = 5 \text{ mT}$ (liniile de câmp magnetic sunt perpendiculare pe planul conductoarelor). Determinați:

a. intensitatea curentului electric care străbate bara;

b. căldura degajată de bară în timpul $t = 5 \text{ min}$;

c. valoarea forței electromagnetice care acționează asupra barei CD.

**15 puncte**

Proba E: Specializarea : matematică –informatică, științe ale naturii

Proba F: Profil: tehnic – toate specializările

♦ Sunt obligatorii toți itemii din două arii tematice dintre cele patru prevăzute în programă, adică: A.MECANICĂ, B.ELECTRICITATE ȘI MAGNETISM, C. ELEMENTE DE TERMODINAMICĂ ȘI FIZICĂ MOLECULARĂ, D. OPTICĂ

♦ Se acordă 10 puncte din oficiu.

♦ Timpul efectiv de lucru este de 3 ore.

Varianta 8

B. ELECTRICITATE ȘI MAGNETISM

Permeabilitatea magnetică a vidului are valoarea $\mu_0 = 4\pi \cdot 10^{-7} \text{ N/A}^2$.

I. Pentru itemii 1-5 scrieți pe foaia de răspuns litera corespunzătoare răspunsului considerat corect

15 puncte

1. Unitatea de măsură a inductanței, exprimată în funcție de unitățile fundamentale din S.I. este

- a. $\text{m kg s}^{-2} \text{A}^{-2}$ b. $\text{m}^{-1} \text{kg s}^2 \text{A}^{-2}$ c. $\text{m}^{-1} \text{kg s}^{-2} \text{A}^{-2}$ d. $\text{m}^2 \text{kg s}^{-2} \text{A}^{-2}$

2. La bornele unei surse cu tensiunea electromotoare E și rezistența internă r se leagă un voltmetru ideal ($R_V \rightarrow \infty$). Cunoscând rezistența R a conductoarelor de legătură indicația instrumentului de măsură este:

- a. $\frac{E}{R+r}$ b. $\frac{E}{R+R_V+r}$ c. E d. $\frac{E}{R+r} R_V$

3. La bornele unei surse cu $U_0 = 220\text{V}$ se conectează în serie două becuri cu aceeași tensiune nominală $U = U_0/2 = 110\text{V}$ și cu puterile nominale $P_1 = 100\text{W}$, respectiv $P_2 = 40\text{W}$. Funcționează normal:

- a. becul 1 b. becul 2 c. ambele becuri d. nici un bec

4. Două surse identice, cu tensiunea electromotoare E și rezistența internă r , se leagă în paralel la bornele unui rezistor de rezistență R . Intensitatea curentului care trece prin rezistor este:

- a. $\frac{E}{R+r}$ b. $\frac{E/2}{R+r/2}$ c. $\frac{E}{R+r/2}$ d. $\frac{2E}{R+2r}$

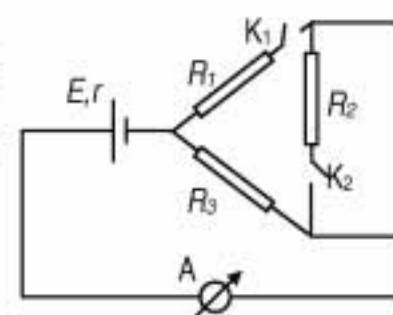
5. Printr-o bobină trece un curent continuu. Unui electron plasat în interiorul bobinei i se imprimă o viteză inițială v_0 de-a lungul axei acesteia. Considerând că asupra electronului acționează numai câmpul magnetic al bobinei, traiectoria descrisă de acesta este:

- a. rectilinie b. circulară c. elicoidală d. parabolică

II. Rezolvați următoarele probleme:

1. În circuitul electric, a cărui diagramă este ilustrată în figura alăturată, întrerupătoarele K_1 și K_2 sunt deschise. Se cunosc: tensiunea electromotoare $E = 10\text{V}$, rezistența internă $r = 1\Omega$, rezistența ampermetrului $r_A = r$, rezistențele rezistoarelor $R_1 = R_2 = R_3 = 6\Omega$. Neglijând rezistența electrică a conductoarelor de legătură, determinați:

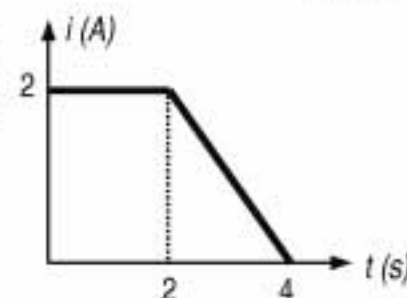
- a. valoarea intensității curentului indicat de ampermetru;
b. variația relativă a puterii disipate pe rezistorul cu rezistența R_3 la închiderea întrerupătorului K_1 ;
c. valoarea intensității curentului indicat de ampermetru, dacă se închide și întrerupătorul K_2 .



15 puncte

2. Printr-o bobină, fără miez magnetic ($\mu_{\text{aer}} \equiv \mu_{\text{vid}}$), cu $N = 1000$ spire, secțiunea $S = 5\text{cm}^2$ și lungimea $l = 20\text{cm}$ trece un curent a cărui dependență de timp este reprezentată în figura alăturată. Determinați valoarea:

- a. inductanței bobinei;
b. sarcinii electrice ce parcurge bobina în intervalul $t \in [0, 4\text{s}]$;
c. tensiunii induse în solenoid în intervalul $t \in [2\text{s}, 4\text{s}]$.



15 puncte

Proba E: Specializarea : matematică –informatică, științe ale naturii

Proba F: Profil: tehnic – toate specializările

♦ Sunt obligatorii toți itemii din două arii tematice dintre cele patru prevăzute în programă, adică: A.MECANICĂ, B.ELECTRICITATE ȘI MAGNETISM, C. ELEMENTE DE TERMODINAMICĂ ȘI FIZICĂ MOLECULARĂ, D. OPTICĂ

♦ Se acordă 10 puncte din oficiu.

♦ Timpul efectiv de lucru este de 3 ore.

Varianta 9

B. ELECTRICITATE ȘI MAGNETISM

Permeabilitatea magnetică a vidului are valoarea $\mu_0 = 4\pi \cdot 10^{-7} \text{ N/A}^2$.

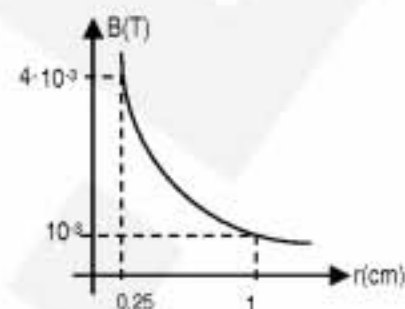
I. Pentru itemii 1-5 scrieți pe foaia de răspuns litera corespunzătoare răspunsului considerat corect.

15 puncte

1. Dacă notațiile sunt cele utilizate în manualele de fizică, unitatea de măsură în S.I. a mărimii fizice descrise de relația F/IL este:

- a. V b. Ω c. H d. T

2. Se trece un curent electric staționar, cu aceeași intensitate prin mai mulți conductori circulari, cu diferite raze, situați în vid. Se măsoară inducția magnetică în centrul fiecărei spire circulare și se obține hiperbola echilateră din figura alăturată. Intensitatea curentului utilizat este:



a. $\frac{50}{2\pi} \text{ A}$

b. $\frac{100}{2\pi} \text{ A}$

c. $\frac{150}{2\pi} \text{ A}$

d. $\frac{200}{2\pi} \text{ A}$

3. Un câmp magnetic omogen cu inducția $B = 0,1 \text{ T}$ străbate un cadru multiplicator circular, cu 1000 de spire și raza $r = 1 \text{ m}$, sub un unghi de 30° față de normala la planul cadrului. Fluxul magnetic total prin cadrul multiplicator este:

- a. 71,61 Wb. b. 171,61 Wb. c. 271,61 Wb. d. 371,61 Wb.

4. În figura alăturată este prezentată o porțiune dintr-un circuit electric de curent continuu.

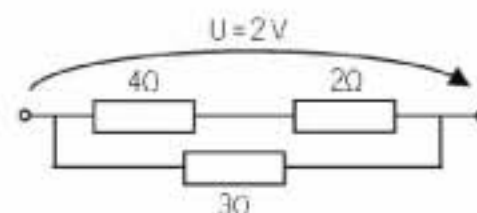
Energia disipată în circuit în 10 minute este:

a. 1,2 kJ.

b. 2,2 kJ

c. 3,2 kJ

d. 4,2 kJ



5. Considerând că notațiile sunt cele utilizate în manualele de fizică, expresia forței Lorentz este:

a. $f = \frac{\Delta p}{\Delta t}$

b. $f = q \cdot v \cdot B \cdot \cos \alpha$

c. $f = \frac{m \cdot v^2}{R}$

d. $\vec{f} = q \cdot \vec{v} \times \vec{B}$

II. Rezolvați următoarele probleme:

1. O cadru circular multiplicator, cu $N = 20.000$ spire și raza medie $r = 10 \text{ cm}$ este situată într-un câmp magnetic omogen exterior ce formează un unghi 90° cu suprafețele spirelor. Valoarea inducției câmpului magnetic este $B = 2 \text{ T}$. Determinați:

a. fluxul magnetic total prin cadrul multiplicator;

b. tensiunea electromotoare medie, generată în bobină, dacă aceasta este rotită cu 180° în jurul unui diametru, în 0,2 secunde;

c. raza de curbura a traiectoriei unui electron care pătrunde perpendicular pe liniile câmpului magnetic de inducție $B = 2 \text{ T}$, cu viteza de $v = 20 \text{ km/s}$. Se consideră cunoscute masa electronului, $m_e = 9,1 \cdot 10^{-31} \text{ kg}$ și sarcina electrică elementară $q_e = 1,602 \cdot 10^{-19} \text{ C}$.

15 puncte

2. La bornele unei surse cu t.e.m. $E = 10 \text{ V}$ și $r = 1 \Omega$ se conectează un solenoid cu inductanța $L = 2 \text{ mH}$ și rezistența ohmică $R = 7 \Omega$, în serie cu o grupare paralel formată din doi rezistori cu rezistențele $R_1 = 3 \Omega$ și $R_2 = 6 \Omega$. Determinați:

a. intensitatea curentului electric prin sursă;

b. fluxul magnetic prin solenoid;

c. intensitatea curentului cel mai slab din circuit.

15 puncte

Proba E: Specializarea : matematică –informatică, științe ale naturii

Proba F: Profil: tehnic – toate specializările

♦ Sunt obligatorii toți itemii din două arii tematice dintre cele patru prevăzute în programă, adică: A.MECANICĂ, B.ELECTRICITATE ȘI MAGNETISM, C. ELEMENTE DE TERMODINAMICĂ ȘI FIZICĂ MOLECULARĂ, D. OPTICĂ

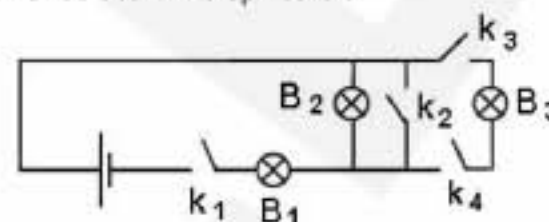
♦ Se acordă 10 puncte din oficiu.

♦ Timpul efectiv de lucru este de 3 ore.

Varianta 10

B. ELECTRICITATE ȘI MAGNETISMPermeabilitatea magnetică a vidului are valoarea $\mu_0 = 4\pi \cdot 10^{-7} \text{ N/A}^2$ **I. Pentru itemii 1-5 scrieți pe foaia de răspuns litera corespunzătoare răspunsului considerat corect****15 puncte**1. Pentru ca în montajul din figura alăturată să lumineze doar becul B_1 trebuie să fie închise doar întrerupătoarele:

- a. K_1 și K_4
 b. K_1 și K_3
 c. K_2 și K_3
 d. K_1 și K_2

2. O bobină cu miez de fier cu permeabilitatea magnetică μ are raza spirelor r ,lungimea firului de bobinaj b și diametrul firului d , spirele fiind dispuse într-un singur rând, una lângă cealaltă și izolate din punct de vedere electric. Inductanța bobinei este:

- a. $L = \mu \cdot \frac{b^2 \cdot r}{2 \cdot d^2}$ b. $L = \mu \cdot \frac{b \cdot r}{2 \cdot d}$ c. $L = \mu_0 \cdot \frac{\pi \cdot r^2}{b \cdot d}$ d. $L = \mu \cdot \frac{\pi \cdot r^2 \cdot b}{2 \cdot d^2}$

3. Un fir conductor, având coeficientul termic al rezistivității α este legat la bornele unei surse cu t.e.m. constantă și rezistență internă neglijabilă. Considerând că la temperatura $t_0 = 0^\circ\text{C}$ intensitatea curentului din fir este I_0 , intensitatea curentului din fir când acesta se încălzește la temperatura t este:

- a. $I = \frac{I_0}{1 + \alpha \cdot t}$ b. $I = I_0 \cdot (1 + \alpha \cdot t)$ c. $I = I_0 \cdot \alpha \cdot t$ d. $I_0 = I \cdot \alpha \cdot t$

4. La bornele unui rezistor cu rezistență electrică R se conectează două surse identice în paralel. Fiecare sursă are t.e.m. E și rezistența internă r . Intensitatea curentului prin rezistor este:

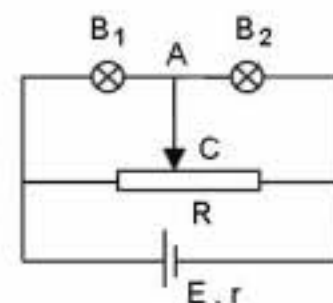
- a. $I = E/[R + (r/2)]$ b. $I = 2E/(R + 2r)$ c. $I = 2E/(R + r)$ d. $I = E/(R + 2r)$

5. Sensul convențional al curentului electric într-un circuit alimentat de un generator de curent continuu este:

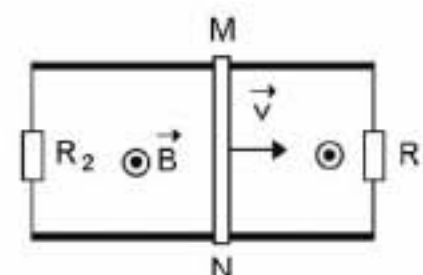
- a. același cu sensul deplasării electronilor
 b. de la borna + la borna – în interiorul generatorului
 c. curentul „iese” din borna – a generatorului, trece prin circuitul exterior, și apoi „intră” în borna + a generatorului
 d. de la borna – la borna + în interiorul generatorului.

II. Rezolvați următoarele probleme:1. În circuitul din figură becurile luminează normal la puterile nominale $P_1 = 10 \text{ W}$ și respectiv $P_2 = 24 \text{ W}$, când sunt parcurse de curenți electrice de intensități $I_1 = 0,5 \text{ A}$ și respectiv $I_2 = 0,6 \text{ A}$. Folosindu-se o sursă cu t.e.m. $E = 63 \text{ V}$ și rezistența internă $r = 3 \Omega$ și un potențiomtru se asigură alimentarea becurilor la parametri nominali. Determinați:

- a. rezistența electrică R a potențiometrului;
 b. intensitatea curentului electric din conductorul AC și precizați sensul acestui curent;
 c. valoarea rezistenței interne a sursei, pentru care transferul de putere de la sursă la circuitul exterior ar fi maxim.

15 puncte2. În montajul din figură conductorul MN având lungimea $L = 40 \text{ cm}$ și rezistența electrică $R = 0,5 \Omega$ se deplasează cu viteza constantă $v = 5 \text{ m/s}$ pe două conductoare paralele, de rezistențe electrice neglijabile, ale căror capete sunt legate prin rezistoarele $R_1 = 3 \Omega$ și $R_2 = 6 \Omega$. Perpendicular pe planul conductoarelor acționează un câmp magnetic uniform de inducție $B = 0,1 \text{ T}$. Determinați:

- a. valoarea și sensul intensității curentului electric ce trece prin conductorul MN ;
 b. mărimea forței exterioare ce acționează asupra conductorului;
 c. puterea electrică totală furnizată circuitului de t.e.m. indusă în conductorul MN .

**15 puncte**

Proba E: Specializarea : matematică –informatică, științe ale naturii

Proba F: Profil: tehnic – toate specializările

♦ Sunt obligatorii toți itemii din două arii tematice dintre cele patru prevăzute în programă, adică: A.MECANICĂ, B.ELECTRICITATE ȘI MAGNETISM, C. ELEMENTE DE TERMODINAMICĂ ȘI FIZICĂ MOLECULARĂ, D. OPTICĂ

♦ Se acordă 10 puncte din oficiu.

♦ Timpul efectiv de lucru este de 3 ore.

Varianta 11

B. ELECTRICITATE ȘI MAGNETISMPermeabilitatea magnetică a vidului are valoarea $\mu_0 = 4\pi \cdot 10^{-7} \text{ N/A}^2$.**I. Pentru itemii 1-5 scrieți pe foaia de răspuns litera corespunzătoare răspunsului considerat corect****15 puncte**

1. Unitatea de măsură a fluxului magnetic scrisă în funcție de unități ale mărimilor fundamentale din SI este:

- a. $\text{m}^{-2} \text{kg s}^{-2}$ b. $\text{kg m}^2 \text{s}^{-2} \text{A}^{-1}$ c. $\text{kg}^2 \text{m}^{-2} \text{s}^{-2} \text{A}^{-1}$ d. $\text{kg m}^2 \text{s}^{-2} \text{A}$

2. La închiderea circuitului electric ce conține o bobină cu miez de fier, intensitatea curentului electric prin bobină variază conform graficului din figura:



3. Dacă pe un beculeț sunt trecute valorile 3 V și 0,1 A, energia consumată de acesta în 3 ore de funcționare normală este:

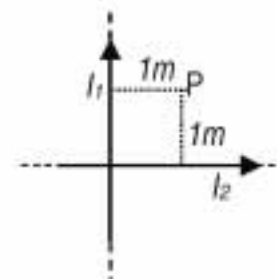
- a. 10^{-1} J b. $9 \cdot 10^{-1} \text{ J}$ c. $9 \cdot 10^{-4} \text{ kWh}$ d. 10^{-1} kWh

4. La capetele unui fir din cupru se aplică o tensiune $U = 12 \text{ V}$. În timpul $t = 1 \text{ min}$, prin acest fir conductor trece o sarcină electrică $q = 72 \text{ C}$. În aceste condiții rezistența electrică a firului are valoarea de:

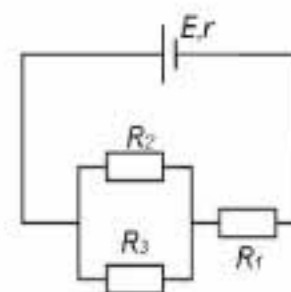
- a. $10^{-1} \Omega$ b. 6Ω c. 10Ω d. 864Ω

5. Două conductoare rectilinii, lungi, străbătute de curenți staționari de intensități $I_1 = I_2 = 1 \text{ A}$ sunt coplanare, izolate din punct de vedere electric și orientate ca în figura alăturată. Inducția câmpului magnetic rezultat în punctul P are valoarea:

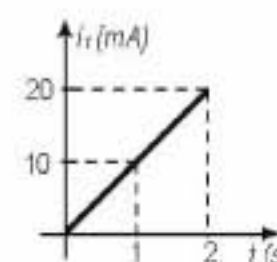
- a. $2 \cdot 10^{-7} \text{ T}$ b. $2,84 \cdot 10^{-7} \text{ T}$ c. $4 \cdot 10^{-7} \text{ T}$ d. 0

**II. Rezolvați următoarele probleme:**1. Circuitul electric a cărui diagramă este ilustrată în figura alăturată, conține o baterie cu tensiunea electromotoare E și rezistența internă $r = 3 \Omega$, precum și trei rezistori cu rezistențele $R_1 = 12 \Omega$, $R_2 = 4 \Omega$, $R_3 = 8 \Omega$. Puterea disipată de baterie pe rezistorul R_2 este $P_2 = 16 \text{ W}$. Neglijând rezistența electrică a firelor conductoare din circuit, determinați:

- a. intensitatea curentului electric prin R_1 ;
b. tensiunea electromotoare a bateriei;
c. valoarea rezistenței rezistorului R care ar trebui să înlocuiască rezistorul R_1 , astfel încât puterea electrică disipată de sursă pe circuitul exterior să fie maximă.

**15 puncte**2. Într-un solenoid având $N_1 = 2000$ spire și lungimea $l_1 = 40 \text{ cm}$ se introduce coaxial un al doilea solenoid cu $N_2 = 500$ spire și aria secțiunii $S_2 = 10 \text{ cm}^2$. Solenoizii nu au miez magnetic și sunt plasați în aer ($\mu_{\text{aer}} \equiv \mu_0$). Intensitatea curentului în primul solenoid (i_1), variază în timp ca în figura alăturată.

- a. Determinați valoarea inducției câmpului magnetic produsă de curentul i_1 pe axul solenoidului la momentul $t_1 = 1 \text{ s}$;
b. Determinați tensiunea indusă în al doilea solenoid la momentul $t_2 = 2 \text{ s}$;
c. Reprezentați grafic dependența de timp a fluxului magnetic în al doilea solenoid în intervalul de timp $[0 \text{ s}, 2 \text{ s}]$.

**15 puncte**

Proba E: Specializarea : matematică –informatică, științe ale naturii

Proba F: Profil: tehnic – toate specializările

♦ Sunt obligatorii toți itemii din două arii tematice dintre cele patru prevăzute în programă, adică: A.MECANICĂ, B.ELECTRICITATE ȘI MAGNETISM, C. ELEMENTE DE TERMODINAMICĂ ȘI FIZICĂ MOLECULARĂ, D. OPTICĂ

♦ Se acordă 10 puncte din oficiu.

♦ Timpul efectiv de lucru este de 3 ore.

Varianta 12

B. ELECTRICITATE ȘI MAGNETISM

Permeabilitatea magnetică a vidului are valoarea $\mu_0 = 4\pi \cdot 10^{-7} \text{ N/A}^2$.

I. Pentru itemii 1-5 scrieți pe foaia de răspuns litera corespunzătoare răspunsului considerat corect

15 puncte

1. Unitatea de măsură a fluxului magnetic, în funcție de unitățile de măsură ale mărimilor fizice fundamentale, este:

- a. $\frac{\text{kg} \cdot \text{m}^2}{\text{A} \cdot \text{s}}$ b. $\frac{\text{kg} \cdot \text{m}^2}{\text{A} \cdot \text{s}^2}$ c. $\frac{\text{kg} \cdot \text{m}^3}{\text{A} \cdot \text{s}^2}$ d. $\frac{\text{kg} \cdot \text{m}}{\text{A} \cdot \text{s}^2}$

2. Expresia perioadei de rotație a unei sarcini electrice care pătrunde într-un câmp magnetic omogen, cu viteza orientată perpendicular pe liniile câmpului magnetic, NU depinde de:

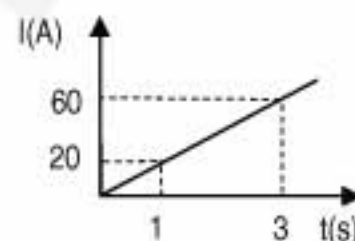
- a. masa particulei
b. sarcina electrică a particulei
c. viteza particulei
d. inducția câmpului magnetic

3. Intensitatea curentului care străbate un fir de rezistivitate $\rho = 10^{-7} \Omega \cdot \text{m}$, cu lungimea de 5 m și aria secțiunii transversale de 2 mm^2 , la capetele căruia s-a aplicat o tensiune de 1,5 V, are valoarea:

- a. 2 A b. 3 A c. 5 A d. 6 A

4. Intensitatea curentului ce trece printr-o bobină variază în timp așa cum este ilustrat în figura alăturată. Știind că între bornele bobinei a apărut o tensiune electromotoare indusă de 3 V, inductanța bobinei este:

- a. 0,15 H b. 0,10 H c. 0,075 H d. 0,015 H



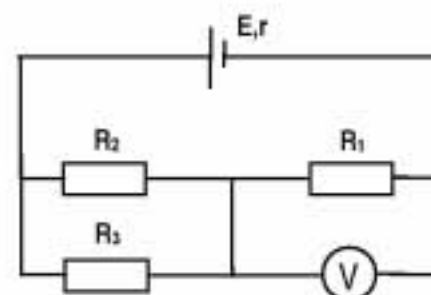
5. O bobină fără miez magnetic, situată în aer ($\mu_{\text{aer}} \equiv \mu_0$), parcursă de un curent electric staționar cu intensitatea de 4 A, este realizată prin înfășurarea fir lângă fir, într-un singur strat, a unui fir metalic, izolat, cu diametrul secțiunii transversale de 2 mm. Inducția câmpului magnetic pe axul bobinei are valoarea de aproximativ:

- a. $6,28 \cdot 10^{-4} \text{ T}$ b. $12,56 \cdot 10^{-4} \text{ T}$ c. $25,12 \cdot 10^{-4} \text{ T}$ d. $31,4 \cdot 10^{-4} \text{ T}$

II. Rezolvați următoarele probleme:

1. În circuitul electric a cărui diagramă este ilustrată în figura alăturată, se cunosc: $R_2 = 40 \Omega$, $R_3 = 120 \Omega$, rezistența internă a sursei $r = 5 \Omega$, tensiunea indicată de voltmetrul ideal $U_V = 90 \text{ V}$. Puterea consumată împreună de către cei trei rezistori R_1 , R_2 , R_3 este $P = 300 \text{ W}$, iar rezistența electrică a conductoarelor de legătură se neglijează. Determinați:

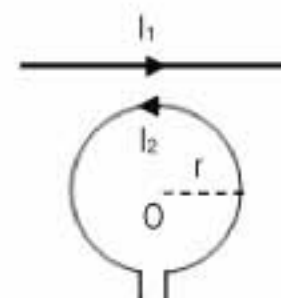
- a. rezistența echivalentă a grupării formate din rezistoarele R_2 și R_3 ;
b. intensitatea curentului din ramura principală;
c. tensiunea electromotoare a sursei.



15 puncte

2. Un conductor rectiliniu, foarte lung, parcurs de un curent electric staționar de intensitate $I_1 = 6,28 \text{ A}$ ($\equiv 2\pi \text{ A}$) și o spirală circulară, de rază $r = 2 \text{ cm}$, parcursă de un curent având intensitatea constantă $I_2 = 0,5 \text{ A}$, sunt coplanare, plasate în vid, așa cum se observă în figura alăturată. Determinați:

- a. inducția câmpului magnetic rezultat în centrul O al spirei, dacă distanța dintre conductor și centrul spirei este $d = 5 \text{ cm}$;
b. distanța dintre conductor și centrul spirei pentru ca inducția magnetică rezultată în centrul spirei să fie nulă;
c. inducția magnetică în centrul spirei, atunci când distanța dintre O și conductor este cea determinată la punctul b iar spira este rotită cu 90° în jurul unei axe situată în planul spirei, care trece prin centrul O al spirei și este perpendiculară pe conductorul rectiliniu.



15 puncte

Proba E: Specializarea : matematică –informatică, științe ale naturii

Proba F: Profil: tehnic – toate specializările

♦ Sunt obligatorii toți itemii din două arii tematice dintre cele patru prevăzute în programă, adică: A.MECANICĂ, B.ELECTRICITATE ȘI MAGNETISM, C. ELEMENTE DE TERMODINAMICĂ ȘI FIZICĂ MOLECULARĂ, D. OPTICĂ

♦ Se acordă 10 puncte din oficiu.

♦ Timpul efectiv de lucru este de 3 ore.

Varianța 13

B. ELECTRICITATE ȘI MAGNETISM

Permeabilitatea magnetică a vidului este $\mu_0 = 4\pi \cdot 10^{-7} \text{ N/A}^2$

Sarcina electrică elementară $e = 1,6 \cdot 10^{-19} \text{ C}$

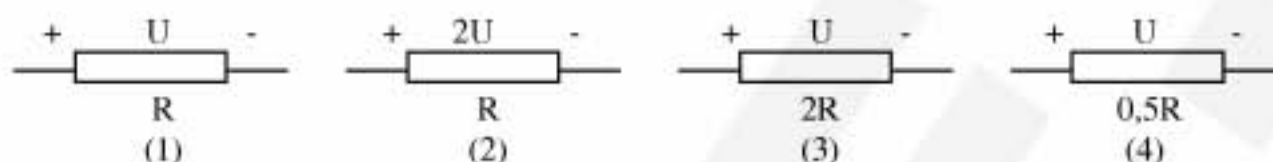
I. Pentru itemii 1-5 scrieți pe foaia de răspuns litera corespunzătoare răspunsului considerat corect

15 puncte

1. Unitatea de măsură în SI a fluxului magnetic este:

- a. T b. H c. Wb d. Ω

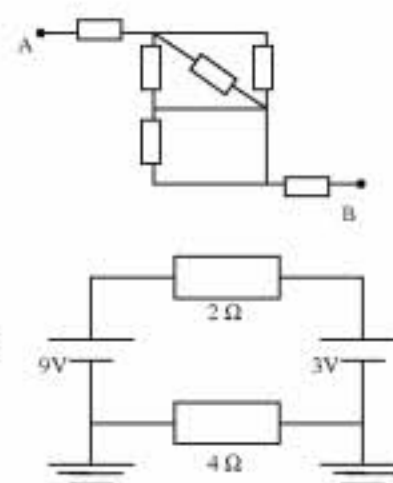
2. În figura de mai jos sunt notate rezistențele electrice și tensiunile aplicate la bornele a patru rezistori. Dacă notați cu P_i ($i = 1, 2, 3, 4$) puterile disipate în fiecare din cei patru rezistori, atunci puterile minimă și maximă sunt:



- a. P_1 și P_2 b. P_3 și P_4 c. P_3 și P_2 d. P_1 și P_4

3. În montajul din figura alăturată toți rezistorii au rezistența R. Rezistența echivalentă între nodurile A și B este egală cu:

- a. $\frac{7R}{3}$ b. $\frac{12R}{5}$ c. $\frac{10R}{3}$ d. $\frac{11R}{3}$



4. În circuitul din figura alăturată, ambele surse au rezistențe interne neglijabile. Intensitatea curentului electric prin rezistorul cu rezistența de 4Ω este:

- a. 2 A
b. 1,5 A
c. 1 A
d. 0 A

5. Un ion pozitiv cu masa m și sarcina electrică q, pătrunde cu viteza v perpendicular pe liniile unui câmp magnetic uniform de inducție B. În aceste condiții mișcarea ionului pe o traiectorie circulară are caracteristicile:

- a. $\vec{v} \parallel \vec{B}$; $r = \frac{mv}{qB}$ b. $\vec{v} \perp \vec{B}$; $r = \frac{mv}{qB}$ c. $\vec{v} \parallel \vec{B}$; $r = \frac{mB}{qv}$ d. $\vec{v} \perp \vec{B}$; $r = \frac{mB}{qv}$

II. Să se rezolve următoarele probleme:

1. Un solenoid cu aer, având $N=1000$ spire și lungimea $\ell=0,4\text{m}$, care este conectat la o sursă cu tensiunea electromotoare $E=20\text{V}$ și rezistența internă $r=0,3\Omega$, este parcurs de un curent electric cu intensitatea $I=10\text{ A}$. Determinați:

- a. rezistența bobinei;
b. inducția câmpului magnetic în interiorul bobinei;
c. aria secțiunii transversale S a solenoidului, dacă fluxul magnetic prin solenoid este $\Phi=4\pi^2 \cdot 10^{-5} \text{ Wb}$.

15 puncte

2. Pe carcasa unui încălzitor electric sunt inscripționate valorile nominale $U=220\text{V}$ și $P=1000\text{W}$. Până la atingerea valorilor nominale, intensitatea curentului electric de alimentare a încălzitorului variază în timp după legea $i=2+5t$ (A), unde i este intensitatea curentului electric exprimată în amperi și t este timpul exprimat în secunde.

- a. Determinați rezistența încălzitorului în condiții de funcționare nominale.
b. Definiți fenomenul de inducție electromagnetică și scrieți legea inducției electromagnetice.
c. Determinați tensiunea electromotoare autoindusă în spira încălzitorului cu inductanța $L=4\text{ mH}$, până la atingerea valorii nominale de funcționare.

15 puncte

Proba E: Specializarea : matematică –informatică, științe ale naturii

Proba F: Profil: tehnic – toate specializările

♦ Sunt obligatorii toți itemii din două arii tematice dintre cele patru prevăzute în programă, adică: A.MECANICĂ, B.ELECTRICITATE ȘI MAGNETISM, C. ELEMENTE DE TERMODINAMICĂ ȘI FIZICĂ MOLECULARĂ, D. OPTICĂ

♦ Se acordă 10 puncte din oficiu.

♦ Timpul efectiv de lucru este de 3 ore.

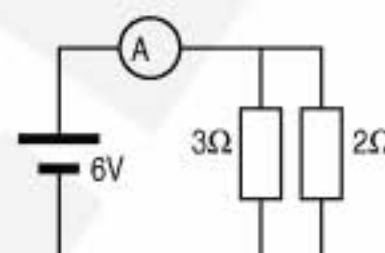
Varianta 14

B. ELECTRICITATE ȘI MAGNETISMPermeabilitatea magnetică a vidului are valoarea $\mu_0 = 4\pi \cdot 10^{-7} \text{ N/A}^2$, accelerația gravitațională $g = 10 \text{ m/s}^2$.**I. Pentru itemii 1-5 scrieți pe foaia de răspuns litera corespunzătoare răspunsului considerat corect****15 puncte**1. Dacă notațiile sunt cele utilizate în manualele de fizică, atunci unitatea de măsură în SI a mărimii fizice descrise de relația $-\Delta\Phi / \Delta t$ este:

- a. $T \cdot m \cdot s^{-1}$ b. $N \cdot A^{-1} \cdot m^{-1}$ c. V d. $N \cdot A^{-2}$

2. Ampermetrul ideal conectat în circuitul din figură indică:

- a. 2 A b. 3 A c. 5 A d. 6 A



3. Expresia corectă a dependenței rezistenței electrice a unui conductor de dimensiunile sale și de natura materialului din care este confecționat este:

- a. $R = \frac{\rho S}{\ell}$ b. $R = \rho \frac{\ell}{S}$ c. $R = r \ell S$ d. $R = \frac{S \ell}{\rho}$

4. Un conductor rectiliniu, foarte lung, situat în aer ($\mu_{\text{aer}} \approx \mu_0$) este parcurs de un curent electric staționar cu intensitatea I . Inducția câmpului magnetic creat de conductor într-un punct situat la distanța d de acesta este:

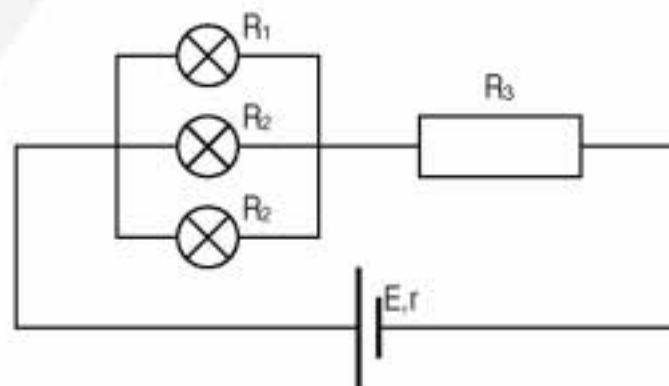
- a. $B = \frac{\mu_0 I}{2\pi \cdot d}$ b. $B = \frac{\mu_0 I}{2 \cdot d}$ c. $B = \frac{\mu_0 I d}{2}$ d. $B = \frac{\mu_0 I}{d}$

5. Două surse având tensiuni electromotoare și rezistențe interne identice sunt legate fie în serie, fie în paralel. Ele debitează în ambele cazuri un curent de aceeași intensitate pe un rezistor de sarcină $R = 1\Omega$. Rezistența electrică internă a unei surse este:

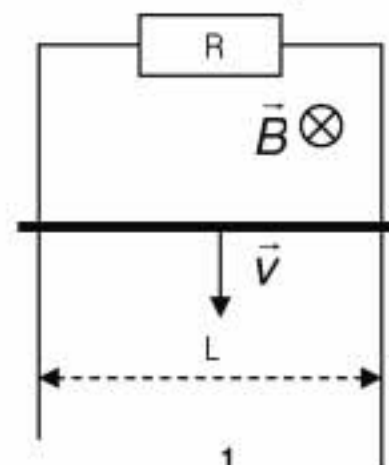
- a. 1Ω b. 2Ω c. 3Ω d. $0,5\Omega$

II. Rezolvați următoarele probleme:1. Circuitul electric prezentat în figura alăturată conține o baterie cu t.e.m. $E = 120V$ și rezistență internă $r = 1,2\Omega$, trei becuri și un rezistor de rezistență $R_3 = 108,8\Omega$. Unul dintre becuri are rezistența $R_1 = 20\Omega$, iar celelalte două au fiecare rezistența $R_2 = 40\Omega$. Determinați:

- a. rezistența electrică echivalentă a circuitului exterior sursei;
b. intensitățile curenților electrici din ramurile circuitului;
c. energia degajată sub formă de căldură în rezistorul R_3 în timpul $t = 1h$.

**15 puncte**2. O bară conductoare de lungime $L = 40cm$, masă $m = 100g$ și rezistență electrică neglijabilă alunecă fără frecare și în contact electric permanent de-a lungul a două șine perfect conductoare plasate vertical și conectate printr-un rezistor de rezistență electrică $R = 0,8\Omega$ ca în figura alăturată. Sistemul descris este așezat într-un câmp magnetic uniform, perpendicular pe planul cadrului, de inducție $B = 1T$. Determinați:

- a. sensul curentului electric indus în circuit;
b. viteza limită de coborâre a barei sub acțiunea propriei greutate;
c. puterea electrică disipată în rezistorul R când bara coboară uniform.

**15 puncte**

Proba E: Specializarea : matematică –informatică, științe ale naturii

Proba F: Profil: tehnic – toate specializările

♦ Sunt obligatorii toți itemii din două arii tematice dintre cele patru prevăzute în programă, adică: A.MECANICĂ, B.ELECTRICITATE ȘI MAGNETISM, C. ELEMENTE DE TERMODINAMICĂ ȘI FIZICĂ MOLECULARĂ, D. OPTICĂ

♦ Se acordă 10 puncte din oficiu.

♦ Timpul efectiv de lucru este de 3 ore.

Varianta 15

B. ELECTRICITATE ȘI MAGNETISM**I. Pentru itemii 1-5 scrieți pe foaia de răspuns litera corespunzătoare răspunsului considerat corect.****15 puncte**

1. Ținând seama de simbolurile unităților de măsură din manualele de fizică, unitatea de măsură în SI pentru rezistența electrică este:

a. $\frac{N \cdot m}{C}$

b. $\frac{N \cdot m}{C \cdot A}$

c. $\Omega \cdot m^{-1}$

d. $V \cdot A$

2. Energia electrică degajată de un rezistor de rezistență electrică constantă la trecerea unui curent electric continuu prin el are expresia:

a. RIt

b. UI^2t

c. $\frac{U^2}{R \cdot t}$

d. Rt^2

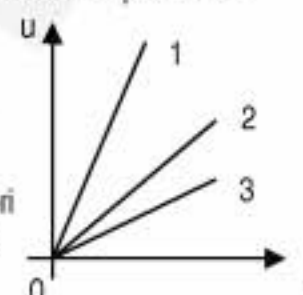
3. Graficele din figura alăturată reprezintă variația tensiunii în funcție de intensitatea curentului pentru 3 rezistori de rezistențe electrice diferite, cuplați pe rând în circuit. Pentru acești trei rezistori, valoarea maximă a rezistenței electrice:

a. corespunde graficului 1

b. corespunde graficului 2

c. corespunde graficului 3

d. nu se poate stabili pe baza acestor reprezentări grafice



4. T.e.m. indusă într-un conductor liniar care se deplasează perpendicular pe liniile unui câmp magnetic uniform de inducție B are expresia:

a. $e = BIl \cdot \sin \alpha$

b. $e = Blv \cdot \cos \alpha$

c. $e = Blv$

d. $e = gvB \cdot \sin \alpha$

5. Fluxul magnetic printr-o suprafață plană cu aria $S = 10 \text{ cm}^2$ ce face un unghi $\alpha = 30^\circ$ cu liniile unui câmp magnetic uniform de inducție $B = \sqrt{3} \cdot 10^{-4} \text{ T}$ este:

a. $\phi = 0,15 \mu\text{Wb}$

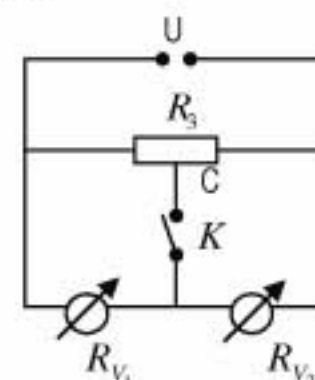
b. $\phi = 15 \mu\text{Wb}$

c. $\phi = 3,2 \mu\text{Wb}$

d. $\phi = 0,086 \mu\text{Wb}$

II. Rezolvați următoarele probleme:1. Doua voltmetre cu rezistențele electrice interioare $R_{V_1} = 6 \text{ k}\Omega$ și $R_{V_2} = 4 \text{ k}\Omega$ sunt legate în serie. În derivație cu ele se leagă un rezistor cu rezistența electrică $R_3 = 10 \text{ k}\Omega$. La bornele acestui circuit se aplică tensiunea $U = 180 \text{ V}$ (vezi figura). Determinați:

a. indicația voltmetrelor dacă întrerupătorul K este deschis;

b. indicația voltmetrelor dacă întrerupătorul K se închide pe un cursor aflat la mijlocul rezistorului R_3 ;c. raportul dintre rezistențele electrice ale fragmentelor în care cursorul împarte rezistența R_3 pentru ca voltmetrele să indice tensiuni egale.**15 puncte**2. Un cadru metalic de forma unui pătrat ABCD, având latura $a = 10 \text{ cm}$ se poate roti în jurul laturii AD. Cadrul are rezistența electrică $R = 80 \Omega$ și inductanța neglijabilă. El este plasat într-un câmp magnetic uniform, de inducție $B = 0,2 \text{ T}$, orientat inițial perpendicular pe planul cadrului.

a. Calculați valoarea fluxului magnetic prin suprafața cadrului.

b. Scrieți expresia matematică a legii inducției electromagnetice și indicați semnificația mărimilor fizice ce intervin.

c. Determinați sarcina electrică indusă în cadru la rotația acestuia cu 90° .**15 puncte**

Proba E: Specializarea : matematică –informatică, științe ale naturii

Proba F: Profil: tehnic – toate specializările

♦ Sunt obligatorii toți itemii din două arii tematice dintre cele patru prevăzute în programă, adică: A.MECANICĂ, B.ELECTRICITATE ȘI MAGNETISM, C. ELEMENTE DE TERMODINAMICĂ ȘI FIZICĂ MOLECULARĂ, D. OPTICĂ

♦ Se acordă 10 puncte din oficiu.

♦ Timpul efectiv de lucru este de 3 ore.

Varianta 16

B. ELECTRICITATE ȘI MAGNETISMPermeabilitatea magnetică a vidului are valoarea $\mu_0 = 4\pi \cdot 10^{-7} \text{ N/A}^2$.**I. Pentru itemii 1-5 scrieți pe foaia de răspuns litera corespunzătoare răspunsului considerat corect****15 puncte**

1. Unitatea de măsură pentru inducția câmpului magnetic exprimată în unități de măsură fundamentale în S.I. este:

- a. $\frac{A \cdot m}{kg \cdot s}$ b. $\frac{m \cdot s}{A \cdot kg}$ c. $\frac{A \cdot kg}{m \cdot s}$ d. $\frac{kg}{A \cdot s^2}$

2. Dacă prin secțiunea transversală a unui conductor în intervalul de timp $\Delta t = 1 \text{ min}$ trece sarcina $q = 300 \text{ C}$, atunci intensitatea curentului electric este:

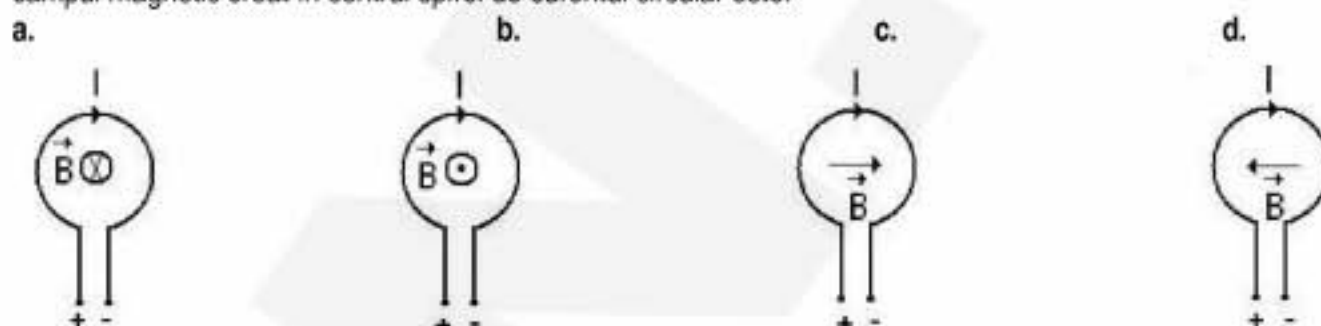
- a. $0,5 \text{ A}$ b. 2 A c. 5 A d. 10 A

3. Forța cu care un câmp magnetic uniform de inducție B acționează asupra unui conductor de lungime ℓ străbătut de un curent electric de intensitate I , așezat paralel cu liniile de câmp magnetic este:

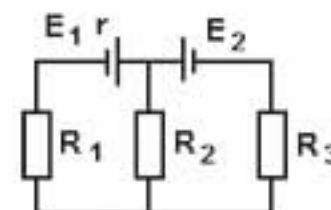
- a. 0 b. $2 \cdot B \cdot I \cdot \ell$ c. $B \cdot I \cdot \ell$ d. $\frac{B \cdot I}{\ell}$

4. Două fire conductoare având aceeași arie a secțiunii transversale, unul din aluminiu și celălalt din cupru, au aceeași rezistență electrică. Raportul lungimilor lor este:

- a. $\frac{I_{Al}}{I_{Cu}} = \frac{\rho_{Al}}{\rho_{Cu}}$ b. $\frac{I_{Al}}{I_{Cu}} = \frac{\rho_{Cu}}{\rho_{Al}}$ c. $\frac{I_{Al}}{I_{Cu}} = 1$ d. $\frac{I_{Al}}{I_{Cu}} = \rho_{Al} \cdot \rho_{Cu}$

5. În figurile de mai jos sunt ilustrate spire circulare parcurse de curent electric. Orientarea vectorului inducție magnetică \vec{B} al câmpul magnetic creat în centrul spirei de curentul circular este:**II. Rezolvați următoarele probleme:**1. Considerați un circuit electric a cărui schemă electrică este ilustrată în figura alăturată. Se cunosc: $E_1 = 2 \text{ V}$, $E_2 = 4 \text{ V}$, $r = 0,2 \Omega$, $R_1 = R_3 = 4 \Omega$, $R_2 = 2 \Omega$. Considerând că rezistența electrică a sursei cu t.e.m. E_2 este neglijabilă, determinați:

- a. valoarea intensității curentului electric prin rezistorul R_2 ;
b. puterea electrică disipată pe R_3 ;
c. căldura degajată prin efect Joule de R_1 în 10 min.

**15 puncte**2. La realizarea unui solenoid s-a folosit un fir conductor din cupru având lungimea $\ell_1 = 2 \text{ m}$, diametrul $D_1 = 2 \text{ mm}$ și rezistivitatea $\rho = 1,7 \cdot 10^{-8} \Omega \cdot \text{m}$. Înfășurând firul pe un miez de fier cu permeabilitatea magnetică relativă $\mu_r = 5000$ s-au obținut 100 spire. Solenoidul a fost așezat paralel cu liniile unui câmp magnetic uniform de inducție $B = 2 \text{ T}$. Determinați:

- a. rezistența electrică a firului conductor;
b. valoarea inductanței solenoidului;
c. valoarea tensiunii electromotoare induse, atunci când inducția câmpului magnetic scade liniar la zero în timp de 2 ms .

15 puncte

Proba E: Specializarea : matematică –informatică, științe ale naturii

Proba F: Profil: tehnic – toate specializările

♦ Sunt obligatorii toți itemii din două arii tematice dintre cele patru prevăzute în programă, adică: A.MECANICĂ, B.ELECTRICITATE ȘI MAGNETISM, C. ELEMENTE DE TERMODINAMICĂ ȘI FIZICĂ MOLECULARĂ, D. OPTICĂ

♦ Se acordă 10 puncte din oficiu.

♦ Timpul efectiv de lucru este de 3 ore.

Varianta 17

B. ELECTRICITATE ȘI MAGNETISMPermeabilitatea magnetică a vidului are valoarea $\mu_0 = 4\pi \cdot 10^{-7} \text{ N/A}^2$.**I. Pentru itemii 1-5 scrieți pe foaia de răspuns litera corespunzătoare răspunsului considerat corect****15 puncte**1. Prețul pentru 1 kWh de energie electrică este de 36 de bani. Pentru energia folosită de un dispozitiv electric care consumă puterea $P = 100 \text{ W}$ în timpul $\Delta t = 2 \text{ h } 46 \text{ min } 40 \text{ s}$ trebuie plătit prețul de:

- a. 0,1 bani b. 1 ban c. 10 bani d. 1 leu

2. Dacă pe un beculeț sunt trecute valorile 3 V și 0,1 A, energia consumată de acesta în 3 ore de funcționare normală este:

- a. 10^{-1} J b. $9 \cdot 10^{-1} \text{ J}$ c. $9 \cdot 10^{-4} \text{ kWh}$ d. 10^{-1} kWh

3. O sursă cu tensiunea electromotoare E debitează puterea P pe un rezistor cu rezistența $R_1 = 4 \Omega$. Dacă acesta se înlocuiește cu un alt rezistor de rezistență $R_2 = 1 \Omega$ se constată că sursa debitează aceeași putere P pe circuitul exterior. Rezistența internă a sursei r este:

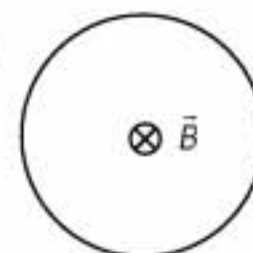
- a. 0 b. 2Ω c. 4Ω d. 5Ω

4. Printr-un conductor trece un curent a cărui intensitate variază după legea $i = at$, cu $a = 2 \text{ A/s}$. Sarcina electrică care parcurge conductorul în intervalul $t \in [1 \text{ s}, 4 \text{ s}]$ este

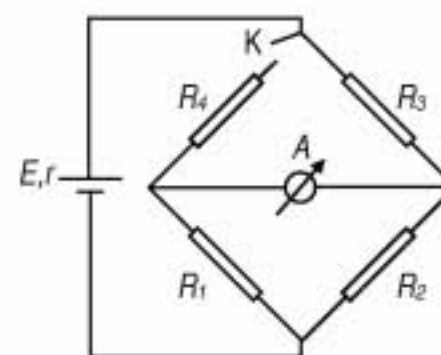
- a. 30 C b. 20 C c. 15 C d. 5 C

5. Suprafața unui conductor circular este străbătută de un câmp magnetic omogen, crescător în timp, de forma $B = kt$. Curentul indus în spirală este:

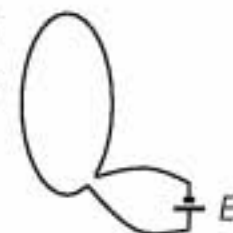
- a. nul b. crescător c. descrescător d. constant

**II. Rezolvați următoarele probleme:**1. În circuitul electric, a cărui diagramă este ilustrată în figura alăturată, întrerupătorul K este deschis. Cunoscând tensiunea electromotoare $E = 10 \text{ V}$, rezistența internă $r = 1 \Omega$, rezistența ampermetrului $r_A = 0$, rezistențele rezistorilor $R_1 = R_2 = R_3 = 6 \Omega$ și neglijând rezistența electrică a firelor conductoare din circuit, determinați:

- a. intensitatea curentului de scurtcircuit al sursei;
b. indicația ampermetrului;
c. valoarea rezistenței rezistorului R_4 , dacă, la închiderea întrerupătorului K, prin ampermetru nu mai trece curent.

**15 puncte**2. Se consideră o spirală cu aria $S = 3,14 \text{ m}^2$ și secțiunea firului $s = 1 \text{ mm}^2$ din cupru cu rezistivitatea $\rho = 1,67 \cdot 10^{-8} \Omega \text{ m}$. Ea este legată la bornele unei surse cu tensiunea electromotoare $E = 20 \text{ V}$, și de rezistență electrică neglijabilă. Determinați:

- a. rezistența spirei;
b. valoare inducției magnetice din centrul spirei;
c. inducția magnetică ce apare în centrul spirei, dacă la bornele sursei se leagă în paralel o a doua spirală, identică cu prima și izolată electric față de aceasta. Cele două spire sunt perpendiculare și au același centru.

**15 puncte**

Proba E: Specializarea : matematică –informatică, științe ale naturii

Proba F: Profil: tehnic – toate specializările

♦ Sunt obligatorii toți itemii din două arii tematice dintre cele patru prevăzute în programă, adică: A.MECANICĂ, B.ELECTRICITATE ȘI MAGNETISM, C. ELEMENTE DE TERMODINAMICĂ ȘI FIZICĂ MOLECULARĂ, D. OPTICĂ

♦ Se acordă 10 puncte din oficiu.

♦ Timpul efectiv de lucru este de 3 ore.

Varianta 18

B. ELECTRICITATE ȘI MAGNETISMPermeabilitatea magnetică a vidului are valoarea $\mu_0 = 4\pi \cdot 10^{-7} \text{ N/A}^2$.**I. Pentru itemii 1-5 scrieți pe foaia de răspuns litera corespunzătoare răspunsului considerat corect****15 puncte**1. Dacă notațiile sunt cele utilizate în manualele de fizică, atunci unitatea de măsură în S.I. a mărimii fizice descrise de relația $\frac{US}{\rho l}$ este:

- a. V b. A c. Ω d. $\Omega \cdot m$

2. Un electron, având sarcina electrică e și masa m , pătrunde cu viteza v , orientată perpendicular pe liniile unui câmp magnetic omogen, de inducție B . Raza traiectoriei acestuia este:

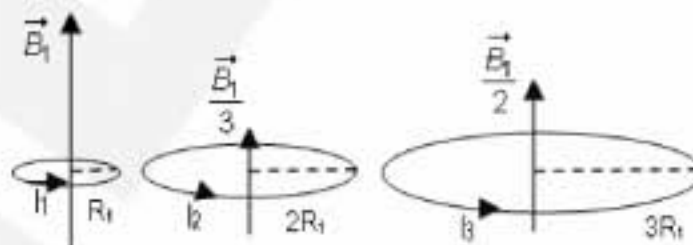
- a. mB/ev b. me/Bv c. mv/eB d. eB/mv

3. O bobină cu miez de fier ($\mu_r = 400$) are 500 de spire, lungimea de 20 cm și aria secțiunii transversale de 4 cm^2 . Inductanța bobinei este:

- a. $25,12 \cdot 10^{-2} \text{ H}$ b. $31,41 \cdot 10^{-2} \text{ H}$ c. $37,68 \cdot 10^{-2} \text{ H}$ d. $50,24 \cdot 10^{-2} \text{ H}$

4. Relația dintre intensitățile curenților electrici care produc, în centrele spirelor din figura alăturată, câmpurile magnetice cu inducțiile indicate, este:

- a. $I_3 > I_2 > I_1$
b. $I_1 > I_3 > I_2$
c. $I_3 > I_1 > I_2$
d. $I_2 > I_1 > I_3$

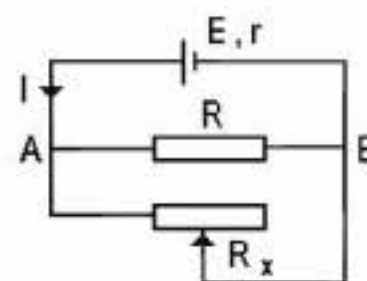


5. Precizați care dintre mărimile fizice de mai jos este mărime fizică fundamentală:

- a. rezistența electrică b. tensiunea electrică c. sarcina electrică d. intensitatea electrică

II. Rezolvați următoarele probleme:1. În schema electrică din figura alăturată se cunosc: $E = 10 \text{ V}$, $r = 1 \Omega$, $R = 6 \Omega$. Rezistența electrică a reostatului R_x poate lua valoarea maximă de 24Ω . Rezistența electrică a conductoarelor de legătură se neglijează. Determinați:

- a. intensitatea prin ramura care conține bateria, în situația în care cursorul se află la mijlocul înfășurării reostatului;
b. tensiunea între punctele A și B, poziția cursorului fiind cea de la punctul a.;
c. valoarea rezistenței electrice a reostatului R_x pentru care puterea debitată de sursă în circuitul exterior este maximă.

**15 puncte**2. Un rezistor cu rezistența electrică $R = 25 \Omega$ este conectat la capetele unei bobine, cu $N = 100$ spire, înfășurată pe un suport izolator cilindric, fără miez magnetic, cu raza $r = 1 \text{ cm}$. Rezistența electrică a firului conductor se neglijează. Bobina este introdusă în interiorul unei alte bobine prin care circulă un curent electric de intensitate $I = 5 \text{ A}$. Cea de-a doua bobină e realizată prin înfășurarea fir lângă fir, într-un singur strat, a unui fir metalic, izolat, cu diametrul secțiunii transversale $d = 2 \text{ mm}$. Unghiul dintre axele celor două bobine are valoarea $\alpha = 60^\circ$, iar $\mu_{\text{aer}} \equiv \mu_0$. Determinați:

- a. inducția câmpului magnetic în interiorul celei de-a doua bobine;
b. fluxul magnetic total prin spirele primei bobine;
c. sarcina electrică care parcurge spirele primei bobinei dacă, într-un interval de timp scurt, intensitatea curentului care trece prin spirele celei de-a doua bobine, se anulează.

15 puncte

Proba E: Specializarea : matematică –informatică, științe ale naturii

Proba F: Profil: tehnic – toate specializările

♦ Sunt obligatorii toți itemii din două arii tematice dintre cele patru prevăzute în programă, adică: A.MECANICĂ, B.ELECTRICITATE ȘI MAGNETISM, C. ELEMENTE DE TERMODINAMICĂ ȘI FIZICĂ MOLECULARĂ, D. OPTICĂ

♦ Se acordă 10 puncte din oficiu.

♦ Timpul efectiv de lucru este de 3 ore.

Varianta 19

B. ELECTRICITATE ȘI MAGNETISM**I. Pentru itemii 1-5 scrieți pe foaia de răspuns litera corespunzătoare răspunsului considerat corect.****15 puncte**

1. Într-o bobină lungă parcursă de curentul electric cu intensitatea constantă I apare un câmp magnetic considerat uniform cu inducția B , care determină un flux magnetic ϕ . La întreruperea curentului, fluxul magnetic scade la valoarea zero în intervalul de timp τ . Inductanța bobinei este :

- a. ϕ/I b. B c. ϕ/τ d. I/ϕ

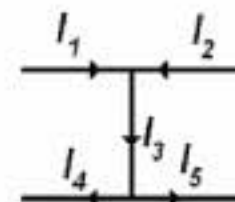
2. Patru fire metalice, sunt caracterizate prin rezistențele electrice R_1, R_2, R_3, R_4 și au fiecare lungimi, raze și rezistivități diferite după cum urmează : pentru primul fir (ℓ, r, ρ) , pentru al doilea $(2 \cdot \ell, 2r, \rho)$, pentru al treilea $(2 \cdot \ell, r, 2 \cdot \rho)$ iar pentru al patrulea $(\ell, 2 \cdot r, 2 \cdot \rho)$. Între rezistențele firelor există relația:

- a. $R_1 = R_2 < R_3 < R_4$ b. $R_2 = R_4 < R_1 < R_3$ c. $R_4 = R_3 < R_2 < R_1$ d. $R_1 = R_3 < R_2 < R_4$

3. O spiră circulară cu suprafața $S = 10 \text{ cm}^2$ este dispusă perpendicular pe liniile de câmp ale unui câmp magnetic a cărui inducție variază ca funcție de timpul t conform legii $B(t) = 0,1 \cdot t \text{ (T)}$. Tensiunea electromotoare constantă indusă în spiră are valoarea :

- a. 1 mV b. $0,5 \text{ mV}$ c. $0,2 \text{ mV}$ d. $0,1 \text{ mV}$

4. Considerați porțiunea dintr-un circuit electric a cărui diagramă este reprezentată în figura alăturată. Intensitățile unora dintre curenții care circulă prin fire sunt $I_1 = 1 \text{ A}$, $I_2 = 9 \text{ A}$ și $I_4 = 5 \text{ A}$. Intensitatea curentului I_5 are valoarea



- a. 1 A b. 5 A c. 9 A d. 10 A

5. Un circuit electric este compus dintr-o baterie cu rezistența internă r care debitează curent electric pe o rezistor cu rezistență electrică R , variabilă. Raportul η dintre puterea debitată de baterie pe rezistor și puterea totală a baterie (randamentul circuitului) este de 50% atunci când rezistența circuitului exterior este de 2Ω . În aceste condiții, valoarea rezistenței interne a bateriei este :

- a. 50Ω b. 5Ω c. 2Ω d. 1Ω

II. Rezolvați următoarele probleme:

1. Doriți să folosiți un calorifer electric și să-l conectați la o priză cu tensiunea de $U = 220 \text{ V}$. Caloriferul are puterea $P = 4840 \text{ W}$, iar priza care urmează să fie folosită pentru alimentarea caloriferului este protejată cu o siguranță fuzibilă de $I_{\text{max im}} = 25 \text{ A}$. Considerați că în cursul exploatării rezistența electrică a caloriferului nu variază și determinați :

- a. valoarea rezistenței electrice a caloriferului;
b. valoarea intensității curentului electric prin calorifer atunci când acesta funcționează;
c. numărul de calorifere identice celui descris mai sus care pot fi alimentate în paralele de la această priză.

15 puncte

2. Un avion zboară cu viteza constantă $v = 150 \text{ m} \cdot \text{s}^{-1}$ de pe o direcție orizontală. Distanța dintre vârfurile aripilor sale este $\ell = 15 \text{ m}$. Avionul are o busolă care, pentru a fi protejată de influența componentei verticale a câmpului magnetic terestru este înconjurată de o bobină care produce un câmp magnetic vertical cu $B = 3 \cdot 10^{-5} \text{ T}$. Determinați :

- a. care este valoarea componentei verticale a inducției câmpului magnetic terestru
b. fluxul componentei verticale a inducției câmpului magnetic terestru prin aria „măturată” de aripile avionului în $\tau = 10 \text{ s}$.
c. valoarea tensiunii electromotoare induse între vârfurile aripilor avionului.

15 puncte

Proba E: Specializarea : matematică –informatică, științe ale naturii

Proba F: Profil: tehnic – toate specializările

♦ Sunt obligatorii toți itemii din două arii tematice dintre cele patru prevăzute în programă, adică: A.MECANICĂ, B.ELECTRICITATE ȘI MAGNETISM, C. ELEMENTE DE TERMODINAMICĂ ȘI FIZICĂ MOLECULARĂ, D. OPTICĂ

♦ Se acordă 10 puncte din oficiu.

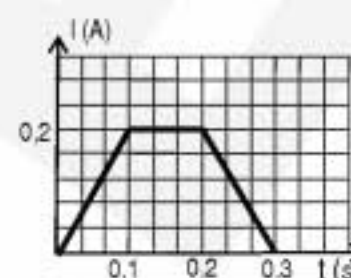
♦ Timpul efectiv de lucru este de 3 ore.

Varianta 20

B. ELECTRICITATE ȘI MAGNETISM.Se consideră accelerația gravitațională $g = 10 \text{ m/s}^2$ **I. Pentru itemii 1-5 scrieți pe foaia de răspuns litera corespunzătoare răspunsului considerat corect****15 puncte**

1. Intensitatea curentului electric ce trece printr-un conductor variază în timp conform graficului alăturat. Sarcina electrică ce trece prin conductor este:

- a. $0,04 \text{ C}$ b. $0,2 \text{ C}$ c. $0,6 \text{ C}$ d. $0,8 \text{ C}$

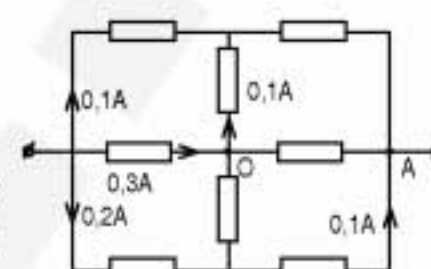


2. Unitatea de măsură a puterii NU poate fi exprimată prin:

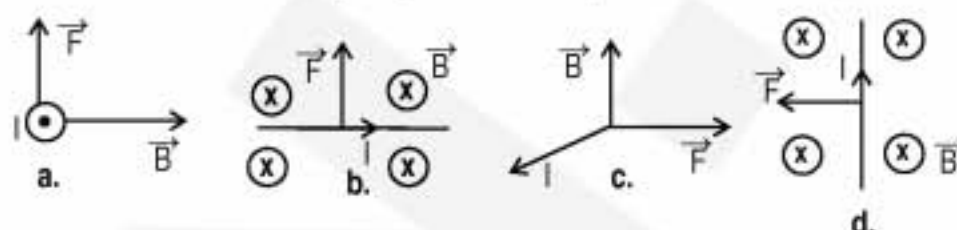
- a. V A b. $\text{V } \Omega^{-1}$ c. $\text{V}^2 \Omega^{-1}$ d. $\text{A}^2 \Omega$

3. Intensitatea curentului prin ramura OA a circuitului alăturat are valoarea și sensul:

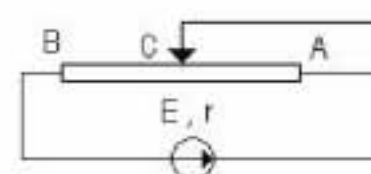
- a. $0,3 \text{ A}$ spre O
b. $0,2 \text{ A}$ spre A
c. $0,2 \text{ A}$ spre O
d. $0,3 \text{ A}$ spre A

4. Două spire circulare identice, una verticală și una orizontală, ale căror centre coincid, sunt parcurse de același curent electric staționar, de intensitate I . Inducția magnetică în centrul lor comun este :

- a. $\mu \frac{I}{\sqrt{2} r}$ b. $\mu \frac{I}{2\pi r}$ c. $\mu \frac{I}{\pi r}$ d. $\mu \frac{I}{r}$

5. Una din figurile de mai jos, referitoare la forța electromagnetice ce acționează asupra unui conductor parcurs de un curent electric staționar cu intensitatea I , aflat într-un câmp magnetic de inducție \vec{B} , NU este corectă:**II. Rezolvați următoarele probleme:**1. La bornele unui generator cu t.e.m. $E = 30 \text{ V}$ și rezistența internă $r = 1 \Omega$ se leagă un reostat cu cursor a cărui rezistență totală este de $R = 5 \Omega$.a. Determinați tensiunea măsurată de un voltmetru ideal legat între A și C atunci când $AC = AB/5$.

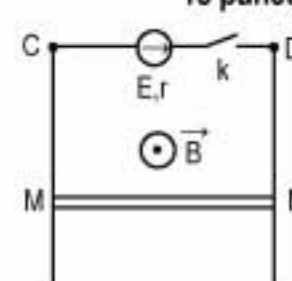
b. Calculați valorile extreme ale tensiunii măsurate de un voltmetru ideal legat între A și C atunci când cursorul C se deplasează de la un capăt la celălalt al reostatului.

c. În locul voltmetrului, între A și C se leagă un rezistor cu rezistența electrică $R_1 = 6 \Omega$. Se deplasează cursorul C astfel încât pe rezistorul R_1 să se disipe puterea $P_1 = 24 \text{ W}$. Determinați noua valoare a rezistenței R_{AC} .**15 puncte**2. Un conductor MN cu masa $m = 400 \text{ g}$ și lungimea $\ell = 0,1 \text{ m}$ poate aluneca fără frecare de-a lungul a două bare metalice verticale CM și DN. Conductorul MN și barele verticale au rezistențele neglijabile. Cele două bare se conectează la o sursă cu t.e.m. $E = 25 \text{ V}$ și rezistența internă $r = 0,5 \Omega$ prin închiderea întrerupătorului k. Întregul sistem se află într-un câmp magnetic uniform orizontal, cu inducția magnetică $B = 1 \text{ T}$ (figura alăturată). Inițial bara MN este ținută fixă. Determinați:

a. forța electromagnetice ce acționează asupra barei fixe la închiderea întrerupătorului K, indicând direcția și sensul ei;

b. valoarea intensității constante ce se stabilește prin conductorul MN, după ce acesta a fost lăsat liber;

c. viteza maximă a conductorului MN.

**15 puncte**

Proba E: Specializarea : matematică –informatică, științe ale naturii

Proba F: Profil: tehnic – toate specializările

♦ Sunt obligatorii toți itemii din două arii tematice dintre cele patru prevăzute în programă, adică: A.MECANICĂ, B.ELECTRICITATE ȘI MAGNETISM, C. ELEMENTE DE TERMODINAMICĂ ȘI FIZICĂ MOLECULARĂ, D. OPTICĂ

♦ Se acordă 10 puncte din oficiu.

♦ Timpul efectiv de lucru este de 3 ore.

Varianta 21

B. ELECTRICITATE ȘI MAGNETISMPermeabilitatea magnetică a vidului are valoarea $\mu_0 = 4\pi \cdot 10^{-7} \text{ N/A}^2$.**I. Pentru itemii 1-5 scrieți pe foaia de răspuns litera corespunzătoare răspunsului considerat corect****15 puncte**

1. Voltul se poate exprima prin unitățile fundamentale din Sistemul Internațional de Unități astfel:

a. $\frac{\text{kg} \cdot \text{m}^2}{\text{s}^3 \cdot \text{A}}$

b. $\frac{\text{kg} \cdot \text{m}^3}{\text{s}^2 \cdot \text{A}}$

c. $\frac{\text{m}^2}{\text{kg} \cdot \text{s}^3 \cdot \text{A}}$

d. $\frac{\text{m}^2 \cdot \text{s}^3 \cdot \text{A}^2}{\text{kg}}$

2. Rezistența echivalentă a n rezistori identici, de rezistență R fiecare, legați în paralel are expresia:

a. nR

b. $(n-1)R$

c. R

d. R/n

3. Două surse cu parametrii E_1, r_1 și respectiv E_2, r_2 sunt grupate în serie. Puterea maximă transferată unui circuit exterior este:

a. $P_{\max} = \frac{(E_1 + E_2)^2}{2(r_1 + r_2)^2}$

b. $P_{\max} = \frac{(E_1 + E_2)^2}{4(r_1 + r_2)}$

c. $P_{\max} = \left(\frac{E_1 E_2}{E_1 + E_2} \right)^2 \cdot \frac{1}{4(r_1 + r_2)}$

d. $P_{\max} = \frac{E_1 E_2}{4(r_1 + r_2)}$

4. O bobină cu N spire și cu diametrul D este supusă unei variații de flux magnetic astfel încât în bobină se induce o tensiune electromotoare e . Care este viteza de variație a inducției magnetice $\frac{dB}{dt}$?

a. $\frac{2I}{\pi D^2 N}$

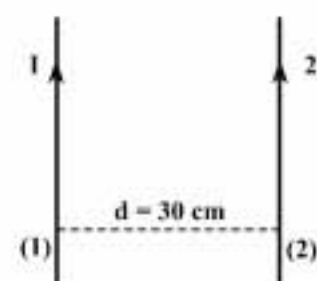
b. $\frac{4I}{\pi DN}$

c. $\frac{4e}{\pi D^2 N}$

d. $\frac{e}{\pi D^2 N}$

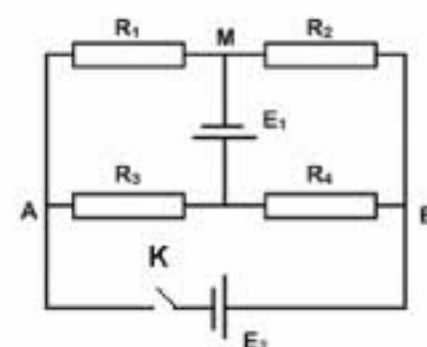
5. Unde trebuie plasat un al treilea conductor parcurs de un curent electric cu intensitatea I , în raport cu conductorii din figura alăturată astfel încât forța electrodinamică exercitată asupra sa să fie nulă?

a. la jumătatea distanței dintre conductori

b. între cei doi conductori, la distanța $d_1 = 10 \text{ cm}$ față de conductorul (1).c. la 20 cm de conductorul (1) și 50 cm de conductorul (2).d. între cei doi conductori la distanța $d_2 = 20 \text{ cm}$ față de conductorul (1)**II. Rezolvați următoarele probleme:**1. O rețea electrică este formată din patru rezistori cu rezistențele electrice: $R_1 = 1\Omega$, $R_2 = 2\Omega$, $R_3 = 3\Omega$, $R_4 = 1\Omega$ și două surse de tensiune cu rezistențele interne neglijabile. Prima sursă are tensiunea electromotoare $E_1 = 12 \text{ V}$. Determinați:

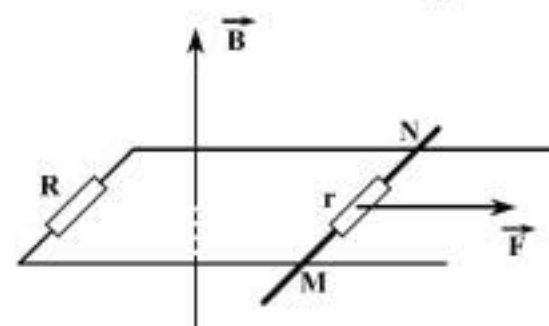
a. tensiunea indicată de un voltmetru ideal conectat între punctele A și M, când întrerupătorul K este deschis;

b. energia consumată de rețeaua de rezistori într-o oră, când întrerupătorul K este deschis;

c. t.e.m. E_2 , dacă la închiderea întrerupătorului K prin sursa cu t.e.m. E_2 nu trece curent electric.**15 puncte**2. Un cadru metalic dreptunghiular este plasat într-un câmp magnetic uniform, cu liniile de câmp perpendiculare pe planul cadrului. Inducția câmpului magnetic are valoarea $B = 10 \text{ T}$, iar cadrul are o latură mobilă de lungimea $l = 1 \text{ m}$ și rezistența electrică $r = 0,5\Omega$. Latura MN este deplasată rectiliniu și uniform, în planul cadrului, cu ajutorul unei forțe de tracțiune $F = 20 \text{ N}$. Se cunoaște rezistența din circuit $R = 2\Omega$. Calculați:

a. intensitatea curentului electric din circuit;

b. viteza cu care se deplasează conductorul MN;

c. energia electrică obținută în circuit $\Delta t = 10 \text{ min}$.**15 puncte**

Proba E: Specializarea : matematică –informatică, științe ale naturii

Proba F: Profil: tehnic – toate specializările

♦ Sunt obligatorii toți itemii din două arii tematice dintre cele patru prevăzute în programă, adică: A.MECANICĂ, B.ELECTRICITATE ȘI MAGNETISM, C. ELEMENTE DE TERMODINAMICĂ ȘI FIZICĂ MOLECULARĂ, D. OPTICĂ

♦ Se acordă 10 puncte din oficiu.

♦ Timpul efectiv de lucru este de 3 ore.

Varianta 22

B. ELECTRICITATE ȘI MAGNETISM

Permeabilitatea magnetică a vidului are valoarea $\mu_0 = 4\pi \cdot 10^{-7} \text{ N / A}^2$.

I. Pentru itemii 1-5 scrieți pe foaia de răspuns litera corespunzătoare răspunsului considerat corect

15 puncte

1. Unitatea de măsură în S.I. a fluxului magnetic este:

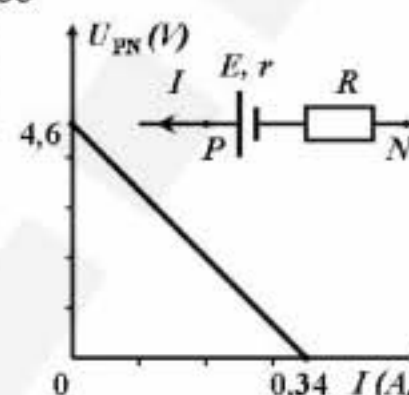
- a. $\text{N} \cdot \text{m} / \text{A}$ b. N / A c. $\text{N} / (\text{A} \cdot \text{m}^2)$ d. $\text{N} / (\text{A} \cdot \text{m})$

2. Un conductor rectiliniu de rezistență 81Ω a fost împărțit într-un număr de segmente egale care au fost legate în paralel, obținându-se o rezistență echivalentă de 1Ω . Numărul de segmente egale în care a fost împărțit conductorul este:

- a. 9 b. 18 c. 27 d. 36

3. Un generator este protejat legându-i în serie un conductor metallic de rezistență $R = 12\Omega$. Caracteristica curent – tensiune a generatorului linear de tensiune astfel obținut, este ilustrată în figura alăturată. Tensiunea electromotoare E a generatorului și rezistența sa internă r au valorile:

- a. $E = 3,6\text{V}$; $r \approx 0,53\Omega$
b. $E = 3,6\text{V}$; $r \approx 0,75\Omega$
c. $E = 4,6\text{V}$; $r \approx 1,25\Omega$
d. $E = 4,6\text{V}$; $r \approx 1,53\Omega$



4. Pentru alimentarea unei case de la o sursă cu o tensiune de 220V , se utilizează o linie electrică de lungime 100m , firul având rezistivitatea $1,6 \cdot 10^{-8} \Omega \cdot \text{m}$ și secțiunea 5mm^2 . Dacă, pierderea de tensiune pe linia de alimentare este de 5% , din tensiunea sursei, puterea furnizată de sursă pentru alimentarea casei are valoarea:

- a. $3,180\text{kW}$ b. $7,184\text{kW}$ c. $8,200\text{kW}$ d. $9,397\text{kW}$

5. Două spire circulare identice de rază $R = 5\text{cm}$ situate în aer ($\mu_{\text{aer}} \approx \mu_0$) și parcurse de curenți egali, de intensitate $I = 5\text{A}$, sunt dispuse concentric, planele lor fiind perpendiculare. Valoarea inducției magnetice în centrul lor comun este aproximativ:

- a. $B = 18,5\mu\text{T}$ b. $B = 58,5\mu\text{T}$ c. $B = 88,5\mu\text{T}$ d. $B = 118,5\mu\text{T}$

II. Rezolvați următoarele probleme:

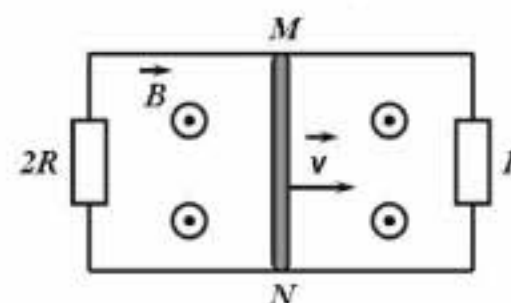
1. O baterie este formată din $N = 300$ generatoare identice, fiecare cu tensiunea electromotoare de $E = 1\text{V}$ și rezistența internă de $r = 0,3\Omega$. Generatoarele sunt legate în p grupări paralel, fiecare grupare având s generatoare legate în serie. Bateria alimentează un rezistor cu rezistența electrică $R = 10\Omega$. Determinați:

- a. numărul de generatoare legate în serie pentru ca puterea disipată pe rezistorul R să fie maximă;
b. puterea maximă disipată pe rezistorul R ;
c. tensiunea la bornele rezistorului, în condiția precizată la punctul a.

15 puncte

2. Două șine conductoare paralele, de rezistență electrică neglijabilă, se află într-un câmp magnetic uniform de inducție $B = 1\text{T}$, ale cărui linii de câmp sunt perpendiculare pe planul șinelor. Între două dintre capetele șinelor se leagă un rezistor de rezistență $R = 0,1\Omega$, iar între celelalte două capete un alt rezistor de rezistență $2R$. Un conductor liniar de rezistență electrică neglijabilă și lungime $L = 0,1\text{m}$, alunecă fără frecări pe cele două șine sub acțiunea unei forțe exterioare, cu viteza constantă $v = 1\text{m/s}$, perpendiculară pe conductor și paralelă cu șinele, în sensul indicat pe figură. Determinați:

- a. t.e.m indusă la capetele conductorului mobil;
b. intensitatea curentului electric indus în conductorul mobil;
c. lucrul mecanic efectuat de forța exterioară la deplasarea conductorului timp de $t = 10\text{s}$.



15puncte

Proba E: Specializarea : matematică –informatică, științe ale naturii

Proba F: Profil: tehnic – toate specializările

♦ Sunt obligatorii toți itemii din două arii tematice dintre cele patru prevăzute în programă, adică: A.MECANICĂ, B.ELECTRICITATE ȘI MAGNETISM, C. ELEMENTE DE TERMODINAMICĂ ȘI FIZICĂ MOLECULARĂ, D. OPTICĂ

♦ Se acordă 10 puncte din oficiu.

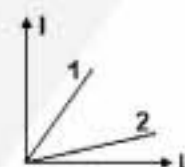
♦ Timpul efectiv de lucru este de 3 ore.

Varianta 23

B. ELECTRICITATE ȘI MAGNETISMPermeabilitatea magnetică a vidului are valoarea $\mu_0 = 4\pi \cdot 10^{-7} \text{ N/A}^2$ **I. Pentru itemii 1-5 scrieți pe foaia de răspuns litera corespunzătoare răspunsului considerat corect****15 puncte**

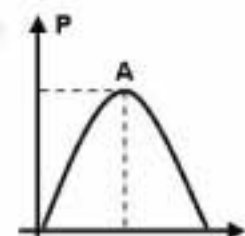
1. Dependența intensității curentului electric de tensiunea aplicată, pentru doi rezistori R_1 (graficul 1) și respectiv R_2 (graficul 2) este reprezentată în graficul alăturat. Dacă se conectează pe rând cei doi rezistori la aceeași sursă de tensiune, raportul dintre puterea P_1 disipată de R_1 și puterea P_2 disipată de R_2 este:

- a. $\frac{P_1}{P_2} = 1$ b. $\frac{P_1}{P_2} < 1$ c. $\frac{P_1}{P_2} < 0,5$ d. $\frac{P_1}{P_2} > 1$



2. Graficul alăturat redă dependența puterii P transferate de o sursă cu t.e.m. E și rezistența internă r unui circuit exterior ca funcție de intensitatea I a curentului din acel circuit. Punctul A are coordonatele:

- a. $A\left(\frac{E}{2 \cdot r}, \frac{E^2}{4 \cdot r}\right)$ b. $A\left(\frac{E}{2 \cdot r}, \frac{E^2}{2 \cdot r}\right)$ c. $A\left(\frac{E}{2 \cdot r}, \frac{E^2}{r}\right)$ d. $A\left(\frac{E}{r}, \frac{E^2}{4 \cdot r}\right)$

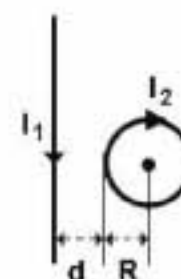


3. Spirele din sârmă de cupru ale unei bobine parcurse de curent electric:

- a. nu interacționează, pentru că sunt din cupru
b. se atrag, pentru că sunt parcurse de curenți de același sens
c. se resping, pentru că sunt parcurse de curenți de același sens
d. se atrag, pentru că sunt parcurse de curenți de sens opus.

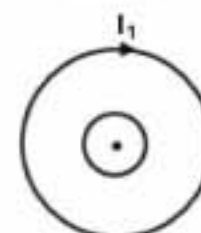
4. Un conductor rectiliniu foarte lung parcurs de curentul $I_1 = 3,14 \text{ A}$ este plasat la distanța $d = 5 \text{ cm}$ de o spirală conductoare de rază $R = 5 \text{ cm}$ (vezi figura alăturată). Inducția câmpului magnetic rezultat în centrul spirei se anulează dacă:

- a. $I_2 = 1 \text{ A}$ b. $I_2 = 0,5 \text{ A}$ c. $I_2 = 0,4 \text{ A}$ d. $I_2 = 0,25 \text{ A}$



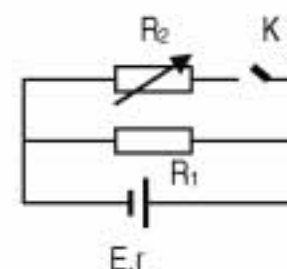
5. În figura alăturată sunt reprezentate două spire circulare concentrice. Dacă intensitatea curentului I_1 din spira 1 scade la valoarea zero:

- a. în spira 2 se induce un curent având sensul lui I_1
b. în spira 2 se autoinduce un curent având sensul contrar lui I_1
c. în spira 2 se autoinduce un curent având sensul lui I_1
d. în spira 2 se induce un curent având sensul contrar lui I_1 .

**II. Rezolvați următoarele probleme:**

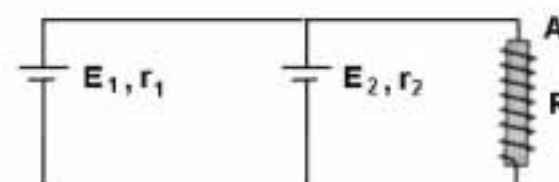
1. Dacă valorile rezistențelor electrice ale celor doi rezistori din circuitul prezentat în figura alăturată sunt $R_1 = 3 \Omega$ și $R_2 = 1 \Omega$, atunci puterea debitată de sursă în circuitul exterior are aceeași valoare când întrerupătorul K este deschis sau închis. Determinați:

- a. rezistența internă a sursei;
b. de câte ori se mărește intensitatea curentului electric prin ramura ce conține sursa de tensiune, prin închiderea întrerupătorului K;
c. valoarea rezistenței R_2' a rezistorului aflat pe ramura cu întrerupătorul K, astfel încât puterea debitată de această sursă în circuitul exterior să devină maximă prin închiderea întrerupătorului, dacă rezistența internă a sursei este de $1,5 \Omega$.

**15 puncte**

2. În montajul din figură se cunosc: $E_1 = 12 \text{ V}$, $E_2 = 18 \text{ V}$, $r_1 = r_2 = 1 \Omega$. Bobina fără miez de fier, plasată în aer, ($\mu_{\text{aer}} \equiv \mu_0$) are $N = 1000$ de spire, cu raza $r = 1 \text{ cm}$. Lungimea bobinei este $b = 10 \text{ cm}$ și rezistența electrică $R = 4,5 \Omega$. Determinați:

- a. inducția câmpului magnetic ce ia naștere în interiorul bobinei;
b. denumirea polului bobinei aflat la capătul A al acesteia;
c. t.e.m. medie autoindusă la capetele bobinei, dacă la deconectarea sa din circuit intensitatea curentului ce trece prin aceasta se anulează în intervalul de timp $\Delta t = 10 \text{ ms}$. Se poate folosi aproximația: $\pi^2 \equiv 10$.

**15 puncte**

Proba E: Specializarea : matematică –informatică, științe ale naturii

Proba F: Profil: tehnic – toate specializările

♦ Sunt obligatorii toți itemii din două arii tematice dintre cele patru prevăzute în programă, adică: A.MECANICĂ, B.ELECTRICITATE ȘI MAGNETISM, C. ELEMENTE DE TERMODINAMICĂ ȘI FIZICĂ MOLECULARĂ, D. OPTICĂ

♦ Se acordă 10 puncte din oficiu.

♦ Timpul efectiv de lucru este de 3 ore.

Varianta 24

B. ELECTRICITATE ȘI MAGNETISM

Permeabilitatea magnetică a vidului are valoarea $\mu_0 = 4\pi \cdot 10^{-7} \text{ N/A}^2$.

I. Pentru itemii 1-5 scrieți pe foaia de răspuns litera corespunzătoare răspunsului considerat corect

15 puncte

1. Dacă notațiile sunt cele utilizate în manualele de fizică, atunci unitatea de măsură în S.I. a mărimii fizice descrise de relația $B \cdot \ell \cdot v \Delta t$ este aceeași cu cea a mărimii fizice descrise de relația:

a. $\Phi \cdot I$

b. $\Phi \cdot v$

c. $F \cdot v$

d. $L \cdot I$

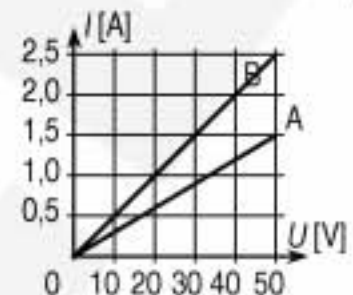
2. Dependența intensității curentului electric ce străbate fiecare dintre cele două rezistoare A și B legate în paralel, de tensiunea aplicată la capetele grupării este ilustrată în figura alăturată. Rezistența electrică echivalentă a grupării celor două rezistoare este:

a. $12,5 \, \Omega$

b. $25 \, \Omega$

c. $33,3 \, \Omega$

d. $53,3 \, \Omega$



3. Știind că notațiile sunt cele utilizate în manualele de fizică, precizați care din expresiile de mai jos nu reprezintă o rezistență electrică:

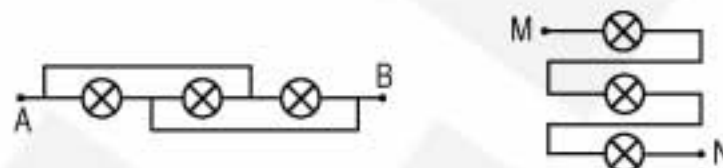
a. $\frac{U}{I}$

b. $\frac{\rho \cdot l}{S}$

c. $\frac{P}{I^2}$

d. $\frac{W}{U^2 \cdot t}$

4. Considerați montajele marcate cu AB și MN ale unor circuite electrice reprezentate mai jos; dintre acestea, o grupare în paralel a trei becuri este reprezentată:



a. numai de AB

b. numai de MN

c. nici de AB, nici de MN

d. atât de AB, cât și de MN

5. Două bobine fără miez, P și Q, au inductanțe egale; numărul de spire este N_P , respectiv $N_Q = 2 N_P$ și lungimile ℓ_P și $\ell_Q = 2 \ell_P$.

Raportul ariilor secțiunilor transversale $\frac{S_P}{S_Q}$ este:

a. 1

b. 2

c. 4

d. 8

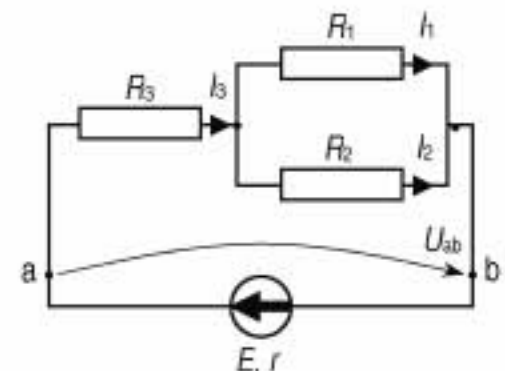
II. Rezolvați următoarele probleme:

1. Circuitul electric a cărui diagramă este ilustrată în figura alăturată conține o baterie cu t.e.m. E și rezistență internă $r = 0,5 \, \Omega$ și trei rezistoare având rezistențele electrice $R_1 = 10 \, \Omega$, $R_2 = 5 \, \Omega$, și $R_3 = 4 \, \Omega$. Cunoscând că intensitatea curentului care străbate rezistorul R_1 este $I_1 = 2 \, \text{A}$ și neglijând rezistența electrică a firelor conductoare din circuit, determinați:

a. valorile intensităților I_2 și I_3 ale curenților care străbat rezistoarele R_2 și R_3 ;

b. t.e.m. E a bateriei;

c. energia electrică disipată prin efect Joule într-un minut în rezistorul R_1 .



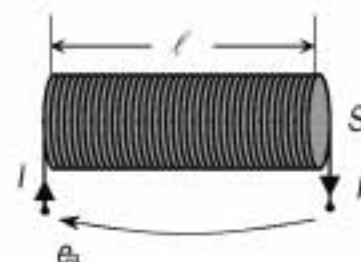
15 puncte

2. Un solenoid fără miez are inductanța $L = 1 \, \text{mH}$; lungimea $\ell = 10 \, \text{cm}$ și aria secțiunii transversale $S = 3,2 \, \text{cm}^2$. Determinați:

a. fluxul magnetic total prin spirele solenoidului când prin spirele acestuia trece un curent electric staționar cu intensitatea $I = 5 \, \text{A}$;

b. numărul N al spirelor solenoidului;

c. tensiunea electromotoare e_a indusă la capetele solenoidului, dacă intensitatea curentului care îl străbate ($I = 5 \, \text{A}$) scade uniform la zero într-un interval $\Delta t = 0,1 \, \text{s}$.



15 puncte

Proba E: Specializarea : matematică –informatică, științe ale naturii

Proba F: Profil: tehnic – toate specializările

♦ Sunt obligatorii toți itemii din două arii tematice dintre cele patru prevăzute în programă, adică: A.MECANICĂ, B.ELECTRICITATE ȘI MAGNETISM, C. ELEMENTE DE TERMODINAMICĂ ȘI FIZICĂ MOLECULARĂ, D. OPTICĂ

♦ Se acordă 10 puncte din oficiu.

♦ Timpul efectiv de lucru este de 3 ore.

Varianta 25

B. ELECTRICITATE ȘI MAGNETISMPermeabilitatea magnetică a vidului are valoarea $\mu_0 = 4\pi \cdot 10^{-7} \text{ N/A}^2$.**I. Pentru itemii 1-5 scrieți pe foaia de răspuns litera corespunzătoare răspunsului considerat corect****15 puncte**

1. Dacă notațiile sunt cele utilizate în manualele de fizică, atunci unitatea de măsură în S.I. pentru rezistivitatea electrică este:

- a. $\Omega \text{ m}^{-1}$ b. VA/m c. $\text{kg m}^3 \text{ A}^{-2} \text{ s}^{-3}$ d. $\text{m}^3 \text{ s}^{-1} \text{ A}^{-3}$

2. O sursă având rezistența internă r , disipă pe o rezistență R_1 o putere P . Sursa va disipa aceeași putere pe o rezistență de valoare:

- a. R_1^2 / r b. $R_1 r$ c. r / R_1 d. r^2 / R_1

3. O baterie cu tensiunea electromotoare $E = 12 \text{ V}$ are intensitatea curentului de scurtcircuit $I_{SC} = 40 \text{ A}$. Rezistența internă a bateriei este:

- a. $0,03 \Omega$ b. $0,3 \Omega$ c. $0,6 \Omega$ d. 3Ω

4. Două particule cu masele m_1 și m_2 și sarcinile pozitive q_1 și q_2 intră perpendicular pe liniile unui câmp magnetic uniform. Considerând că particulele intră cu viteze egale, raportul perioadelor de rotație T_1 / T_2 este:

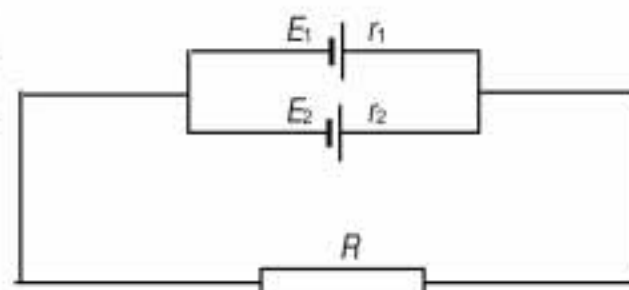
- a. $\frac{m_1 q_2}{m_2 q_1}$ b. $\frac{m_1 q_1}{m_2 q_2}$ c. $\sqrt{\frac{m_1 q_2}{m_2 q_1}}$ d. $\left(\frac{m_1 q_2}{m_2 q_1}\right)^2$

5. Un solenoid cu lungimea $l = 0,5 \text{ m}$ și $N = 500$ spire, este parcurs de un curent $I = 0,25 \text{ A}$. În interiorul său, în centru, este plasată o spirală cu $R = 2 \text{ cm}$, având planul perpendicular pe axa solenoidului. Intensitatea curentului care circulă prin spirală astfel încât în centrul spirei inducția magnetică rezultantă să fie nulă este:

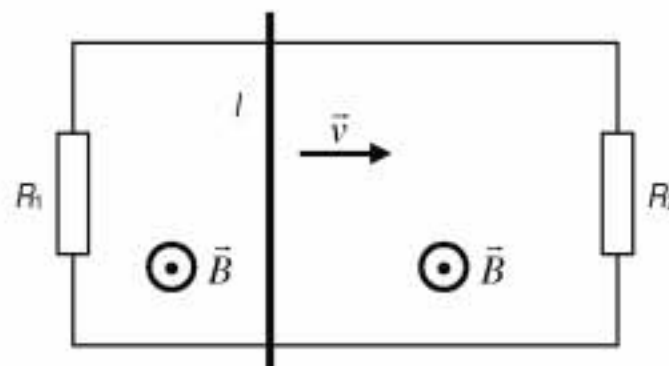
- a. 10 A b. 8 A c. 5 A d. 2 A

II. Rezolvați următoarele probleme:1. În circuitul din figura alăturată se cunosc tensiunile electromotoare $E_1 = 30 \text{ V}$ și $E_2 = 20 \text{ V}$, rezistențele interne ale surselor $r_1 = 2 \Omega$ și $r_2 = 1 \Omega$ și rezistența externă a circuitului $R = 10 \Omega$. Determinați:

- a. rezistența internă echivalentă a celor două surse;
b. intensitatea curentului prin rezistența R ;
c. căldura disipată pe rezistorul R în timp de 10 minute.

**15 puncte**2. O tijă de lungime $l = 10 \text{ cm}$ și rezistență $R = 0,1 \Omega$ alunecă, fără frecare, cu viteza $v = 2,5 \text{ m/s}$ pe două șine metalice de rezistențe neglijabile, legate la capete pe rezistențele $R_1 = 6 \Omega$ și $R_2 = 4 \Omega$, ca în figură. În tot timpul mișcării între șine și tijă există contact electric. Circuitul este plasat într-un câmp magnetic omogen, cu liniile de câmp orientate ca în desen ($B = 10 \text{ mT}$). Să se calculeze:

- a. t.e.m. indusă în tijă;
b. intensitatea curentului prin tija de lungime l ;
c. cunoscând diametrul tije $d = 2 \text{ mm}$, să se calculeze rezistivitatea materialului din care este confecționată tija de rezistență R .

**15 puncte**

Proba E: Specializarea : matematică –informatică, științe ale naturii

Proba F: Profil: tehnic – toate specializările

♦ Sunt obligatorii toți itemii din două arii tematice dintre cele patru prevăzute în programă, adică: A.MECANICĂ, B.ELECTRICITATE ȘI MAGNETISM, C. ELEMENTE DE TERMODINAMICĂ ȘI FIZICĂ MOLECULARĂ, D. OPTICĂ

♦ Se acordă 10 puncte din oficiu.

♦ Timpul efectiv de lucru este de 3 ore.

Varianta 26

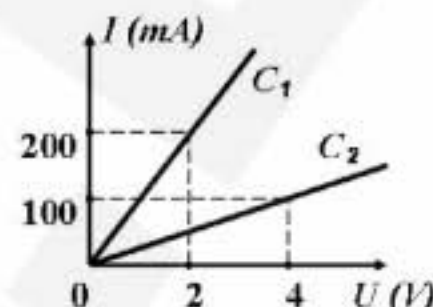
B. ELECTRICITATE ȘI MAGNETISMPermeabilitatea magnetică a vidului are valoarea $\mu_0 = 4\pi \cdot 10^{-7} \text{ N/A}^2$.**I. Pentru itemii 1-5 scrieți pe foaia de răspuns litera corespunzătoare răspunsului considerat corect****15 puncte**

1. Unitatea de măsură a inducției câmpului magnetic în funcție de unități ale mărimilor fundamentale în S.I. este:

- a. $\text{kg} \cdot \text{A}^{-1} \cdot \text{s}^2$ b. $\text{kg} \cdot \text{A} \cdot \text{s}^{-2}$ c. $\text{kg} \cdot \text{A}^{-1} \cdot \text{s}$ d. $\text{kg} \cdot \text{A}^{-1} \cdot \text{s}^{-2}$

2. Se trasează caracteristicile curent-tensiune pentru doi rezistori și se obțin graficele din figura alăturată. Raportul rezistențelor lor electrice este:

- a. $(R_1/R_2) = 0,25$
b. $(R_1/R_2) = 0,50$
c. $(R_1/R_2) = 1,50$
d. $(R_1/R_2) = 2,50$

3. Tensiunea măsurată la bornele unei surse la funcționarea în gol este de $4,52 \text{ V}$. Dacă sursaeste plasată într-un circuit, ea debitează un curent de $0,3 \text{ A}$, când tensiunea la bornele acesteia este egală cu $4,04 \text{ V}$. Intensitatea curentului la scurtcircuit are valoarea:

- a. $I_{sc} = 1,825 \text{ A}$ b. $I_{sc} = 2,025 \text{ A}$ c. $I_{sc} = 2,825 \text{ A}$ d. $I_{sc} = 3,825 \text{ A}$

4. O casă necesită un aport de căldură de $39,6 \text{ MJ}$ pe oră pentru a menține temperatura constantă. Casa este alimentată la 220 V . Intensitatea curentului electric care poate fi suportată de instalația electrică ce încălzește casa este:

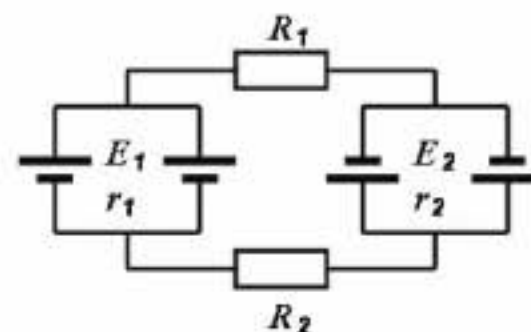
- a. $I = 25 \text{ A}$ b. $I = 30 \text{ A}$ c. $I = 50 \text{ A}$ d. $I = 55 \text{ A}$

5. Un solenoid cu $N = 80$ spire și diametru $d = 8 \text{ cm}$ se găsește într-un câmp magnetic uniform de inducție $B = 76 \text{ mT}$, având axa paralelă cu liniile de câmp. Solenoidul este rotit cu 180° în $0,2 \text{ s}$, astfel încât axa lui să redevină paralelă cu direcția câmpului. Tensiunea electromotoare medie care apare în solenoid este:

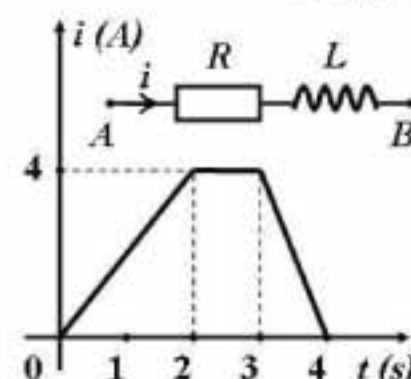
- a. $e \approx 37 \text{ mV}$ b. $e \approx 305 \text{ mV}$ c. $e \approx 503 \text{ mV}$ d. $e \approx 703 \text{ mV}$

II. Rezolvați următoarele probleme:1. Pentru circuitul electric din figura alăturată se cunosc: $E_1 = 6 \text{ V}$, $E_2 = 9 \text{ V}$, $r_1 = 1,8 \Omega$, $r_2 = 2,4 \Omega$, $R_1 = 47 \Omega$ și $R_2 = 23 \Omega$. Determinați:

- a. parametrii generatorului echivalent (E_{echiv} , r_{echiv});
b. intensitatea curentului electric I în rezistorii ohmici R_1 și R_2 ;
c. rezistența de sarcină R_s , care montată în circuit în locul rezistențelor R_1 și R_2 permite realizarea transferului maxim de putere.

**15 puncte**2. O porțiune de circuit (A,B) constituită dintr-o bobină fără miez magnetic, de inductanță $L = 0,2 \text{ H}$ și de rezistență $R = 5 \Omega$ este situată în aer ($\mu_{aer} \approx \mu_0$).

- a. Calculați fluxul magnetic propriu ce străbate bobina, când ea este parcursă de un curent electric staționar cu intensitatea $I = 4 \text{ A}$.
b. Bobina este parcursă de un curent a cărui intensitate variază în funcție de timp conform graficului din figura alăturată. Reprezentați grafic dependența de timp a t.e.m. autoinduse în bobină.
c. Calculați tensiunea U_{AB} de la bornele bobinei în intervalul de timp $[2 \text{ s}; 3 \text{ s}]$.

**15 puncte**

Proba E: Specializarea : matematică –informatică, științe ale naturii

Proba F: Profil: tehnic – toate specializările

♦ Sunt obligatorii toți itemii din două arii tematice dintre cele patru prevăzute în programă, adică: A.MECANICĂ, B.ELECTRICITATE ȘI MAGNETISM, C. ELEMENTE DE TERMODINAMICĂ ȘI FIZICĂ MOLECULARĂ, D. OPTICĂ

♦ Se acordă 10 puncte din oficiu.

♦ Timpul efectiv de lucru este de 3 ore.

Varianta 27

B. ELECTRICITATE ȘI MAGNETISMPermeabilitatea magnetică a vidului are valoarea $\mu_0 = 4\pi \cdot 10^{-7} \text{ N/A}^2$, sarcina electrică a unui electron $e = -1,6 \cdot 10^{-19} \text{ C}$.**I. Pentru itemii 1-5 scrieți pe foaia de răspuns litera corespunzătoare răspunsului considerat corect****15 puncte**

1. Dacă notațiile sunt cele utilizate în manualele de fizică, atunci unitatea de măsură în S.I. a inductanței este

- a. Wb b. H c. T d. N/A^2

2. Căldura degajată la trecerea unui curent electric staționar de intensitate $I = 10 \text{ mA}$ printr-un rezistor $R = 100 \Omega$, în timpul $t = 2 \text{ min}$ este:

- a. 12 J b. 2 J c. 120 J d. 2 kJ

3. Un conductor de lungime l se deplasează cu viteza constantă \vec{v} în câmpul magnetic uniform de inducție \vec{B} . Dacă unghiul dintre vectorii \vec{v} și \vec{B} este α , atunci tensiunea electromotoare indusă are expresia:

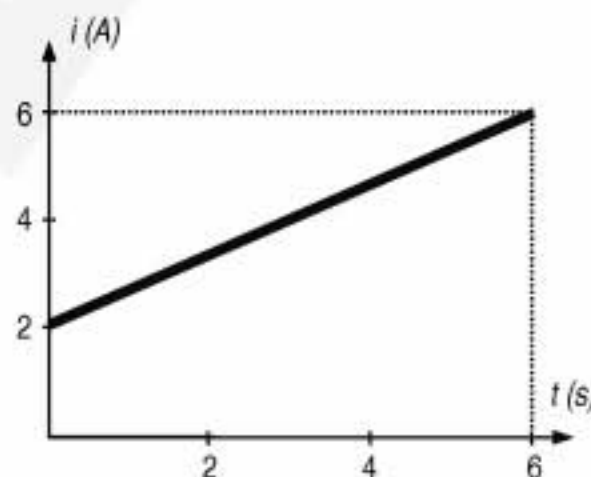
- a. 0 b. $Blv \cos \alpha$ c. $Blv \sin \alpha$ d. Blv

4. Două surse identice, cu tensiunea electromotoare E și rezistența internă r , se leagă în serie la bornele unui rezistor de rezistență R . Intensitatea curentului ce trece prin circuit este:

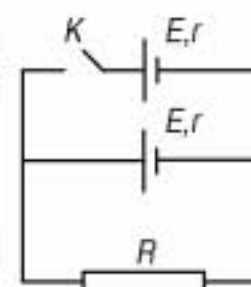
- a. $\frac{E}{R+r}$ b. $\frac{E/2}{R+r/2}$ c. $\frac{E}{R+r/2}$ d. $\frac{2E}{R+2r}$

5. Printr-un conductor trece un curent electric, a cărui intensitate variază ca în figură. Determinați sarcina electrică a electronilor de conducție ce parcurg o secțiune transversală a rezistorului în intervalul de la $t_1 = 0 \text{ s}$ la $t_2 = 6 \text{ s}$:

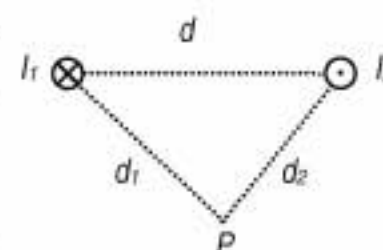
- a. 16 C
b. 20 C
c. 24 C
d. 26 C

**II. Rezolvați următoarele probleme:**1. Circuitul electric a cărui diagramă este ilustrată în figura alăturată conține două baterii cu tensiunea electromotoare $E = 10 \text{ V}$ și rezistența internă $r = 2 \Omega$ și un rezistor cu rezistența $R = 3 \Omega$. Neglijând rezistența electrică a conductoarelor de legătură din circuit, determinați:

- a. puterea electrică degajată pe rezistorul R , dacă întrerupătorul K este deschis;
b. intensitatea curentului ce străbate rezistorul R , după închiderea întrerupătorului K ;
c. care ar trebui să fie valoarea rezistenței R astfel încât puterea electrică disipată pe aceasta să fie maximă, dacă întrerupătorul K este închis.

**15 puncte**2. Două conductoare rectilinii, paralele, foarte lungi, aflate în aer ($\mu_{\text{aer}} \equiv \mu_{\text{vid}}$) sunt parcurse de curenți electrici staționari, de sensuri diferite, cu intensitățile $I_1 = 10 \text{ A}$, respectiv $I_2 = 5 \text{ A}$. Cunoscând distanțele $d = 5 \text{ cm}$, $d_1 = 4 \text{ cm}$ și $d_2 = 3 \text{ cm}$ determinați:

- a. inducția câmpului magnetic într-un punct situat la mijlocul distanței dintre cei doi conductori;
b. inducția câmpului magnetic în punctul P ;
c. poziția unui al treilea conductor, coplanar și paralel cu primii, parcurs de un curent de intensitatea $I_3 = 5 \text{ A}$, care să rămână în echilibru mecanic.

**15 puncte**

Proba E: Specializarea : matematică –informatică, științe ale naturii

Proba F: Profil: tehnic – toate specializările

♦ Sunt obligatorii toți itemii din două arii tematice dintre cele patru prevăzute în programă, adică: A.MECANICĂ, B.ELECTRICITATE ȘI MAGNETISM, C. ELEMENTE DE TERMODINAMICĂ ȘI FIZICĂ MOLECULARĂ, D. OPTICĂ

♦ Se acordă 10 puncte din oficiu.

♦ Timpul efectiv de lucru este de 3 ore.

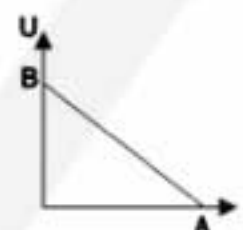
Varianta 28

B. ELECTRICITATE ȘI MAGNETISM**I. Pentru itemii 1-5 scrieți pe foaia de răspuns litera corespunzătoare răspunsului considerat corect****15 puncte****1. Unitatea de măsură în S.I. pentru rezistivitatea electrică este:**

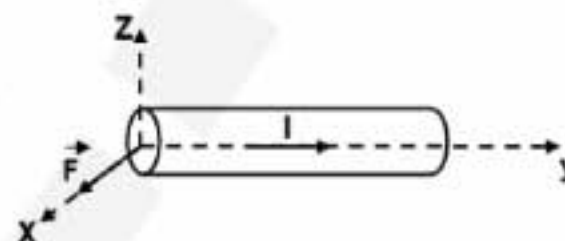
- a. $\Omega \cdot m^{-1}$ b. $\Omega^{-1} \cdot m^{-1}$ c. $\Omega \cdot m$ d. $\Omega^{-1} \cdot m$

2. Dependența tensiunii la bornele unui circuit simplu alimentat la o sursă de t.e.m. E și rezistență internă r de intensitatea curentului din circuit este redată în graficul alăturat. Coordonatele punctului A sunt:

- a. $A(\frac{E}{R+r}, 0)$ b. $A(\frac{E}{r}, 0)$ c. $A(\frac{E}{R}, 0)$ d. $A(\frac{E}{2 \cdot r}, 0)$

**3. Inducția câmpului magnetic în care este plasat conductorul din figură asupra căruia acționează forța electromagnetică F din figura alăturată are:**

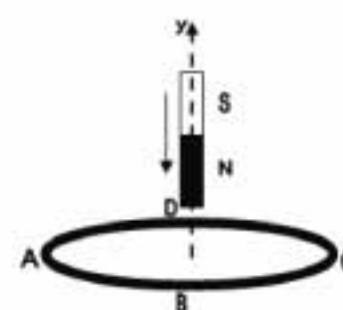
- a. direcția și sensul axei oy
b. direcția axei oz și sens opus sensului axei oz
c. direcția și sensul axei ox
d. direcția și sensul axei oz

**4. Filamentul unui bec conectat, prin intermediul a două fire conductoare de rezistență electrică neglijabilă, la o sursă cu t.e.m. E și rezistență internă $r = 0,5 \Omega$ are rezistența $R = 2 \Omega$ și este parcurs de curentul de intensitate I. Dacă, din greșeală, capetele firelor conectate la soclu, respectiv la vârful metalic al becului se unesc între ele, intensitatea curentului din circuit devine I_1 :**

- a. $I_1 = 5 \cdot I$ b. $I_1 = 2,5 \cdot I$ c. $I_1 = 0,5 \cdot I$ d. $I_1 = 0$

5. Magnetul bară din figură se apropie de spira conductoare circulară ABCD perpendicular pe planul acesteia.

- a. în spirală se induce un curent cu sensul $C \rightarrow B \rightarrow A \rightarrow D \rightarrow C$
b. inducția câmpului magnetic inductor are sensul axei oy
c. inducția câmpului magnetic al curentului indus are sens opus celui al axei oy
d. în spirală se induce un curent cu sensul $A \rightarrow B \rightarrow C \rightarrow D \rightarrow A$

**II. Să se rezolve următoarele probleme:****1. În montajul din figură se cunosc: $R_b = 2 \Omega$, $r_1 = r_2 = 1 \Omega$, $R_1 = 1,5 \Omega$, $R_2 = 5 \Omega$, $E_1 = 12 V$ și puterea electrică a becului $P = 18 W$. Determinați:**

- a. valoarea intensității curentului electric ce trece prin bec;
b. valoarea tensiunii electromotoare E_2 ;
c. valoarea tensiunii electrice dintre punctele M și N.

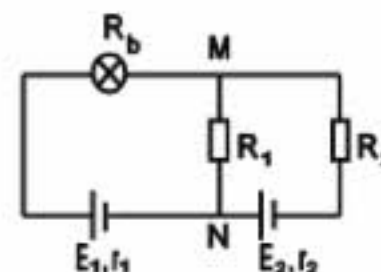
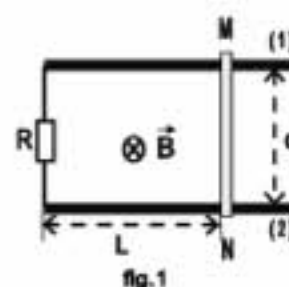
**15 puncte****2. O tijă metalică MN de lungime $d = 50 \text{ cm}$ și rezistență electrică $r = 5 \Omega$, aflată în repaus, este așezată perpendicular pe două șine conductoare paralele (1) și (2), orizontale. Șinele sunt legate la un capăt al lor printr-un rezistor de rezistență $R = 20 \Omega$, plasat la distanța $L = 40 \text{ cm}$ de tijă, iar celălalt capăt al șinelor este liber. Perpendicular pe planul șinelor și al tijei acționează un câmp magnetic a cărui inducție variază în timp conform reprezentării grafice B-t. Determinați:**

fig.1

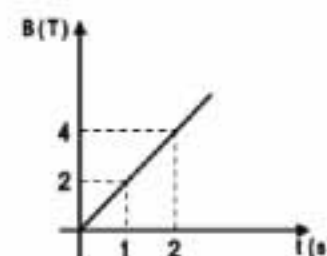


fig.2

- a. intensitatea curentului electric indus în circuitul format de șine, tijă și rezistor, precizând sensul acestui curent;
b. dependența de timp a forței electromagnetice care acționează asupra tijei;
c. puterea electrică disipată în tija MN.

15 puncte

Proba E: Specializarea : matematică –informatică, științe ale naturii

Proba F: Profil: tehnic – toate specializările

♦ Sunt obligatorii toți itemii din două arii tematice dintre cele patru prevăzute în programă, adică: A.MECANICĂ, B.ELECTRICITATE ȘI MAGNETISM, C. ELEMENTE DE TERMODINAMICĂ ȘI FIZICĂ MOLECULARĂ, D. OPTICĂ

♦ Se acordă 10 puncte din oficiu.

♦ Timpul efectiv de lucru este de 3 ore.

Varianța 29

B. ELECTRICITATE ȘI MAGNETISM

Permeabilitatea magnetică a vidului are valoarea $\mu_0 = 4\pi \cdot 10^{-7} \text{ N} \cdot \text{A}^{-2}$.

I. Pentru itemii 1-5 scrieți pe foaia de răspuns litera corespunzătoare răspunsului considerat corect

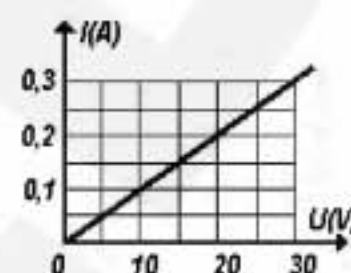
15 puncte

1. Dacă notațiile sunt cele utilizate în manualele de fizică, atunci unitatea de măsură în S.I. a mărimii fizice descrise de relația $\vec{B} \cdot \vec{S}$ peste echivalentă cu:

- a. $\frac{\text{N} \cdot \text{m}}{\text{A}}$ b. $\frac{\text{N}}{\text{A} \cdot \text{m}}$ c. $\frac{\text{A}}{\text{m}}$ d. $\frac{\text{N}}{\text{A}^2}$

2. Dependența intensității curentului electric ce străbate un rezistor de tensiunea aplicată la capetele acestuia este ilustrată în figura alăturată. Rezistența electrică a acestui rezistor este:

- a. 1Ω b. 10Ω c. 100Ω d. 1000Ω

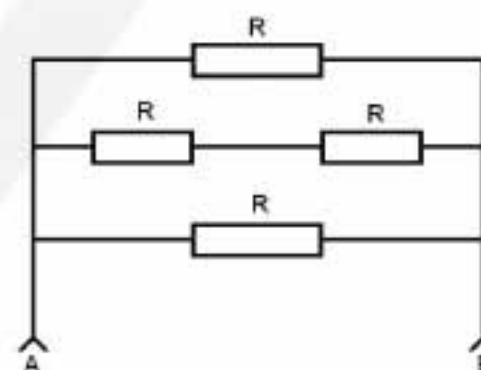


3. Un cadru circular fără miez magnetic cu 100 de spire, situat în aer ($\mu_{\text{aer}} \equiv \mu_0$) are raza de 25cm . Când bobina este parcursă de un curent electric staționar cu intensitatea 10A , inducția magnetică în centrul acestuia are valoarea de aproximativ:

- a. $2\pi \cdot 10^{-4} \text{ T}$ b. $4\pi \cdot 10^{-4} \text{ T}$ c. $6\pi \cdot 10^{-4} \text{ T}$ d. $8\pi \cdot 10^{-4} \text{ T}$

4. Considerați circuitul electric a cărui diagramă este reprezentată în figura alăturată. Consumatorii au fiecare rezistența $R = 10\Omega$. Valoarea rezistenței echivalente a circuitului între punctele A și B este:

- a. 4Ω b. 5Ω c. 20Ω d. 40Ω



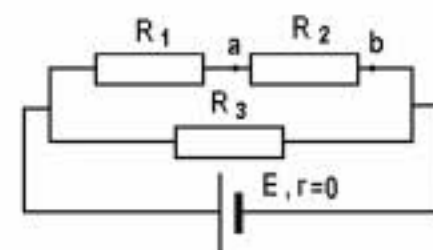
5. Patru fire metalice, de aceeași lungime și secțiuni identice, au rezistivitățile $\rho_1 = 1,7 \cdot 10^{-8} \Omega \cdot \text{m}$, $\rho_2 = 2,7 \cdot 10^{-8} \Omega \cdot \text{m}$, $\rho_3 = 2,4 \cdot 10^{-8} \Omega \cdot \text{m}$, $\rho_4 = 1,6 \cdot 10^{-8} \Omega \cdot \text{m}$. Dacă toate cele patru fire sunt parcurse de curenți electrici de intensități egale, puterea electrică disipată maximă corespunde firului cu rezistivitatea:

- a. ρ_1 b. ρ_2 c. ρ_3 d. ρ_4

II. Rezolvați următoarele probleme:

1. Circuitul electric a cărui diagramă este ilustrată în figura alăturată conține o baterie cu t.e.m. $E = 24\text{V}$ și rezistență internă neglijabilă și trei consumatori având rezistențele electrice $R_1 = 4\Omega$, $R_2 = 2\Omega$ și $R_3 = 6\Omega$. Rezistența firelor de legătură este neglijabilă. Determinați:

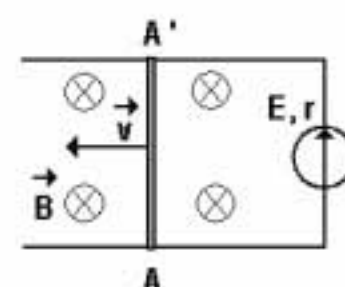
- a. valoarea intensității curentului în ramura principală a circuitului;
b. valoarea căderii de tensiune U_{ab} pe consumatorul R_2 ;
c. puterea electrică disipată în rezistorul cu rezistența R_2 .



15 puncte

2. Un conductor rectiliniu AA' , cu lungimea $L = 1\text{m}$ și rezistența electrică $R = 8\Omega$ alunecă pe două șine conductoare, de rezistență electrică neglijabilă, conectate la bornele unei surse cu t.e.m. $E = 12\text{V}$ și rezistență internă $r = 2\Omega$. Considerați că acest conductor se mișcă cu viteza constantă $v = 4\text{m} \cdot \text{s}^{-1}$, perpendicular pe liniile unui câmp magnetic uniform de inducție $B = 1\text{T}$, așa cum este ilustrat în figura alăturată. Determinați:

- a. sensul și valoarea t.e.m. induse la capetele conductorului AA' ;
b. valoarea intensității curentului electric din circuit;
c. forța necesară pentru menținerea vitezei constante.



15 puncte

Proba E: Specializarea : matematică –informatică, științe ale naturii

Proba F: Profil: tehnic – toate specializările

♦ Sunt obligatorii toți itemii din două arii tematice dintre cele patru prevăzute în programă, adică: A.MECANICĂ, B.ELECTRICITATE ȘI MAGNETISM, C. ELEMENTE DE TERMODINAMICĂ ȘI FIZICĂ MOLECULARĂ, D. OPTICĂ

♦ Se acordă 10 puncte din oficiu.

♦ Timpul efectiv de lucru este de 3 ore.

Varianta 30

B. ELECTRICITATE ȘI MAGNETISM

Permeabilitatea magnetică a vidului are valoarea $\mu_0 = 4\pi \cdot 10^{-7} \text{ N} \cdot \text{A}^{-2}$.

I. Pentru itemii 1-5 scrieți pe foaia de răspuns litera corespunzătoare răspunsului considerat corect

15 puncte

1. Prin relația de definiție, una dintre mărimile fizice de mai jos **NU** este o mărime fizică specifică substanței:

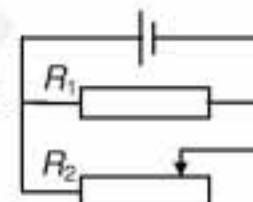
- a. rezistivitatea electrică
- b. fluxul magnetic
- c. permeabilitatea magnetică
- d. coeficientul de temperatură al rezistivității

2. O mărime fizică având expresia $\frac{I}{Snq}$ se măsoară în:

- a. $\text{kg}^{-1} \cdot \text{m}^{-1} \cdot \text{s} \cdot \text{A}$
- b. $\text{m} \cdot \text{s}^{-2} \cdot \text{A}$
- c. $\text{m} \cdot \text{s}^{-1}$
- d. $\text{m}^{-2} \cdot \text{s}^{-1} \cdot \text{A}^{-1}$

3. Pentru schema electrică din figura alăturată, puterea ce se dezvoltă în rezistorul R_1 nu se schimbă prin variația rezistenței R_2 . Rezistența sursei electrice este egală cu:

- a. R_1
- b. R_2
- c. $R_1 R_2 / (R_1 + R_2)$
- d. zero

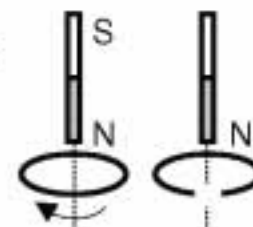


4. Un conductor liniar, parcurs de curent cu intensitatea de 8 A, este așezat sub un unghi de 30° față de liniile câmpului magnetic uniform. Asupra unei porțiuni cu lungimea de 10 cm acționează o forță electromagnetică de modul 0,2 N atunci când inducția câmpului magnetic are valoarea:

- a. 0,5 T
- b. 0,865 T
- c. 1,73 T
- d. 2 mT

5. Doi magneti identici încep să cadă simultan, de la aceeași înălțime, prin inele conductoare fixate la același nivel (fig. alăturată). Dacă primul inel este închis, iar al doilea deschis, atunci:

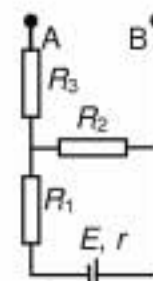
- a. inelul închis este parcurs de curent electric în sensul indicat în figură
- b. t.e.m indusă apare numai în inelul închis
- c. în ambele inele apar linii de câmp electric, curbe închise
- d. la început, magnetul ce străbate inelul închis cade mai repede decât celălalt



II. Rezolvați următoarele probleme:

1. La bornele sursei electrice cu parametri $E = 9 \text{ V}$ și $r = 2,7 \Omega$, sunt conectate trei rezistoare de rezistențe $R_1 = 0,3 \Omega$, $R_2 = 6 \Omega$, $R_3 = 2 \Omega$ (figura alăturată). Se neglijează rezistența firelor de legătură. Determinați:

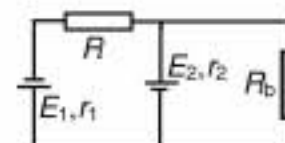
- a. căldura regajată pe rezistența internă a sursei în 5 minute de funcționare;
- b. indicația U_V a unui voltmetru ideal de conectat între punctele A și B;
- c. indicația I_A a unui ampermetru ideal conectat între punctele A și B.



15 puncte

2. Sursele electrice din circuitul reprezentat în figura alăturată au: $E_1 = 6 \text{ V}$, $r_1 = 1 \Omega$, $E_2 = 9 \text{ V}$, $r_2 = 1 \Omega$. Rezistorul are rezistența $R = 3 \Omega$. Pentru bobină, se cunosc: rezistența electrică $R_b = 4 \Omega$, inductanța $L = 100 \text{ mH}$, numărul de spire $N = 1000$ și aria unei spire $S = 100 \text{ mm}^2$ și faptul că nu are miez ($\mu_{\text{aer}} \equiv \mu_0$). Determinați:

- a. intensitățile curenților prin ramurile circuitului;
- b. inducția câmpului magnetic din interiorul bobinei;
- c. variația fluxului magnetic total ce străbate spirele bobinei datorită deschiderii întrerupătorului k.



15 puncte

Proba E: Specializarea : matematică –informatică, științe ale naturii

Proba F: Profil: tehnic – toate specializările

♦ Sunt obligatorii toți itemii din două arii tematice dintre cele patru prevăzute în programă, adică: A.MECANICĂ, B.ELECTRICITATE ȘI MAGNETISM, C. ELEMENTE DE TERMODINAMICĂ ȘI FIZICĂ MOLECULARĂ, D. OPTICĂ

♦ Se acordă 10 puncte din oficiu.

♦ Timpul efectiv de lucru este de 3 ore.

Varianta 31

B. ELECTRICITATE ȘI MAGNETISM

Permeabilitatea magnetică a vidului are valoarea $\mu_0 = 4\pi \cdot 10^{-7} \frac{\text{N}}{\text{A}^2}$.

I. Pentru itemii 1-5 scrieți pe foaia de răspuns litera corespunzătoare răspunsului considerat corect

15 puncte

1. Dacă notațiile sunt cele utilizate în manualele de fizică, unitatea de măsură S.I. a mărimii fizice descrise de relația $\frac{\mu_0 N^2 S}{\ell}$ este:

a. $\frac{\text{J}}{\text{A}^2}$

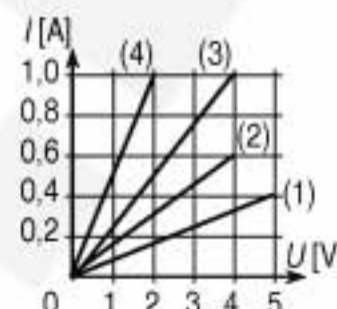
b. $\frac{\text{N}}{\text{A}^2}$

c. $\text{V} \cdot \text{s}$

d. $\frac{\text{N}}{\text{A} \cdot \text{m}}$

2. Dependența intensității curentului electric ce străbate un rezistor având rezistența $R = 4 \Omega$ de tensiunea aplicată la capetele acestuia este redată, în figura alăturată, de:


- a. dreapta (1);
b. dreapta (2);
c. dreapta (3);
d. dreapta (4).



3. O bobină cu miez magnetic având permeabilitatea $\mu = 4\pi \cdot 10^{-4} \frac{\text{N}}{\text{A}^2}$, parcursă de un curent

electric staționar, produce în centrul ei un câmp magnetic cu inducția $B = 2 \text{ T}$. Dacă se dublează intensitatea curentului prin spirele bobinei și se scoate miezul magnetic, valoarea inducției câmpului magnetic din centrul bobinei devine:

- a. 4 T; b. 1 T; c. 4 mT; d. 1 mT.



4. Într-un circuit electric simplu, prin care s-a stabilit un curent continuu cu intensitatea de 2 A, tensiunea la bornele generatorului este 10 V, iar tensiunea electromotoare a generatorului este 12 V. Rezistența interioară a generatorului este:

- a. 1 Ω ; b. 2 Ω ; c. 5 Ω ; d. 6 Ω .

5. Un fir conductor calibrat are rezistența 0,4 Ω . Tăiem conductorul în două fragmente de lungimi egale și legăm cele două fragmente în paralel la două borne A și B (între care nu mai este conectat nici un alt element de circuit). Rezistența electrică între bornele A și B are valoarea:

- a. 0,1 Ω b. 0,2 Ω c. 0,4 Ω d. 0,8 Ω

II. Rezolvați următoarele probleme:

1. Alcătuim un circuit electric simplu în care sursa este reprezentată de o baterie de 12 elemente de acumulator (legate în serie), fiecare având t.e.m. $E_1 = 2 \text{ V}$ și rezistența interioară $r_1 = 0,1 \Omega$, iar consumatorul este un rezistor ohmic. Determinați:

- a. t.e.m. E a bateriei și rezistența sa internă, r ;
b. valoarea R a rezistenței consumatorului, dacă intensitatea curentului din circuit este $I = 2 \text{ A}$;
c. raportul dintre căldura disipată prin efect Joule în consumator și cea disipată prin efect Joule în interiorul sursei, în același interval de timp.

15 puncte

2. Un conductor rectiliniu AB, cu lungimea $\ell = 1 \text{ m}$ și rezistența electrică $R_1 = 8 \Omega$ alunecă (realizând un contact electric perfect) pe două șine conductoare paralele, aflate într-un plan orizontal; rezistența electrică a șinelor este neglijabilă, iar capetele sunt legate printr-un conductor ohmic de rezistență $R_2 = 24 \Omega$. Conductorul se mișcă cu viteza constantă $v = 2 \frac{\text{m}}{\text{s}}$, paralelă cu cele două șine.

Ansamblul este plasat într-un câmp magnetic omogen și uniform cu inducția $B = 1 \text{ T}$, orientat perpendicular pe planul șinelor.

- a. Enunțați legea inducției electromagnetice, numind mărimile care intervin și precizând convențiile de semn pentru acestea.
b. Reprezentați pe un desen sistemul și justificați sensul curentului electric indus în conductorul AB.
c. Calculați valoarea intensității curentului electric din circuit.

15 puncte

EXAMENUL DE BACALAUREAT - 2007

Proba scrisă la Fizică

Proba E: Specializarea : matematică –informatică, științe ale naturii

Proba F: Profil: tehnic – toate specializările

♦ Sunt obligatorii toți itemii din două arii tematice dintre cele patru prevăzute în programă, adică: A.MECANICĂ, B.ELECTRICITATE ȘI MAGNETISM, C. ELEMENTE DE TERMODINAMICĂ ȘI FIZICĂ MOLECULARĂ, D. OPTICĂ

♦ Se acordă 10 puncte din oficiu.

♦ Timpul efectiv de lucru este de 3 ore.

Varianta 32

B. ELECTRICITATE ȘI MAGNETISM

Permeabilitatea magnetică a vidului are valoarea $\mu_0 = 4\pi \cdot 10^{-7} \text{ N/A}^2$.

I. Pentru itemii 1-5 scrieți pe foaia de răspuns litera corespunzătoare răspunsului considerat corect

15 puncte

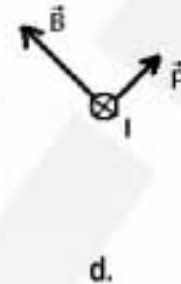
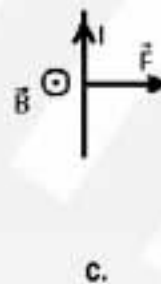
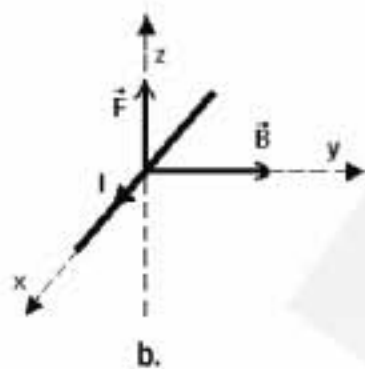
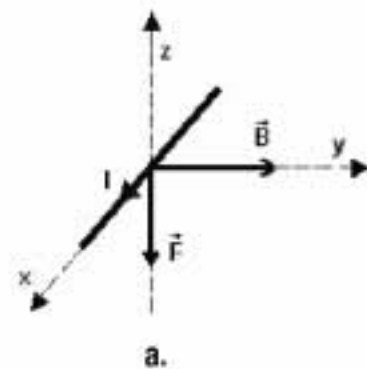
1. Dacă notațiile sunt cele utilizate în manualele de fizică, atunci unitatea de măsură în SI a mărimii fizice exprimată prin relația $\mu \cdot I / (2 \cdot r)$ este:

a. T

b. N/m

c. A/m

d. Wb

2. În figura de mai jos este reprezentată forța electromagnetică exercitată de un câmp magnetic cu inducția \vec{B} asupra unui conductor liniar parcurs de curent electric cu intensitatea I. Este incorectă reprezentarea:3. O sursă cu tensiunea electromotoare $E = 24\text{V}$ având rezistența internă $r = 1\Omega$ alimentează un circuit de rezistență variabilă. Care este valoarea maximă a puterii disipate în circuitul exterior?

a. 120W

b. 144W

c. 256W

d. 300W

4. Fluxul unui câmp magnetic uniform de inducție \vec{B} printr-o suprafață de arie S a cărei normală face un unghi α cu liniile de câmp magnetic este:a. $\Phi = \vec{B} \times \vec{S}$ b. $\Phi = B \cdot S \cdot \sin \alpha$ c. $\Phi = \vec{B} \cdot \vec{S}$ d. $\Phi = \vec{S} \times \vec{B}$

5. Expresia matematică a legii inducției electromagnetice este:

a. $e = -R \frac{\Delta \Phi}{\Delta t}$ b. $e = -\frac{\Delta \Phi}{\Delta t}$ c. $e = L \frac{\Delta \Phi}{\Delta t}$ d. $e = -L \frac{\Delta \Phi}{\Delta t}$

II. Rezolvați următoarele probleme:

1. Pe un miez cilindric de fier cu lungimea $L = 1\text{m}$, raza $R = 2\text{cm}$ și permeabilitatea magnetică relativă $\mu_r = 500$ se bobinează spiră lângă spiră, într-un singur strat, un fir de cupru izolat cu diametrul $d = 0,4\text{mm}$. Determinați:a. inducția câmpului magnetic pe axul bobinei, în cazul când aceasta este parcursă de un curent electric staționar de intensitate $I = 0,2\text{A}$;

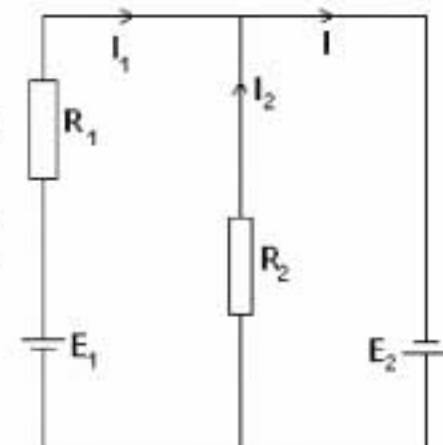
b. inductanța bobinei;

c. rezistența bobinei. Se cunoaște rezistivitatea cuprului $\rho_{Cu} = 1,7 \cdot 10^{-8} \Omega \cdot \text{m}$.

15 puncte

2. Se consideră schema electrică din figura alăturată în care $E_1 = 6\text{V}$, $E_2 = 4\text{V}$, $R_1 = 2\Omega$, $R_2 = 4\Omega$. Considerând că rezistențele interne ale surselor sunt neglijabile, determinați:

a. intensitățile curenților prin fiecare ramură a circuitului;

b. căldura degajată în rezistorul R_2 în timpul $\Delta t = 1\text{min}$;c. diferența de potențial dintre electrodul pozitiv al sursei E_1 și cel negativ al sursei E_2 .

15 puncte

Proba E: Specializarea : matematică –informatică, științe ale naturii

Proba F: Profil: tehnic – toate specializările

♦ Sunt obligatorii toți itemii din două arii tematice dintre cele patru prevăzute în programă, adică: A.MECANICĂ, B.ELECTRICITATE ȘI MAGNETISM, C. ELEMENTE DE TERMODINAMICĂ ȘI FIZICĂ MOLECULARĂ, D. OPTICĂ

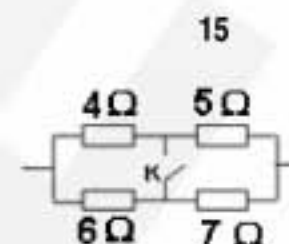
♦ Se acordă 10 puncte din oficiu.

♦ Timpul efectiv de lucru este de 3 ore.

Varianta 33

B. ELECTRICITATE ȘI MAGNETISMPermeabilitatea magnetică a vidului are valoarea $\mu_0 = 4\pi \cdot 10^{-7} \text{ N/A}^2$.**I. Pentru itemii 1-5 scrieți pe foaia de răspuns litera corespunzătoare răspunsului considerat corect puncte**1. Când întrerupătorul K este deschis rezistența electrică echivalentă a grupării este R. Când întrerupătorul este închis, rezistența grupării este R' . Raportul R/R' este:

- a. 1 b. 2,2 c. 3 d. 3,75



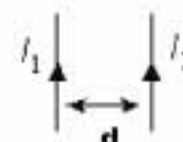
15

2. Un bec și un reostat legate în serie și conectate la o sursă de tensiune continuă consumă împreună 200W. Tensiunea la bornele becului este de 200V iar rezistența reostatului este de 400Ω . Puterea consumată de bec este:

- a. 22W b. 42W c. 65W d. 100W

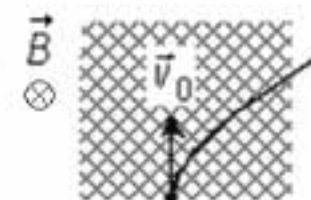
3. Conductoarele din figură se găsesc în aer ($\mu \equiv \mu_0$). Dacă $I_1 = 3A$, $I_2 = 5A$ și $d = 6cm$, inducția magnetică într-un punct situat la 1cm de primul conductor și la 5cm de al doilea conductor are valoarea numerică:

- a. $8 \cdot 10^{-5} T$ b. $4 \cdot 10^{-5} T$ c. $2 \cdot 10^{-5} T$ d. $10^{-5} T$



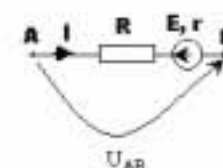
4. O particulă pătrunde perpendicular pe liniile unui câmp magnetic și este deviată ca în figură. Se poate afirma că particula:

- a. este un electron
b. este un proton
c. este un neutron
d. nu poate descrie această traiectorie dacă are sarcină electrică



5. Pentru porțiunea de circuit din figură relația corectă este:

- a. $E = I(R + r)$ b. $U_{AB} - E = I(R + r)$ c. $U_{AB} + E = -I(R + r)$ d. $E - U_{AB} = I(R + r)$

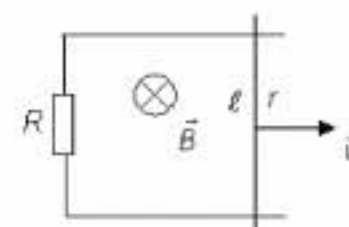
**II. Rezolvați următoarele probleme:**1. La bornele unei surse de tensiune sunt conectați pe rând doi rezistori având rezistențele electrice $R_1 = 1\Omega$ și $R_2 = 4\Omega$. Puterea disipată pe circuitul exterior este de $P = 1,44 \text{ W}$ în ambele cazuri. Determinați:

- a. intensitatea curentului debitat de sursă în fiecare caz;
b. rezistența internă a sursei;
c. puterea maximă pe care o poate debita sursa pe circuitul exterior.

15 puncte

2. O tijă metalică cu lungimea $\ell = 40cm$ și rezistența electrică $r = 0,5\Omega$ se deplasează perpendicular pe liniile unui câmp magnetic uniform având inducția magnetică $B = 0,5T$ cu viteza constantă $v = 0,2 \text{ m/s}$ timp de $\Delta t = 4s$. Determinați:

- a. intensitatea curentului electric în circuit dacă la capetele tijei se leagă un rezistor cu rezistența electrică $R = 1,5\Omega$;
b. energia electrică degajată în circuit;
c. forța care trebuie aplicată tijei, pentru ca aceasta să se miște uniform.



15 puncte

Proba E: Specializarea : matematică –informatică, științe ale naturii

Proba F: Profil: tehnic – toate specializările

♦ Sunt obligatorii toți itemii din două arii tematice dintre cele patru prevăzute în programă, adică: A.MECANICĂ, B.ELECTRICITATE ȘI MAGNETISM, C. ELEMENTE DE TERMODINAMICĂ ȘI FIZICĂ MOLECULARĂ, D. OPTICĂ

♦ Se acordă 10 puncte din oficiu.

♦ Timpul efectiv de lucru este de 3 ore.

Varianța 34

B. ELECTRICITATE ȘI MAGNETISM

Permeabilitatea magnetică a vidului are valoarea $\mu_0 = 4\pi \cdot 10^{-7} \text{ N/A}^2$.

I. Pentru itemii 1-5 scrieți pe foaia de răspuns litera corespunzătoare răspunsului considerat corect

15 puncte

1. La bornele unei surse cu tensiunea electromotoare E și rezistența internă r este legat un rezistor de rezistență R . Tensiunea la bornele sursei este:

- a. $U = E$ b. $U = E - Ir$ c. $U = Ir$ d. $U = E + IR$

2. Între doi conductori rectilinii și paraleli și foarte lungi străbătuți de curenți electrici staționari I_1 și I_2 aflați la distanța d se exercită o forță pe unitatea de lungime:

- a. $\frac{\mu \cdot I_1 \cdot I_2 \cdot d}{2 \cdot \pi}$ b. $\frac{\mu \cdot I_1 \cdot I_2}{d}$ c. $\frac{\mu \cdot d}{\pi \cdot I_1 \cdot I_2}$ d. $\frac{\mu \cdot I_1 \cdot I_2}{2 \cdot \pi \cdot d}$

3. Unitatea de măsură pentru inductanță este:

- a. H b. T c. F d. Wb

4. Care este inducția magnetică în interiorul unei bobine având 10 spire/cm, dacă este străbătută de un curent de 1A și are un miez de fier cu $\mu_r = 200$?

- a. $B = 8\pi \mu T$ b. $B = 8\pi 10^{-6} T$ c. $B = 4\pi 10^{-6} T$ d. $B = 8\pi 10^{-2} T$

5. Doi rezistori cu rezistențele R_1 , respectiv R_2 , conectați pe rând la bornele aceleiași surse de tensiune, consumă aceeași putere. Rezistența internă a sursei este:

- a. $\frac{R_1 + R_2}{2}$ b. $\frac{R_1 - R_2}{2}$ c. $\sqrt{\frac{R_1 + R_2}{2}}$ d. $\sqrt{R_1 R_2}$

II. Rezolvați următoarele probleme:

1. Un conductor cu lungimea de $4m$ și cu secțiunea de $1mm^2$ este legat în paralel cu un alt conductor identic iar gruparea este alimentată de la o sursă de tensiune cu tensiunea electromotoare de $60V$ și rezistența internă r . Fiecare conductor are rezistența electrică de 20Ω . Determinați:

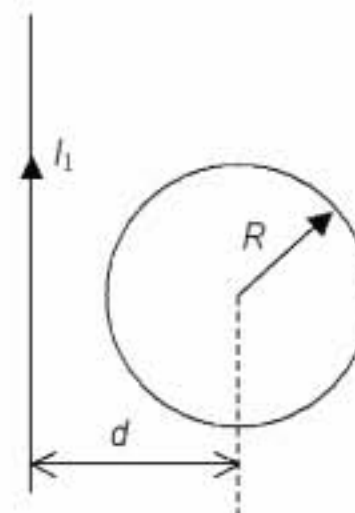
- a. rezistivitatea electrică a materialului din care este confecționat conductorul;
b. rezistența internă a sursei, dacă aceasta transferă circuitului exterior puterea maximă;
c. energia degajată sub formă de căldură în fiecare conductor în intervalul de timp $\Delta t = 1h$, în condițiile de la punctul b.

15 puncte

2. Un conductor rectiliniu foarte lung parcurs de un curent cu intensitatea $I_1 = 20A$ și o spirală circulară cu raza $R = 10cm$ parcursă de un curent cu intensitatea $I_2 = 4A$ sunt coplanare.

Sistemul este plasat în aer ($\mu_{\text{aer}} \equiv \mu_0$). Inducția magnetică în centrul spirei este nulă.

- a. Stabiliți sensul intensității curentului electric prin spirală.
b. Determinați distanța d între centrul spirei și conductorul rectiliniu.
c. Aflați inducția câmpului magnetic rezultat în centrul spirei, după inversarea sensului curentului care o parcurge.



15 puncte

Proba E: Specializarea : matematică –informatică, științe ale naturii

Proba F: Profil: tehnic – toate specializările

♦ Sunt obligatorii toți itemii din două arii tematice dintre cele patru prevăzute în programă, adică: A.MECANICĂ, B.ELECTRICITATE ȘI MAGNETISM, C. ELEMENTE DE TERMODINAMICĂ ȘI FIZICĂ MOLECULARĂ, D. OPTICĂ

♦ Se acordă 10 puncte din oficiu.

♦ Timpul efectiv de lucru este de 3 ore.

Varianța 35

B. ELECTRICITATE ȘI MAGNETISM

Permeabilitatea magnetică a vidului are valoarea $\mu_0 = 4\pi \cdot 10^{-7} \text{ N/A}^2$.

I. Pentru itemii 1-5 scrieți pe foaia de răspuns litera corespunzătoare răspunsului considerat corect

15 puncte

1. Dacă notațiile sunt cele utilizate în manualele de fizică, atunci unitatea de măsură în S.I. a mărimii fizice descrise de relația mv/qB este:

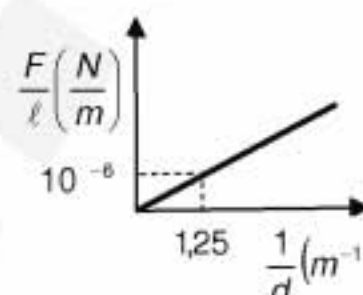
- a. s b. m c. N d. J

2. Un bec de putere $P = 30 \text{ W}$, la bornele căruia, în timpul funcționării, tensiunea este $U = 60 \text{ V}$ are rezistența la 0°C , $R_0 = 37,5 \Omega$. Considerând cunoscut coeficientul de temperatură al rezistivității filamentului $\alpha = 10^{-3} \text{ grad}^{-1}$, temperatura filamentului este:

- a. 2600°C b. 2500°C c. 2400°C d. 2200°C

3. Doi conductori paraleli, foarte lungi, parcurși de curenți electrici staționari de aceeași intensitate sunt plasați în vid. Dependența forței pe unitatea de lungime $\frac{F}{\ell}$ care acționează asupra fiecărui conductor, de inversul distanței dintre conductori, este reprezentată grafic în figura alăturată. Intensitatea curentului care străbate fiecare conductor este:

- a. 2,0 A b. 4,0 A c. 2,5 A d. 3,0 A



4. Rezistența internă a unei surse având tensiunea la funcționarea în gol de 20 V și intensitatea de scurtcircuit de 5 A , este:

- a. 5Ω b. 4Ω c. 2Ω d. 1Ω

5. Valoarea inducției magnetice într-un punct aflat la distanța d de un conductor rectiliniu, foarte lung, plasat în vid, parcurs de un curent de intensitate I este:

- a. $\frac{2\mu_0 I}{\pi d}$ b. $\frac{\mu_0 I}{\pi d}$ c. $\frac{\mu_0 I}{2\pi d}$ d. $\frac{\mu_0 I}{4\pi d}$

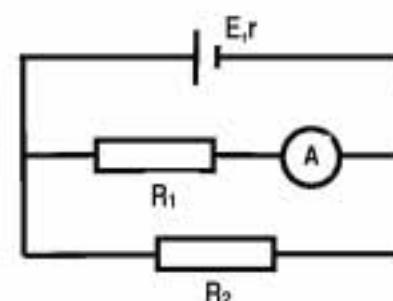
II. Rezolvați următoarele probleme:

1. Se consideră circuitul electric a cărui schemă este reprezentată în figura alăturată. Se cunosc: $E = 24 \text{ V}$, $r = 2 \Omega$, $R_1 = 10 \Omega$. Ampermetrul este ideal, iar conductoarele de legătură au rezistență electrică neglijabilă. Determinați:

a. valoarea rezistenței rezistorului R_2 , știind că ampermetrul indică valoarea $I_1 = 1,5 \text{ A}$;

b. energia consumată de către rezistorul R_2 în intervalul de timp $\Delta t = 10 \text{ minute}$;

c. valoarea rezistenței unui alt rezistor care ar trebui conectat în paralel cu sursa, pentru ca puterea disipată de sursă în circuitul exterior să fie maximă.



15 puncte

2. Un solenoid fără miez magnetic, situat în aer ($\mu_{\text{aer}} \cong \mu_0$), de lungime $\ell = 6 \text{ cm}$, are secțiunea transversală un cerc de rază

$a = 0,64 \left(\cong \frac{2}{\pi} \right) \text{ cm}$. Solenoidul este format prin înfășurarea, fir lângă fir, într-un singur strat, a unui conductor de diametru

$d = 1 \text{ mm}$ și rezistivitate $\rho = 10^{-7} \left(\cong \frac{\pi}{3} \cdot 10^{-7} \right) \Omega \cdot \text{m}$. Conductorul este înconjurat de un înveliș izolator de grosime

neglijabilă, iar capetele sale sunt legate la bornele unei surse de tensiune electromotoare $E = 4 \text{ V}$ și rezistență internă $r = 1,28 \Omega$. Rezistența electrică a firului este neglijabilă. Determinați:

a. lungimea conductorului;

b. intensitatea curentului care trece prin conductor;

c. fluxul magnetic total care străbate spirele solenoidului.

15 puncte

Proba E: Specializarea : matematică –informatică, științe ale naturii

Proba F: Profil: tehnic – toate specializările

♦ Sunt obligatorii toți itemii din două arii tematice dintre cele patru prevăzute în programă, adică: A.MECANICĂ, B.ELECTRICITATE ȘI MAGNETISM, C. ELEMENTE DE TERMODINAMICĂ ȘI FIZICĂ MOLECULARĂ, D. OPTICĂ

♦ Se acordă 10 puncte din oficiu.

♦ Timpul efectiv de lucru este de 3 ore.

Varianta 36

B. ELECTRICITATE ȘI MAGNETISMPermeabilitatea magnetică a aerului și a vidului au valoarea: $\mu_{\text{aer}} = \mu_0 = 4\pi \cdot 10^{-7} \text{ N/A}^2$.**I. Pentru itemii 1-5 scrieți pe foaia de răspuns litera corespunzătoare răspunsului considerat corect****15 puncte**

1. Considerând că notațiile pentru mărimi fizice și unități de măsură sunt cele utilizate în manualele de fizică, unitatea de măsură a rezistenței electrice, în funcție de unitățile S.I. ale mărimilor fundamentale, este:

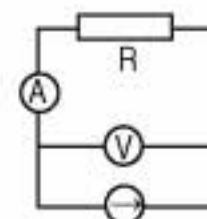
- a. $\langle R \rangle = \text{kgm}^2 \text{A}^{-2} \text{s}^{-3}$ b. $\langle R \rangle = \text{kgmA}^{-1} \text{s}^{-2}$ c. $\langle R \rangle = \text{kgm}^{-1} \text{A}^{-1} \text{s}^{-1}$ d. $\langle R \rangle = \text{kg}^{-1} \text{mA}^{-2} \text{s}$

2. Considerând că notațiile pentru mărimi fizice și unități de măsură sunt cele utilizate în manualele de fizică, mărimea fizică măsurată în Wb este:

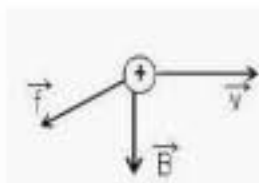
- a. inducția magnetică b. fluxul magnetic c. inductanța unui circuit d. puterea electrică

3. În circuitul din figura alăturată aparatele de măsură sunt ideale. Prin scurtcircuitarea ampermetrului:

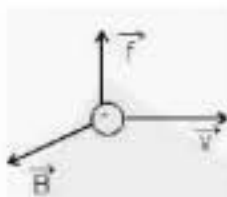
- a. tensiunea la bornele voltmetrului devine nulă
b. prin rezistor nu mai trece curent
c. intensitatea curentului prin rezistor crește
d. intensitatea curentului prin rezistor nu se modifică

4. În figurile de mai jos este reprezentată forța Lorentz ce acționează asupra unei particule încărcată electric ce se deplasează cu viteza \vec{v} într-un câmp magnetic de inducție \vec{B} . Care dintre ele este corectă?

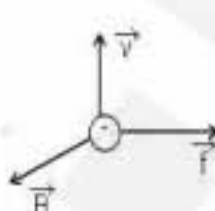
a.



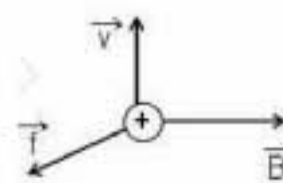
b.



c.



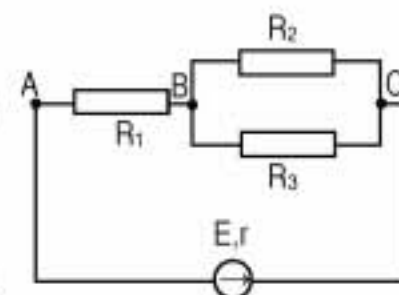
d.

5. Tensiunea electromotoare indusă într-un conductor, de lungime l , care se deplasează cu viteza v perpendicular pe liniile unui câmp magnetic de inducție B este:

- a. $B^2 \ell^2 v$ b. $B \ell v$ c. $B \ell / v$ d. $B / \ell v$

II. Rezolvați următoarele probleme:1. În circuitul din figura alăturată se cunosc: $R_1 = 40 \, \Omega$, $R_2 = 60 \, \Omega$, $R_3 = 30 \, \Omega$ și $r = 10 \, \Omega$. Intensitatea curentului prin R_2 este $I_2 = 0,2 \, \text{A}$. Determinați:

- a. tensiunea între punctele B și C;
b. t.e.m. a sursei;
c. rezistența electrică R_x care ar trebui legată între punctele A și C pentru ca sursa să debiteze în circuitul exterior o putere maximă.

**15 puncte**2. O bobină din sârmă de crom-nichel ($\rho = 10^{-6} \, \Omega \text{m}$) cu secțiunea $S = 1 \text{ mm}^2$ este bobinată pe un suport cilindric izolator, gol în interior, cu diametrul $D = 7,96 \text{ cm} \approx \frac{25}{\pi} \text{ cm}$, având $n = 8$ spire/cm. Bobina este legată la o sursă cu t.e.m. de $E = 10 \, \text{V}$ curezistența internă neglijabilă. Intensitatea curentului prin bobină are valoarea $I = 0,2 \, \text{A}$. Determinați:

- a. rezistența electrică a bobinei;
b. valoarea inducției câmpului magnetic din interiorul bobinei;
c. t.e.m. autoindusă în bobină dacă intensitatea curentului scade liniar la zero în intervalul de timp $\Delta t = 2 \text{ s}$.

15 puncte

Proba E: Specializarea : matematică –informatică, științe ale naturii

Proba F: Profil: tehnic – toate specializările

♦ Sunt obligatorii toți itemii din două arii tematice dintre cele patru prevăzute în programă, adică: A.MECANICĂ, B.ELECTRICITATE ȘI MAGNETISM, C. ELEMENTE DE TERMODINAMICĂ ȘI FIZICĂ MOLECULARĂ, D. OPTICĂ

♦ Se acordă 10 puncte din oficiu.

♦ Timpul efectiv de lucru este de 3 ore.

Varianta 37

B. ELECTRICITATE ȘI MAGNETISMPermeabilitatea magnetică a vidului are valoarea $\mu_0 = 4\pi \cdot 10^{-7} \text{ N/A}^2$.**I. Pentru itemii 1-5 scrieți pe foaia de răspuns litera corespunzătoare răspunsului considerat corect****15 puncte**1. Dacă notațiile sunt cele utilizate în manualele de fizică, atunci unitatea de măsură în S.I. a mărimii fizice descrise de relația $\frac{F}{il}$

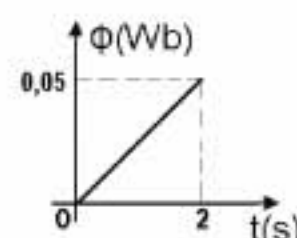
este:

a. Wb

b. H

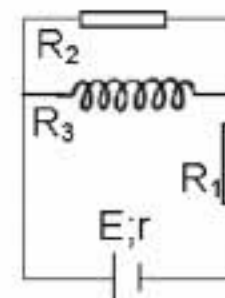
c. T

d. V

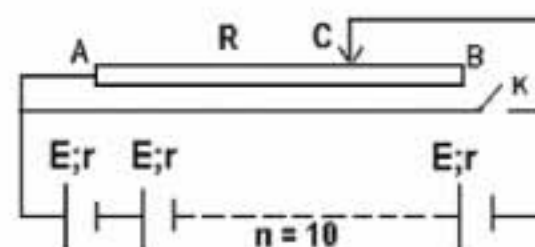
2. O sursă având rezistența internă $r = 8 \Omega$ disipă pe un rezistor de rezistență $R = 16 \Omega$ o putere P . Rezistența unui alt rezistor pe care sursa va disipa aceeași putere are valoarea:a. 4Ω b. 8Ω c. 16Ω d. 20Ω 3. Coeficientul de temperatură α al unui rezistor a cărui rezistență la cald, la o temperatură t_2 este $R_2 = n R_1$, R_1 fiind rezistența la rece la o temperatură t_1 are expresia:a. $\frac{n-1}{t_1}$ b. $\frac{n-1}{t_2 - nt_1}$ c. $\frac{n-1}{t_2}$ d. $\frac{n}{t_2 - t_1}$ 4. Fluxul magnetic printr-o spirală a unei bobine cu $N = 100$ de spire variază în timp conform graficului alăturat. Valoarea tensiunii electromotoare induse în bobină este:a. $-0,025 \text{ V}$ b. $-2,5 \text{ V}$ c. $0,025 \text{ V}$ d. $2,5 \text{ V}$ 5. O spirală conductoare de rază r parcursă de un curent electric staționar cu intensitatea I este situată în vid. Inducția magnetică în centrul spirei are valoarea:a. $\frac{\mu_0 r I}{2}$ b. $\frac{\mu_0 I}{4r}$ c. $\frac{\mu_0 I}{2\pi r}$ d. $\frac{\mu_0 I}{2r}$ **II. Rezolvați următoarele probleme:**1. Circuitul electric a cărui diagramă este ilustrată în figura alăturată conține o sursă cu t.e.m. $E = 100 \text{ V}$ și rezistență internă $r = 0,2 \Omega$ și doi rezistori având rezistențele electrice $R_1 = 45 \Omega$, $R_2 = 8 \Omega$ și un solenoid cu $N = 200$ de spire, lungimea $l = 0,314 \text{ m}$, diametrul $d = 10 \text{ cm}$ și rezistența $R_3 = 12 \Omega$. Determinați:a. intensitățile curentilor electrice care străbat rezistențele R_1 , R_2 și R_3 ;

b. valoarea inducției magnetice pe axul solenoidului;

c. fluxul magnetic care străbate secțiunea unei spire.

**15 puncte**2. O baterie formată din $n = 10$ elemente identice legate în serie, fiecare element având t.e.m. $E = 1,5 \text{ V}$ și rezistența internă $r = 0,2 \Omega$ este conectată la un reostat cu rezistența electrică variabilă între 0 și $R = 15 \Omega$ și lungimea $l = 15 \text{ cm}$. Determinați:a. valoarea intensității curentului electric prin circuit dacă întrerupătorul K este deschis și distanța AC este $x = 13 \text{ cm}$;b. energia electrică disipată pe circuitul exterior în timpul $t = 5 \text{ minute}$, în cazul punctului a;

c. valoarea intensității curentului electric stabilit prin baterie la închiderea întrerupătorului K.

**15 puncte**

Proba E: Specializarea : matematică –informatică, științe ale naturii

Proba F: Profil: tehnic – toate specializările

♦ Sunt obligatorii toți itemii din două arii tematice dintre cele patru prevăzute în programă, adică: A.MECANICĂ, B.ELECTRICITATE ȘI MAGNETISM, C. ELEMENTE DE TERMODINAMICĂ ȘI FIZICĂ MOLECULARĂ, D. OPTICĂ

♦ Se acordă 10 puncte din oficiu.

♦ Timpul efectiv de lucru este de 3 ore.

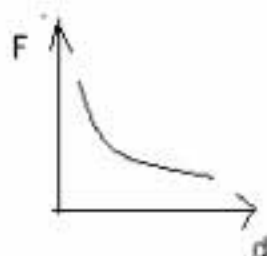
Varianta 38

B.ELECTRICITATE ȘI MAGNETISM

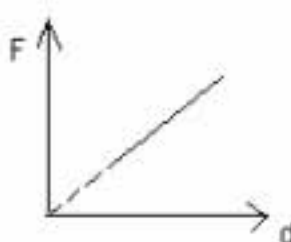
Permeabilitatea magnetică a vidului are valoarea $\mu_0 = 4\pi \cdot 10^{-7} \frac{N}{A^2}$. Se va considera în calcule $\pi^2 = 10$.

I. Pentru itemii 1-5 scrieți pe foaia de răspuns litera corespunzătoare răspunsului considerat corect.**15 puncte**

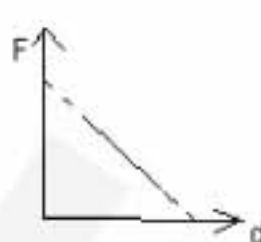
1. Forța de interacțiune dintre doi conductori paraleli aflați în vid, parcurși de curenți constanți (forța electrodinamică) depinde de distanța dintre conductori în conformitate cu figura:



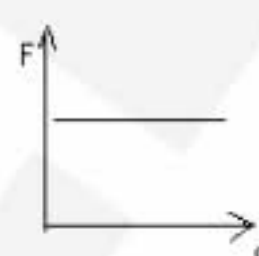
a.



b.



c.



d.

2. Un generator cu tensiunea electromotoare E și rezistența internă r alimentează un circuit format din n consumatori identici legați în paralel. Valoarea rezistenței electrice a fiecărui consumator pentru ca puterea debitată de generator pe circuitul exterior să fie maximă este:

a. r/n b. nr c. r/n^2 d. m^2

3. Unitatea de măsură exprimată în S.I. prin $kgm^2A^{-2}s^{-2}$ se folosește pentru mărimea fizică:

a. tensiune electrică

b. inducție magnetică

c. inductanță

d. flux magnetic

4. Expresia corectă a forței cu care un câmp magnetic uniform de inducție \vec{B} acționează asupra unei particule încărcate cu sarcina q și masa m care se mișcă cu viteza \vec{v} este:

a. $\vec{f} = q\vec{B} \times \vec{v}$ b. $\vec{f} = qm\vec{v} \times \vec{B}$ c. $\vec{f} = q\vec{v} \cdot \vec{B}$ d. $\vec{f} = q\vec{v} \times \vec{B}$

5. Într-o locuință oarecare principalii consumatori de energie electrică au o putere totală de 4 kW iar consumul mediu lunar de energie electrică este de 432 MJ. Timpul mediu de funcționare a consumatorilor este:

a. 30 zile

b. 108 h

c. 30 h

d. $108 \cdot 10^2$ s**II. Rezolvați următoarele probleme:**

1. O instalație pentru pomul de iarnă este alcătuită din $n = 3$ ghirlande de beculi legate în paralel, fiecare conținând câte $k = 20$ de beculi legate în serie. Becurile sunt identice și au parametri nominali $U_0 = 3,5$ V, respectiv $I_0 = 200$ mA. Pentru funcționarea normală prin alimentarea la rețea cu $U = 220$ V se folosește un consumator adițional legat în mod convenabil cu instalația.

a. Desenați schema propusă pentru utilizare.

b. Calculați rezistența consumatorului folosit.

c. Determinați puterea totală consumată de instalația de iluminare.

15 puncte

2. Un solenoid cu miez de fier ($\mu_r = 400$) are diametrul $D = 1$ cm, lungimea porțiunii bobinate $l = 5$ cm, $N = 10^3$ spire și este realizat din sârmă de cupru emailată cu diametrul $d = 1$ mm și rezistivitatea $\rho = 1,75 \cdot 10^{-8} \Omega m$. Pentru alimentare se folosește un generator cu tem $E = 1$ V și rezistența internă $r = 0,3 \Omega$. Coaxial cu miezul solenoidului se așază un inel conductor din aluminiu paralel cu spirele acestuia, suspendat în echilibru prin intermediul unui fir de mătase. Nu există nici un contact cu miezul sau cu spirele deci frecările pot fi neglijate. Schema electrică a circuitului conține și un întrerupător, inițial deschis. Determinați:

a. intensitatea I a curentului prin solenoid în regim staționar;

b. fluxul magnetic total prin miezul solenoidului în timp ce întrerupătorul este închis;

c. valoarea medie a tem induse în inel prin deschiderea întrerupătorului în timpul $\Delta t = 200$ ms.**15 puncte**

Proba E: Specializarea : matematică –informatică, științe ale naturii

Proba F: Profil: tehnic – toate specializările

♦ Sunt obligatorii toți itemii din două arii tematice dintre cele patru prevăzute în programă, adică: A.MECANICĂ, B.ELECTRICITATE ȘI MAGNETISM, C. ELEMENTE DE TERMODINAMICĂ ȘI FIZICĂ MOLECULARĂ, D. OPTICĂ

♦ Se acordă 10 puncte din oficiu.

♦ Timpul efectiv de lucru este de 3 ore.

Varianta 39

B. ELECTRICITATE ȘI MAGNETISMPermeabilitatea magnetică a vidului are valoarea $\mu_0 = 4\pi \cdot 10^{-7} \text{ N/A}^2$.**I. Pentru itemii 1-5 scrieți pe foaia de răspuns litera corespunzătoare răspunsului considerat corect****15 puncte**

1. Notățiile fiind cele din manualele de fizică, unitatea de măsură a intensității curentului electric se definește plecând de la relația:

a. $I = \frac{q}{t}$

b. $I = \frac{U}{R}$

c. $\Phi = LI$

d. $F = \frac{\mu I_1 I_2 l}{2\pi r}$

2. Conform regulii lui Lenz, curentul indus:

a. are un astfel de sens încât variația fluxului magnetic indus favorizează variația fluxului magnetic inductor

b. are întotdeauna același sens cu cel al curentului inductor

c. are un astfel de sens încât variația fluxului magnetic indus se opune variației fluxului magnetic inductor

d. nu are niciodată același sens cu cel al curentului inductor

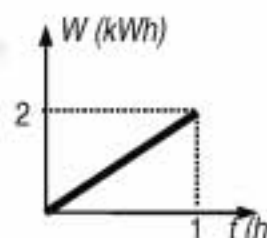
3. La bornele unui reșou electric este aplicată o tensiune electrică constantă $U = 200 \text{ V}$. Căldura degajată de reșou variază în timp conform graficului din figura alăturată. Rezistența reșoului are valoarea:

a. 20Ω

b. 40Ω

c. $7,2 \text{ k}\Omega$

d. $20 \text{ k}\Omega$

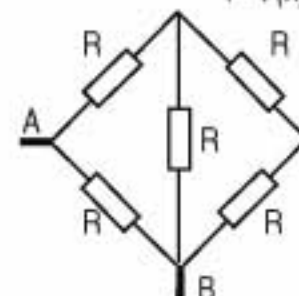
4. Rezistoarele din figura alăturată sunt identice și au rezistența electrică $R = 10 \Omega$. Rezistența echivalentă între punctele A și B ale grupării de rezistoare este:

a. 2Ω

b. $4,25 \Omega$

c. $6,25 \Omega$

d. 10Ω

5. Fluxul magnetic prin suprafața unei spire conductoare de rază $r = 20 \text{ cm}$, aflată în câmp magnetic uniform, este $\Phi = 31,4 \text{ mWb}$.Dacă suprafața spirei formează unghiul $\alpha = 30^\circ$ cu direcția liniilor de câmp, atunci inducția câmpului magnetic este de aproximativ:

a. $2,89 \cdot 10^{-1} \text{ T}$

b. $0,5 \text{ T}$

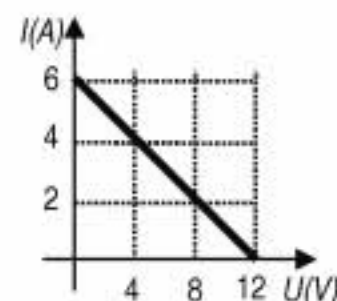
c. $2,89 \text{ T}$

d. 500 T

II. Rezolvați următoarele probleme:1. La bornele unei surse cu tensiunea electromotoare E și rezistența internă r se leagă un rezistor R cu rezistența variabilă. Figura alăturată arată cum depinde intensitatea curentului electric din circuit de tensiunea la bornele sursei dacă variem rezistența rezistorului. Rezistența firelor de legătură se neglijează. Determinați:a. rezistența rezistorului R când tensiunea la borne este $U = 8 \text{ V}$;

b. rezistența internă a sursei;

c. tensiunea la bornele sursei pentru care puterea degajată de aceasta pe circuitul exterior este maximă.

**15 puncte**2. Un conductor liniar de lungime $L = 1 \text{ m}$ face parte dintr-un circuit electric închis, cu rezistența electrică totală $R = 0,5 \Omega$. Conductorul este deplasat cu viteza $v = 6 \text{ m/s}$ într-un câmp magnetic omogen cu inducția $B = 100 \text{ mT}$. Conductorul este orientat perpendicular pe liniile de câmp, iar vectorul viteză formează un unghi $\alpha = 30^\circ$ cu direcția liniilor de câmp. Determinați:

a. tensiunea electrică indusă în conductor;

b. forța necesară pentru deplasarea conductorului;

c. căldura degajată pe întregul circuit la deplasarea conductorului pe distanța de $d = 1 \text{ m}$.**15 puncte**

Proba E: Specializarea : matematică –informatică, științe ale naturii

Proba F: Profil: tehnic – toate specializările

♦ Sunt obligatorii toți itemii din două arii tematice dintre cele patru prevăzute în programă, adică: A.MECANICĂ, B.ELECTRICITATE ȘI MAGNETISM, C. ELEMENTE DE TERMODINAMICĂ ȘI FIZICĂ MOLECULARĂ, D. OPTICĂ

♦ Se acordă 10 puncte din oficiu.

♦ Timpul efectiv de lucru este de 3 ore.

Varianta 40

B. ELECTRICITATE ȘI MAGNETISMPermeabilitatea magnetică a vidului are valoarea $\mu_0 = 4\pi \cdot 10^{-7} \text{ N/A}^2$ **I. Pentru itemii 1-5 scrieți pe foaia de răspuns litera corespunzătoare răspunsului considerat corect.****15 puncte**1. Dacă notațiile sunt cele utilizate în manualele de fizică, unitatea de măsură în S.I. a mărimii fizice descrise de expresia $U \cdot I \cdot t$ este:

- a. Nm b. W c. kW d. kWh

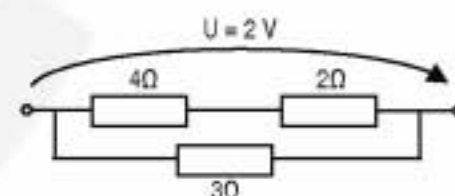
2. Un fir de alamă cu rezistență electrică $R = 800 \, \Omega$, rezistivitatea $\rho = 8 \cdot 10^{-8} \, \Omega \text{m}$ și aria secțiunii transversale $S = 0,1 \, \text{mm}^2$ are lungimea:

- a. 10 m. b. 100 m. c. 1 km. d. 10 km.

3. Un câmp magnetic omogen cu inducția $B = 10^{-1} \text{ T}$ este incident pe o spirală circulară cu raza $r = 1 \text{ m}$, sub un unghi de 45° față de normală. Fluxul magnetic al inducției este:

- a. 0,111 Wb. b. 0,221 Wb. c. 0,331 Wb. d. 0,441 Wb

4. În figura alăturată este prezentată o porțiune dintr-un circuit electric de curent continuu. Puterea disipată în porțiunea de circuit este:



- a. 4 W b. 3 W c. 2 W d. 1 W

5. Inducția magnetică pe axul unei bobine lungi cu un singur strat, spirală lângă spirală, cu numărul de spire pe unitatea de lungime $n = N/\ell$, parcursă de un curent electric cu intensitatea I este:

- a. $\frac{\mu \cdot n \cdot I}{S}$ b. $\mu \cdot n \cdot \ell$ c. $\mu \cdot n \cdot I$ d. $\mu \cdot n \cdot \ell \cdot S$

II. Rezolvați următoarele probleme:1. Trei rezistoare electrice identice cu rezistența $R=3 \, \Omega$ fiecare sunt grupate în toate modurile posibile la bornele unei surse cu tensiunea electromotoare $E=10 \text{ V}$ și rezistența internă $r = 1 \, \Omega$. Determinați:

- a. pentru care dintre montaje puterea debitată în circuitul exterior este cea mai mică și care este această putere ;
b. tensiunea pe fiecare rezistor în acest caz ;
c. intensitatea curentului când sursa este scurtcircuitată și puterea disipată de sursă în regim de scurtcircuit.

15 puncte2. Un conductor liniar lung și izolat, aflat în aer ($\mu = \mu_0$), este parcurs de un curent $I_1 = 31,4 \text{ A}$. Tangent la el se află un conductor circular izolat (spirală circulară), cu raza $r = 1 \text{ cm}$ parcurs de un curent $I_2 = 20 \text{ A}$. Inițial conductorul liniar este situat în planul conductorului circular. Determinați:

- a. inducția magnetică în centrul conductorului circular ;
b. noua inducție în centrul spirei, dacă aceasta este rotită cu 90° în jurul diametrului care are direcția spre conductorul liniar ;
c. tensiunea electromotoare indusă medie în spirală dacă sistemul este introdus într-un câmp magnetic omogen cu inducția de $0,1 \text{ T}$ în timp de $0,1 \, \mu\text{s}$.

15 puncte

Proba E: Specializarea : matematică –informatică, științe ale naturii

Proba F: Profil: tehnic – toate specializările

♦ Sunt obligatorii toți itemii din două arii tematice dintre cele patru prevăzute în programă, adică: A.MECANICĂ, B.ELECTRICITATE ȘI MAGNETISM, C. ELEMENTE DE TERMODINAMICĂ ȘI FIZICĂ MOLECULARĂ, D. OPTICĂ

♦ Se acordă 10 puncte din oficiu.

♦ Timpul efectiv de lucru este de 3 ore.

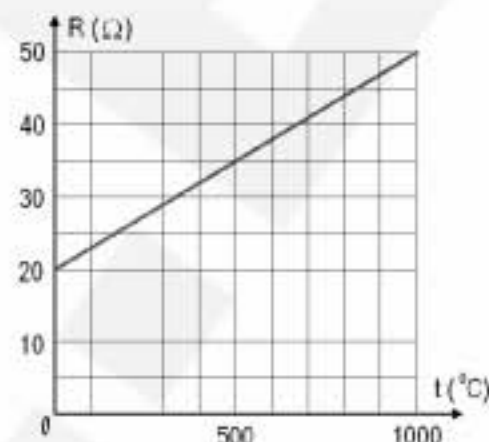
Varianta 41

B. ELECTRICITATE ȘI MAGNETISMPermeabilitatea magnetică a vidului are valoarea $\mu_0 = 4\pi \cdot 10^{-7} \text{ N/A}^2$.**I. Pentru itemii 1-5 scrieți pe foaia de răspuns litera corespunzătoare răspunsului considerat corect****15 puncte**1. Dacă notațiile sunt cele utilizate în manualele de fizică, unitatea de măsură în S.I. a mărimii fizice exprimată prin relația $\rho \ell / S$ este:

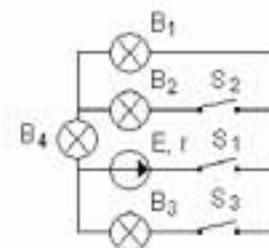
- a. $\text{kg} \cdot \text{m}^{-4}$ b. $\text{V} \cdot \text{A}$ c. A/V d. Ω

2. Dependența rezistenței electrice R a unui conductor metalic de temperatură este reprezentată în figura alăturată. Valoarea rezistenței la temperatura de 0°C , așa cum rezultă din diagramă este:

- a. 15Ω b. 20Ω c. 25Ω d. 30Ω

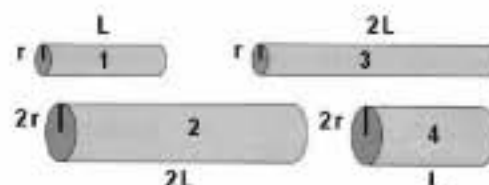
3. Expresia prin care se poate calcula inductanța unui bobine cu N spire pe o lungime ℓ , arie transversală S și cu miez de permeabilitate relativă μ_r , parcursă de curent electric cu intensitatea I , se calculează prin expresia:

- a. $\mu_0 \mu_r \frac{NI}{\ell}$ b. $\mu_0 \mu_r \frac{N^2 S}{\ell}$ c. $\mu_0 \mu_r \frac{NS}{\ell}$ d. $\mu_0 \mu_r \frac{N^2 I}{\ell}$

4. Considerați circuitul electric a cărui diagramă este reprezentată în figura alăturată. Rezistențele electrice ale becurilor sunt egale. După închiderea întrerupătoarelor S_1 și S_3 , menținând S_2 deschis, despre curenții electrici care alimentează becurile, se poate afirma:

- a. prin B_1 și B_2 curenții au intensități egale
b. prin B_1 și B_4 curenții au intensități egale
c. prin B_1 , B_2 și B_4 curenții sunt nuli
d. prin B_1 , B_3 și B_4 curenții au intensități egale

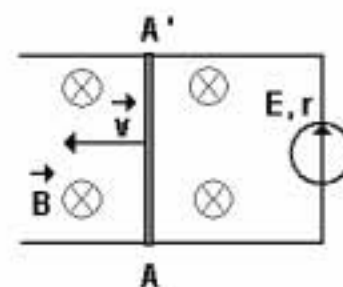
5. Figura alăturată ilustrează patru fire metalice, de lungimi și raze diferite. Dacă toate cele patru fire sunt confecționate din același material și prin conductoare circulă curenți de intensități egale în lungul firelor, atunci cea mai mare valoare a căldurii disipate prin efect Joule, într-un același interval de timp, corespunde firului:



- a. 1 b. 2 c. 3 d. 4

II. Rezolvați următoarele probleme:1. O sursă de tensiune cu t.e.m. $E=10\text{V}$ și rezistență interioară $r=1\Omega$ alimentează un circuit format din doi consumatori cu rezistențele electrice R_1 și R_2 . Dacă se conectează consumatorii în serie, intensitatea curentului prin generator este $I_s = 2,5\text{A}$, iar la conectarea consumatorilor în paralel, intensitatea devine $I_p = 6\text{A}$. Determinați:

- a. tensiunea la bornele sursei de tensiune în cele două cazuri;
b. valorile rezistențelor electrice ale celor doi consumatori;
c. puterea electrică totală disipată de sursă în cele două situații.

15 puncte2. Un conductor rectiliniu AA' , cu lungimea $L=1\text{m}$ și rezistența electrică $R=8\Omega$ alunecă pe două șine conductoare, de rezistență electrică neglijabilă, conectate la bornele unei surse cu t.e.m. $E=12\text{V}$ și rezistență internă $r=2\Omega$. Considerați că acest conductor se mișcă cu viteza constantă $v=4\text{m/s}$, perpendicular pe liniile unui câmp magnetic uniform de inducție $B=1\text{T}$, așa cum este ilustrat în figura alăturată. Determinați:

- a. sensul curentului electric indus în conductorul AA' ;
b. t.e.m. indusă la capetele conductorul AA' ;
c. valoarea intensității curentului electric din circuit.

15 puncte

Proba E: Specializarea : matematică –informatică, științe ale naturii

Proba F: Profil: tehnic – toate specializările

♦ Sunt obligatorii toți itemii din două arii tematice dintre cele patru prevăzute în programă, adică: A.MECANICĂ, B.ELECTRICITATE ȘI MAGNETISM, C. ELEMENTE DE TERMODINAMICĂ ȘI FIZICĂ MOLECULARĂ, D. OPTICĂ

♦ Se acordă 10 puncte din oficiu.

♦ Timpul efectiv de lucru este de 3 ore.

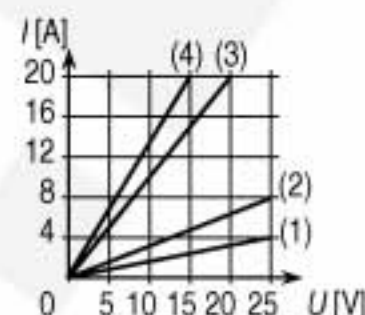
Varianta 42

B. ELECTRICITATE ȘI MAGNETISMPermeabilitatea magnetică a vidului are valoarea $\mu_0 = 4\pi \cdot 10^{-7} \frac{\text{N}}{\text{A}^2}$.**I. Pentru itemii 1-5 scrieți pe foaia de răspuns litera corespunzătoare răspunsului considerat corect****15 puncte**1. Dacă notațiile sunt cele utilizate în manualele de fizică, unitatea de măsură S.I. a mărimii fizice descrise de relația $B \cdot S \cdot \cos \alpha$ este:

- a. $\frac{\text{J}}{\text{A}^2}$ b. $\frac{\text{N}}{\text{A}^2}$ c. $\frac{\text{N} \cdot \text{m}}{\text{A}}$ d. $\frac{\text{N}}{\text{A} \cdot \text{m}}$

2. Valorile rezistențelor conductoarelor ohmice notate cu (1), (2), (3) și (4) ale căror caracteristici intensitate-tensiune sunt indicate în figura alăturată se află în același raport cu numerele:

- a. 4:3:2:1
b. 50:25:20:15
c. 24:12:4:3
d. 50:25:8:6

3. Un circuit electric simplu este realizat dintr-un generator cu t.e.m. E și rezistența interioară de 6Ω și un reostat. Când rezistența reostatului este 6Ω tensiunea la bornele sale este U . Triplând rezistența reostatului tensiunea la bornele sale devine:

- a. de 3 ori mai mare b. de 3 ori mai mică c. de 1,5 ori mai mare d. de 1,5 ori mai mică

4. Bobina primară a unui transformator electric are volumul 10 cm^3 ocupat în întregime de un miez magnetic cupermeabilitatea $\mu = 10^{-3} \frac{\text{N}}{\text{A}^2}$ și este bobinată cu 100 de spire pe centimetru. Inductanța acestei bobine este:

- a. 0,1 mH b. 1 mH c. 1 H d. 10 H

5. Două bobine cu inductanțele L_1 și $L_2 = 2L_1$, sunt parcurse de curenți electrici staționari cu intensitățile I_1 și $I_2 = 2I_1$. Întrerupând circuitele, se observă că t.e.m. induse la bornele celor două bobine sunt egale. Intervalele de timp t_1 și, respectiv t_2 în care intensitățile curenților electrici prin bobine scad liniar până la valoarea zero se află în relația:

- a. $t_1 = t_2$ b. $t_1 = 2t_2$ c. $t_2 = 2t_1$ d. $t_2 = 4t_1$

II. Rezolvați următoarele probleme:1. Un circuit electric simplu este format dintr-un generator cu t.e.m. E și rezistența interioară $r = 2 \Omega$; consumatorul este un reostat. Dacă intensitatea curentului din circuit este $I_1 = 2 \text{ A}$ sau $I_2 = 8 \text{ A}$, puterea disipată prin efect Joule în reostat are aceeași valoare P .

- a. Enunțați legea lui Joule și scrieți expresia sa matematică sub două forme diferite.
b. Determinați t.e.m. a generatorului, E .
c. Calculați valoarea puterii disipate în reostat, P .

**15 puncte**2. Un conductor rectiliniu MN, cu lungimea $\ell = 50 \text{ cm}$ și rezistența electrică $R_1 = 1 \Omega$ alunecă (realizând un contact electric perfect) pe două șine conductoare paralele și orizontale, cu viteza constantă $v = 3 \frac{\text{m}}{\text{s}}$, paralelă cu ele; rezistența electrică a șinelor este neglijabilă. Ansamblul este plasat într-un câmp magnetic omogen și uniform cu inducția $B = 2 \text{ T}$, perpendicular pe planul șinelor.

- a. Calculați tensiunea electrică dintre capetele conductorului MN.
b. Reprezentați pe un desen sistemul și indicați cum se schimbă polaritatea t.e.m. induse în conductorul MN dacă inversăm fie sensul câmpului magnetic, fie sensul vitezei conductorului, fie ambele.
c. Calculați valoarea tensiunii dintre capetele conductorului MN dacă șinele sunt legate printr-un rezistor având rezistența $R_2 = 2 \Omega$.

15 puncte

Proba E: Specializarea : matematică –informatică, științe ale naturii

Proba F: Profil: tehnic – toate specializările

♦ Sunt obligatorii toți itemii din două arii tematice dintre cele patru prevăzute în programă, adică: A.MECANICĂ, B.ELECTRICITATE ȘI MAGNETISM, C. ELEMENTE DE TERMODINAMICĂ ȘI FIZICĂ MOLECULARĂ, D. OPTICĂ

♦ Se acordă 10 puncte din oficiu.

♦ Timpul efectiv de lucru este de 3 ore.

Varianța 43

B. ELECTRICITATE ȘI MAGNETISM

Se cunoaște $\mu_0 = 4 \cdot \pi \cdot 10^{-7} \text{ N/A}^2$, $g = 10 \text{ m/s}^2$

I. Pentru itemii 1-5 scrieți pe foaia de răspuns litera corespunzătoare răspunsului considerat corect.

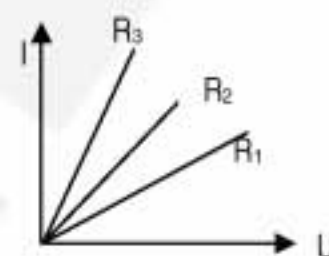
15 puncte

1. Unitatea de măsură pentru inducția câmpului magnetic în funcție de unitățile de măsură ale mărimilor fundamentale este :

- a. $\text{kg} \cdot \text{s}^{-2} \cdot \text{A}^{-1}$ b. $\text{m}^3 \cdot \text{kg} \cdot \text{s}^{-3}$ c. $\text{kg} \cdot \text{s}^{-2} \cdot \text{A}$ d. $\text{m}^2 \cdot \text{kg} \cdot \text{s}^{-2} \cdot \text{A}^{-1}$

2. Caracteristicile curent-tensiune pentru trei rezistori având rezistențele electrice R_1 , R_2 și R_3 sunt prezentate în figura alăturată. Între valorile rezistențelor există relația:

- a. $R_1 > R_2 > R_3$ b. $R_1 > R_3 > R_2$ c. $R_1 > R_2 = R_3$ d. $R_1 < R_2 < R_3$



3. Doi conductori paraleli, foarte lungi, situați în aer ($\mu_{\text{aer}} \equiv \mu_0$) la distanța de 20cm unul de celălalt, sunt parcurși de curenți de același sens având fiecare intensitatea de 4A. Pe fiecare porțiune de lungime $l = 1\text{m}$ a conductoarelor se exercită o forță de:

- a. 10^{-6} N b. $16 \cdot 10^{-6} \text{ N}$ c. $30 \cdot 10^{-6} \text{ N}$ d. $32 \cdot 10^{-6} \text{ N}$

4. La bornele unei surse cu tensiunea electromotoare $E = 12\text{V}$ și rezistența internă r , se conectează două voltmetre identice legate în paralel. Voltmetrele vor indica fiecare tensiunea $U = 6\text{V}$. Dacă se conectează la bornele sursei numai unul dintre voltmetre, acesta va indica tensiunea de:

- a. 4V b. 6V c. 8V d. 12V

5. La bornele unei surse de tensiune continuă cu rezistența internă $r = 4\Omega$ se conectează un rezistor cu rezistența $R_1 = 4\Omega$. Valoarea rezistenței unui al doilea rezistor R_2 , care, dacă este legat în serie cu primul rezistor la bornele aceleiași surse, va face să scadă la jumătate valoarea intensității curentului din circuit, este:

- a. 2Ω b. 3Ω c. 4Ω d. 8Ω

II. Rezolvați următoarele probleme :

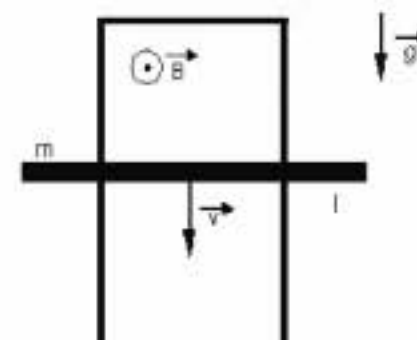
1. La bornele unei surse având t.e.m. $E = 100\text{V}$ și curentul de scurtcircuit $I_{\text{sc}} = 100\text{A}$ se conectează un rezistor de rezistență R , astfel încât raportul dintre tensiunea la bornele sursei și tensiunea internă ($\frac{U}{U_r}$) să aibă valoarea egală cu 49. Determinați:

- a. valoarea rezistenței electrice a rezistorului R ;
b. intensitatea curentului din circuit când la bornele sursei este conectat rezistorul de rezistență R ;
c. lungimea firului de cupru ($\rho_{\text{Cu}} = 1,75 \cdot 10^{-8} \Omega \text{m}$) din care este construit rezistorul dacă secțiunea sa este $S = 0,35 \text{ mm}^2$

15 puncte

2. O tijă metalică de masă $m = 100\text{g}$ și lungimea $l = 50\text{cm}$ alunecă fără frecări, având capetele în contact electric permanent cu brațele verticale ale unui cadru în formă de U a cărui rezistență este neglijabilă. Întregul sistem de conductoare este strabatut de liniile unui câmp magnetic uniform de inducție $B = 2\text{T}$, orientat perpendicular pe suprafața cadrului. Rezistența electrică a tijei este de 10Ω . La început, mișcarea tijei este accelerată, până atinge o viteză maximă, iar apoi este uniformă. Determinați:

- a. expresia literală a forței electromagnetice cu care acționează câmpul magnetic asupra tijei în funcție de valoarea vitezei v ;
b. valoarea vitezei maxime;
c. puterea dezvoltată de forța electromagnetică, când tija atinge viteza maximă.



15 puncte

EXAMENUL DE BACALAUREAT - 2007

Proba scrisă la Fizică

Proba E: Specializarea : matematică –informatică, științe ale naturii

Proba F: Profil: tehnic – toate specializările

♦ Sunt obligatorii toți itemii din două arii tematice dintre cele patru prevăzute în programă, adică: A.MECANICĂ, B.ELECTRICITATE ȘI MAGNETISM, C. ELEMENTE DE TERMODINAMICĂ ȘI FIZICĂ MOLECULARĂ, D. OPTICĂ

♦ Se acordă 10 puncte din oficiu.

♦ Timpul efectiv de lucru este de 3 ore.

Varianta 44

B. ELECTRICITATE ȘI MAGNETISM

Permeabilitatea magnetică a vidului are valoarea $\mu_0 = 4\pi \cdot 10^{-7} \text{ N/A}^2$

I. Pentru itemii 1-5 scrieți pe foaia de răspuns litera corespunzătoare răspunsului considerat corect

15 puncte

1. Inducția unui câmp magnetic variază pe direcția Ox conform relației $B = c \cdot x$, în care c reprezintă o constantă. Unitatea de măsură în S.I. a constantei c este:

- a. Wb b. Wb/m c. T/m d. $T \cdot m$

2. Un rezistor având rezistența electrică R este legat la bornele unei surse de tensiune având rezistența internă r . Tensiunea la bornele sursei este nulă dacă:

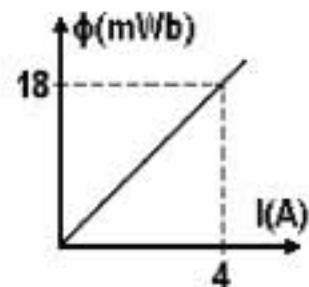
- a. $R = 0$ b. $R = r$ c. $R = 2r$ d. $R \rightarrow \infty$

3. O spiră circulară este parcursă de un curent electric constant de intensitate I care generează prin suprafața spirei un flux magnetic Φ . Variația acestui flux în urma rotirii spirei în jurul unui diametru cu unghiul $\alpha = (\pi/2) \text{ rad}$ este:

- a. $-\Phi$ b. 0 c. Φ d. 2Φ

4. În graficul din figura alăturată este prezentată variația fluxului magnetic prin suprafața unui circuit în funcție de intensitatea curentului electric prin circuit. Inductanța circuitului are valoarea:

- a. $3mH$
b. $4,5mH$
c. $5mH$
d. $6,5mH$

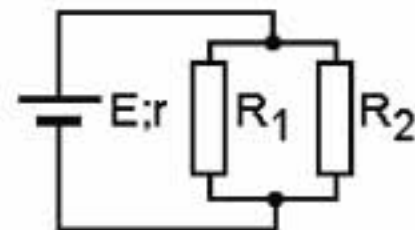
5. O particulă de sarcină $q = 3,2 \cdot 10^{-19} \text{ C}$ descrie o traiectorie circulară de rază $r = 10 \text{ cm}$ într-un câmp magnetic de inducție $B = 0,3 \text{ T}$. Impulsul particulei are valoarea:

- a. $3,2 \cdot 10^{-21} \text{ kg} \cdot \text{m/s}$ b. $4,8 \cdot 10^{-21} \text{ kg} \cdot \text{m/s}$ c. $7,4 \cdot 10^{-21} \text{ kg} \cdot \text{m/s}$ d. $9,6 \cdot 10^{-21} \text{ kg} \cdot \text{m/s}$

II. Rezolvați următoarele probleme:

1. În circuitul din figura alăturată, rezistențele electrice ale celor două rezistoare au valorile $R_1 = 20\Omega$ și $R_2 = 30\Omega$, iar intensitatea curentului electric prin rezistorul R_1 este $I_1 = 3 \text{ A}$. Determinați:

- a. rezistența echivalentă a circuitului exterior;
b. intensitatea curentului electric prin sursa de tensiune;
c. raportul dintre puterea electrică disipată pe rezistorul R_1 și puterea electrică disipată pe rezistorul R_2 .

2. Într-o regiune de câmp magnetic uniform având inducția $B = 0,2 \text{ T}$, intră cu viteză constantă $v = 1 \text{ m/s}$, un cadru pătrat de latură $l = 20 \text{ cm}$ și rezistență electrică $R = 4\Omega$, ca în figura alăturată. Suprafața cadrului este permanent perpendiculară pe liniile câmpului magnetic.

- a. Figurați sensul curentului electric indus în cadru în intervalul de timp în care cadrul pătrunde în câmp.
b. Calculați valoare intensității curentului electric indus în cadru în intervalul de timp în care cadrul pătrunde în câmp.
c. Determinați lucrul mecanic necesar pentru introducerea completă a cadrului în câmpul magnetic.



15 puncte

15 puncte

Proba E: Specializarea : matematică –informatică, științe ale naturii

Proba F: Profil: tehnic – toate specializările

♦ Sunt obligatorii toți itemii din două arii tematice dintre cele patru prevăzute în programă, adică: A.MECANICĂ, B.ELECTRICITATE ȘI MAGNETISM, C. ELEMENTE DE TERMODINAMICĂ ȘI FIZICĂ MOLECULARĂ, D. OPTICĂ

♦ Se acordă 10 puncte din oficiu.

♦ Timpul efectiv de lucru este de 3 ore.

Varianta 45

B. ELECTRICITATE SI MAGNETISMPermeabilitatea magnetică a vidului are valoarea $\mu_0 = 4\pi \cdot 10^{-7} \text{ N / A}^2$.**I. Pentru itemii 1-5 scrieți pe foaia de răspuns litera corespunzătoare răspunsului considerat corect****15 puncte**

1. Dacă notațiile sunt cele utilizate în manualele de fizică, atunci relația de definiție a rezistenței electrice a unui conductor este:

- a. $R = U \cdot I$ b. $R = \rho \frac{\ell}{S}$ c. $R = \frac{U}{I}$ d. $R = \frac{I}{U}$

2. Să se determine inductanța L a unui circuit cunoscând că un curent electric de intensitate $I = 200 \text{ mA}$ produce un flux magnetic prin circuit egal cu $\Phi = 50 \text{ mWb}$.

- a. $0,5 \text{ H}$ b. 250 mH c. 50 mH d. $2,5 \text{ H}$

3. Printr-un conductor cu rezistența electrică 5Ω trece o sarcină electrică de 720 C în timp de 1 minut. Tensiunea electrică la capetele conductorului este:

- a. 15 V b. 30 V c. 45 V d. 60 V

4. Trei surse având parametrii (E, r) , $(2E, 2r)$ și $(3E, 3r)$ se leagă în paralel. Curentul de scurtcircuit al sursei echivalente este:

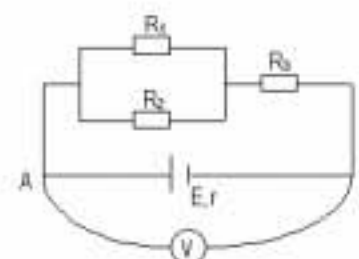
- a. $\frac{E}{r}$ b. $\frac{6E}{r}$ c. $\frac{3E}{r}$ d. $\frac{E}{3r}$

5. Printr-o bobină cu inductanța $0,05 \text{ mH}$ circulă un curent electric de $0,8 \text{ A}$. Întrerupând alimentarea bobinei, curentul prin aceasta scade la zero într-un interval de timp $\Delta t = 120 \mu\text{s}$. Valoarea medie a t.e.m. autoinduse în bobină este aproximativ:

- a. $0,5 \text{ V}$ b. $0,66 \text{ V}$ c. $1,5 \text{ V}$ d. $0,33 \text{ V}$

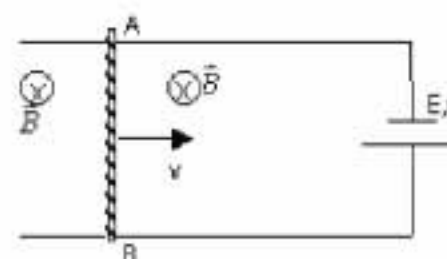
II. Rezolvați următoarele probleme:1. Circuitul electric din figură conține o baterie cu t.e.m. E și rezistența internă $r = 2 \Omega$ și trei rezistori având rezistențele electrice $R_1 = R_2 = 50 \Omega$ și $R_3 = 25 \Omega$. La bornele AB ale circuitului se conectează un voltmetru ideal care indică $U_{AB} = 75 \text{ V}$. Neglijând rezistența electrică a firelor de legătură, determinați:

- a. rezistența electrică echivalentă a circuitului exterior;
b. t.e.m. a bateriei (E);
c. căldura degajată în rezistorul R_3 în timp de 1 minut.

**15 puncte**2. Un conductor rectiliniu AB, cu lungimea $\ell = 1 \text{ m}$ și rezistența electrică $R = 11 \Omega$, alunecă fără frecări, cu o viteză constantă $v = 5 \text{ m/s}$, pe două bare perfect conductoare, conectate la bornele unei surse cu t.e.m. $E = 1 \text{ V}$ și rezistența internă $r = 1 \Omega$. Perpendicular pe suprafața circuitului se aplică un câmp magnetic uniform de inducție $B = 1 \text{ T}$ ilustrat în figura alăturată.

Determinați:

- a. t.e.m. indusă la capetele conductorului AB;
b. valoarea intensității curentului electric din circuit;
c. valoarea și orientarea forței electromagnetice care acționează asupra conductorului AB.

**15 puncte**

Proba E: Specializarea : matematică –informatică, științe ale naturii

Proba F: Profil: tehnic – toate specializările

♦ Sunt obligatorii toți itemii din două arii tematice dintre cele patru prevăzute în programă, adică: A.MECANICĂ, B.ELECTRICITATE ȘI MAGNETISM, C. ELEMENTE DE TERMODINAMICĂ ȘI FIZICĂ MOLECULARĂ, D. OPTICĂ

♦ Se acordă 10 puncte din oficiu.

♦ Timpul efectiv de lucru este de 3 ore.

Varianta 46

B. ELECTRICITATE ȘI MAGNETISMPermeabilitatea magnetică a vidului are valoarea $\mu_0 = 4\pi \cdot 10^{-7} \text{ N/A}^2$.**I. Pentru itemii 1-5 scrieți pe foaia de răspuns litera corespunzătoare răspunsului considerat corect****15 puncte**1. Considerând că notațiile pentru mărimi fizice și unități de măsură sunt cele utilizate în manualele de fizică, unitatea de măsură a mărimii fizice egală cu produsul $\vec{B} \cdot \vec{S}$ este:

a. H

b. T

c. Wb

d. V

2. La bornele unei grupări de două surse identice cu t.e.m. E și rezistența internă r nenulă, se conectează un rezistor cu rezistența electrică R . Raportul dintre intensitățile curentului electric prin rezistor atunci când sursele sunt conectate în serie, respectiv în paralel este:

a. $\frac{I_s}{I_p} = \frac{r+2R}{2r+R}$

b. $\frac{I_s}{I_p} = \frac{\frac{r}{2}+R}{2r+R}$

c. $\frac{I_s}{I_p} = \frac{2(2r+R)}{\frac{r}{2}+R}$

d. $\frac{I_s}{I_p} = 2$

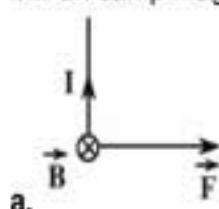
3. O sursă de tensiune cu t.e.m. E are curentul de scurtcircuit I_s . Puterea electrică maximă debitată de sursă unui circuit exterior are expresia:

a. $P_{\max} = E \cdot I_s$

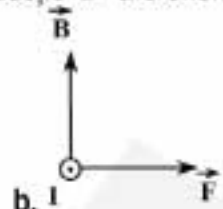
b. $P_{\max} = \frac{E \cdot I_s}{4}$

c. $P_{\max} = 2E \cdot I_s$

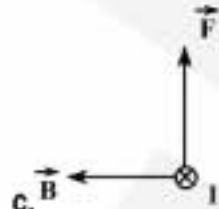
d. $P_{\max} = \frac{2E}{9} \cdot I_s$

4. Forța electromagnetică \vec{F} ce acționează asupra unui conductor rectiliniu parcurs de un curent electric de intensitate I , aflat într-un câmp magnetic de inducție \vec{B} are orientarea:

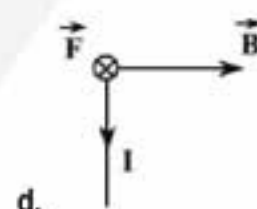
a.



b.



c.



d.

5. Legea lui Faraday pentru fenomenul de autoinducție ce apare într-o bobină cu N spire, cu aria secțiunii transversale S și cu lungimea L , prin care trece un curent variabil, are expresia:

a. $e = -N \frac{\Delta I}{\Delta t}$

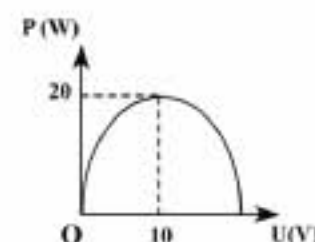
b. $e = -\frac{\mu}{2\pi L} \cdot \frac{\Delta I}{\Delta t}$

c. $e = -\frac{\mu N}{2\pi L} \cdot \frac{\Delta I}{\Delta t}$

d. $e = -\frac{\mu N^2 S}{L} \cdot \frac{\Delta I}{\Delta t}$

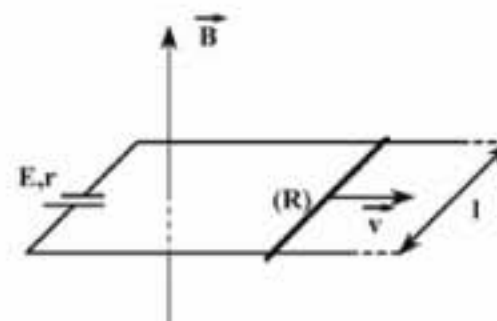
II. Rezolvați următoarele probleme:1. O sursă de tensiune cu t.e.m. E și rezistența internă r este conectată la bornele unui rezistor cu rezistența variabilă (R). Puterea electrică (P) consumată de rezistor este reprezentată în figura alăturată în funcție de tensiunea (U) de la bornele rezistorului. Determinați:

a. tensiunea electromotoare a sursei;

b. puterea electrică totală debitată de sursă atunci când rezistența rezistorului este $R = 35\Omega$;c. raportul între puterea debitată de sursă circuitului exterior și puterea totală a sursei atunci când rezistența circuitului exterior este $R = 5\Omega$.**15 puncte**2. Un circuit electric este format dintr-o sursă de tensiune cu t.e.m. $E = 2V$ și rezistența internă $r = 0,1\Omega$, conectată la o tijă metalică de lungime $l = 20cm$ și rezistență electrică $R = 0,7\Omega$. Tija alunecă fără frecare pe două șine metalice orizontale, paralele, de rezistență electrică neglijabilă, legate la bornele sursei. Circuitul electric se află într-un câmp magnetic uniform cu liniile de câmp perpendiculare pe suprafața circuitului și cu inducția magnetică $B = 1T$. Determinați:a. tensiunea electromotoare indusă în tijă atunci când aceasta are viteza $v = 2m/s$;

b. forța electromagnetică ce acționează asupra tijei în condițiile punctului a;

c. viteza maximă pe care o poate atinge tija lăsată liberă.

**15 puncte**

Proba E: Specializarea : matematică –informatică, științe ale naturii

Proba F: Profil: tehnic – toate specializările

♦ Sunt obligatorii toți itemii din două arii tematice dintre cele patru prevăzute în programă, adică: A.MECANICĂ, B.ELECTRICITATE ȘI MAGNETISM, C. ELEMENTE DE TERMODINAMICĂ ȘI FIZICĂ MOLECULARĂ, D. OPTICĂ

♦ Se acordă 10 puncte din oficiu.

♦ Timpul efectiv de lucru este de 3 ore.

Varianta 47

B. ELECTRICITATE ȘI MAGNETISM**I. Pentru itemii 1-5 scrieți pe foaia de răspuns litera corespunzătoare răspunsului considerat corect****15 puncte**Permeabilitatea magnetică a vidului are valoarea $\mu_0 = 4\pi \cdot 10^{-7} \text{ N} \cdot \text{A}^{-2}$.

1. Pentru un conductor electric filiform parcurs de curent electric se consideră cunoscute: S – aria secțiunii transversale a conductorului, n – numărul electronilor liberi din unitatea de volum, e – sarcina electrică a unui electron, I – intensitatea curentului electric staționar. Viteza electronilor care formează curentul este dată de expresia:

a. $v = \frac{I}{Sne}$

b. $v = \frac{ne}{I}$

c. $v = \frac{In}{Se}$

d. $v = \frac{Ie}{Sn}$

2. Unitatea de măsură pentru fluxul câmpului magnetic, exprimată prin unitățile fundamentale din SI este:

a. $\text{kg} \cdot \text{m}^2 \cdot \text{s} \cdot \text{A}^{-2}$

b. $\text{kg} \cdot \text{m} \cdot \text{s}^{-2} \cdot \text{A}^{-1}$

c. $\text{kg} \cdot \text{m} \cdot \text{s}^{-3} \cdot \text{A}^{-2}$

d. $\text{kg} \cdot \text{m}^2 \cdot \text{s}^{-2} \cdot \text{A}^{-1}$

3. O sursă electrică cu t.e.m. 2 V și rezistența internă 0,8 Ω este conectat la un conductor din nichel cu arii secțiunii transversale 0,21 mm^2 și lung de 2,1 m. Rezistivitatea nichelului este 0,42 $\Omega \cdot \text{mm}^2/\text{m}$. Tensiunea electrică la bornele sursei este:

a. 0,68V

b. 1,68V

c. 2,68V

d. 3,68V

4. Un rezistor de rezistență R este conectat la bornele unei grupări paralel formată din n generatoare electrice identice. **NU** este corectă relația:

a. $I = \frac{nE}{r + nR}$

b. $I_{sc} = n \frac{E}{r}$

c. $U = E - \frac{nEr}{r + nR}$

d. $U_{\text{borne}} = E - \frac{nEr}{r + nR}$

5. O particulă încărcată cu sarcina electrică q descrie o mișcare circulară de rază R cu perioada T . Inducția câmpului magnetic creat de particulă în centrul traiectoriei are expresia:

a. $B = \mu_0 \frac{|q|}{RT}$

b. $B = \mu_0 \frac{|q|}{2RT}$

c. $B = \mu_0 \frac{|q|}{2\pi RT}$

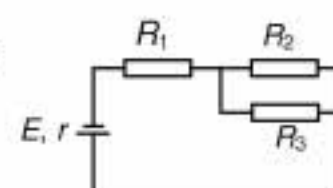
d. $B = \mu_0 \frac{|q|}{2R^2T}$

II. Rezolvați următoarele probleme:

1. Pentru circuitul electric din fig. alăturată se dau: $R_1 = 2 \Omega$, $R_2 = 4 \Omega$, $R_3 = 6 \Omega$, $r = 0,6 \Omega$ și $I_2 = 3 \text{ A}$, intensitatea curentului electric prin rezistorul 2. Determinați:

a. intensitățile curenților prin ceilalți rezistori;

b. intensitatea curentului de scurt circuit;

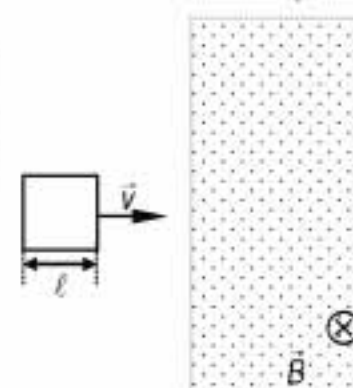
c. rezistența rezistorului care, conectat în locul celor trei rezistori, face ca puterea debitată în circuitul exterior să fie $k = 0,75$ din puterea maximă pe care o poate furniza sursa electrică dată.**15 puncte**

2. Un cadru conductor de forma unui pătrat cu latura $\ell = 2 \text{ cm}$ și rezistența totală $R = 4 \Omega$ intră cu viteza constantă $v = 2 \text{ m} \cdot \text{s}^{-1}$ într-o regiune suficient de extinsă în care există un câmp magnetic uniform de inducție magnetică $B = 0,5 \text{ T}$, ca în figura alăturată. Liniile câmpului magnetic sunt perpendiculare pe planul cadrului. Determinați:

a. intensitatea curentului electric indus în cadru pe durata pătrunderii lui în câmpul magnetic;

b. forța care acționează asupra cadrului pentru a-l menține în mișcare rectilinie și uniformă pe durata în care cadrul nu a pătruns încă integral în câmp;

c. puterea electrică disipată de cadru pe parcursul traversării regiunii respective.

**15 puncte**

Proba E: Specializarea : matematică –informatică, științe ale naturii

Proba F: Profil: tehnic – toate specializările

♦ Sunt obligatorii toți itemii din două arii tematice dintre cele patru prevăzute în programă, adică: A.MECANICĂ, B.ELECTRICITATE ȘI MAGNETISM, C. ELEMENTE DE TERMODINAMICĂ ȘI FIZICĂ MOLECULARĂ, D. OPTICĂ

♦ Se acordă 10 puncte din oficiu.

♦ Timpul efectiv de lucru este de 3 ore.

Varianța 48

B. ELECTRICITATE ȘI MAGNETISM

Permeabilitatea magnetică a vidului are valoarea $\mu_0 = 4\pi \cdot 10^{-7} \text{ N/A}^2$.

I. Pentru itemii 1-5 scrieți pe foaia de răspuns litera corespunzătoare răspunsului considerat corect

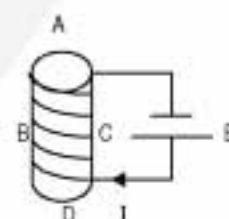
15 puncte

1. Ținând cont că notațiile sunt cele utilizate în manualele de fizică, relația corectă între unități de măsură din S.I. există relația:

- a. $J = V/C$ b. $V = J/C$ c. $A = J/C$ d. $A \cdot s = V/\Omega$

2. Polul nord al solenoidului din montajul din figura de mai jos este apropiat de litera :

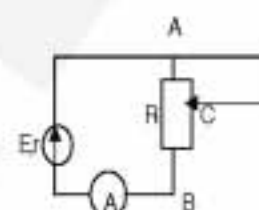
- a. A
b. B
c. C
d. D



3. Pentru circuitul electric a cărui diagramă este ilustrată în figură se cunosc $E = 12V$, $r = 2\Omega$.

Cursorul C împarte rezistența, $R_{AB} = 21\Omega$, în raportul $\frac{R_{AC}}{R_{BC}} = \frac{1}{2}$, iar conductorii electrici din circuit sunt ideali. Indicația ampermetrului A, considerat ideal este:

- a. 1,25 A
b. 1,15 A
c. 0,75 A
d. 0,5 A



4. Fluxul magnetic printr-o suprafață $S = 100 \text{ cm}^2$ orientată sub unghiul $\alpha = 60^\circ$ față de liniile unui câmp magnetic uniform de inducție $B = 10^{-4} \text{ T}$ este aproximativ:

- a. $0,15 \mu \text{ Wb}$ b. $0,25 \mu \text{ Wb}$ c. $0,75 \mu \text{ Wb}$ d. $0,86 \mu \text{ Wb}$

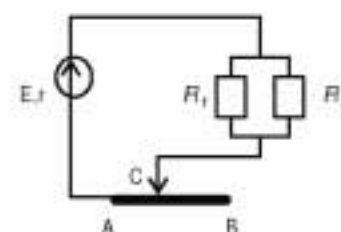
5. Intensitatea curentului de scurtcircuit pentru o sursă cu t.e.m. $E = 24V$ este $I_{sc} = 80A$. Valoarea rezistenței circuitului exterior pentru care se obține prin acesta un curent de intensitate $I = 1A$ este :

- a. $23,70\Omega$ b. $28,50\Omega$ c. $30,25\Omega$ d. $33,75\Omega$

II. Rezolvați următoarele probleme:

1. Circuitul electric din figura alăturată conține o sursă cu t.e.m. $E = 40V$ și rezistență internă $r = 1\Omega$, două rezistoare cu rezistențele $R_1 = 6\Omega$ respectiv $R_2 = 12\Omega$ și un fir metalic AB cu lungimea $\ell = 0,8m$ și rezistența $R_{AB} = 6\Omega$. Pe firul AB se deplasează cursorul C prin care se închide circuitul. Determinați:

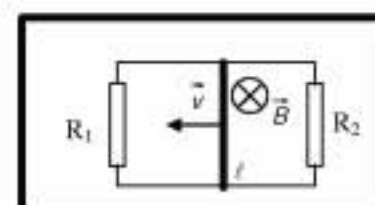
- a. rezistența echivalentă R_{12} a rezistoarelor R_1 și R_2 ;
b. rezistivitatea ρ a firului metalic, știind aria secțiunii lui transversale $S = 1 \text{ mm}^2$;
c. distanța $x = AC$, astfel încât tensiunea între punctele A și C să fie $U_{CA} = 15V$.



15 puncte

2. Pentru circuitul electric a cărui diagramă este ilustrată în figura alăturată se cunosc: $R_1 = 2\Omega$, $R_2 = 3\Omega$, $\ell = 20 \text{ cm}$. Circuitul este plasat în câmp magnetic uniform de inducție $B = 1T$, cu liniile de câmp perpendiculare pe planul montajului ca în figură, iar conductorul, de rezistență electrică neglijabilă, se deplasează cu viteza constantă $v = 15 \text{ m/s}$. Considerând conductoarele de legătură ideale, determinați:

- a. intensitatea curentului electric ce străbate rezistorul R_1 ;
b. intensitatea curentului electric ce străbate rezistorul R_2 ;
c. puterea electrică disipată în circuit.



15 puncte

Proba E: Specializarea : matematică –informatică, științe ale naturii

Proba F: Profil: tehnic – toate specializările

♦ Sunt obligatorii toți itemii din două arii tematice dintre cele patru prevăzute în programă, adică: A.MECANICĂ, B.ELECTRICITATE ȘI MAGNETISM, C. ELEMENTE DE TERMODINAMICĂ ȘI FIZICĂ MOLECULARĂ, D. OPTICĂ

♦ Se acordă 10 puncte din oficiu.

♦ Timpul efectiv de lucru este de 3 ore.

Varianta 49

B. ELECTRICITATE ȘI MAGNETISM**I. Pentru itemii 1-5 scrieți pe foaia de răspuns litera corespunzătoare răspunsului considerat corect****15 puncte**

1. Un solenoid cu miez de fier (cu permeabilitatea magnetică relativă μ_r), având N spire , lungimea l și diametrul firului înfășurat pe miez d , este parcurs de un curent electric de intensitate I . Inducția magnetică în interiorul său are expresia :

- a. $\mu_0 N I / d$ b. $\mu_0 \mu_r I / d$ c. $\mu_0 \mu_r N^2 d / l$ d. $\mu_0 I / N$

2. Unitatea de măsură care se definește pe baza interacțiunii dintre două conductoare rectilinii , paralele , foarte lungi parcurse de curent electric este :

- a. amperul b. tesla c. voltul d. newtonul

3. Regula pentru determinarea sensului curentului indus și a tensiunii electromotoare induse prin fenomenul de inducție electromagnetică este :

- a. regula mâinii stângi b. regula lui Lenz c. regula burghiului d. regula lui Faraday

4. Într-o grupare de n rezistoare legate în paralel la un generator electric:

- a. rezistența grupării este mai mare decât a fiecărui rezistor component
b. intensitatea curentului electric are aceeași valoare prin fiecare rezistor
c. tensiunea electrică este aceeași pe fiecare rezistor
d. tensiunea la borne se obține ca suma tensiunilor pe fiecare rezistor

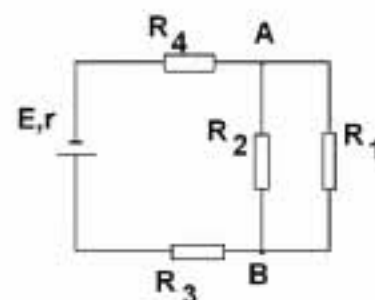
5. Traectoria unui electron ce pătrunde perpendicular pe liniile unui câmp magnetic uniform este :

- a. elipsă b. dreaptă c. arc de cerc d. arc de parabolă

II. Rezolvați următoarele probleme

1. Se dă circuitul din figură în care cunosc: $E = 14V$, $R_1 = 2\Omega$, $R_2 = 6\Omega$, $R_3 = 4\Omega$, $R_4 = 1\Omega$ și intensitatea curentului de scurtcircuit al sursei $I_{sc} = 28A$. Determinați :

- a. indicația unui ampermetru ideal conectat în serie cu rezistorul R_1 ;
b. tensiunea între punctele A și B ;
c. energia ce se disipă în circuitul exterior sub formă de căldură în timp de 1 min .

**15 puncte**

2. O spiră circulară este alcătuită dintr-un fir de aluminiu cu rezistivitatea $\rho = 3 \cdot 10^{-8} \Omega m$, lungimea $l = 0,5m$ și diametrul firului $d = 1mm$. Spira este plasată perpendicular pe liniile unui câmp magnetic uniform de inducție magnetică $B = 0,1T$. Determinați :

- a. fluxul magnetic prin suprafața spirei;
b. intensitatea curentului electric ce apare în spiră dacă inducția câmpului magnetic crește liniar în timp cu viteza

$$\alpha = \frac{\Delta B}{\Delta t} = 5mT / s ;$$

- c. căldura degajată în spiră în unitatea de timp în condițiile de la punctul b.

15 puncte

Proba E: Specializarea : matematică –informatică, științe ale naturii

Proba F: Profil: tehnic – toate specializările

♦ Sunt obligatorii toți itemii din două arii tematice dintre cele patru prevăzute în programă, adică: A.MECANICĂ, B.ELECTRICITATE ȘI MAGNETISM, C. ELEMENTE DE TERMODINAMICĂ ȘI FIZICĂ MOLECULARĂ, D. OPTICĂ

♦ Se acordă 10 puncte din oficiu.

♦ Timpul efectiv de lucru este de 3 ore.

Varianța 50

B. ELECTRICITATE ȘI MAGNETISM

Permeabilitatea magnetică a vidului are valoarea $\mu_0 = 4\pi \cdot 10^{-7} \text{ N/A}^2$

I. Pentru itemii 1-5 scrieți pe foaia de răspuns litera corespunzătoare răspunsului considerat corect.

15 puncte

1. Unitatea de măsură în S.I. pentru intensitatea curentului electric este:

- a. C b. A c. C·s d. $\frac{A}{s}$

2. La gruparea în paralel a n generatoare identice de t.e.m. E și rezistență internă r fiecare, intensitatea curentului debitat pe un rezistor de rezistență R este:

- a. $I = \frac{nE}{R + nr}$ b. $I = \frac{E}{R + \frac{r}{n}}$ c. $I = \frac{nE}{R + r}$ d. $I = \frac{E}{\frac{R}{n} + r}$

3. Inducția magnetică a câmpului uniform din miezul feromagnetic al unui solenoid este $B = 100 \text{ mT}$. Cunoscând permeabilitatea relativă a miezului $\mu_r = 500$ și valoarea intensității curentului electric $I = 200 \text{ mA}$, numărul de spire pe unitatea de lungime este:

- a. 2 spire/cm b. 4 spire/cm c. 8 spire/cm d. 6 spire/cm

4. Produsul $B \cdot \ell \cdot v$, în care v este viteza unui conductor de lungime ℓ , care se deplasează într-un câmp magnetic uniform de inducție B , se măsoară în:

- a. V b. J c. W d. N·A·m

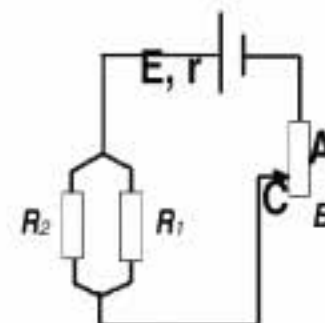
5. Două spire conductoare, identice, așezate față în față, parcurse de curenți de același sens interacționează prin forțe:

- a. De respingere, perpendiculare pe planul spirelor.
b. De atracție, perpendiculare pe planul spirelor.
c. De atracție, paralele cu planul spirelor.
d. De respingere, paralele cu planul spirelor.

II. Rezolvați următoarele probleme:

1. O sursă cu t.e.m. $E = 60 \text{ V}$ și rezistență internă $r = 0,9 \Omega$ alimentează circuitul exterior format din rezistențele $R_1 = 7 \Omega$, $R_2 = 3 \Omega$, legate în paralel, rezistorul AB având lungimea $\ell = 1,2 \text{ m}$ și rezistența $R = 12 \Omega$ legat în serie prin cursorul mobil C ca în figură. Determinați:

- a. rezistența echivalentă a circuitului exterior când cursorul C se află la capătul B;
b. intensitatea curenților din fiecare rezistor;
c. tensiunea pe porțiunea CA, când cursorul C se află la distanța $AC = 0,7 \text{ m}$.



15 puncte

2. O particulă α ($m_\alpha = 6,64 \cdot 10^{-27} \text{ kg}$, $q = 3,2 \cdot 10^{-19} \text{ C}$) pătrunde normal într-un câmp magnetic de inducție $B = 1,2 \text{ T}$, descriind o mișcare circulară cu raza $r = 0,4 \text{ m}$. Determinați:

- a. viteza de deplasare a particulei în câmp magnetic;
b. perioada de rotație a particulei în câmp magnetic;
c. energia cinetică a particulei.

15 puncte

Proba E: Specializarea : matematică –informatică, științe ale naturii

Proba F: Profil: tehnic – toate specializările

♦ Sunt obligatorii toți itemii din două arii tematice dintre cele patru prevăzute în programă, adică: A.MECANICĂ, B.ELECTRICITATE ȘI MAGNETISM, C. ELEMENTE DE TERMODINAMICĂ ȘI FIZICĂ MOLECULARĂ, D. OPTICĂ

♦ Se acordă 10 puncte din oficiu.

♦ Timpul efectiv de lucru este de 3 ore.

Varianta 51

B. ELECTRICITATE ȘI MAGNETISMPermeabilitatea magnetică a vidului are valoarea $\mu_0 = 4\pi \cdot 10^{-7} \text{ N/A}^2$ **I. Pentru itemii 1-5 scrieți pe foaia de răspuns litera corespunzătoare răspunsului considerat corect.****15 puncte**1. Dacă notațiile sunt cele utilizate în manualele de fizică, unitatea de măsură în S.I. a mărimii fizice descrise de relația $U \cdot I$ este:

- a. A b. W c. kW d. kWh

2. Doi conductori paraleli parcurși de curenți electrici identici, cu intensitățile de 10 A, aflați în vid, la 1mm unul de altul interacționează cu o forță pe unitatea de lungime egală cu:

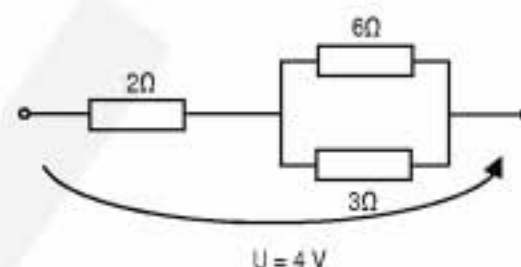
- a. 0,04 N. b. 0,03 N. c. 0,02 N. d. 0,01 N.

3. Un câmp magnetic omogen cu inducția $B=1\text{T}$ este incident sub un unghi de 60° față de normala la o spirală pătrată cu latura $\ell=20$ cm. Fluxul inducției magnetice Φ este:

- a. 20 mWb. b. 40 mWb. c. 60 mWb. d. 80 mWb.

4. În figura alăturată este prezentată o porțiune dintr-un circuit electric de curent continuu. Puterea disipată în porțiunea de circuit este:

- a. 2 W b. 4 W c. 6 W d. 8 W

5. Rezistivitatea electrică la o temperatură $t > 0^\circ\text{C}$, în funcție de rezistivitatea ρ_0 și de coeficientul de variație al rezistivității cu temperatura α , este:

- a. $\frac{1 + \alpha\rho_0}{t}$
 b. $\frac{\rho_0}{1 + \alpha t}$
 c. $\frac{1 + \alpha t}{\rho_0}$
 d. $\rho_0(1 + \alpha t)$

II. Rezolvați următoarele probleme:1. Un solenoid cu $N=1\,000$ spire și miez feromagnetic cu $\mu_r=10^3$, lungimea de 10 cm și aria secțiunii transversale $S=10\text{ cm}^2$ este parcurs de un curent de un amper. Determinați:

- a. inductanța bobinei;
 b. fluxul magnetic total prin bobină;
 c. tensiunea electromotoare medie care se induce în bobină dacă se scoate miezul magnetic în timp de 0,1 s.

15 puncte2. Patru rezistoare identice cu rezistența electrică $R=8\,\Omega$ sunt montate în toate modurile posibile la bornele unei surse cu tensiunea electromotoare $E=3\text{ V}$ și rezistența internă $r=1\,\Omega$. Determinați:

- a. acea configurație care furnizează cel mai mare curent prin sursă;
 b. intensitatea curentului prin sursă;
 c. valoarea pe care ar trebui să o aibă rezistențele pentru ca puterea transmisă de sursă în circuitul exterior să fie maximă.

15 puncte

Proba E: Specializarea : matematică –informatică, științe ale naturii

Proba F: Profil: tehnic – toate specializările

♦ Sunt obligatorii toți itemii din două arii tematice dintre cele patru prevăzute în programă, adică: A.MECANICĂ, B.ELECTRICITATE ȘI MAGNETISM, C. ELEMENTE DE TERMODINAMICĂ ȘI FIZICĂ MOLECULARĂ, D. OPTICĂ

♦ Se acordă 10 puncte din oficiu.

♦ Timpul efectiv de lucru este de 3 ore.

Varianta 52

B. ELECTRICITATE ȘI MAGNETISMPermeabilitatea magnetică a vidului are valoarea $\mu_0 = 4\pi \cdot 10^{-7} \text{ N/A}^2$.**I. Pentru itemii 1-5 scrieți pe foaia de răspuns litera corespunzătoare răspunsului considerat corect****15 puncte**

1. Unitatea de măsură a inductanței, în funcție de unitățile de măsură ale mărimilor fizice fundamentale este:

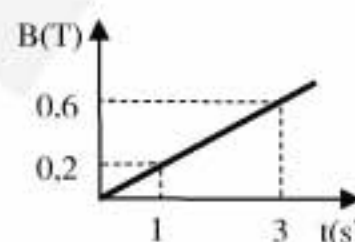
- a. $\frac{\text{kg} \cdot \text{m}^2}{\text{A} \cdot \text{s}}$ b. $\frac{\text{kg} \cdot \text{m}^2}{\text{A} \cdot \text{s}^2}$ c. $\frac{\text{kg} \cdot \text{m}^2}{\text{A}^2 \cdot \text{s}^2}$ d. $\frac{\text{kg} \cdot \text{m}}{\text{A} \cdot \text{s}^2}$

2. Forța cu care câmpul magnetic de inducție $B = 0,2 \text{ T}$ acționează asupra unui conductor liniar, de lungime $\ell = 0,5 \text{ m}$, parcurs de un curent electric staționar de intensitate $I = 3 \text{ A}$, atunci când direcția conductorului formează unghiul $\alpha = 30^\circ$ cu liniile de câmp este:

- a. $0,10 \text{ N}$ b. $0,15 \text{ N}$ c. $0,20 \text{ N}$ d. $0,25 \text{ N}$

3. Dacă notațiile sunt cele utilizate în manualele de fizică, care dintre expresiile de mai jos are dimensiunea unei puteri?

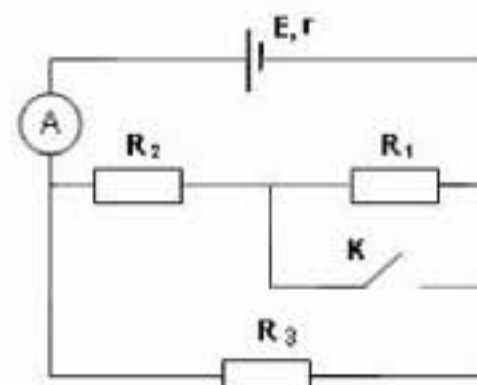
- a. $\frac{U}{I}$ b. $R \cdot I$ c. $\frac{\rho \ell}{S}$ d. $U \cdot I$

4. O spiră circulară, de rază $R = 10 \text{ cm}$ este plasată într-un câmp magnetic a cărui inducție magnetică variază în timp conform graficului din figură. Planul spirei formează unghiul $\alpha = 30^\circ$ cu liniile de câmp. Tensiunea electromotoare indusă în spiră are modulul:

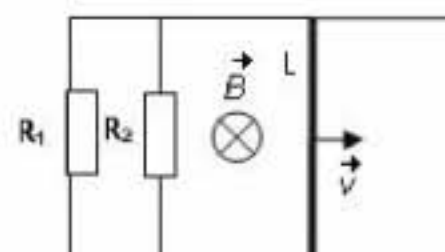
- a. $3,14 \cdot 10^{-3} \text{ V}$
b. $6,28 \cdot 10^{-3} \text{ V}$
c. $12,56 \cdot 10^{-3} \text{ V}$
d. $15,7 \cdot 10^{-3} \text{ V}$

5. Două generatoare identice, având tensiunea electromotoare $E = 24 \text{ V}$ fiecare sunt legate în paralel la bornele unui rezistor de rezistență $R = 5 \Omega$. Dacă rezistorul este parcurs de un curent de intensitate $I = 4 \text{ A}$, rezistența internă a unui generator este:

- a. 4Ω b. 3Ω c. 2Ω d. 1Ω

II. Rezolvați următoarele probleme:1. În circuitul electric a cărui diagramă este ilustrată în figura alăturată, unde $R_1 = R_2 = R_3 = 6 \Omega$, se cunoaște faptul că ampermetrul ideal indică o valoare $I = 3,75 \text{ A}$ când comutatorul K este închis și o valoare $I' = 3 \text{ A}$ când comutatorul K este deschis. Conductoarele de legătură se consideră ideale. Determinați:

- a. rezistența echivalentă a grupării formate din R_1, R_2, R_3 când comutatorul K este deschis;
b. tensiunea electromotoare E a bateriei;
c. energia consumată de către rezistorul R_2 în timp de o oră, comutatorul K fiind deschis.

15 puncte2. Un conductor de lungime $L = 0,3 \text{ m}$, având rezistența electrică $r = 0,6 \Omega$, se deplasează cu viteza constantă $v = 4 \text{ m/s}$ de-a lungul a două bare conductoare, paralele, de rezistență electrică neglijabilă, legate la un capăt prin intermediul a două rezistoare de rezistențe $R_1 = 4 \Omega$, respectiv $R_2 = 6 \Omega$, ca în figura alăturată. Cunoscând că sistemul este plasat perpendicular pe liniile unui câmp magnetic uniform de inducție $B = 0,5 \text{ T}$, determinați:

- a. tensiunea electromotoare indusă la capetele conductorului în mișcare;
b. valoarea intensității curentului prin rezistorul R_1 ;
c. forța care trebuie exercitată asupra conductorului pentru a-l menține în mișcare rectilinie uniformă.

15 puncte

Proba E: Specializarea : matematică –informatică, științe ale naturii

Proba F: Profil: tehnic – toate specializările

♦ Sunt obligatorii toți itemii din două arii tematice dintre cele patru prevăzute în programă, adică: A.MECANICĂ, B.ELECTRICITATE ȘI MAGNETISM, C. ELEMENTE DE TERMODINAMICĂ ȘI FIZICĂ MOLECULARĂ, D. OPTICĂ

♦ Se acordă 10 puncte din oficiu.

♦ Timpul efectiv de lucru este de 3 ore.

Varianta 53

B. ELECTRICITATE ȘI MAGNETISM**I. Pentru itemii 1-5 scrieți pe foaia de răspuns litera corespunzătoare răspunsului considerat corect****15 puncte**1. Expresia forței Lorentz care acționează asupra unei particule având sarcina electrică q , care se deplasează cu viteza \vec{v} în câmp magnetic uniform de inducție \vec{B} este:

- a. $B(\vec{v} \times \vec{q})$ b. $q(\vec{v} \times \vec{B})$ c. $q(\vec{B} \times \vec{v})$ d. $q(\vec{v} \times \vec{B}) \sin \alpha$

2. Unitatea de măsură a fluxului magnetic în S.I. este:

- a. Wb b. T c. F d. H

3. Inductanța unei bobine cu lungimea l alcătuită din N spire de arie S și având un miez cu permeabilitatea magnetică μ are expresia:

- a. $\frac{\mu NS}{l}$ b. $\frac{\mu N^2 S}{l^2}$ c. $\frac{\mu N l^2}{S}$ d. $\frac{\mu N^2 S}{l}$

4. Doi rezistori cu rezistențe electrice de 1Ω , respectiv 4Ω consumă aceeași putere atunci când sunt conectați pe rând la bornele aceleiași surse de tensiune. Rezistența internă a sursei este:

- a. 1Ω b. 2Ω c. 4Ω d. 5Ω .

5. Rezistența echivalentă a unei grupări paralel formate din rezistori cu rezistențele electrice $R_1 = 1\Omega$, $R_2 = 2\Omega$ și $R_3 = 3\Omega$ are valoarea de:

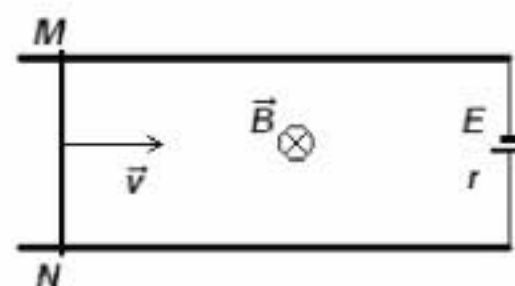
- a. $\frac{11}{6}\Omega$ b. 6Ω c. 2Ω d. $\frac{6}{11}\Omega$

II. Rezolvați următoarele probleme:1. O baterie cu tensiunea electromotoare $E = 24V$ este formată din n elemente identice înseriate, fiecare având rezistența internă $r = 0,4\Omega$. La bornele sale se conectează un rezistor. Intensitatea curentului prin rezistor este $I_1 = 2A$. Dacă se înlătură jumătate din elementele bateriei, intensitatea curentului scade la $I_2 = 1,5A$. Determinați:

- a. rezistența electrică a rezistorului;
b. numărul n de elemente care formează bateria;
c. energia disipată de către rezistor în timpul $t = 1min$, atunci când acesta este conectat la bornele bateriei formate din n elemente.

15 puncte2. Un conductor rectiliniu MN , cu rezistența electrică $R = 0,08\Omega$ și lungimea $L = 40cm$ este deplasat pe două șine conductoare paralele, orizontale, de rezistență electrică neglijabilă, conectate la bornele unei surse cu t.e.m $E = 2V$ și rezistența internă $r = 0,12\Omega$. Deplasarea conductorului are loc cu viteza constantă $v = 1m/s$, perpendicular pe liniile unui câmp magnetic uniform, de inducție $B = 2T$, așa cum este ilustrat în figura alăturată. Determinați:

- a. sensul curentului electric indus în conductorul MN ;
b. t.e.m. indusă în conductorul MN ;
c. valoarea intensității curentului electric stabilit în circuit.

15 puncte

Proba E: Specializarea : matematică –informatică, științe ale naturii

Proba F: Profil: tehnic – toate specializările

♦ Sunt obligatorii toți itemii din două arii tematice dintre cele patru prevăzute în programă, adică: A.MECANICĂ, B.ELECTRICITATE ȘI MAGNETISM, C. ELEMENTE DE TERMODINAMICĂ ȘI FIZICĂ MOLECULARĂ, D. OPTICĂ

♦ Se acordă 10 puncte din oficiu.

♦ Timpul efectiv de lucru este de 3 ore.

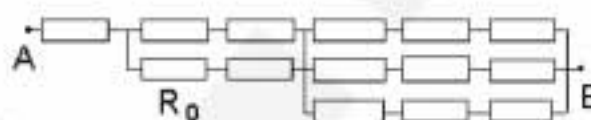
Varianta 54

B. ELECTRICITATE ȘI MAGNETISMPermeabilitatea magnetică a vidului are valoarea $\mu_0 = 4\pi \cdot 10^{-7} \text{ N/A}^2$.**I. Pentru itemii 1-5 scrieți pe foaia de răspuns litera corespunzătoare răspunsului considerat corect.****15 puncte**1. Dacă notațiile sunt cele utilizate în manualele de fizică, atunci unitatea de măsură în S.I. a mărimii fizice descrise de relația $\frac{RS}{l}$ este:

- a. $\Omega \cdot m^2$ b. $\Omega^2 m$ c. Ω / m d. $\Omega \cdot m$

2. Rețeaua din figura alăturată este alcătuită din rezistori identici având fiecare rezistența electrică R_0 . În aceste condiții rezistența electrică echivalentă între punctele A și B este:

- a. R_0
b. $2R_0$
c. $3R_0$
d. $6R_0$

3. Trei generatoare electrice identice având tensiunea electromotoare E și rezistența internă r , legate în paralel, debitează pe un rezistor cu rezistența electrică R un curent electric cu intensitatea:

- a. $I = \frac{3E}{R+r}$ b. $I = \frac{3E}{2R+r}$ c. $I = \frac{E}{R+\frac{r}{3}}$ d. $I = \frac{E}{R+3r}$

4. Dacă raportul lungimilor conductoarelor de nichelină din care sunt confecționate rezistențele electrice a două reșouri legate în serie este $\frac{l_2}{l_1} = 2$ și căldura degajată este aceeași, atunci raportul razelor $\frac{r_2}{r_1}$ celor două

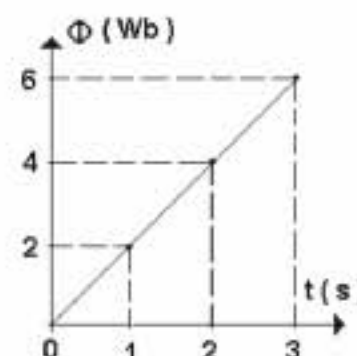
conductoare este de aproximativ:

- a. 1,41 b. 1,45 ; c. 1,52 d. 1,73 .

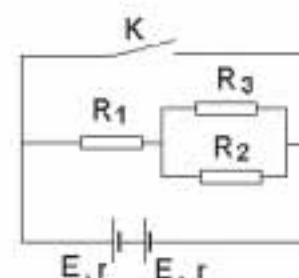
5. Variația în timp a fluxului magnetic ce străbate o bobină este ilustrată în figura alăturată.

Valoarea tensiunii electromotoare indusă în bobină este:

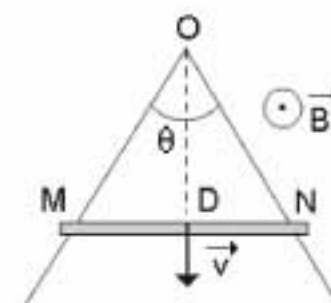
- a. $-4V$
b. $-2V$
c. $2V$
d. $4V$

**II. Rezolvați următoarele probleme:**1. În circuitul din figură se cunosc $R_1 = 2\Omega$, $R_2 = 4\Omega$, $R_3 = 6\Omega$, $r = 0,1\Omega$ și $E = 6V$.

- a. Calculați intensitatea curentului prin ramura ce conține sursele când întrerupătorul K este deschis.
b. Determinați puterea consumată de rezistorul R_1 .
c. Calculați intensitatea curentului de scurtcircuit, când întrerupătorul K este închis.

**15 puncte**2. Un conductor unghiular cu vârful în O și având $\theta = 60^\circ$ se află într-un plan orizontal. Pe conductor se deplasează o bară care este permanent în contact cu conductorul în punctele M și N. Întregul sistem este într-un câmp magnetic uniform vertical cu orientarea indicată în figura alăturată. Se cunosc: viteza barei $v = 2 \text{ m/s}$, inducția câmpului magnetic $B = 0,1 \text{ T}$ și rezistența pe unitatea de lungime atâta barei cât și a conductorului $r = \frac{1}{3} \Omega / m$.

- a. Calculați fluxul magnetic prin circuit în momentul t_1 când $OM = \ell = 4 \text{ cm}$.
b. Determinați t.e.m. indusă în bară în momentul t_1 .
c. Arătați că în timpul mișcării barei intensitatea curentului prin circuit rămâne constantă și calculați această valoare constantă.

**15 puncte**

Proba E: Specializarea : matematică –informatică, științe ale naturii

Proba F: Profil: tehnic – toate specializările

♦ Sunt obligatorii toți itemii din două arii tematice dintre cele patru prevăzute în programă, adică: A.MECANICĂ, B.ELECTRICITATE ȘI MAGNETISM, C. ELEMENTE DE TERMODINAMICĂ ȘI FIZICĂ MOLECULARĂ, D. OPTICĂ

♦ Se acordă 10 puncte din oficiu.

♦ Timpul efectiv de lucru este de 3 ore.

Varianta 55

B. ELECTRICITATE ȘI MAGNETISM

Permeabilitatea magnetică a vidului are valoarea $\mu_0 = 4\pi \cdot 10^{-7} \text{ N/A}^2$.

I. Pentru itemii 1-5 scrieți pe foaia de răspuns litera corespunzătoare răspunsului considerat corect

15 puncte

1. Dacă notațiile sunt cele utilizate în manualele de fizică, atunci unitatea de măsură în S.I. a mărimii fizice descrise de relația $\frac{\Phi}{I}$ este:

- a. Nm/A^2 b. N/m c. A/m d. $\text{N/(A}\cdot\text{m)}$

2. Dacă dublăm diametrul unui fir conductor, atunci rezistența electrică a acestuia:

- a. crește de 2 ori b. scade de 2 ori c. crește de 4 ori d. scade de 4 ori

3. O spiră de arie $S = 100\text{cm}^2$ este așezată sub un unghi $\alpha = 30^\circ$ față de direcția liniilor de câmp ale unui câmp magnetic uniform de inducție $B = 10^{-4} \text{ T}$. Fluxul magnetic prin suprafața spirei are valoarea:

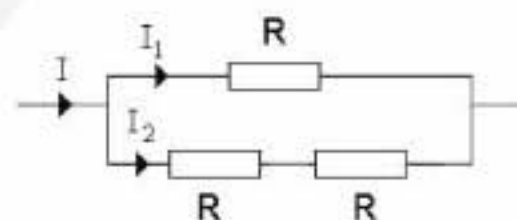
- a. $0,36\mu\text{T}$ b. $0,5\mu\text{T}$ c. $0,5\mu\text{Wb}$ d. $0,7\mu\text{Wb}$

4. Intensitatea de scurtcircuit a unei surse de t.e.m. cu $E = 20\text{V}$ este $I_{sc} = 80\text{A}$. Rezistența internă a sursei are valoarea :

- a. $0,25\Omega$ b. $0,4\Omega$ c. $2,5\Omega$ d. 4Ω

5. În schema din figura alăturată raportul intensităților curenților electrici I_1 și I_2 are valoarea:

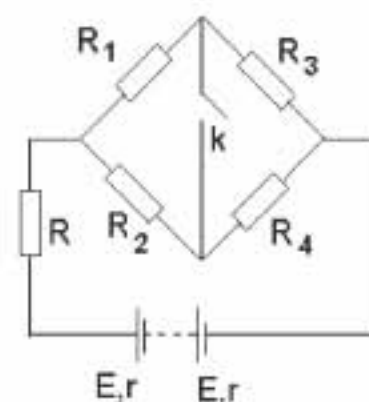
- a. 1
b. 2
c. 3
d. 4



II. Rezolvați următoarele probleme:

1. Considerați un circuit electric a cărui diagrama este ilustrată în figura alăturată și pentru care se cunosc valorile rezistențelor: $R_1 = 5\Omega$, $R_2 = 7\Omega$, $R_3 = 15\Omega$, $R_4 = 13\Omega$. Generatorul electric este format din $n = 10$ elemente legate în serie, fiecare având t.e.m. $E = 3\text{V}$ și rezistență internă $r = 0,1\Omega$. Determinați:


- a. valoarea rezistenței rezistorului R din circuit, pentru care intensitatea curentului electric din ramura cu generatul electric este $I = 2\text{A}$, când comutatorul K este deschis;
b. puterea electrică P disipată în rezistorul R , când comutatorul K este deschis;
c. valoarea rezistenței echivalente a circuitului exterior, în situația când comutatorul K se închide și valoarea rezistenței R a rezistorului este cea calculată la punctul a.



15 puncte

2. Un solenoid cu miez magnetic de permeabilitate relativă $\mu_r = 400$, are lungimea $\ell = 30\text{cm}$ și raza $r = 2\text{cm}$ și este bobinat spiră lângă spiră într-un singur strat, cu un fir conductor de diametru $d = 1,5\text{mm}$. Solenoidul este plasat paralel cu liniile de câmp ale unui câmp magnetic uniform de inducție $B = 10^{-3} \text{ T}$, așa cum este ilustrat în figura alăturată. Determinați:

- a. fluxul magnetic Φ din interiorul bobinei;
b. valoarea t.e.m. indusă e ce ia naștere în bobină, dacă valoarea inducției câmpului magnetic în care este plasată bobina scade uniform la un sfert din valoarea inițială în $\Delta t = 10^{-2} \text{ s}$;
c. valoarea inductanței L a bobinei.



15 puncte

Proba E: Specializarea : matematică –informatică, științe ale naturii

Proba F: Profil: tehnic – toate specializările

♦ Sunt obligatorii toți itemii din două arii tematice dintre cele patru prevăzute în programă, adică: A.MECANICĂ, B.ELECTRICITATE ȘI MAGNETISM, C. ELEMENTE DE TERMODINAMICĂ ȘI FIZICĂ MOLECULARĂ, D. OPTICĂ

♦ Se acordă 10 puncte din oficiu.

♦ Timpul efectiv de lucru este de 3 ore.

Varianta 56

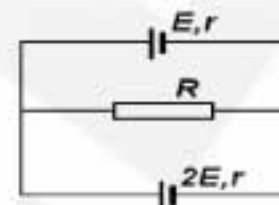
B. ELECTRICITATE ȘI MAGNETISMPermeabilitatea magnetică a vidului are valoarea $\mu_0 = 4\pi \cdot 10^{-7} \text{ N/A}^2$, iar accelerația gravitațională se consideră $g = 10 \text{ m} \cdot \text{s}^{-2}$.**I. Pentru itemii 1-5 scrieți pe foaia de răspuns litera corespunzătoare răspunsului considerat corect.****15 puncte**

1. Decide care dintre următoarele combinații de unități de măsură NU este echivalentă unității de măsură a intensității curentului electric:

- a. A b. $C \cdot s^{-1}$ c. $V \cdot \Omega^{-1}$ d. $V \cdot \Omega$

2. Două baterii, cu aceeași rezistență internă $r = 0,1 \Omega$ și de tensiuni electromotoare E și $2E$ sunt conectate cu un rezistor având rezistența electrică R , așa cum este ilustrat în figura alăturată. Dacă intensitatea curentului electric prin bateria cu t.e.m. E este zero, atunci rezistența R , are valoarea:

- a. 0Ω ; b. $0,1 \Omega$ c. $0,2 \Omega$; d. $1 \text{ k}\Omega$

3. Un ansamblu de rezistoare cu rezistența $R = 300 \Omega$ este alcătuit din două rezistoare, dispuse în serie. Primul rezistor este confecționat dintr-un material cu coeficientul termic al rezistivității $\alpha_1 = -0,02 \text{ grad}^{-1}$ iar cea de-al doilea dintr-un material cu coeficientul termic al rezistivității $\alpha_2 = 0,01 \text{ grad}^{-1}$. Valorile rezistențelor celor două rezistoare R_{01} respectiv R_{02} la 0°C , pentru care rezistența R nu depinde de temperatură sunt:

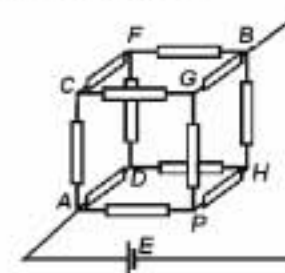
- a. $R_{01} = 100 \Omega$; $R_{02} = 200 \Omega$
 b. $R_{01} = 200 \Omega$; $R_{02} = 100 \Omega$
 c. $R_{01} = 0 \Omega$; $R_{02} = 300 \Omega$
 d. $R_{01} = 50 \Omega$; $R_{02} = 250 \Omega$

4. O baghetă metalică rigidă având masa $m = 0,01 \text{ kg}$ și lungimea $\ell = 0,5 \text{ m}$ stă în poziție orizontală agățată de două resorturi identice, verticale, nedeformate, într-o zonă din spațiu în care există un câmp magnetic uniform cu inducția $B = 0,05 \text{ T}$ cu linii de câmp orizontale. Linii de câmp sunt perpendiculare pe baghetă. Intensitatea curentului electric care trece prin baghetă este:

- a. 1 A b. 2 A c. 3 A d. 4 A

5. Toate laturile unui cub sunt alcătuite din rezistoare având rezistențe egale, R . Ansamblul este legat la o sursă de tensiune electromotoare E . Noduri aflate la același potențial electric sunt

- a. A, B, C b. C, D, P c. F, B, H d. D, F, B

**II. Rezolvați următoarele probleme:**1. Un conductor bifilar este alcătuit din două conductoare rectilinii, foarte lungi, paralele, situate la distanța $d = 0,5 \text{ cm}$, unul de celălalt. Prin fire trec, în sensuri opuse, curenți electrici staționari având aceeași intensitate $I = 0,5 \text{ A}$. Cunoscând că sistemul de conductoare este plasat în aer ($\mu_{\text{aer}} \cong \mu_0$), calculați (scriind răspunsurile numerice cu două cifre semnificative):

- a. mărimea și sensul forței de interacțiune dintre cele două fire exercitate asupra fiecărei unități de lungime de fir
 b. raportul modulelor inducțiilor câmpurilor magnetice produse de curenții care circulă prin cele două conductoare paralele, în punctele din planul conductoarelor aflate la distanța $D = 10 \text{ m}$ de un fir și respectiv la distanța $D + d$ de cel de-al doilea (distanțele sunt măsurate pe direcții normale la fire);
 c. fluxul câmpului magnetic produs de curenții electrici din cele două fire, într-o spirală cu raza $r = 2 \text{ mm}$ aflată în planul firelor cu centrul la distanța D de unul dintre fire;

15 puncte2. Dacă la bornele unei baterii se cuplează un rezistor cu rezistența $R_1 = 3 \Omega$ prin acesta trece curentul $I_1 = 3 \text{ A}$; dacă se cuplează un rezistor cu rezistența $R_2 = 5 \Omega$ prin acesta trece curentul $I_2 = 2 \text{ A}$. Determinați:

- a. tensiunea electromotoare a sursei;
 b. rezistența internă ale sursei;
 c. puterea maximă pe care ar putea-o debita sursa.

15 puncte

Proba E: Specializarea : matematică –informatică, științe ale naturii

Proba F: Profil: tehnic – toate specializările

♦ Sunt obligatorii toți itemii din două arii tematice dintre cele patru prevăzute în programă, adică: A.MECANICĂ, B.ELECTRICITATE ȘI MAGNETISM, C. ELEMENTE DE TERMODINAMICĂ ȘI FIZICĂ MOLECULARĂ, D. OPTICĂ

♦Se acordă 10 puncte din oficiu.

♦Timpul efectiv de lucru este de 3 ore.

Varianta 57

B. ELECTRICITATE ȘI MAGNETISM

Se consideră permeabilitatea vidului $\mu_0 = 4\pi \cdot 10^{-7} T \cdot mA^{-1}$

I. Pentru itemii 1-5 scrieți pe foaia de răspuns litera corespunzătoare răspunsului considerat corect.

15 puncte

1. Ținând cont de simbolurile unităților de măsură din manualele de fizică, unitatea de măsură pentru inducția magnetică poate fi:

a. $\frac{N}{A \cdot s}$

b. $\frac{kg}{As^2}$

c. $\frac{J}{A \cdot m}$

d. $\frac{kg}{A \cdot m}$

2. Considerând că simbolurile mărimilor fizice sunt cele utilizate în manualele de fizică, expresia puterii de debitare de un generator pe întreg circuitul este:

a. $P = UI$

b. $P = \frac{E^2}{R}$

c. $P = \frac{E^2}{R + r}$

d. $P = \frac{U^2}{R}$

3. Legea inducției electromagnetice (Faraday) se exprimă prin relația matematică:

a. $e = -\frac{\Delta\phi}{\Delta t}$

b. $e = \frac{\Delta\phi}{\Delta t}$

c. $e = -S \frac{\Delta B}{\Delta t}$

d. $e = -B \frac{\Delta S}{\Delta t}$

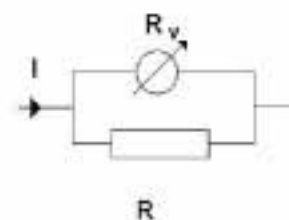
4. Tensiunea la bornele unui rezistor cu rezistența electrică $R = 10k\Omega$ este măsurată de un voltmetru cu rezistența $R_V = 20k\Omega$, care indică $U = 100V$ (vezi figura alăturată). Curentul electric din circuitul principal are intensitatea:

a. $I = 5mA$

b. $I = 10mA$

c. $I = 15mA$

d. $I = 20mA$


5. Inducția magnetică în centrul unei spire circulare de diametru d , aflată în aer $\mu_{\text{aer}} \equiv \mu_0$ și parcursă de curentul staționar de intensitate I are expresia:

a. $B = \mu_0 \frac{2I}{d}$

b. $B = \mu_0 \frac{I}{d}$

c. $B = \mu_0 \frac{I}{2d}$

d. $B = \mu_0 \frac{d}{2I}$

II. Rezolvați următoarele probleme

1. La o sursă de tensiune electromotoare $E = 10V$ se conectează pe rând rezistorii de rezistențe $R_1 = 2,5\Omega$ și respectiv $R_2 = 6,4\Omega$, care furnizează aceeași putere P . Determinați:

a. valoarea rezistenței interne r a sursei;

b. puterea de debitare pe ambele rezistențe, dacă sunt conectate în paralel la bornele aceleiași surse;

c. valoarea rezistenței R a unui alt rezistor, care ar trebui conectat la bornele sursei, astfel încât puterea de debitare de sursă pe acesta să fie maximă.

15 puncte

2. O spiră circulară cu raza $r = 1cm$ este plasată perpendicular pe direcția unui câmp magnetic vertical a cărui inducție magnetică variază în timp după legea $B(t) = (8 - 2t) \cdot 10^{-5} (T)$. Determinați:

a. dependența de timp a fluxului acestui câmp, $\phi(t)$, prin suprafața spirei;

b. intensitatea curentului electric prin spiră, dacă se cunoaște rezistența sa electrică, $R = 10^{-3}\Omega$

c. intensitatea unui curent electric care, circulând prin spiră determină anularea câmpului magnetic în centrul spirei, în situația în care inducția magnetică a câmpului exterior se menține constantă la valoarea $B_0 = 8 \cdot 10^{-5} T$.

15 puncte

Proba E: Specializarea : matematică –informatică, științe ale naturii

Proba F: Profil: tehnic – toate specializările

♦ Sunt obligatorii toți itemii din două arii tematice dintre cele patru prevăzute în programă, adică: A.MECANICĂ, B.ELECTRICITATE ȘI MAGNETISM, C. ELEMENTE DE TERMODINAMICĂ ȘI FIZICĂ MOLECULARĂ, D. OPTICĂ

♦ Se acordă 10 puncte din oficiu.

♦ Timpul efectiv de lucru este de 3 ore.

Varianta 58

B. ELECTRICITATEPermeabilitatea magnetică a vidului are valoarea $\mu_0 = 4\pi \cdot 10^{-7} \text{ N/A}^2$.**I. Pentru itemii 1-5 scrieți pe foaia de răspuns litera corespunzătoare răspunsului considerat corect.****15 puncte**1. Utilizând notațiile din manualele de fizică, unitatea de măsură a mărimii fizice care se determină prin relația $q \cdot v \cdot B \cdot \sin \alpha$ este :

- a. J b. Ω c. T d. N

2. Un rezistor este conectat la bornele unei surse de curent continuu cu tensiunea electromotoare $E = 10\text{V}$ și intensitatea curentului de scurtcircuit $I_{sc} = 5\text{A}$. Conectând un voltmetru ideal la bornele rezistorului, acesta indică 8V. În acest caz rezistența rezistorului este:

- a. $2\ \Omega$ b. $1,6\ \Omega$ c. $8\ \Omega$ d. $45\ \Omega$

3. O sursă de curent continuu cu parametri E și r este conectată la bornele unui rezistor de rezistență R . Valoarea rezistenței R pentru care se disipă pe rezistor o putere maximă este:

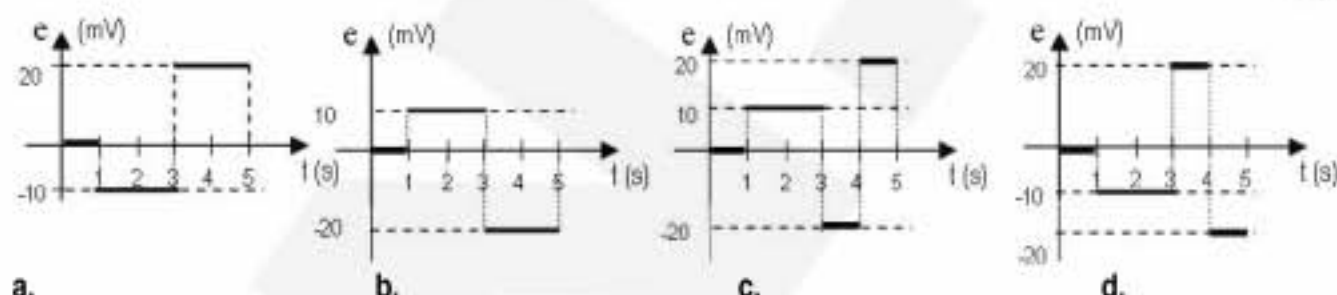
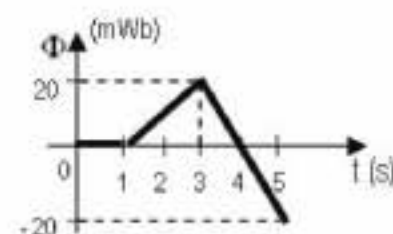
- a. $R \gg r$ b. $R = r$ c. $R \ll r$ d. $R = 4r$

4. Planul unei spire conductoare de suprafață S face unghiul α cu liniile unui câmp magnetic uniform de inducție B . Fluxul magnetic prin suprafața spirei are expresia :

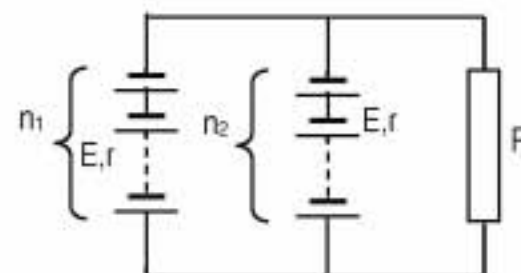
- a. $\Phi = B \cdot S \cdot \cos \alpha$ b. $\Phi = B \cdot S \cdot \cos(\frac{\pi}{2} - \alpha)$ c. $\Phi = B \cdot S \cdot \sin(\alpha - \frac{\pi}{2})$ d. $\Phi = B \cdot S \cdot \cos(\alpha + \frac{\pi}{2})$

5. În figură este reprezentată dependența de timp a fluxului magnetic prin suprafața unui circuit electric.

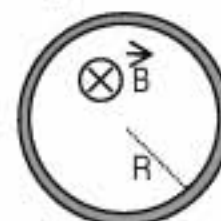
Variația tensiunii electromotoare induse în circuit în funcție de timp este reprezentată corect în figura:

**II. Rezolvați următoarele probleme:**1. Se conectează în paralel două baterii de surse identice de curent continuu, fiecare dintre surse cu parametri $E = 2\text{V}$ și $r = 0,2\ \Omega$. Pe una din ramuri sunt $n_1 = 10$ surse legate în serie, pe cealaltă $n_2 = 5$ surse legate de asemenea în serie. La bornele lor se conectează un rezistor a cărui rezistență este $R = 20\ \Omega$. Determinați:

- a. intensitatea curentului electric prin rezistor ;
b. puterea disipată pe rezistor ;
c. valoarea rezistenței electrice a rezistorului pentru care intensitatea curentului prin bateria cu n_2 surse, se anulează.

**15 puncte**2. O spiră conductoare circulară, cu raza $r = 2\text{ cm}$ și rezistența $R = 0,08\ \Omega$ este plasată într-un câmp magnetic a cărui inducție descrește cu $0,1\text{ T}$ într-o secundă. Vectorul inducție magnetică este orientat perpendicular pe planul spirei, ca în figură. Determinați:

- a. dependența de timp a inducției magnetice știind că la momentul inițial $t_0 = 0$ valoarea ei este $B_0 = 0,4\text{ T}$;
b. valoarea tensiunii electromotoare indusă în spiră;
c. valoarea intensității curentului electric indus în spiră.

**15 puncte**

Proba E: Specializarea : matematică –informatică, științe ale naturii

Proba F: Profil: tehnic – toate specializările

♦ Sunt obligatorii toți itemii din două arii tematice dintre cele patru prevăzute în programă, adică: A.MECANICĂ, B.ELECTRICITATE ȘI MAGNETISM, C. ELEMENTE DE TERMODINAMICĂ ȘI FIZICĂ MOLECULARĂ, D. OPTICĂ

♦ Se acordă 10 puncte din oficiu.

♦ Timpul efectiv de lucru este de 3 ore.

Varianta 59

B. ELECTRICITATE ȘI MAGNETISM**I. Pentru itemii 1-5 scrieți pe foaia de răspuns litera corespunzătoare răspunsului considerat corect****15 puncte**

1. Perioada mișcării circulare executată de o particulă încărcată cu sarcină electrică q ce pătrunde cu viteza \vec{v} perpendiculară pe liniile unui câmp magnetic de inducție \vec{B} nu depinde de :

- a. masa particulei
- b. viteza particulei
- c. inducția magnetică
- d. sarcina electrică a particulei

2. Intensitatea de scurtcircuit a unui generator electric este 10 A . Raportul dintre puterea disipată pe circuitul exterior și puterea totală a generatorului într-un circuit electric simplu realizat cu acest generator și în care intensitatea curentului electric este $I = 2\text{ A}$ are valoarea procentuală:

- a. 70%
- b. 80%
- c. 90%
- d. 95%

3. Unitatea de măsură a inductanței unui circuit se exprimă în funcție de unitățile fundamentale din S.I. astfel:

- a. $\text{kg m}^2 \text{s}^{-2} \text{A}^{-2}$
- b. $\text{kg m s}^2 \text{A}$
- c. $\text{kg m s}^{-2} \text{A}^{-1}$
- d. $\text{kg s}^{-2} \text{A}^{-1}$

4. Rezistența electrică a unui conductor depinde de :

- a. tensiunea aplicată la capetele sale
- b. intensitatea curentului care trece prin el
- c. temperatura la care se află
- d. sarcina electrică elementară

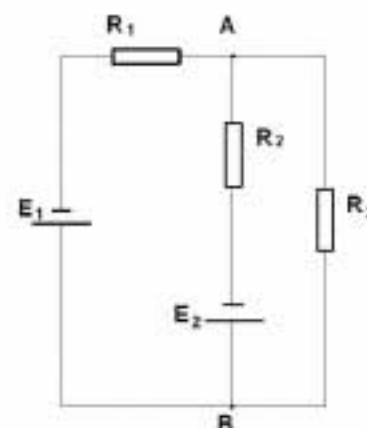
5. Spectrul câmpului magnetic în interiorul unui solenoid lung este format din linii de câmp :

- a. paralele și echidistante
- b. cercuri concentrice cu centrul pe axul solenoidului
- c. arce de parabolă
- d. arce de hiperbolă

II. Rezolvați următoarele probleme:

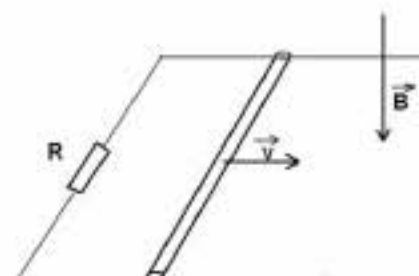
1. În circuitul din figură se cunosc: $E_1 = 10\text{ V}$, $E_2 = 8\text{ V}$, $R_1 = R_2 = R_3 = 2\ \Omega$. Se neglijează rezistența internă a surselor. Determinați :

- a. intensitatea curentului electric prin rezistorul de rezistență R_3 ;
- b. tensiunea între punctele A și B ;
- c. valoarea pe care ar trebui să o aibă tensiunea electromotoare a primei surse (E_1) pentru ca prin rezistorul R_1 să nu treacă curent electric .

**15 puncte**

2. O tijă conductoare de lungime $l = 1\text{ m}$, aria secțiunii $S = 10\text{ mm}^2$, densitate $d = 7000\text{ kg/m}^3$ și rezistivitate $\rho = 5 \cdot 10^{-8}\ \Omega\text{ m}$ alunecă cu viteza $v = 2\text{ m/s}$ fără frecare pe două șine perfect conductoare, orizontale și paralele suficient de lungi. Șinele sunt legate printr-un rezistor de rezistență $R = 2\ \Omega$. Întreg sistemul este plasat într-un câmp magnetic vertical și uniform de inducție $B = 1\text{ T}$, ca în figură. Determinați:

- a. tensiunea electromotoare indusă în tijă ;
- b. intensitatea curentului electric prin circuit ;
- c. viteza maximă atinsă de tijă dacă sistemul de șine este plasat vertical iar câmpul magnetic, cu aceeași valoare a inducției magnetice, este perpendicular pe planul șinelor. Presupuneți că tijă alunecă pe verticală în permanent contact cu șinele ($g = 10\text{ m/s}^2$).

**15 puncte**

Proba E: Specializarea : matematică –informatică, științe ale naturii

Proba F: Profil: tehnic – toate specializările

♦ Sunt obligatorii toți itemii din două arii tematice dintre cele patru prevăzute în programă, adică: A.MECANICĂ, B.ELECTRICITATE ȘI MAGNETISM, C. ELEMENTE DE TERMODINAMICĂ ȘI FIZICĂ MOLECULARĂ, D. OPTICĂ

♦ Se acordă 10 puncte din oficiu.

♦ Timpul efectiv de lucru este de 3 ore.

Varianta 60

B. ELECTRICITATE ȘI MAGNETISMPermeabilitatea magnetică a vidului este $\mu_0 = 4\pi \cdot 10^{-7} \text{ N/A}^2$ Sarcina electrică elementară $e = 1,6 \cdot 10^{-19} \text{ C}$ **I. Pentru itemii 1-5 scrieți pe foaia de răspuns litera corespunzătoare răspunsului considerat corect.****15 puncte**1. Unitatea de măsură Wb/m^2 măsoară:

- a. energia electrică b. fluxul magnetic c. inducția magnetică d. rezistența electrică

2. Dacă două particule având masele m_1 și m_2 și sarcinile electrice pozitive q_1 și q_2 descriu, într-un câmp magnetic de inducție B , câte un cerc cu razele r_1 , respectiv r_2 , în același interval de timp, atunci în mod sigur:

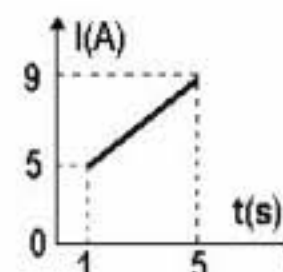
- a. $m_1 = m_2$ b. $q_1 = q_2$ c. $r_1 = r_2$ d. $q_1/m_1 = q_2/m_2$

3. Dacă normala la o suprafață aflată în câmp magnetic are aceeași direcție și același sens cu vectorul inducție a câmpului magnetic, atunci despre valoarea fluxului magnetic prin suprafața respectivă se poate afirma că:

- a. este zero
b. este maximă
c. este minimă dar diferită de zero
d. poate fi maximă sau minimă

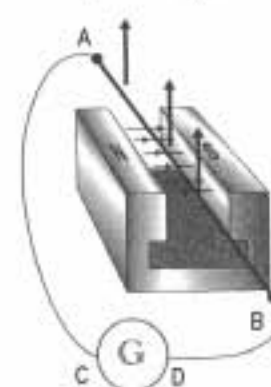
4. Un conductor metalic este parcurs de un curent electric a cărui intensitate variază în timp conform graficului alăturat. Sarcina electrică ce străbate o secțiune transversală a conductorului în intervalul de timp (1s, 5s) este egală cu:

- a. 28 C b. 16 C c. 14 C d. 1 C

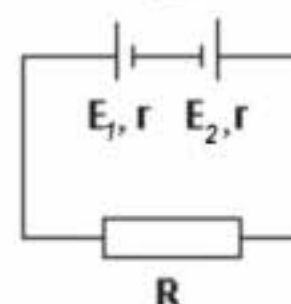


5. O bară conductoare AB este plasată între polii unui magnet permanent ca în figura alăturată. Câmpul magnetic acționează asupra ei cu o forță orientată vertical în sus. În aceste condiții:

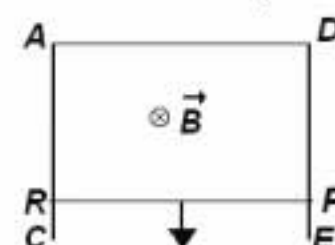
- a. borna C a generatorului este pozitivă și sensul curentului prin bară este de la A la B
b. borna C a generatorului este negativă și sensul curentului prin bară este de la A la B
c. borna C a generatorului este pozitivă și sensul curentului prin bară este de la B la A
d. borna C a generatorului este negativă și sensul curentului prin bară este de la B la A

**II. Să se rezolve următoarele probleme:**1. Pentru a realiza un rezistor a cărui rezistență să nu varieze cu temperatura, se folosesc două bare de aceeași secțiune, dar de lungimi diferite, legate în serie, una din cărbune având rezistivitatea la 0°C , ρ_{01} și coeficientul termic al rezistivității α_1 , iar alta din fier având rezistivitatea la 0°C , ρ_{02} și coeficientul termic al rezistivității α_2 . Rezistorul astfel obținut are rezistența $R = 9 \Omega$ și este cuplat într-un circuit cu două surse de tensiune electromotoare ca în figura alăturată. Sursele au rezistențe interne egale, $r = 0,5 \Omega$ și tensiunile electromotoare $E_1 = 9 \text{ V}$, respectiv $E_2 = 6 \text{ V}$.

- a. Deduceți în funcție de ρ_{01} , α_1 , ρ_{02} și α_2 raportul dintre lungimile celor 2 bare l_1/l_2 astfel încât rezistența rezistorului să nu varieze cu temperatura.
b. Determinați tensiunea la bornele sursei E_2 .
c. Determinați căldura degajată în rezistorul R în intervalul de timp $\Delta t = 1$ oră.

**15 puncte**2. Tija metalică RP de masă $m = 100 \text{ g}$, lungime $l = 25 \text{ cm}$ și rezistență neglijabilă, cade de-a lungul unor șine verticale AC și DE de rezistențe neglijabile, ca în figura alăturată. Conductorul AD are rezistența $R = 1 \Omega$. Procesul se produce într-un câmp magnetic omogen de inducție $B = 2 \text{ T}$, orientat perpendicular pe tija și pe direcția deplasării, iar în timpul căderii tija este permanent în contact electric cu șinele. Determinați:

- a. forța electromagnetică ce acționează asupra tije atunci când aceasta se deplasează cu viteza maximă;
b. viteza maximă cu care se deplasează tija;
c. tensiunea electromotoare indusă în tija atunci când aceasta se deplasează cu viteză maximă.

**15 puncte**

Proba E: Specializarea : matematică –informatică, științe ale naturii

Proba F: Profil: tehnic – toate specializările

♦ Sunt obligatorii toți itemii din două arii tematice dintre cele patru prevăzute în programă, adică: A.MECANICĂ, B.ELECTRICITATE ȘI MAGNETISM, C. ELEMENTE DE TERMODINAMICĂ ȘI FIZICĂ MOLECULARĂ, D. OPTICĂ

♦ Se acordă 10 puncte din oficiu.

♦ Timpul efectiv de lucru este de 3 ore.

Varianta 61

B. ELECTRICITATE ȘI MAGNETISM**I. Pentru itemii 1-5 scrieți pe foaia de răspuns litera corespunzătoare răspunsului considerat corect****15 puncte**

1. Unitatea de măsură a inducției magnetice, poate fi exprimată cu ajutorul unităților fundamentale din S.I. astfel:

- a. $kg\ m^2\ A^{-1}\ s^{-2}$ b. $kg\ A^{-1}\ s^{-2}$ c. $kg^{-1}\ A\ s^2\ kg^{-1}$ d. $kg\ m\ A^{-1}\ s^{-2}$

2. Mărimea fizică exprimată prin relația $q(\vec{v} \times \vec{B})$ reprezintă:

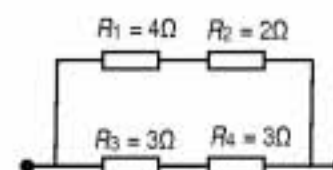
- a. forța electromagnetică b. t.e.m. indusă c. fluxul magnetic d. forța Lorentz

3. Rezistența echivalentă a grupării paralel, formate din 3 rezistoare identice care au rezistența egală cu $6\ \Omega$ fiecare, este:

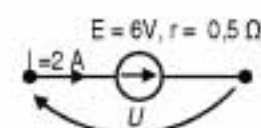
- a. $0,5\ \Omega$ b. $2\ \Omega$ c. $9\ \Omega$ d. $18\ \Omega$

4. Se dă circuitul electric reprezentat în figura alăturată. Într-un minut cea mai mare căldură se degajă în rezistorul:

- a. R_1 b. R_2 c. R_3 d. R_4

5. Tensiunea U la bornele generatorului din figură este :

- a. $3\ V$ b. $4\ V$ c. $5\ V$ d. $7\ V$

**II. Rezolvați următoarele probleme:**1. Două becuri ce funcționează normal la tensiunea $U = 220\ V$ au puterile $P_1 = 50\ W$ și $P_2 = 100\ W$. Determinați:

- a. rezistența becului doi în condiții normale de funcționare;
b. intensitatea curentului prin becul 1 în condiții normale de funcționare;
c. rezistența unui rezistor care ar trebui montat în paralel cu unul din becuri astfel încât gruparea serie formată din cele două becuri să funcționeze normal la o tensiune de alimentare $U' = 440\ V$.

15 puncte2. O spiră circulară cu diametrul $D = 40\ cm$ și rezistența electrică $R = 10\ \Omega$ este plasată într-un câmp magnetic de inducție $B = 1\ T$. Determinați:

- a. fluxul magnetic ce străbate spira dacă unghiul dintre planul spirei și inducția magnetică este $\beta = 30^\circ$;
b. t.e.m. indusă în spiră dacă \vec{B} își păstrează orientarea dar variază în timp după legea $B = (1 - 10t)(T)$;
c. intensitatea curentului prin spiră în cazul b.

15 puncte

Proba E: Specializarea : matematică –informatică, științe ale naturii

Proba F: Profil: tehnic – toate specializările

♦ Sunt obligatorii toți itemii din două arii tematice dintre cele patru prevăzute în programă, adică: A.MECANICĂ, B.ELECTRICITATE ȘI MAGNETISM, C. ELEMENTE DE TERMODINAMICĂ ȘI FIZICĂ MOLECULARĂ, D. OPTICĂ

♦ Se acordă 10 puncte din oficiu.

♦ Timpul efectiv de lucru este de 3 ore.

Varianta 62

B. ELECTRICITATE ȘI MAGNETISM

Permeabilitatea magnetică a vidului are valoarea $\mu_0 = 4\pi \cdot 10^{-7} \frac{\text{N}}{\text{A}^2}$.

I. Pentru itemii 1-5 scrieți pe foaia de răspuns litera corespunzătoare răspunsului considerat corect

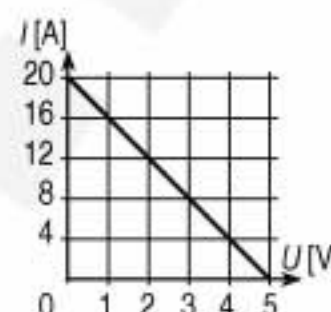
15 puncte

1. Dacă notațiile sunt cele utilizate în manualele de fizică, unitatea de măsură S.I. a mărimii fizice descrise de relația $L \cdot I$ este:

- a. $\frac{\text{J}}{\text{A}^2}$ b. $\frac{\text{N}}{\text{A}^2}$ c. $\frac{\text{N} \cdot \text{m}}{\text{A}}$ d. $\frac{\text{N}}{\text{A} \cdot \text{m}}$

2. Dependența intensității curentului electric ce străbate un reostat legat la bornele unui generator cu t.e.m. E și rezistența interioară r de tensiunea la bornele sale este indicată în figura alăturată. Valoarea maximă a puterii disipate prin efect Joule în reostat este:

- a. 100 W
b. 50 W
c. 25 W
d. 20 W



3. O bobină cu miez magnetic având permeabilitatea $\mu = 4\pi \cdot 10^{-4} \frac{\text{N}}{\text{A}^2}$ este parcursă de un curent electric staționar. Curentul scade uniform la zero în zece secunde, astfel încât la bornele bobinei apare o t.e.m. autoindusă e_a . Dacă se scoate miezul magnetic, pentru a obține aceeași valoare e_a a t.e.m. autoinduse, intensitatea curentului trebuie să scadă uniform la zero într-un interval de timp de:

- a. 1 ms b. 10 ms c. 0,1 s d. 1 s

4. Într-un circuit electric simplu, tensiunea la bornele unui generator cu t.e.m. $E = 24 \text{ V}$ are valoarea $U = 12 \text{ V}$. Raportul dintre rezistența circuitului exterior și rezistența interioară a generatorului este:

- a. 0,5; b. 1; c. 2; d. 4.

5. Un fir conductor având rezistența electrică $0,1 \Omega$ este alcătuit din 20 de fire metalice identice. Rezistența celor douăzeci de fire legate în serie (toate conexiunile având rezistență practic nulă) are valoarea:

- a. 2Ω b. 20Ω c. 40Ω d. 400Ω

II. Rezolvați următoarele probleme:

1. Un circuit electric simplu este format dintr-un generator având t.e.m. E și rezistența interioară r , și un consumator care este un reostat. Dacă tensiunea la bornele reostatului este $U_1 = 9 \text{ V}$ sau $U_2 = 15 \text{ V}$, puterea disipată prin efect Joule în reostat are aceeași valoare $P = 150 \text{ W}$.

- a. Determinați t.e.m. E a generatorului.
b. Calculați rezistența interioară r a generatorului.
c. Stabiliți valoarea tensiunii la bornele reostatului pentru care puterea disipată prin efect Joule în reostat este maximă și calculați această valoare maximă.



15 puncte

2. Un solenoid S, fără miez magnetic ($\mu_{\text{aer}} \equiv \mu_0$) bobinat cu 100 de spire pe centimetru, este parcurs de un curent continuu cu intensitatea de 10 A . În interiorul său este plasată coaxial o bobină B cu 10 spire și suprafața de 1 cm^2 .

- a. Definiți fluxul magnetic printr-o suprafață și indicați unitatea sa de măsură în S.I.
b. Calculați inducția câmpului magnetic din interiorul solenoidului S.
c. Determinați valoarea fluxului magnetic total prin bobina B.

15 puncte

Proba E: Specializarea : matematică –informatică, științe ale naturii

Proba F: Profil: tehnic – toate specializările

♦ Sunt obligatorii toți itemii din două arii tematice dintre cele patru prevăzute în programă, adică: A.MECANICĂ, B.ELECTRICITATE ȘI MAGNETISM, C. ELEMENTE DE TERMODINAMICĂ ȘI FIZICĂ MOLECULARĂ, D. OPTICĂ

♦ Se acordă 10 puncte din oficiu.

♦ Timpul efectiv de lucru este de 3 ore.

Varianta 63

B. ELECTRICITATE ȘI MAGNETISMPermeabilitatea magnetică a vidului are valoarea $\mu_0 = 4\pi \cdot 10^{-7} \text{ N} \cdot \text{A}^{-2}$.**I. Pentru itemii 1-5 scrieți pe foaia de răspuns litera corespunzătoare răspunsului considerat corect****15 puncte**

1. Dacă notațiile sunt cele utilizate în manualele de fizică, unitatea de măsură în S.I. a

mărimii fizice descrise de relația $\frac{F}{I\ell}$ este:

- a. $\text{N} \cdot \text{m}^{-1}$ b. Wb c. T d. H

2. Un circuit simplu este format din consumatorul cu rezistență variabilă R și un generator cu t.e.m. E și rezistență internă r . Pentru acest circuit dependența intensității curentului de tensiunea la borne este ilustrată în figura alăturată. Dacă bornele generatorului ar fi puse în scurt circuit, generatorul ar fi parcurs de un curent de intensitatea:

- a. nulă b. 5 A c. 10 A d. infinită

3. O bobină este realizată prin înfășurarea unui conductor, spirală lângă spirală, pe o lungime ℓ în jurul unui miez de permeabilitate relativă μ_r . Expresia prin care se poate calcula valoarea inducției magnetice în interiorul bobinei care are N spire și este parcursă de curent electric cu intensitatea I este:

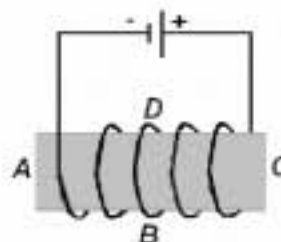
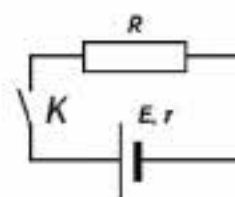
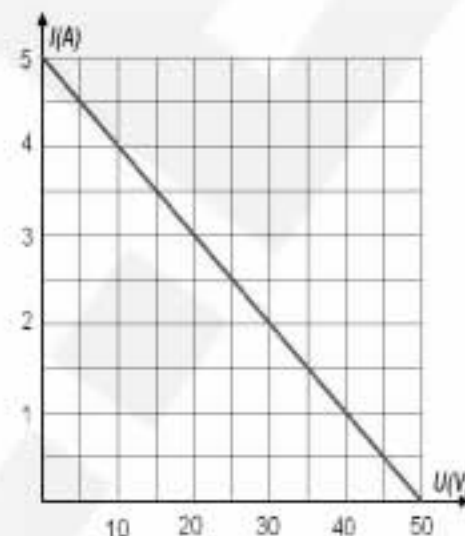
- a. $\mu_0 \mu_r \frac{NI}{\ell}$ b. $\mu_0 \mu_r \frac{N^2 I}{\ell}$ c. $\mu_0 \mu_r NI\ell$ d. $\mu_0 \mu_r \frac{N^2 \ell}{I}$

4. Circuitul simplu din figura alăturată are următorii parametri: $R = 2 \Omega$, $E = 24 \text{ V}$, $r = 0,4 \Omega$. La închiderea circuitului cu ajutorul întrerupătorului K se stabilește prin rezistor un curent cu intensitatea de:

- a. 100 A b. 12 A c. 10 A d. $0,1 \text{ A}$

5. Figura alăturată reprezintă o bobină alimentată de la un generator cu t.e.m. continuă. Vectorul \vec{B} ce caracterizează câmpul magnetic produs în interiorul bobinei este orientat:

- a. de la D spre B b. de la B spre D c. de la A spre C d. de la C spre A

**II. Rezolvați următoarele probleme:**

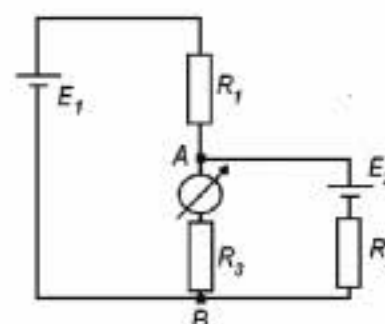
1. O spirală circulară cu diametrul $D = 0,2 \text{ m}$ și rezistența electrică $R = 0,2 \Omega$ este plasată în câmp magnetic uniform orientat perpendicular pe planul spirei. La un moment dat spira este extrasă din câmp, durata procesului fiind $\Delta t = 0,01 \text{ s}$. Dacă valoarea inducției câmpului magnetic este $B = 2 \text{ T}$:

- a. Scrieți expresia legii lui Faraday pentru inducția electromagnetică.
b. Calculați valoarea fluxului magnetic prin suprafața spirei când ea se află în câmp.
c. Calculați valoarea medie a intensității curentului electric indus în spirală când aceasta este extrasă din câmp.

15 puncte

2. Două surse de t.e.m. continuă, fără rezistență internă, sunt conectate ca în figura alăturată. Valorile rezistențelor din circuit sunt $R_1 = 100 \Omega$ și $R_2 = 300 \Omega$. Ampermetrul ideal montat pe ramura AB indică valoare nulă a curentului. Considerând $E_1 = 30 \text{ V}$, determinați:

- a. valoarea t.e.m. E_2 ;
b. intensitatea curentului electric prin ramurile ce conțin sursele;
c. puterea electrică totală disipată pe rezistorii R_1 și R_2 .

**15 puncte**

Proba E: Specializarea : matematică –informatică, științe ale naturii

Proba F: Profil: tehnic – toate specializările

♦ Sunt obligatorii toți itemii din două arii tematice dintre cele patru prevăzute în programă, adică: A.MECANICĂ, B.ELECTRICITATE ȘI MAGNETISM, C. ELEMENTE DE TERMODINAMICĂ ȘI FIZICĂ MOLECULARĂ, D. OPTICĂ

♦ Se acordă 10 puncte din oficiu.

♦ Timpul efectiv de lucru este de 3 ore.

Varianta 64

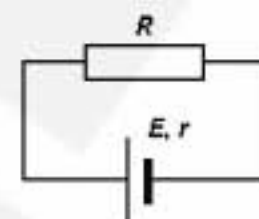
B. ELECTRICITATE ȘI MAGNETISMPermeabilitatea magnetică a vidului are valoarea $\mu_0 = 4\pi \cdot 10^{-7} \text{ N/A}^2$.**I. Pentru itemii 1-5 scrieți pe foaia de răspuns litera corespunzătoare răspunsului considerat corect****15 puncte**

1. Un conductor cilindric din cupru ($\rho_{Cu} = 1,7 \cdot 10^{-8} \Omega \cdot m$) are lungimea $l = 25 \text{ cm}$ și diametrul $D = 1 \text{ mm}$ și este parcurs de un curent electric cu intensitatea $I = 2 \text{ A}$. Valoarea căderii de potențial electric la capetele conductorului este:

- a. 11 mV b. 110 mV c. $1,1 \text{ V}$ d. 11 V

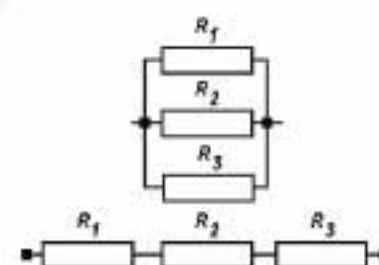
2. Un circuit electric simplu, alcătuit ca în figura alăturată, este parcurs de un curent electric cu intensitatea I . Care dintre expresiile de mai jos este adevărată pentru circuitul respectiv?

- a. $I = U_{\text{borne}} / (R + r)$ b. $I = E / (R + r)$ c. $I = E / R$ d. $I = U_{\text{borne}} / r$



3. Consumatorii din figura alăturată au rezistențele electrice $R_1, R_2 = 2R_1, R_3 = 3R_1$. Dacă sunt grupați în serie, respectiv în paralel, raportul dintre rezistențele echivalente ale grupărilor are valoarea:

- a. $R_s / R_p = 6/11$ b. $R_s / R_p = 6$ c. $R_s / R_p = 11$ d. $R_s / R_p = 11/6$



4. Unitatea de măsură în S.I. pentru fluxul câmpului magnetic este:

- a. tesla (T);
b. henry (H);
c. weber (Wb);
d. ohm (Ω).

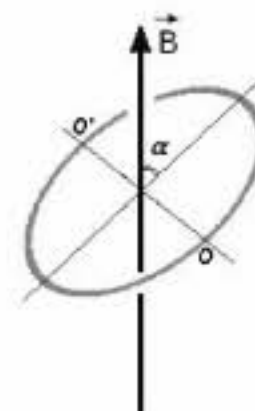
5. Intensitatea curentului electric ce străbate o bobină scade cu 6 A/s . Dacă în bobină este astfel autoindusă o t.e.m. $e = 1,5 \text{ V}$, valoarea inductanței sale este:

- a. 600 mH b. 300 mH c. 250 mH d. 150 mH

II. Rezolvați următoarele probleme:

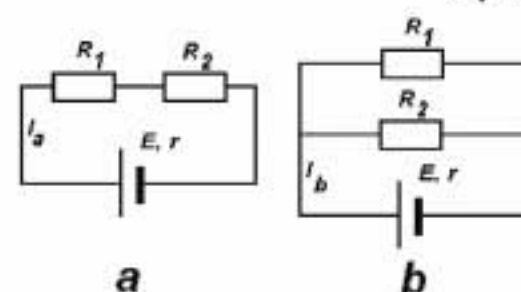
1. Spira circulară conductoare din figura alăturată are aria suprafeței $S = 10 \text{ cm}^2$ și rezistența electrică totală $R = 1 \Omega$. Dacă spira se află într-un câmp magnetic uniform de inducție $B = 80 \text{ mT}$, a cărui direcție face unghiul $\alpha = 60^\circ$ cu planul spirei, determinați:

- a. valoarea fluxului magnetic prin suprafața spirei;
b. t.e.m. indusă în spirală la rotirea ei în timp de 1 s , în jurul axei OO' , până când planul spirei devine paralel cu direcția câmpului;
c. mărimea sarcinii electrice deplasate prin spirală în acest timp.

**15 puncte**

2. Un generator de tensiune continuă cu t.e.m. $E = 10 \text{ V}$ și rezistența internă $r = 1 \Omega$ este utilizat pentru alimentarea circuitului electric din figura alăturată în cele două situații reprezentate (a și b). Dacă valorile intensității curentului prin generator în cele două situații sunt $I_a = 2,5 \text{ A}$ și, respectiv $I_b = 6 \text{ A}$, să se determine:

- a. valorile tensiunii la bornele generatorului în fiecare din cazuri;
b. valorile celor două rezistențe electrice;
c. puterile electrice disipate în circuitul exterior, în fiecare din cazuri.

**15 puncte**

Proba E: Specializarea : matematică –informatică, științe ale naturii

Proba F: Profil: tehnic – toate specializările

♦ Sunt obligatorii toți itemii din două arii tematice dintre cele patru prevăzute în programă, adică: A.MECANICĂ, B.ELECTRICITATE ȘI MAGNETISM, C. ELEMENTE DE TERMODINAMICĂ ȘI FIZICĂ MOLECULARĂ, D. OPTICĂ

♦ Se acordă 10 puncte din oficiu.

♦ Timpul efectiv de lucru este de 3 ore.

Varianta 65

B. ELECTRICITATE ȘI MAGNETISMPermeabilitatea magnetică a vidului are valoarea $\mu_0 = 4\pi \cdot 10^{-7} \text{ N/A}^2$ **I. Pentru itemii 1-5 scrieți pe foaia de răspuns litera corespunzătoare răspunsului considerat corect****15 puncte**

1. Dacă notațiile sunt cele utilizate în manualele de fizică, atunci unitatea de măsură în S.I. a mărimii fizice descrise de relația $\rho \ell / s$ este:

a. N/m

d. Ω

b. A/m

c. T



2. Un ampermetru și un voltmetru au rezistențele R_A , respectiv R_V .

Pentru ca aparatele să fie considerate ideale trebuie ca :

a. R_A, R_V să aibă valori foarte micib. R_A, R_V să aibă valori foarte maric. $R_A \rightarrow \infty, R_V \rightarrow 0$ d. $R_A \rightarrow 0, R_V \rightarrow \infty$

3. Graficul tensiunii la bornele unui generator în funcție de intensitatea curentului dintr-un circuit simplu în care rezistența de sarcină variază este reprezentat în figura alăturată. Rezistența internă a generatorului este :

a. 0Ω b. 6Ω c. 12Ω d. 96Ω

4. Inductanța unei bobine se exprimă prin relația :

a. $\frac{\mu N I}{\ell}$ b. $\frac{\mu N^2 S}{\ell}$ c. $\frac{\mu N I S}{\ell}$ d. $\frac{\mu N^2 I}{2\pi r}$

5. Tensiunea electromotoare indusă într-un conductor rectiliniu de lungime $\ell = 20\text{cm}$ ce se deplasează cu viteza $v = 1\text{m/s}$, perpendiculară pe liniile unui câmp magnetic uniform cu inducția $B = 1\text{T}$ are valoarea :

a. $0,1\text{V}$ b. $0,2\text{V}$ c. $1,2\text{V}$ d. 0V **II. Rezolvați următoarele probleme:**

1. O sursă de curent continuu cu t.e.m. $E = 10\text{V}$ și rezistența interioară $r = 1\Omega$, alimentează un circuit format din două rezistoare electrice cu rezistențele R_1 și R_2 . Dacă rezistoarele sunt conectate în serie, intensitatea curentului din circuit este $I_s = 2,5\text{A}$, iar dacă acestea sunt conectate în paralel $I_p = 6\text{A}$. Determinați:

a. tensiunea la bornele sursei, atunci când rezistoarele sunt conectate în paralel ;

b. valorile rezistențelor electrice ale celor două rezistoare ;

c. energia electrică disipată în circuitul exterior în timpul $t = 30\text{min}$, atunci când cele două rezistoare sunt conectate în serie.**15 puncte**

2. Două conductoare rectilinii, paralele, foarte lungi parcurse de curenți electrice staționari de același sens cu intensitățile $I_1 = 1\text{A}$, respectiv $I_2 = 2\text{A}$ se află în aer ($\mu_{\text{aer}} \cong \mu_0$) la distanța $d = 5\text{cm}$ unul de altul. Determinați :

a. inducția câmpului magnetic rezultat la mijlocul distanței dintre conductoare ;

b. forța ce se exercită asupra unității de lungime a unui conductor parcurs de curent electric de intensitate $I_3 = 1\text{A}$ plasat paralel cu celelalte două conductoare la distanța $d_1 = 4\text{cm}$ de primul și $d_2 = 3\text{cm}$ de al doilea ;

c. distanța față de primul conductor la care ar trebui să fie plasat acest al treilea conductor pentru a fi în echilibru.

15 puncte

Proba E: Specializarea : matematică –informatică, științe ale naturii

Proba F: Profil: tehnic – toate specializările

♦ Sunt obligatorii toți itemii din două arii tematice dintre cele patru prevăzute în programă, adică: A.MECANICĂ, B.ELECTRICITATE ȘI MAGNETISM, C. ELEMENTE DE TERMODINAMICĂ ȘI FIZICĂ MOLECULARĂ, D. OPTICĂ

♦ Se acordă 10 puncte din oficiu.

♦ Timpul efectiv de lucru este de 3 ore.

Varianta 66

B. ELECTRICITATE ȘI MAGNETISM

Permeabilitatea magnetică a vidului are valoarea $\mu_0 = 4\pi \cdot 10^{-7} \text{ N/A}^2$.

I. Pentru itemii 1-5 scrieți pe foaia de răspuns litera corespunzătoare răspunsului considerat corect

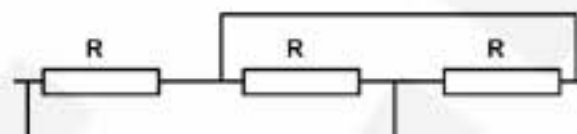
15 puncte

1. Unitatea de măsură a mărimii fizice descrise prin expresia $\frac{RS}{l}$ este :

- a. W b. A c. Ω d. $\Omega \cdot m$

2. Rezistența electrică a grupării celor trei rezistori de rezistență $R = 30\Omega$ conectați ca în figura alăturată este:

- a. 10Ω
b. 90Ω
c. 45Ω
d. 30Ω



3. Rezistența electrică a grupării serie (R_s) pentru doi rezistori cu rezistențele electrice R_1 și R_2 îndeplinește relațiile:

- a. $R_s < R_1$ și $R_s < R_2$; b. $R_s > R_1$ și $R_s > R_2$; c. $R_s < R_1$ și $R_s > R_2$; d. $R_s > R_1$ și $R_s < R_2$.

4. Vectorul inducție magnetică are direcția:

- a. normală la liniile de câmp magnetic;
b. forței electromagnetice de interacțiune dintre câmpul magnetic și un conductor rectiliniu parcurs de curent electric;
c. tangentă la liniile de câmp magnetic;
d. forței Lorentz de interacțiune dintre câmpul magnetic și unitatea de sarcină electrică.

5. Fluxul unui câmp magnetic de inducție \vec{B} printr-o suprafață caracterizată de vectorul suprafață \vec{S} este :

- a. nul atunci când vectorii \vec{B} și \vec{S} sunt paraleli;
b. maxim atunci când vectorii \vec{B} și \vec{S} sunt perpendiculari;
c. minim atunci când vectorii \vec{B} și \vec{S} sunt paraleli și au același sens;
d. nul atunci când vectorii \vec{B} și \vec{S} sunt perpendiculari.

II. Rezolvați următoarele probleme:

1. Un generator cu t.e.m. E și rezistența internă r are curentul de scurtcircuit $I_{sc} = 20A$. El transferă aceeași putere circuitului exterior dacă la bornele sale are conectat fie un rezistor cu $R_1 = 4\Omega$, fie un rezistor cu $R_2 = 9\Omega$. Determinați:

- a. rezistența internă și t.e.m. ce caracterizează generatorul electric;
b. puterea electrică maximă pe care o poate transfera generatorul circuitului exterior;
c. raportul dintre puterea disipată pe cei doi rezistori conectați în serie la bornele generatorului și puterea totală a generatorului.

15 puncte

2. Doi conductori rectilinii, paraleli și foarte lungi sunt plasați în aer ($\mu_{aer} \equiv \mu_0$) la distanța $d = 5cm$ unul de altul. Prin cei doi conductori trec doi curenți electrici staționari de același sens, cu intensitățile $I_1 = 5A$ și $I_2 = 2A$. Determinați:

- a. valoarea inducției câmpului magnetic într-un punct M aflat la distanța $r_1 = 4cm$ de primul conductor și la $r_2 = 3cm$ față de al doilea conductor;
b. poziția față de conductorul 1, a unui punct N, aflat între cei doi conductori, în care inducția câmpului magnetic rezultat este nulă;
c. forța rezultantă pe unitatea de lungime cu care acționează cei doi conductori asupra unui alt conductor plasat paralel cu aceștia, la jumătatea distanței dintre ei și parcurs de un curent cu intensitatea $I_3 = 1A$.

15 puncte

Proba E: Specializarea : matematică –informatică, științe ale naturii

Proba F: Profil: tehnic – toate specializările

♦ Sunt obligatorii toți itemii din două arii tematice dintre cele patru prevăzute în programă, adică: A.MECANICĂ, B.ELECTRICITATE ȘI MAGNETISM, C. ELEMENTE DE TERMODINAMICĂ ȘI FIZICĂ MOLECULARĂ, D. OPTICĂ

♦ Se acordă 10 puncte din oficiu.

♦ Timpul efectiv de lucru este de 3 ore.

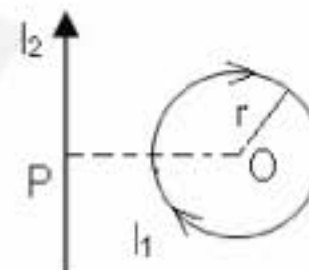
Varianta 67

B. ELECTRICITATE ȘI MAGNETISMPermeabilitatea magnetică a vidului are valoarea $\mu_0 = 4\pi \cdot 10^{-7} \text{ N/A}^2$.**I. Pentru itemii 1-5 scrieți pe foaia de răspuns litera corespunzătoare răspunsului considerat corect****15 puncte**1. Forța care acționează asupra unui conductor liniar cu lungimea $l = 10 \text{ m}$ parcurs de un curent electric de intensitate $I = 1 \text{ A}$, din partea unui câmp magnetic uniform de inducție $B = 2 \text{ mT}$ orientat față de conductor la unghiul $\alpha = 30^\circ$ are valoarea:

- a. $0,01 \text{ N}$ b. $0,017 \text{ N}$ c. $0,02 \text{ N}$ d. 10 N

2. Unitatea de măsură în S.I. pentru fluxul magnetic este:

- a. $\text{kg} \cdot \text{s}^{-1} \cdot \text{A}^{-1}$ b. $\text{kg} \cdot \text{m}^3 \cdot \text{A}^{-1} \cdot \text{s}^{-2}$ c. $\text{kg} \cdot \text{m}^2 \cdot \text{s}^{-2} \cdot \text{A}^{-1}$ d. $\text{m}^2 \cdot \text{s}^{-2} \cdot \text{A}^{-1}$

3. O spiră circulară de rază $r = 2 \text{ cm}$, străbătută de un curent de intensitate $I_1 = 1 \text{ A}$ are centrul O plasat la distanța $OP = 2r$ față de un conductor liniar, infinit, coplanar cu spira, parcurs de curentul $I_2 = 12,56 (\cong 4\pi) \text{ A}$ ca în figură. Dacă sistemul este plasat în vid, inducția magnetică în centrul spirei are valoarea:

- a. $3,14 \mu\text{T}$
b. $9,42 \mu\text{T}$
c. $31,4 \mu\text{T}$
d. $94,2 \mu\text{T}$

4. O spiră conductoare de diametru $d = 20 \text{ cm}$ și cu rezistența $R = 3,14 (\pi) \Omega$ este plasată pe o suprafață orizontală, într-un câmp magnetic uniform, vertical având valoarea inducției magnetice $B = 50 \text{ mT}$. La răsturnarea cu 180° a spirei, prin aceasta trece o sarcină electrică de valoare:

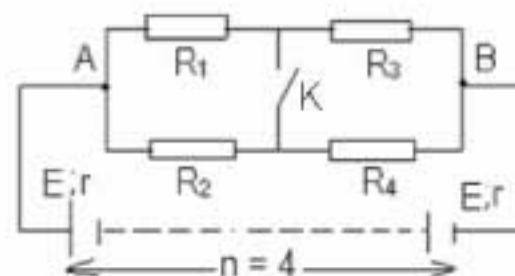
- a. $0,1 \text{ mC}$ b. $0,5 \text{ mC}$ c. 1 mC d. 10 mC

5. Intensitatea curentului de scurtcircuit pentru o sursă cu t.e.m $E = 10 \text{ V}$ este $I_s = 10 \text{ A}$. La bornele sursei se leagă un rezistor a cărui rezistență are o astfel de valoare încât tensiunea la borne $U = 0,9 E$. Valoarea rezistenței acestui rezistor este:

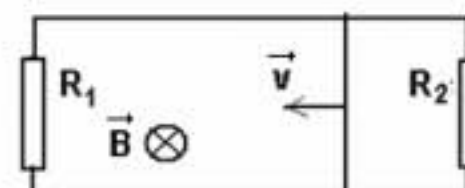
- a. 1Ω b. 9Ω c. 10Ω d. 11Ω

II. Rezolvați următoarele probleme:1. Se dă circuitul din figură pentru care se cunoaște că sursa de alimentare este realizată din $n = 4$ elemente identice, fiecare având t.e.m $E = 1,5 \text{ V}$ și rezistența electrică internă $r = 0,1 \Omega$, iar rezistențele au valorile $R_1 = 2 \Omega$, $R_2 = 3 \Omega$, $R_3 = 4 \Omega$ și $R_4 = 6 \Omega$. Determinați:

- a. intensitatea curentului electric prin sursă când întrerupătorul K este deschis;
b. tensiunea electrică U_{AB} între punctele A și B când întrerupătorul K este închis;
c. puterea disipată în rezistența R_2 în cazul precizat la punctul b.

**15 puncte**2. Un conductor de lungime $l = 0,2 \text{ m}$ și rezistență $r = 0,5 \Omega$ se deplasează cu viteză constantă $v = 10 \text{ m/s}$ pe două șine conductoare paralele, legate la capete prin două rezistoare de rezistențe $R_1 = 2 \Omega$ și $R_2 = 6 \Omega$, ca în figura alăturată. Sistemul este plasat într-un câmp magnetic uniform de inducție magnetică $B = 1 \text{ T}$, perpendicular pe planul șinelor. Determinați:

- a. valoarea tensiunii electromotoare induse în conductorul mobil;
b. intensitățile curentului electric prin cele două rezistoare;
c. energia consumată pentru deplasarea conductorului în timpul $t = 2 \text{ ms}$.

**15 puncte**

Proba E: Specializarea : matematică –informatică, științe ale naturii

Proba F: Profil: tehnic – toate specializările

♦ Sunt obligatorii toți itemii din două arii tematice dintre cele patru prevăzute în programă, adică: A.MECANICĂ, B.ELECTRICITATE ȘI MAGNETISM, C. ELEMENTE DE TERMODINAMICĂ ȘI FIZICĂ MOLECULARĂ, D. OPTICĂ

♦ Se acordă 10 puncte din oficiu.

♦ Timpul efectiv de lucru este de 3 ore.

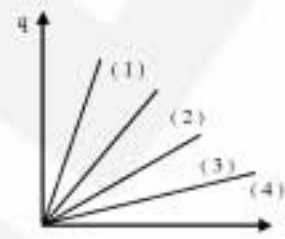
Varianta 68

B. ELECTRICITATE ȘI MAGNETISM**I. Pentru itemii 1-5 scrieți pe foaia de concurs litera corespunzătoare răspunsului considerat corect****15 puncte**

1. Între elementele ce caracterizează două conductoare din același material există relațiile : $l_1 = 2 l_2$, $r_1 = 2 r_2$, unde l_1 și l_2 sunt lungimile conductoarelor, iar r_1 și r_2 sunt razele secțiunii conductoarelor. Raportul R_1 / R_2 al rezistențelor electrice a celor două conductoare este :

- a. $\frac{1}{5}$ b. $\frac{1}{3}$ c. $\frac{1}{2}$ d. 2

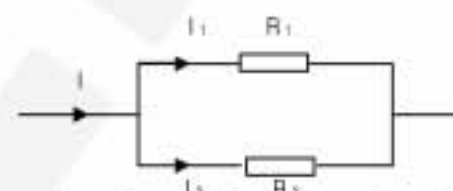
2. Graficele din figura alăturată reprezintă dependența de timp a sarcinii electrice ce trece printr-o secțiune transversală a unui conductor. Graficul trasat pentru un curent de intensitate mai mare, este :



- a. graficul 1 b. graficul 2 c. graficul 3 d. graficul 4

3. Considerați o porțiune de circuit a cărei diagramă este în figura alăturată. În cazul în care intensitățile curenților au valorile $I = 6 \text{ A}$, $I_1 = 4 \text{ A}$, iar rezistența electrică $R_2 = 3 \Omega$, atunci rezistența electrică R_1 are valoarea :

- a. 1Ω b. $1,5 \Omega$ c. $3,5 \Omega$ d. $5,4 \Omega$



4. Un conductor rectiliniu parcurs de un curent electric staționar cu intensitatea $I = 10 \text{ A}$, este plasat într-un câmp magnetic uniform cu inducția $B = 1,5 \text{ T}$. Direcția conductorului face un unghi de 30° cu liniile de câmp. Forța ce acționează asupra unității de lungime în aceste condiții are valoarea :

- a. $1,5 \text{ N/m}$ b. $2,4 \text{ N/m}$ c. $4,5 \text{ N/m}$ d. $7,5 \text{ N/m}$

5. Permeabilitatea magnetică relativă :

a. se măsoară în N/A^2

b. pentru vid este egală cu unitatea

c. este egală cu raportul dintre permeabilitatea magnetică a vidului și permeabilitatea magnetică a mediului

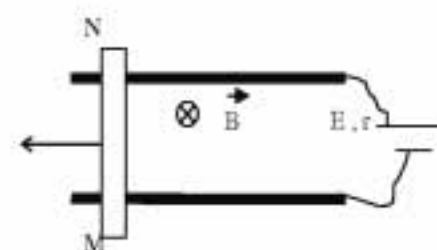
d. are aceeași valoare pentru toate mediile

II. Rezolvați următoarele probleme :

1. Un conductor rectiliniu MN cu lungimea $l = 1,2 \text{ m}$, alunecă fără frecare pe două bare conductoare aflate într-un plan orizontal ca în figura alăturată. La capetele barelor este conectată o sursă cu t.e.m. $E = 24 \text{ V}$ și rezistență interioară $r = 5 \Omega$. Sistemul este plasat într-un câmp magnetic uniform orientat perpendicular pe planul circuitului și având inducția $B = 0,8 \text{ T}$. Rezistența conductorului MN este $R = 25 \Omega$, iar rezistența barelor se neglijează. Determinați :

a. intensitatea curentului electric prin conductor atunci când acesta este fix ;

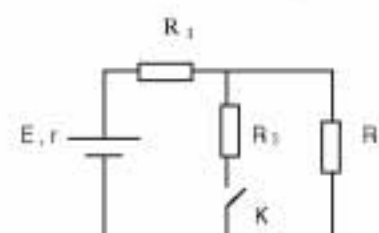
b. forța ce acționează asupra conductorului în condițiile punctului a ;

c. intensitatea curentului electric prin conductor, atunci când acesta se deplasează cu viteza $v = 12,5 \text{ m/s}$, perpendicular pe liniile câmpului magnetic în sensul indicat de săgeată.**15 puncte**

2. Circuitul electric a cărei diagramă este în figura alăturată este alimentat de la o baterie cu t.e.m. $E = 20 \text{ V}$ și rezistență interioară $r = 1 \Omega$. Rezistențele rezistorilor au valorile : $R_1 = 5 \Omega$, $R_2 = 4 \Omega$ și $R_3 = 1 \Omega$. Determinați :

a. energia consumată pe circuitul exterior în timpul $t = 2 \text{ min}$, când întrerupătorul K este deschis ;

b. tensiunea la bornele sursei dacă se închide întrerupătorul K ;

c. raportul P / P' dintre puterea disipată pe circuitul exterior și puterea disipată pe întregul circuit când întrerupătorul K este închis .**15 puncte**

Proba E: Specializarea : matematică –informatică, științe ale naturii


Proba F: Profil: tehnic – toate specializările

♦ Sunt obligatorii toți itemii din două arii tematice dintre cele patru prevăzute în programă, adică: A.MECANICĂ, B.ELECTRICITATE ȘI MAGNETISM, C. ELEMENTE DE TERMODINAMICĂ ȘI FIZICĂ MOLECULARĂ, D. OPTICĂ

♦ Se acordă 10 puncte din oficiu.

♦ Timpul efectiv de lucru este de 3 ore.

Varianta 69

B. ELECTRICITATE ȘI MAGNETISMPermeabilitatea magnetică a vidului are valoarea $\mu_0 = 4\pi \cdot 10^{-7} \frac{N}{A^2}$ **I. Pentru itemii 1-5 scrieți pe foaia de răspuns litera corespunzătoare răspunsului considerat corect.****15 puncte**1. Fluxul magnetic propriu prin miezul unui solenoid cu inductanța $L = 1 \mu H$ străbătut de un curent cu intensitatea $I = 1,5 A$ are valoareaa. $1,5 mWb$ b. $1,67 mWb$ c. $1,5 \mu Wb$ d. $1,67 \mu Wb$ 2. Intensitatea maximă a curentului electric generat de o baterie formată prin gruparea a $N = 24$ de generatoare identice, având fiecare tem $E = 2 V$ și rezistența internă $r = 0,75 \Omega$ în 3 serii legate în paralel la bornele unui rezistor cu rezistența $R = 6 \Omega$ estea. $1 A$ b. $2 A$ c. $3 A$ d. $4 A$ 3. Tensiunea U măsurată la bornele unei surse cu tem E și rezistența internă r variază în funcție de rezistența R a circuitului exterior conform reprezentării

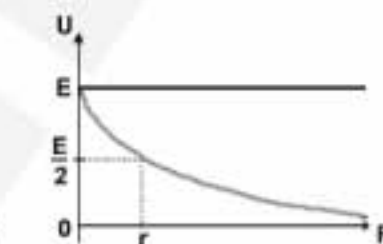
a.



b.



c.



d.

4. Coeficientul termic al rezistivității unui metal care prin încălzire cu $\Delta t = 700^\circ C$ își modifică rezistența electrică cu $f = 35\%$ are valoareaa. $\alpha = 2 \cdot 10^{-4} K^{-1}$ b. $\alpha = 5 \cdot 10^{-4} K^{-1}$ c. $\alpha = 2 \cdot 10^{-3} K^{-1}$ d. $\alpha = 5 \cdot 10^{-3} K^{-1}$ 5. Unitatea de măsură exprimată în S.I. prin $kg \cdot s^{-2} \cdot A^{-1}$ se folosește pentru mărimea fizică

a. flux magnetic

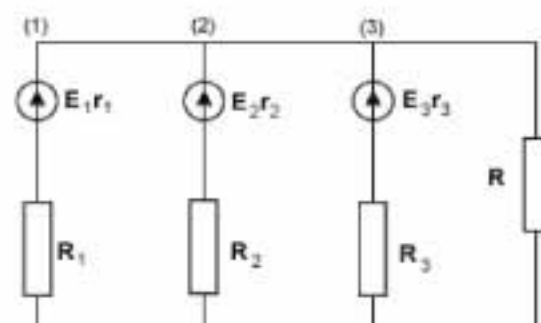
b. inductanță

c. inducție electromagnetică

d. inducție magnetică

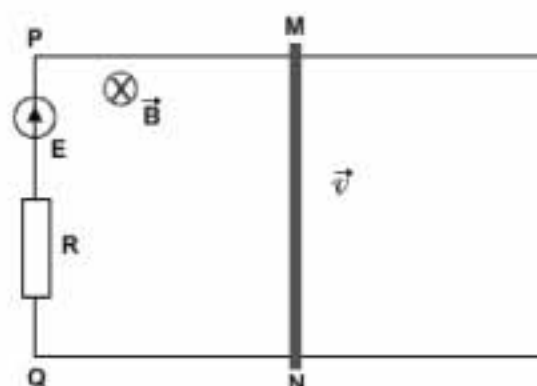
II. Rezolvați următoarele probleme:1. În circuitul din figură se cunosc: $E_1 = 8 V$, $r_1 = 0,3 \Omega$, $R_1 = 19,7 \Omega$, $E_2 = 4 V$, $r_2 = 0,5 \Omega$, $R_2 = 19,5 \Omega$, $E_3 = 5 V$, $r_3 = 0,4 \Omega$, $R_3 = 24,6 \Omega$ și $R = 50 \Omega$. Determinați:a. intensitățile curentilor din fiecare ramură: I_1 , I_2 , I_3 , I ;b. rezistența R' a consumatorului care, înlocuind dispozitivele din ramura a treia a circuitului, nu modifică intensitatea I prin R ;

c. cu ce instrument de măsură ar putea fi înlocuite dispozitivele de pe latura (3) în același scop și care ar fi indicația instrumentului respectiv.

**15 puncte**2. În circuitul din figură, conductorul MN de lungime $l = 5 cm$ și rezistență electrică $r = 0,4 \Omega$ se poate deplasa uniform, fără frecare, cu viteza $v = 10 m/s$ perpendicular pe conductoarele MP și NQ de rezistență neglijabilă între care se află un generator cu tem $E = 1,85 V$ cu rezistența internă neglijabilă și un rezistor cu rezistența $R = 0,5 \Omega$. Perpendicular pe planul circuitului acționează un câmp magnetic uniform cu inducția $B = 100 mT$. Determinați:

a. valorile minimă și maximă ale intensității curentului din circuit;

b. forța mecanică folosită pentru realizarea mișcării uniforme a conductorului în cele două situații;

c. căldura disipată prin efect Joule de către rezistorul R în timpul în care fluxul magnetic prin suprafața circuitului crește cu $\Delta \Phi = 5 mWb$.**15 puncte**

Proba E: Specializarea : matematică –informatică, științe ale naturii

Proba F: Profil: tehnic – toate specializările

♦ Sunt obligatorii toți itemii din două arii tematice dintre cele patru prevăzute în programă, adică: A.MECANICĂ, B.ELECTRICITATE ȘI MAGNETISM, C. ELEMENTE DE TERMODINAMICĂ ȘI FIZICĂ MOLECULARĂ, D. OPTICĂ

♦ Se acordă 10 puncte din oficiu.

♦ Timpul efectiv de lucru este de 3 ore.

Varianta 70


B. ELECTRICITATE ȘI MAGNETISMPermeabilitatea magnetică a vidului are valoarea $\mu_0 = 4\pi \cdot 10^{-7} \text{ N} \cdot \text{A}^{-2}$. $\alpha_{\text{Cu}} = 3,9 \cdot 10^{-3} \text{ grd}^{-1}$;**I. Pentru itemii 1-5 scrieți pe foaia de răspuns litera corespunzătoare răspunsului considerat corect****15 puncte**

1. Curentul electric este un fenomen care constă în:

- a. ordonarea sarcinii electrice prin firul conductor;
- b. mișcarea dirijată a purtătorilor de sarcină electrică liberi;
- c. deplasarea dezordonată a electronilor de conducție;
- d. oscilația ionilor rețelei cristaline în jurul poziției lor de echilibru.

2. Variația relativă a rezistenței unui rezistor liniar din cupru aflat inițial la temperatura de 0°C , datorită încălzirii până la temperatura 100°C , este egală cu:

- a. 4,9
- b. 3,9
- c. 1,9
- d. 0,39

3. În fig. alăturată este ilustrată secțiunea transversală a două conductoare rectilinii și suficient de lungi situate în vid, parcurse de curent electric. Se dau: $I_1 = 20 \text{ A}$, $I_2 = 30 \text{ A}$, $|MA| = 4 \text{ cm}$, $|AB| = 10 \text{ cm}$. Modulul inducției magnetice în punctul M este egal cu:

- a. 0,2 mT
- b. 0,17 mT
- c. 0,15 mT
- d. 0,1 mT

4. Curenți care străbat două conductoare paralele și foarte lungi, situate în vid, au intensitățile $I_1 = 100 \text{ A}$, respectiv $I_2 = 40 \text{ A}$. Asupra unei porțiuni de 0,5 m de conductor acționează o forță electrodinamică de $2 \cdot 10^{-3} \text{ N}$. Distanța dintre conductoare are valoarea de:

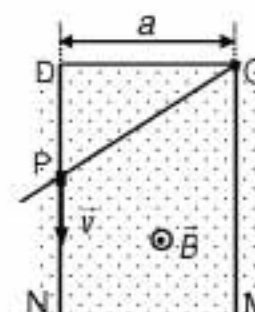
- a. 1,2 m
- b. 1 m
- c. 0,5 m
- d. 0,2 m

5. Frecvența mișcării unui ion ce se deplasează într-un plan perpendicular pe liniile câmpului magnetic de inducție \vec{B} are expresia:

- a. $\vartheta = \frac{|q|m}{B}$
- b. $\vartheta = \frac{|q|m}{2\pi B}$
- c. $\vartheta = \frac{|q|B}{2\pi m}$
- d. $\vartheta = \frac{|q|B}{m}$

II. Rezolvați următoarele probleme:1. La bornele unei surse electrice se leagă în serie rezistoarele de rezistențe R_1 și $R_2 = 15 \Omega$. Diferența de potențial la bornele rezistorului R_1 este $U_1 = 12 \text{ V}$. În cele două rezistoare se dezvoltă puterea $P = 36 \text{ W}$. Determinați:

- a. rezistența R_1 ;
- b. parametrii sursei electrice dacă puterea debitată în circuitul exterior reprezintă $k = 0,8$ din puterea debitată de sursa electrică;
- c. indicația unui voltmetru cu rezistența $R_V = 10 \Omega$ inclus în circuitul dat pentru a măsura tensiunea la bornele rezistorului R_1 .

15 puncte2. Dintr-o sârmă metalică de secțiune constantă se realizează cadrul metalic MODN și bara OP, care se poate roti în jurul punctului O astfel încât contactul mobil P rămâne permanent în contact electric cu latura DN (v. fig. alăturată). Conductorul metalic MODN este intersectat perpendicular de liniile paralele și verticale ale unui câmp magnetic uniform de inducție magnetică $B = 0,75 \text{ T}$. Rezistența unității de lungime a sârmei este $R/\ell = R_0 = 1 \Omega \cdot \text{m}^{-1}$, iar $a = 60 \text{ cm}$. În momentul $t_0 = 0$, contactul P începe să alunece fără frecare cu viteza $v = 2 \text{ cm} \cdot \text{s}^{-1}$, de la D spre N. Se consideră laturile OM, DN și bara OP suficient de lungi. Determinați:

- a. fluxul magnetic ce străbate conturul ODP în momentul $t_1 = 10 \text{ s}$;
- b. tensiunea electromotoare indusă în conturul ODP;
- c. intensitatea curentului electric din conturul ODP în momentul $t_2 = 40 \text{ s}$.

15 puncte

Proba E: Specializarea : matematică –informatică, științe ale naturii

Proba F: Profil: tehnic – toate specializările

♦ Sunt obligatorii toți itemii din două arii tematice dintre cele patru prevăzute în programă, adică: A.MECANICĂ, B.ELECTRICITATE ȘI MAGNETISM, C. ELEMENTE DE TERMODINAMICĂ ȘI FIZICĂ MOLECULARĂ, D. OPTICĂ

♦ Se acordă 10 puncte din oficiu.

♦ Timpul efectiv de lucru este de 3 ore.

Varianta 71

B. ELECTRICITATE SI MAGNETISMSe cunosc: $\mu_0 = 4\pi \cdot 10^{-7} \text{ N/A}^2$ și $|e| = 1,6 \cdot 10^{-19} \text{ C}$.**I. Pentru itemii 1-5 scrieti pe foaia de răspuns litera corespunzătoare răspunsului considerat corect.****15 puncte**1. Unitatea de măsură pentru mărimea fizică care poate fi exprimată prin relația $\frac{F}{I \cdot \ell}$, este:

- a. $\frac{\text{N}}{\text{A}^2 \cdot \text{m}}$ b. $\text{T} \cdot \text{m}^2$ c. $\text{kg} \cdot \text{A}^{-1} \text{s}^{-2}$ d. $\frac{\text{kg}}{\text{A} \cdot \text{s}^2} \cdot \text{m}^2$

2. Printr-un fir conductor trece un curent electric staționar cu intensitatea $I = 4 \text{ A}$. Numărul de electroni ce străbat secțiunea transversală a conductorului într-o secundă este :

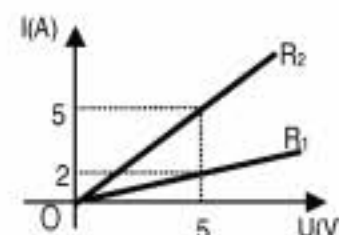
- a. $25 \cdot 10^{19}$ b. $25 \cdot 10^{18}$ c. $48 \cdot 10^{17}$ d. $25 \cdot 10^{17}$

3. Forța electromagnetică ce acționează asupra unui conductor rectiliniu aflat în câmp magnetic uniform de inducție B , este maximă atunci când:

- a. conductorul face un unghi de 45° cu inducția câmpului magnetic
b. conductorul este paralel cu inducția câmpului magnetic
c. conductorul este perpendicular pe inducția câmpului magnetic
d. inducția câmpului magnetic, B , face un unghi de 60° cu direcția conductorului

4. Se dau două rezistoare ale căror caracteristici curent – tensiune sunt prezentate în figura alăturată. Valoarea rezistenței echivalente a grupării serie a lor este :

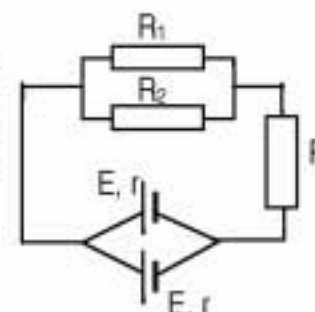
- a. $0,714 \Omega$ b. $3,5 \Omega$ c. 5Ω d. 7Ω .

5. În centrul unui cadru format din N spire circulare, de rază R , aflat într-un mediu cu permeabilitatea μ , inducția câmpului magnetic este dată de relația:

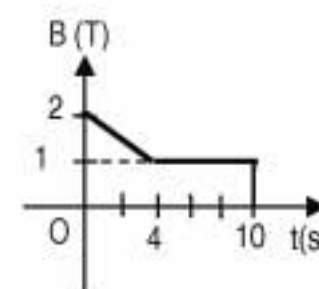
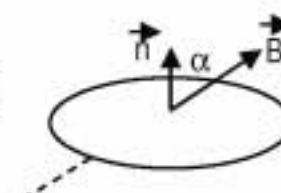
- a. $\frac{NI}{2\pi R}$ b. $\frac{\mu NI}{2\pi R}$ c. $\frac{\mu I}{2R}$ d. $\frac{\mu NI}{2R}$.

II Rezolvați următoarele probleme1. La bornele a două surse identice, fiecare cu tensiunea electromotoare $E = 10 \text{ V}$ și rezistența internă $r = 1 \Omega$, legate în paralel, se conectează trei rezistoare, ca în figura alăturată. Rezistorii legați în paralel au rezistențele electrice $R_1 = 2 \Omega$ și $R_2 = 3 \Omega$, iar în rezistorul de rezistență R se degajă o cantitate de căldură $Q_2 = 1800 \text{ J}$ în timp de 10 minute. Determinați:

- a. tensiunea la bornele grupării de rezistoare legate în paralel;
b. intensitatea curentului electric prin ramura ce conține rezistorul de rezistență R ;
c. valoarea rezistenței R .

**15 puncte**2. O spiră circulară de raza $a = 2 \text{ cm}$ este așezată într-un câmp magnetic cu linii paralele și echidistante, astfel încât liniile de câmp formează unghiul α cu normala la planul spirei. Inducția câmpului magnetic variază în timp conform graficului din figură. Se cunoaște $\cos \alpha = 0,16 (\cong \frac{1}{2\pi})$. Determinați:

- a. valoarea tensiunii electromotoare indusă în spiră în intervalul de timp $[0, 4 \text{ s}]$;
b. valoarea tensiunii electromotoare indusă în spiră în intervalul de timp $[4, 10 \text{ s}]$ când spira este rotită în câmp cu unghiul $\frac{\pi}{2} - \alpha$ astfel încât la momentul $t = 10 \text{ s}$ normala la planul spirei este perpendiculară pe inducția câmpului magnetic;
c. valoarea intensității curentului electric indus în intervalul de timp $[0, 4 \text{ s}]$, respectiv $[4, 10 \text{ s}]$ dacă rezistența spirei este $R = 10 \Omega$.

**15 puncte**

Proba E: Specializarea : matematică –informatică, științe ale naturii

Proba F: Profil: tehnic – toate specializările

♦ Sunt obligatorii toți itemii din două arii tematice dintre cele patru prevăzute în programă, adică: A.MECANICĂ, B.ELECTRICITATE ȘI MAGNETISM, C. ELEMENTE DE TERMODINAMICĂ ȘI FIZICĂ MOLECULARĂ, D. OPTICĂ

♦ Se acordă 10 puncte din oficiu.

♦ Timpul efectiv de lucru este de 3 ore.

Varianta 72

B. ELECTRICITATE ȘI MAGNETISMPermeabilitatea magnetică a vidului are valoarea $\mu_0 = 4\pi \cdot 10^{-7} \text{ N/A}^2$, se consideră accelerația gravitațională $g = 10 \text{ m/s}^2$.**I. Pentru itemii 1-5 scrieți pe foaia de răspuns litera corespunzătoare răspunsului considerat corect****15 puncte**1. Dacă notațiile sunt cele utilizate în manualele de fizică, atunci unitatea de măsură în S.I. a mărimii fizice descrise de relația $F/(I\ell)$ este:

- a. $\frac{\text{N}}{\text{A}^2 \text{m}}$ b. $\frac{\text{N}}{\text{Am}^2}$ c. T d. $\frac{\text{J}}{\text{Am}}$

2. În rețeaua alăturată toți rezistorii sunt identici având rezistența R_0 . Rezistența echivalentă a rețelei între punctele A și B este:

- a. R_0 b. $\frac{4}{3}R_0$ c. $2R_0$ d. $6R_0$

3. O radiație cosmică α având masa $m_\alpha = 6,65 \cdot 10^{-27} \text{ kg}$, viteza $v_0 = 5 \cdot 10^3 \text{ m/s}$ și sarcina $q_\alpha = 3,2 \cdot 10^{-19} \text{ C}$ ce intră perpendicular pe liniile unui câmp magnetic orizontal de inducție $B_0 = 2,3 \cdot 10^{-4} \text{ T}$, descrie un cerc în jurul liniilor de câmp a cărui rază este:

- a. $0,45 \text{ m}$ b. 1 m c. $1,5 \text{ m}$ d. $4,5 \text{ m}$

4. Considerați o bobină având aria secțiunii transversale $S = 5 \text{ cm}^2$ și $N = 2000$ de spire. Bobina are axa paralelă cu liniile unui câmp magnetic uniform de inducție $B = 1 \text{ T}$ și este scoasă cu viteză constantă din acest câmp într-un timp $\Delta t = 0,2 \text{ s}$. În aceste condiții valoarea tensiunii electromotoare induse la bornele bobinei este:

- a. 2 V b. 3 V c. $4,5 \text{ V}$ d. 5 V

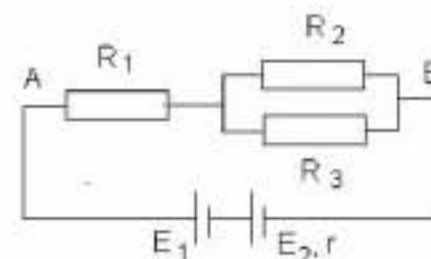
5. Căldura degajată de un cuptor electric ce funcționează la tensiunea electrică $U = 120 \text{ V}$ având rezistența electrică $R = 12 \Omega$, în intervalul de timp $\Delta t = 20 \text{ min}$, este:

- a. $144 \cdot 10^4 \text{ J}$ b. $200 \cdot 10^4 \text{ J}$ c. $250 \cdot 10^4 \text{ J}$ d. $300 \cdot 10^4 \text{ J}$

II. Rezolvați următoarele probleme:1. Considerați un circuit electric a cărui diagramă este ilustrată în figura alăturată și pentru care se cunosc: $R_1 = 2 \Omega$, $R_2 = R_3 = 4 \Omega$, $E_1 = E_2 = 3 \text{ V}$, $r = 0,5 \Omega$.

Determinați:

- a. tensiunea electrică între punctele A și B;
b. valoarea intensității curentului electric prin rezistorul R_2
c. puterea electrică disipată pe rezistorul cu rezistența R_3

**15 puncte**2. Trei conductoare A, B și C, orizontale, paralele, foarte lungi, coplanare, aflate în aer ($\mu_{\text{aer}} \equiv 1$) și situate în plan vertical se află la distanța $d = 1 \text{ cm}$ unul de altul, ca în figura alăturată. Masa unității de lungime a conductoarelor este $m_0 = 2 \text{ g/m}$. Conductorii A și C sunt fixați, iar conductorul B deși nu este fixat, în condițiile problemei rămâne permanent în echilibru. Determinați:

- a. valoarea intensității curentului prin conductorul B dacă numai conductorul A este parcurs de curentul electric $I_A = 20 \text{ A}$;
b. sensul curentului prin C dacă toate cele trei conductoare sunt parcurse de curenți electrici cu aceeași intensitate;
c. valoarea intensității curentului ce străbate conductorul C în situația de la punctul b.

15 puncte

Proba E: Specializarea : matematică –informatică, științe ale naturii

Proba F: Profil: tehnic – toate specializările

♦ Sunt obligatorii toți itemii din două arii tematice dintre cele patru prevăzute în programă, adică: A.MECANICĂ, B.ELECTRICITATE ȘI MAGNETISM, C. ELEMENTE DE TERMODINAMICĂ ȘI FIZICĂ MOLECULARĂ, D. OPTICĂ

♦ Se acordă 10 puncte din oficiu.

♦ Timpul efectiv de lucru este de 3 ore.

Varianta 73

B. ELECTRICITATE ȘI MAGNETISMPermeabilitatea magnetică a vidului are valoarea $\mu_0 = 4\pi \cdot 10^{-7} \text{ N/A}^2$.**I. Pentru itemii 1-5 scrieți pe foaia de răspuns litera corespunzătoare răspunsului considerat corect****15 puncte**

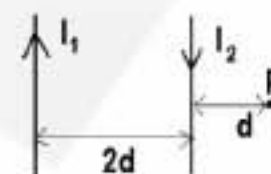
1. Dacă notațiile sunt cele utilizate în manualele de fizică, atunci unitatea de măsură în SI a mărimii fizice descrise de relația

$$\frac{\mu \cdot N^2 \cdot S}{\ell} \text{ este:}$$

- a. T b. Wb c. A d. H

2. Două conductoare rectilinii paralele, parcurse de curenți electrici de intensități I_1 și I_2 , $I_1 = 3I_2 = 3 \text{ A}$ se află în vid la distanța $2d$ unul față de altul ca în figura alăturată. Valoarea inducției magnetice a câmpului rezultat în punctul P, coplanar cu cele două conductoare, la distanța d de conductorul 2 este:

- a. 0T b. $4\mu\text{T}$ c. $8\mu\text{T}$ d. $12\mu\text{T}$

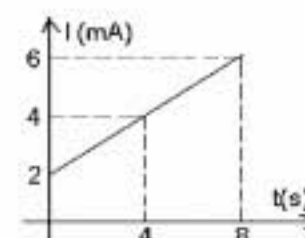


3. Inducția magnetică în centrul unei bobine cu $N = 100$ spire și lungimea de $0,314 \text{ cm}$ parcursă de un curent electric staționar de intensitate $I = 5 \text{ A}$, plasată în vid este:

- a. $0,2 \text{ mT}$ b. 2 mT c. 20 mT d. 200 mT

4. În figura alăturată este prezentată dependența de timp a intensității unui curent electric continuu printr-un conductor. Sarcina care trece prin conductor în intervalul de timp de la $t_1 = 4 \text{ s}$ la $t_2 = 8 \text{ s}$ are valoarea:

- a. 16 mC b. 20 mC c. 24 mC d. 32 mC



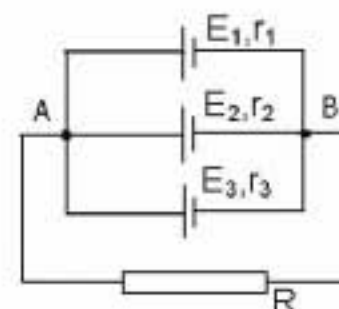
5. Rezistența echivalentă a trei becuri identice legate în serie este $R = 18 \Omega$. Rezistența echivalentă a celor trei becuri legate în paralel are valoarea:

- a. $0,5 \Omega$ b. 1Ω c. 2Ω d. 3Ω

II. Rezolvați următoarele probleme:

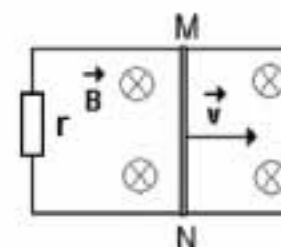
1. Circuitul electric a cărui diagramă este ilustrată în figura alăturată conține trei surse electrice cu t.e.m. $E_1 = 3\text{V}$, $E_2 = 4,5\text{V}$, $E_3 = 5\text{V}$ și rezistențe interne $r_1 = 1\Omega$, $r_2 = 0,5\Omega$, $r_3 = 1\Omega$ și un rezistor având rezistența electrică $R = 4\Omega$. Se neglijează rezistența conductoarelor de legătură.

- a. Calculați intensitatea curentului electric I prin rezistorul R .
b. Determinați energia electrică disipată în 10 minute în rezistorul cu rezistența R .
c. Dacă sursele E_2 și E_3 sunt scoase din circuit, determinați tensiunea electrică pe care o va indica un voltmetru considerat ideal, conectat între bornele A și B.

**15 puncte**

2. O tijă metalică subțire cu rezistivitatea $\rho = 10^{-6} \Omega\cdot\text{m}$, de lungimea $MN = L = (0,1 \cdot \pi) \text{ m}$ și cu diametrul $d = 1 \text{ mm}$ alunecă pe două șine conductoare, de rezistență electrică neglijabilă, unite la capăt printr-un conductor de rezistență electrică $r = 0,6\Omega$. Tijă MN se deplasează cu viteza constantă, perpendicular pe liniile unui câmp magnetic uniform de inducție $B = 0,01 \text{ T}$, așa cum este ilustrat în figura alăturată. În circuit este indus un curent de valoare $I = 6,28 (\approx 2\pi) \text{ mA}$. Determinați:

- a. sensul și valoarea t.e.m indusă la capetele conductorului;
b. viteza de deplasare a tijei MN;
c. valoarea forței electromagnetice care acționează asupra tijei metalice.

**15 puncte**

Proba E: Specializarea : matematică –informatică, științe ale naturii

Proba F: Profil: tehnic – toate specializările

♦ Sunt obligatorii toți itemii din două arii tematice dintre cele patru prevăzute în programă, adică: A.MECANICĂ, B.ELECTRICITATE ȘI MAGNETISM, C. ELEMENTE DE TERMODINAMICĂ ȘI FIZICĂ MOLECULARĂ, D. OPTICĂ

♦ Se acordă 10 puncte din oficiu.

♦ Timpul efectiv de lucru este de 3 ore.

Varianta 74

B. ELECTRICITATE ȘI MAGNETISMPermeabilitatea magnetică a vidului are valoarea $\mu_0 = 4\pi \cdot 10^{-7} \text{ N/A}^2$.**I. Pentru itemii 1-5 scrieți pe foaia de răspuns litera corespunzătoare răspunsului considerat corect****15 puncte**

1. Expresia legii lui Ohm, pentru o porțiune de circuit fără generator este:

a. $U = \frac{R}{I}$

b. $I = \frac{U}{R}$

c. $R = R_0(1 + \alpha t)$

d. $P = U \cdot I$

2. Unitatea de măsură în SI pentru rezistența electrică poate fi exprimată și ca :

a. $\frac{\text{kg} \cdot \text{m}}{\text{s} \cdot \text{A}}$

b. $\frac{\text{kg} \cdot \text{m}^2}{\text{s}^3 \cdot \text{A}^2}$

c. $\frac{\text{m}^2 \cdot \text{A}^2}{\text{kg} \cdot \text{s}}$

d. $\frac{\text{m}^3 \cdot \text{kg}}{\text{A}}$

3. Știind că notațiile sunt cele utilizate în manualele de fizică, expresia matematică a forței electromagnetice este:

a. $\vec{l} \times \vec{B}$

b. $I \times \vec{l} \cdot \vec{B}$

c. $\vec{B} \cdot I \vec{l}$

d. $I(\vec{B} \times \vec{l})$

4. Două particule de mase m_1 și m_2 și sarcini q_1 și q_2 , având energii cinetice egale, intră perpendicular pe liniile unui câmp magnetic uniform. Raportul razelor traiectoriilor este:

a. $\frac{R_1}{R_2} = \sqrt{\frac{m_1 q_2}{m_2 q_1}}$

b. $\frac{R_1}{R_2} = \frac{q_2}{q_1} \sqrt{\frac{m_1}{m_2}}$

c. $\frac{R_1}{R_2} = \frac{m_1}{m_2} \sqrt{\frac{q_2}{q_1}}$

d. $\frac{R_1}{R_2} = \sqrt{\frac{m_2 q_2}{m_1 q_1}}$

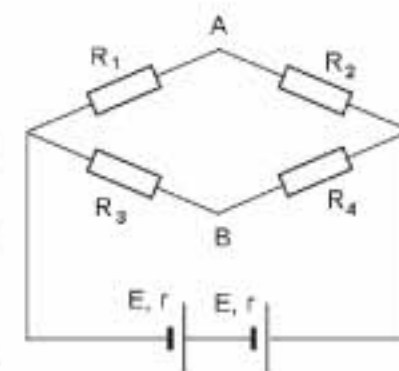
5. Randamentul unui generator care debitează putere utilă maximă în circuitul exterior este:

a. 100%

b. 75%

c. 25%

d. 50%

II. Rezolvați următoarele probleme:1. Se consideră circuitul din figura alăturată. Cele două surse sunt identice, având fiecare $E = 2 \text{ V}$ și $r = 1 \Omega$. Rezistențele au valorile $R_1 = 2 \Omega$, $R_2 = 2 \Omega$, $R_3 = 3 \Omega$.a. Ce valoare are rezistența R_4 , astfel încât un ampermetru ideal montat între A și B să nu indice curent?b. Ce căldură se disipă pe R_4 în timp de un minut?c. Considerând că R_4 este un solenoid cu $N = 100$ spire și lungimea $l = 10 \text{ cm}$, ce valoare are inducția câmpului magnetic în interiorul său?**15 puncte**2. Dintr-un conductor cu diametrul $d = 10^{-3} \text{ m}$ și lungimea $l = 3,14 \text{ m}$, având rezistivitatea $\rho = 3 \cdot 10^{-7} \Omega \text{ m}$, se confecționează o spirală circulară.

a. Calculați rezistența electrică a spirei.

b. Determinați valoarea inducției câmpului magnetic în centrul spirei, în cazul când aceasta este străbătută de un curent electric staționar cu intensitatea de 2 A .c. Aflați valoarea tensiunii electromotoare indusă în spirală, considerând că spira este plasată perpendicular pe liniile unui câmp magnetic variabil în timp după legea $B = at$, unde $a = 4 \text{ T/s}$.**15 puncte**

Proba E: Specializarea : matematică –informatică, științe ale naturii

Proba F: Profil: tehnic – toate specializările

♦ Sunt obligatorii toți itemii din două arii tematice dintre cele patru prevăzute în programă, adică: A.MECANICĂ, B.ELECTRICITATE ȘI MAGNETISM, C. ELEMENTE DE TERMODINAMICĂ ȘI FIZICĂ MOLECULARĂ, D. OPTICĂ

♦ Se acordă 10 puncte din oficiu.

♦ Timpul efectiv de lucru este de 3 ore.

Varianta 75

B. ELECTRICITATE ȘI MAGNETISMPermeabilitatea magnetică a vidului are valoarea $\mu_0 = 4\pi \cdot 10^{-7} \text{ N / A}^2$.**I. Pentru itemii 1-5 scrieți pe foaia de răspuns litera corespunzătoare răspunsului considerat corect****15 puncte**1. Unitatea de măsură a mărimii fizice $\frac{\Delta\Phi}{\Delta t}$ este:

a. J

b. Wb

c. $\frac{\text{N} \cdot \text{m}}{\text{C}}$

d. T

2. Energia electrică degajată pe un rezistor ($R = \text{const.}$), parcurs de un curent electric continuu este:a. $R \cdot I \cdot t$ b. $U \cdot I^2 \cdot t$ c. $\frac{U^2}{R \cdot t}$ d. $R \cdot I^2 \cdot t$ 3. Rezistivitatea electrică a unui metal este la temperatura de 25°C cu 15% mai mare decât rezistivitatea electrică a metalului la 0°C . Coeficientul termic al rezistivității sale are valoarea:a. $6 \cdot 10^{-3} \text{ K}^{-1}$ b. $3 \cdot 10^{-2} \text{ K}^{-1}$ c. $5 \cdot 10^{-2} \text{ K}^{-1}$ d. $4 \cdot 10^{-3} \text{ K}^{-1}$ 4. Un conductor liniar foarte lung este parcurs de un curent electric de intensitate $I = 50 \text{ A}$. Considerând conductorul plasat în vid, distanța la care inducția magnetică are valoarea $B = 10^{-2} \text{ T}$ este:

a. 3mm

b. 1mm

c. 0,5 mm

d. 2mm

5. O spiră circulară conductoare, de rază 20 cm este plasată într-un câmp magnetic perpendicular pe planul spirei, de inducție 0,1T. Fluxul magnetic prin suprafața acestei spire este :

a. $4\pi \text{ mWb}$ b. $4\pi \text{ Wb}$ c. $2\pi \cdot 10^{-2} \text{ Wb}$ d. $4\pi \cdot 10^{-4} \text{ Wb}$ **II. Rezolvați următoarele probleme:**1. Un fir conductor cu rezistivitatea $\rho = 10^{-6} \Omega \cdot \text{m}$, lungimea $\ell = 4\pi \text{ m}$ și diametrul $d = 4 \text{ mm}$, se bobinează spiră lângă spiră pe un miez cilindric cu diametrul $D = 1,6 \text{ cm}$ și permeabilitatea magnetică relativă $\mu_r = 5$. Bobina astfel obținută se alimentează la o sursă cu t.e.m. $E = 3 \text{ V}$ și rezistența internă r . La capetele bobinei se măsoară o tensiune electrică $U = 2 \text{ V}$. Calculați:

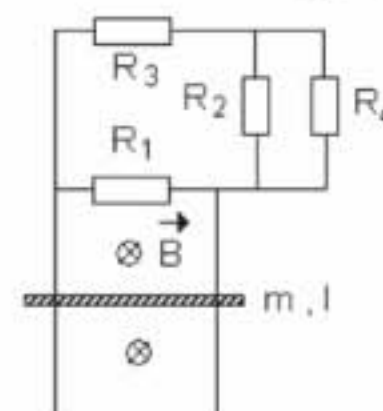
a. rezistența internă a sursei;

b. inducția câmpului magnetic pe axul bobinei;

c. valoarea unei rezistențe R_1 care ar trebui montată în circuit în locul bobinei, pentru ca puterea debitată de sursă în circuitul exterior să fie maximă.**15 puncte**2. Se consideră două șine conductoare paralele, verticale, pe care alunecă fără frecare o bară conductoare de masă $m = 0,1 \text{ kg}$ și lungime $l = 1 \text{ m}$. Bara rămâne tot timpul în contact cu șinele. Capetele șinelor sunt conectate la un circuit electric cu 4 rezistori $R_1 = 10 \Omega$, $R_2 = R_4 = 30 \Omega$ și $R_3 = 25 \Omega$. Montajul se află într-un câmp magnetic uniform de inducție $B = 2 \text{ T}$ perpendicular pe planul șinelor, așa cum este ilustrat în figura alăturată. Neglijând rezistența barei și a șinelor determinați:

a. viteza limită atinsă de bară sub acțiunea propriei greutate;

b. t.e.m. indusă la capetele barei când se deplasează cu viteza limită calculată la punctul a.;

c. puterea absorbită de rezistorul R_3 .**15 puncte**

Proba E: Specializarea : matematică –informatică, științe ale naturii

Proba F: Profil: tehnic – toate specializările

♦ Sunt obligatorii toți itemii din două arii tematice dintre cele patru prevăzute în programă, adică: A.MECANICĂ, B.ELECTRICITATE ȘI MAGNETISM, C. ELEMENTE DE TERMODINAMICĂ ȘI FIZICĂ MOLECULARĂ, D. OPTICĂ

♦ Se acordă 10 puncte din oficiu.

♦ Timpul efectiv de lucru este de 3 ore.

Varianta 76

B. ELECTRICITATE ȘI MAGNETISMPermeabilitatea magnetică a vidului are valoarea $\mu_0 = 4\pi \cdot 10^{-7} \text{ N/A}^2$.**I. Pentru itemii 1-5 scrieți pe foaia de răspuns litera corespunzătoare răspunsului considerat corect****15 puncte**1. Știind că simbolurile mărimilor fizice și ale unităților de măsură sunt cele utilizate în manualele de fizică, unitatea de măsură a mărimii fizice egală cu $qvB \sin \alpha$ este:

- a. W b. N c. J d. Wb

2. O spiră metalică, plasată în aer ($\mu = \mu_0$), are raza $r = 5 \text{ mm}$ și este parcursă de un curent electric, astfel că inducția câmpului magnetic în centrul său, este $B = 0,314 \text{ mT}$ ($\sim \frac{\pi}{10} \text{ mT}$). Intensitatea curentului care străbate spira este aproximativ:

- a. 2 A b. 3,5 A c. 2,5 A d. 5,5 A

3. O particulă cu sarcina q este emisă de o sursă aflată într-un câmp magnetic uniform cu inducția B , astfel că viteza sa este perpendiculară pe liniile de câmp magnetic. Dacă regiunea în care există câmp magnetic are o întindere suficientă, particula descrie o traiectorie circulară, parcurgând o rotație completă în timpul T . Masa particulei este:

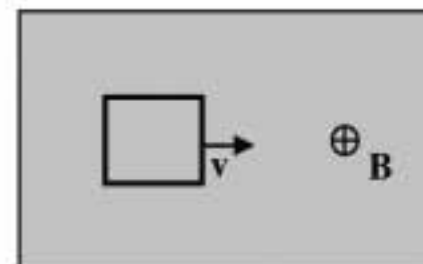
- a. $Tq/(2\pi B)$ b. $TqB/(2\pi)$ c. $TB/(2q\pi)$ d. $Bq/(2T\pi)$

4. O sursă cu t.e.m E și rezistența internă r legată la bornele unui rezistor de rezistență variabilă, dezvoltă pe rezistor aceeași putere pentru două valori R_1, R_2 ale rezistenței rezistorului. Între r, R_1 și R_2 există relația :

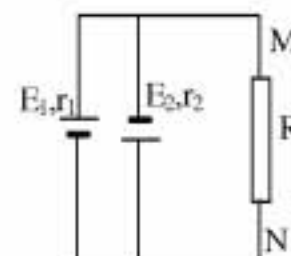
- a. $r^2 = R_1 R_2$ b. $r = R_1 + R_2$ c. $r = R_1^2 / R_2$ d. $r = R_2^2 / R_1$

5. Un cadru metalic pătratic de latură ℓ , se deplasează cu viteza constantă v într-un câmp magnetic uniform, perpendicular pe liniile de câmp magnetic, ca în figura alăturată. În intervalul de timp în care cadrul se deplasează cu întreaga sa arie în câmpul magnetic, tensiunea indusă este:

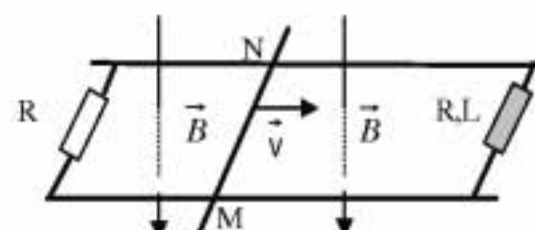
- a. $B\ell v$
b. $2B\ell v$
c. $4B\ell v$
d. 0

**II. Rezolvați următoarele probleme:**1. Două surse cu t.e.m. $E_1 = 22 \text{ V}$, respectiv $E_2 = 4 \text{ V}$ au rezistențe interne egale $r_1 = r_2 = r$. Sursele, legate ca în figura alăturată sunt conectate la un rezistor de rezistență $R = 4 \Omega$ astfel că un voltmetru indică între M și N tensiunea $U_{MN} = 8 \text{ V}$. Determinați:

- a. intensitatea I a curentului prin rezistorul R ;
b. rezistența internă a fiecăreia dintre surse, r ;
c. energia consumată în rezistorul R timp de 5 minute.

**15 puncte**2. O bară conductoare MN, de lungime $l = 0,5 \text{ m}$ și rezistență $r_0 = 2 \Omega$ este deplasată cu viteza constantă $v = 10 \text{ m/s}$ pe două șine conductoare, paralele și de rezistență neglijabilă, ca în figura alăturată. Circuitul electric, situat în plan orizontal este străbătut de un câmp magnetic uniform, cu inducția $B = 2 \text{ T}$, orientat vertical în jos. În circuit se află un rezistor și o bobină care au rezistențele electrice egale cu $R = 10 \Omega$. Inductanța bobinei este $L = 10 \text{ mH}$. Determinați:

- a. tensiunea electromotoare indusă în bară;
b. intensitatea curentului electric ce străbate bara;
c. fluxul magnetic prin bobină.

**15 puncte**

Proba E: Specializarea : matematică –informatică, științe ale naturii

Proba F: Profil: tehnic – toate specializările

♦ Sunt obligatorii toți itemii din două arii tematice dintre cele patru prevăzute în programă, adică: A.MECANICĂ, B.ELECTRICITATE ȘI MAGNETISM, C. ELEMENTE DE TERMODINAMICĂ ȘI FIZICĂ MOLECULARĂ, D. OPTICĂ

♦ Se acordă 10 puncte din oficiu.

♦ Timpul efectiv de lucru este de 3 ore.

Varianta 77

B. ELECTRICITATE ȘI MAGNETISMPermeabilitatea magnetică a vidului are valoarea $\mu_0 = 4\pi \cdot 10^{-7} \text{ N/A}^2$.**I. Pentru itemii 1-5 scrieți pe foaia de răspuns litera corespunzătoare răspunsului considerat corect****15 puncte**

1. Unitatea de măsură în S.I. a rezistivității electrice a unui conductor este:

- a. Ωm^{-1} b. Ωm c. Ωm^2 d. $\Omega^{-1} m$

2. Dependența rezistivității electrice a unui conductor de temperatură este dată de relația:

- a. $\rho = \rho_0 \alpha t$ b. $\rho = \rho_0 (1 - \alpha t)$ c. $\rho = \rho_0 (1 + \alpha t)$ d. $\rho = \frac{\rho_0}{1 + \alpha t}$

3. Câmpul magnetic generat de un curent ce trece printr-o spirală de rază r are în centrul spirei expresia:

- a. $\frac{\mu I}{2r}$ b. $\frac{\mu I}{2\pi r}$ c. $\frac{\mu I}{4\pi r}$ d. $\frac{\mu I}{l}$

4. Două baterii, având fiecare t.e.m. E și rezistența interioară r sunt conectate în paralel și debitează pe un consumator cu rezistența R . Intensitatea curentului electric prin rezistorul R este:

- a. $I = \frac{E}{R+r}$ b. $I = \frac{E}{R+r/2}$ c. $I = \frac{2E}{R+r}$ d. $I = \frac{E}{R+2r}$

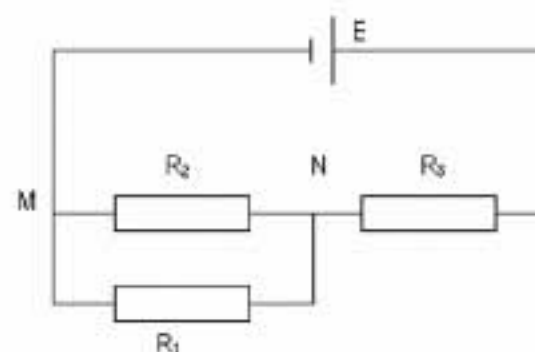
5. Unitatea de măsură în S.I. pentru fluxul magnetic este:

- a. Henry b. Coulomb c. Amper d. Weber

II. Rezolvați următoarele probleme:

1. Circuitul electric a cărui diagramă este ilustrată în figura alăturată conține o baterie cu t.e.m. E și rezistență internă neglijabilă și trei rezistori având rezistențele electrice $R_1 = 20 \Omega$, $R_2 = 60 \Omega = R_3$. Știind că intensitatea curentului prin sursă este 2A, determinați:

- a. rezistența electrică echivalentă a circuitului exterior;
b. valoarea diferenței de potențial electric dintre punctele M și N;
c. puterea electrică disipată în rezistorul cu rezistența R_1 .

**15 puncte**

2. O spirală circulară conductoare, cu aria suprafeței $S = 10 \text{ cm}^2$ și rezistența electrică $R = 1 \Omega$, se află într-un câmp magnetic uniform de inducție $B = 80 \text{ mT}$, planul spirei formând unghiul $\alpha = 30^\circ$ cu liniile câmpului magnetic. Determinați:

- a. fluxul magnetic prin suprafața spirei;
b. t.e.m. medie indusă în spirală dacă aceasta se rotește astfel încât să devină paralelă cu liniile de câmp, durata rotației fiind $\Delta t = 1 \text{ ms}$.
c. sarcina electrică ce străbate o secțiune transversală a firului spirei.

15 puncte

Proba E: Specializarea : matematică –informatică, științe ale naturii

Proba F: Profil: tehnic – toate specializările

♦ Sunt obligatorii toți itemii din două arii tematice dintre cele patru prevăzute în programă, adică: A.MECANICĂ, B.ELECTRICITATE ȘI MAGNETISM, C. ELEMENTE DE TERMODINAMICĂ ȘI FIZICĂ MOLECULARĂ, D. OPTICĂ

♦ Se acordă 10 puncte din oficiu.

♦ Timpul efectiv de lucru este de 3 ore.

Varianta 78

B. ELECTRICITATE ȘI MAGNETISM**I. Pentru itemii 1 – 5 scrieți litera corespunzătoare răspunsului considerat corect****15 puncte**

1. Două generatoare având tensiunea electromotoare E și rezistența internă r , conectate în serie debitează pe un consumator cu rezistența electrică R un curent electric cu intensitatea :

a. $I = \frac{2E}{r+R}$

b. $I = \frac{E}{R + \frac{r}{2}}$

c. $I = \frac{E}{2R+r}$

d. $I = \frac{2E}{R+2r}$

2. Precizați care din mărimile fizice de mai jos este o mărime fizică fundamentală:

a. tensiunea electrică

b. inducția câmpului magnetic

c. intensitatea curentului electric

d. sarcina electrică.

3. Două conductoare rectilinii paralele sunt străbătute de curenți electrici de intensitate $I_1 = 2A$ și $I_2 = 4A$. Forța electrodinamică ce acționează asupra primului conductor (F_1) și forța electrodinamică ce acționează asupra celui de-al doilea conductor (F_2) se află în relația :

a. $F_1 = F_2$

b. $F_1 = \frac{F_2}{2}$

c. $F_1 = 4F_2$

d. $F_1 = 2F_2$

4. O sursă de curent continuu cu rezistența internă r alimentează două consumatoare legate în serie, care au împreună rezistența R . Dacă se scoate din circuit unul din consumatoare, rezistența circuitului scade cu $f=40\%$, iar intensitatea curentului electric crește cu $f=25\%$. Raportul $\frac{R}{r}$ este :

a. 4

b. 2

c. 1

d. 0,5

5. Într-un câmp magnetic de inducție $B=80 \text{ mT}$, se găsește un conductor cu lungimea de 6 cm , așezat la 30° față de liniile câmpului magnetic. Dacă forța exercitată de câmp asupra conductorului este de $4,8 \text{ mN}$, intensitatea curentului ce străbate conductorul este :

a. 2A

b. 0,2 A

c. 20 mA

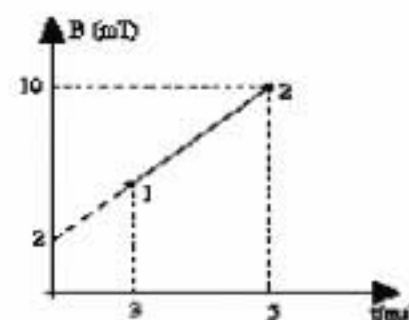
d. 20 A

II. Să se rezolve următoarele probleme:

1. O spirală circulară cu raza $r=1\text{cm}$ este așezată sub unghiul $\alpha=60^\circ$ față de direcția liniilor de câmp magnetic a cărui inducție magnetică variază în timp ca în figura alăturată. Determinați:

a. valoarea inducției magnetice la momentul $t=3\text{s}$;

b. tensiunea electromotoare indusă în spirală;

c. fluxul magnetic prin suprafața spirei la momentul $t=4\text{s}$.**15 puncte**

2. Un bec și un reostat sunt legate în serie formând astfel un circuit electric. Tensiunea la bornele becului este egală cu tensiunea sa nominală $U=60 \text{ V}$, iar rezistența electrică a reostatului este $R=20 \Omega$. Becul și reostatul consumă împreună $P=200 \text{ W}$. Determinați :

a. intensitatea curentului în circuit ;

b. energia electrică consumată de bec într-o oră ;

c. valoarea R' a rezistenței electrice a reostatului pentru care becul funcționează normal dacă tensiunea aplicată la bornele circuitului este 120 V .**15 puncte**

Proba E: Specializarea : matematică –informatică, științe ale naturii

Proba F: Profil: tehnic – toate specializările

♦ Sunt obligatorii toți itemii din două arii tematice dintre cele patru prevăzute în programă, adică: A.MECANICĂ, B.ELECTRICITATE ȘI MAGNETISM, C. ELEMENTE DE TERMODINAMICĂ ȘI FIZICĂ MOLECULARĂ, D. OPTICĂ

♦Se acordă 10 puncte din oficiu.

♦Timpul efectiv de lucru este de 3 ore.

Varianta 79

B. ELECTRICITATE ȘI MAGNETISM

Permeabilitatea magnetică a vidului are valoarea $\mu_0 = 4\pi \cdot 10^{-7} \text{ N/A}^2$.

I. Pentru itemii 1-5 scrieți pe foaia de răspuns litera corespunzătoare răspunsului considerat corect

15 puncte

1. Unitatea de măsură în S.I. pentru inductanța unei bobine este:

- a. W b. Wb c. H d. T

2. Puterea maximă debitată de o sursă de tensiune electromotoare E și rezistență interioară r în circuitul exterior de rezistență R este dată de expresia:

- a. $P_{\max} = \frac{E^2}{r}$ b. $P_{\max} = \frac{E^2}{2r}$ c. $P_{\max} = \frac{E^2}{3r}$ d. $P_{\max} = \frac{E^2}{4r}$

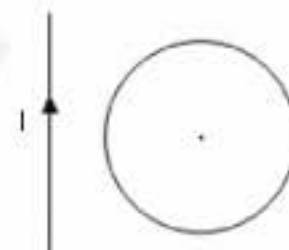
3. Rezistența echivalentă a unei grupări serie de n rezistori identici, având fiecare rezistența electrică R, este :

- a. $R(n+1)$ b. nR c. R/n d. R

4. Un conductor rectiliniu, parcurs de un curent continuu de intensitate I, se află în planul unei spire circulare fixe și se depărtează de aceasta.

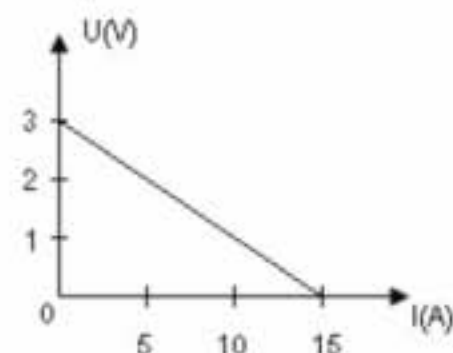
Despre curentul indus în spirală se poate afirma că:

- a. are sens trigonometric
b. are sensul acelor de ceasornic
c. este maxim când conductorul rectiliniu se află la distanță foarte mare de spirală
d. își schimbă periodic sensul



5. La bornele unui rezistor R este conectată o sursă având t.e.m. E și rezistență interioară r. În graficul din figura alăturată este reprezentată tensiunea pe rezistor în funcție de intensitatea curentului din circuit. Rezistența internă r a sursei de curent continuu este:

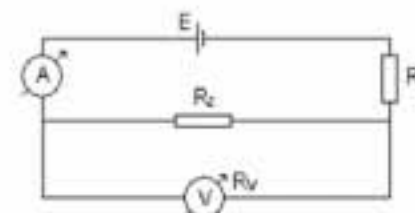
- a. $0,2\Omega$
b. $0,1\Omega$
c. $3,2\Omega$
d. $1,5\Omega$



II. Rezolvați următoarele probleme:

1. Circuitul electric a cărui diagramă este ilustrată în figura alăturată conține o sursă având t.e.m. $E = 220\text{V}$ și rezistența internă $r = 1\Omega$ și rezistorii având rezistențele electrice $R_1 = 400\Omega$ și $R_2 = 600\Omega$. Ampermetrul este ideal, iar voltmetrul are rezistența $R_V = 1,2\text{k}\Omega$. Determinați:

- a. intensitatea curentului indicată de ampermetru;
b. tensiunea indicată de voltmetru;
c. căldura disipată prin rezistorul R_1 în timp de 10 minute .



15 puncte

2. O bobină având $n = 5\text{spire/cm}$ este legată în paralel cu un rezistor $R = 5\Omega$ la bornele unei surse cu t.e.m. continuă $E = 6\text{V}$ și rezistență internă neglijabilă. Bobina are miez de fier cu permeabilitatea magnetică relativă $\mu_r = 10$ și creează un câmp magnetic interior de inducție $B = 7,536\text{mT}$. Determinați:

- a. rezistența ohmică a bobinei;
b. puterea disipată pe rezistența R;
c. inductanța bobinei, dacă fluxul magnetic propriu prin bobină este $\Phi = 0,36\text{mWb}$.

15 puncte

Proba E: Specializarea : matematică –informatică, științe ale naturii

Proba F: Profil: tehnic – toate specializările

♦ Sunt obligatorii toți itemii din două arii tematice dintre cele patru prevăzute în programă, adică: A.MECANICĂ, B.ELECTRICITATE ȘI MAGNETISM, C. ELEMENTE DE TERMODINAMICĂ ȘI FIZICĂ MOLECULARĂ, D. OPTICĂ

♦ Se acordă 10 puncte din oficiu.

♦ Timpul efectiv de lucru este de 3 ore.

Varianta 80

B. ELECTRICITATE ȘI MAGNETISMPermeabilitatea magnetică a vidului are valoarea $\mu_0 = 4\pi \cdot 10^{-7} \text{ N/A}^2$.**I. Pentru itemii 1-5 scrieți pe foaia de răspuns litera corespunzătoare răspunsului considerat corect****15 puncte****1. Alegeți afirmația falsă:** La gruparea rezistorilor în serie:

- a. intensitatea curentului prin fiecare rezistor este aceeași
- b. rezistența echivalentă este egală cu suma rezistențelor înseriate
- c. rezistența echivalentă este mai mică decât cea mai mică dintre rezistențele înseriate
- d. rezistența echivalentă este mai mare decât cea mai mare dintre rezistențele înseriate

2. Energia electrică disipată prin efect Joule pe un consumator are expresia:

- a. $W_{el} = \frac{UI}{t}$
- b. $W_{el} = \frac{U^2}{R} t$
- c. $W_{el} = \frac{I^2 t}{R}$
- d. $W_{el} = \frac{U}{Q}$

3. Coeficientul de temperatură al rezistivității unui metal este definit prin relația:

- a. $\alpha = \frac{\rho - \rho_0}{\rho_0(t - t_0)}$
- b. $\alpha = \frac{\rho - \rho_0}{t - t_0}$
- c. $\alpha = \frac{\rho - \rho_0}{\rho_0 t_0}$
- d. $\alpha = \frac{\rho_0 - \rho}{\rho(t - t_0)}$

4. Puterea transferată de un generator liniar, circuitului exterior, este maximă când:

- a. tensiunea la borne este maximă
- b. intensitatea curentului electric este minimă
- c. rezistența circuitului exterior este egală cu rezistența internă a generatorului
- d. rezistența echivalentă a circuitului este minimă

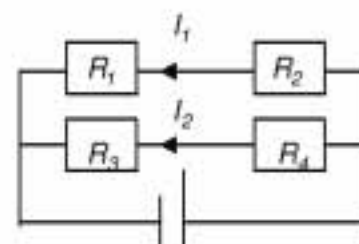
5. Un fir conductor de lungime $\ell = 0,70\text{m}$, plasat perpendicular liniile unui câmp magnetic uniform de inducție $B = 10^{-2}\text{T}$, se deplasează cu viteza constantă $v = 10\text{m/s}$ orientată sub unghiul $\alpha = 30^\circ$ față de liniile de câmp. Valoarea t.e.m. indusă în fir este:

- a. 20mV
- b. 25mV
- c. 30mV
- d. 35mV

II. Rezolvați următoarele probleme:

1. Circuitul electric a cărui diagramă este reprezentată în figura alăturată cuprinde o sursă cu t.e.m. $E = 14\text{V}$ a cărei rezistență internă este $r = 2\Omega$ și patru rezistori cu rezistențele electrice $R_1 = 6\Omega$, $R_2 = 4\Omega$, $R_3 = 2\Omega$ și $R_4 = 8\Omega$. Determinați:

- a. rezistența echivalentă a circuitului exterior;
- b. intensitatea I a curentului electric prin sursă;
- c. valoare rezistenței unui alt rezistor care, înlocuind rezistorul cu rezistența R_4 , face ca puterea debitată de sursă în circuitul exterior să fie maximă.

**15 puncte**

2. O bobină fără miez magnetic, situată în aer ($\mu_{\text{aer}} \approx \mu_0$), are $n = 15\text{spire/cm}$ și este parcursă de un curent electric de intensitate $I = 2\text{A}$. În interiorul bobinei este plasată o spirală circulară, de rezistență $R = 2\Omega$ și diametru $D = 10\text{cm}$, astfel încât unghiul dintre liniile de câmp din interiorul bobinei și suprafața spirei este $\alpha = 60^\circ$. Determinați:

- a. valoarea inducției câmpului magnetic din interiorul bobinei;
- b. fluxul magnetic prin spirală;
- c. sarcina electrică indusă în spirală când aceasta este rotită cu unghiul de 30° , astfel încât unghiul dintre liniile de câmp din interiorul bobinei și suprafața spirei devine $\beta = 30^\circ$.

15 puncte

Proba E: Specializarea : matematică –informatică, științe ale naturii

Proba F: Profil: tehnic – toate specializările

♦ Sunt obligatorii toți itemii din două arii tematice dintre cele patru prevăzute în programă, adică: A.MECANICĂ, B.ELECTRICITATE ȘI MAGNETISM, C. ELEMENTE DE TERMODINAMICĂ ȘI FIZICĂ MOLECULARĂ, D. OPTICĂ

♦ Se acordă 10 puncte din oficiu.

♦ Timpul efectiv de lucru este de 3 ore.

Varianta 81

B. ELECTRICITATE ȘI MAGNETISM

Permeabilitatea magnetică a vidului are valoarea $\mu_0 = 4\pi \cdot 10^{-7} \text{ N/A}^2$.

I. Pentru itemii 1-5 scrieți pe foaia de răspuns litera corespunzătoare răspunsului considerat corect

15 puncte

1. Intensitatea curentului electric reprezintă :

- a. lucrul mecanic necesar deplasării unității de sarcină printr-un conductor
- b. sarcina electrică ce trece printr-o secțiune a unui conductor
- c. numărul de electroni ce trec printr-o secțiune a unui conductor
- d. sarcină electrică ce trece printr-o secțiune transversală a unui conductor în unitatea de timp

2. Unitatea de măsură a inductanței se poate exprima prin unitățile fundamentale de măsură din S.I.:

- a. $H = \frac{\text{kg}}{\text{A} \cdot \text{m}}$
- b. $H = \frac{\text{kg} \cdot \text{m}^2}{\text{s}^2 \cdot \text{A}^2}$
- c. $H = \frac{\text{kg} \cdot \text{A}}{\text{m} \cdot \text{s}^2}$
- d. $H = \frac{\text{kg} \cdot \text{s}^2}{\text{A}}$

3. Coeficientul termic (α) al rezistivității electrice (ρ) pentru un conductor dintr-un anumit material, se poate exprima în funcție de temperatură (t) prin relația:

- a. $\alpha = \frac{\Delta\rho}{\rho_0 \cdot \Delta t}$
- b. $\alpha = \frac{\rho}{\rho_0} \cdot \Delta t$
- c. $\alpha = \frac{\rho_0 \cdot \Delta t}{\Delta\rho}$
- d. $\alpha = \frac{\rho_0}{\rho_2} (1 + \Delta t)$

4. Forța Lorentz este:

- a. forța cu care acționează un câmp magnetic asupra unui conductor parcurs de curent electric
- b. forța de interacție dintre doi conductori parcurși de curent electric
- c. forța cu care acționează un câmp magnetic asupra unei particule electrizate aflate în mișcare
- d. forța de atracție dintre doi magneti

5. La capetele unei tije conductoare ce are o mișcare de translație în câmp magnetic, nu se produce o tensiune electrică indusă atunci când:

- a. tija se rotește în câmp magnetic
- b. tija se mișcă perpendicular față de liniile câmpului magnetic
- c. câmpul magnetic este constant în timp
- d. viteza tije \vec{v} , tija și inducția câmpului magnetic \vec{B} sunt coplanare

II. Rezolvați următoarele probleme:

1. La bornele unei baterii cu t.e.m. $E = 24\text{V}$ și rezistență internă $r = 0,5\Omega$ se leagă un rezistor cu rezistența $R = 1,9\Omega$, în serie cu un montaj paralel de două becuri, primul consumând o putere $P_1 = 24\text{W}$, iar celălalt o putere $P_2 = 36\text{W}$. Determinați:

- a. intensitatea curentului electric prin baterie;
- b. rezistența echivalentă a grupării celor două becuri;
- c. raportul dintre puterea circuitului exterior și puterea totală a bateriei.

15 puncte

2. O bobină fără miez magnetic, cu lungimea $l = 10\text{cm}$, are diametrul $D = 2\text{cm}$, $N = 100$ spire și rezistența electrică $R = 8\Omega$. Bobina este conectată la bornele unei surse de tensiune cu $U = 50\text{V}$. Determinați:

- a. fluxul câmpului magnetic printr-o spirală a bobinei;
- b. inductanța bobinei;
- c. tensiunea autoindusă la bornele bobinei, dacă intensitatea curentului electric scade liniar până la zero într-un interval de timp $\Delta t = 10\text{ms}$.

15 puncte

Proba E: Specializarea : matematică –informatică, științe ale naturii

Proba F: Profil: tehnic – toate specializările

♦ Sunt obligatorii toți itemii din două arii tematice dintre cele patru prevăzute în programă, adică: A.MECANICĂ, B.ELECTRICITATE ȘI MAGNETISM, C. ELEMENTE DE TERMODINAMICĂ ȘI FIZICĂ MOLECULARĂ, D. OPTICĂ

♦ Se acordă 10 puncte din oficiu.

♦ Timpul efectiv de lucru este de 3 ore.

Varianta 82

B. ELECTRICITATE ȘI MAGNETISM

Permeabilitatea magnetică a vidului are valoarea $\mu_0 = 4\pi \cdot 10^{-7} \text{ N/A}^2$

I. Pentru itemii 1-5 scrieți pe foaia de răspuns litera corespunzătoare răspunsului considerat corect.

15 puncte

1. În acord cu notațiile utilizate în manuale, expresia forței electromagnetice exercitate asupra unui conductor rectiliniu parcurs de curent electric și aflat în câmp magnetic este:

a. $\vec{F} = I(\vec{l} \times \vec{B})$

b. $\vec{F} = I(\vec{l} \times \vec{B})$

c. $\vec{F} = B\vec{l}$

d. $\vec{F} = I(\vec{B} \times \vec{l})$

2. Unitatea de măsură în S.I. pentru inducția magnetică este:

a. Amper

b. Henry

c. Tesla

d. Weber

3. Un număr n de rezistoare cu rezistența electrică R , se conectează inițial în serie, apoi în paralel. Raportul $\frac{R_S}{R_P}$ al rezistențelor

echivalente este :

a. $\frac{R_S}{R_P} = n^2$

b. $\frac{R_S}{R_P} = \frac{1}{n^2}$

c. $\frac{R_S}{R_P} = n$

d. $\frac{R_S}{R_P} = \frac{1}{n}$

4. În acord cu notațiile utilizate în manuale, potrivit legii lui Ohm pentru circuitul electric simplu, există relația:

a. $E = (R + r)I^2$

b. $E = (R + r)I$

c. $E = rI$

d. $E = RI$

5. Energia electrică consumată în circuitul exterior cu rezistența electrică R , în timpul t are expresia:

a. $W_{ext} = \frac{U^2}{R}t$

b. $W_{ext} = U \cdot I$

c. $W_{ext} = \frac{E^2}{R}$

d. $W_{ext} = \frac{U^2}{R + r}t$

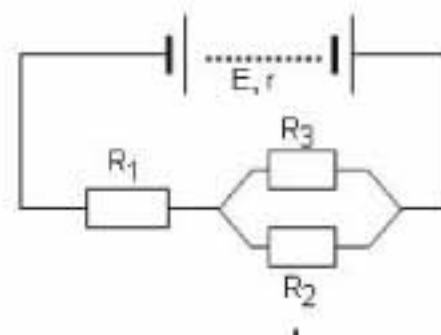
II. Rezolvați următoarele probleme:

1. Valorile care caracterizează elementele din circuitul alăturat sunt : $R_1 = 5\Omega$, $R_2 = R_3 = 10\Omega$, $E = 11\text{V}$, $r = 1\Omega$. Determinați:

a. tensiunea la bornele sursei;

b. intensitățile curenților electrici stabiliți în cei trei rezistori: R_1 , R_2 , R_3 ;

c. energia electrică consumată de rezistorul R_2 în $\Delta t = 3\text{min}$.



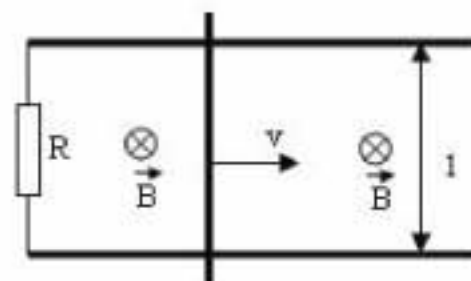
15 puncte

2. Un conductor liniar cu lungimea $\ell = 1\text{m}$ și rezistența $r = 1\Omega$, se deplasează cu viteza constantă $v = 10\text{m/s}$ peste două bare metalice paralele, cu rezistența electrică neglijabilă, legate la un capăt printr-un rezistor cu rezistența electrică $R = 3\Omega$. Sistemul descris este plasat într-un câmp magnetic uniform, cu liniile de câmp perpendiculare pe planul circuitului și cu inducția magnetică $B = 1\text{T}$. Determinați:

a. tensiunea electromotoare indusă în conductorul mobil;

b. intensitatea curentului electric indus în conductor;

c. puterea mecanică necesară deplasării conductorului mobil cu viteză constantă.



15 puncte

Proba E: Specializarea : matematică –informatică, științe ale naturii

Proba F: Profil: tehnic – toate specializările

♦ Sunt obligatorii toți itemii din două arii tematice dintre cele patru prevăzute în programă, adică: A.MECANICĂ, B.ELECTRICITATE ȘI MAGNETISM, C. ELEMENTE DE TERMODINAMICĂ ȘI FIZICĂ MOLECULARĂ, D. OPTICĂ

♦ Se acordă 10 puncte din oficiu.

♦ Timpul efectiv de lucru este de 3 ore.

Varianta 83

B. ELECTRICITATE ȘI MAGNETISM**I. Pentru itemii 1-5 scrieți pe foaia de răspuns litera corespunzătoare răspunsului considerat corect.****15 puncte**1. Ținând seama de simbolurile mărimilor fizice utilizate în manualele de fizică, expresia energiei electrice debitate pe un rezistor de rezistență R , montat la bornele unei surse de t.e.m. E și rezistență internă r , în intervalul de timp Δt , este:

a. $W = R \frac{E^2}{(R+r)^2} \Delta t$ b. $W = \frac{RE}{R+r} \cdot \Delta t$ c. $W = \frac{R^2 E}{R+r} \Delta t$ d. $W = \frac{RE^2}{R+r} \Delta t$

2. Ținând cont de simbolurile unităților de măsură utilizate în manualele de fizică, unitatea de măsură pentru inductanța L a unui circuit este:

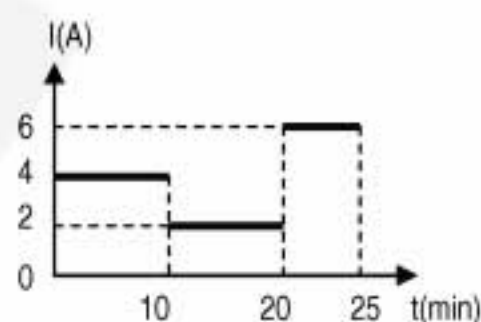
a. $\frac{J}{A}$ b. $\frac{J}{A^2}$ c. $\frac{N}{A^2}$ d. $\frac{m}{A^2}$

3. Expresia matematică a Legii lui Faraday pentru t.e.m. autoindusă este:

a. $e_a = L \cdot \frac{\Delta i}{\Delta t}$ b. $e_a = -L \cdot \frac{\Delta \phi}{\Delta t}$ c. $e_a = -L \cdot \frac{\Delta i}{\Delta t}$ d. $e_a = -LB \frac{\Delta S}{\Delta t}$

4. Dependența de timp a intensității curentului electric printr-un circuit, este redată în figură. Valoarea medie a intensității curentului calculată pentru $t \in [0; 25 \text{ min}]$ este:

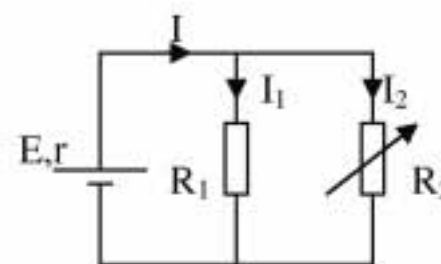
a. 2A b. 3,6A c. 4,5A d. 5A

5. Inducția magnetică a câmpului uniform din interiorul unui solenoid foarte lung parcurs de curentul de intensitate I , plasat în aer ($\mu_r \cong 1$) și având n spire pe unitatea de lungime are expresia:

a. $B_{int} = \mu_0 n^2 I$ b. $B_{int} = \frac{\mu_0 I}{n}$ c. $B_{int} = \mu_0 n I$ d. $B_{int} = \frac{\mu_0 n}{I}$

II. Rezolvați următoarele probleme1. Circuitul electric din figură este format dintr-o sursă cu t.e.m. $E = 40V$ și rezistența internă $r = 4\Omega$, un rezistor cu rezistența $R_1 = 12\Omega$ și un altul cu rezistența variabilă, R_2 . Determinați:

- a. intensitățile curentilor I , I_1 și I_2 pentru $R_2 = 6\Omega$;
b. căderea de tensiune pe rezistorul R_1 în condițiile de la punctul a.;
c. valoarea rezistenței lui R_2 pentru care puterea disipată în el este maximă.

**15 puncte**2. Un cadru metalic de forma unui pătrat ABCD, având latura $a = 10\text{cm}$ se poate roti în jurul laturii AD. Cadru are rezistența electrică $R = 80\Omega$ și inductanța neglijabilă. El este plasat într-un câmp magnetic uniform, de inducție $B = 0,2T$, orientat inițial perpendicular pe planul cadrului. Determinați:

- a. sarcina electrică indusă în cadru la rotația acestuia cu 90° ;
b. t.e.m. indusă în cadru la rotație uniformă a cadrului cu viteză unghiulară $\omega = 10\text{rad/s}$.
c. intensitatea curentului electric indus în cadru în situația de la punctul b.

15 puncte

Proba E: Specializarea : matematică –informatică, științe ale naturii

Proba F: Profil: tehnic – toate specializările

♦ Sunt obligatorii toți itemii din două arii tematice dintre cele patru prevăzute în programă, adică: A.MECANICĂ, B.ELECTRICITATE ȘI MAGNETISM, C. ELEMENTE DE TERMODINAMICĂ ȘI FIZICĂ MOLECULARĂ, D. OPTICĂ

♦ Se acordă 10 puncte din oficiu.

♦ Timpul efectiv de lucru este de 3 ore.

Varianta 84

B. ELECTRICITATE ȘI MAGNETISMPermeabilitatea magnetică a vidului are valoarea $\mu_0 = 4\pi \cdot 10^{-7} \text{ N} \cdot \text{A}^{-2}$.**I. Pentru itemii 1-5 scrieți pe foaia de răspuns litera corespunzătoare răspunsului considerat corect****15 puncte****1.** Nu este expresia inducției câmpului magnetic generat de conductoare parcurse de curent electric cu intensitatea I :

a. $B = \mu \frac{I}{2r}$

b. $B = \mu \frac{nI}{2r}$

c. $B = \mu n \ell I$

d. $B = \mu \frac{NI}{\ell}$

2. Două becuri, având puterea $P = 25 \text{ W}$ fiecare, sunt construite pentru tensiunea $U' = 12 \text{ V}$. Dispunem de o sursă electrică ce furnizează o tensiunea la borne $U = 90 \text{ V}$ și de un rezistor. Dacă se leagă becurile în serie și se conectează la sursa dată, ele vor funcționa normal atunci când rezistorul conectat în serie cu acestea are rezistența egală cu:

a. $R = 31,68 \, \Omega$

b. $R = 28,3 \, \Omega$

c. $R = 21,4 \, \Omega$

d. $R = 18,62 \, \Omega$

3. Un conductor orizontal, de lungime $\ell = 20 \text{ cm}$ și masă $m = 2,0 \text{ g}$, este parcurs de curentul electric $I = 5,0 \text{ A}$. Dacă $g = 9,8 \text{ m} \cdot \text{s}^{-2}$, conductorul, lăsat liber, rămâne în echilibru când este plasat, în aer, într-un câmp magnetic uniform de inducție magnetică minimă:

a. $19,6 \text{ T}$

b. 10 T

c. 5 mT

d. $19,6 \text{ mT}$.

4. Se dau 10 surse electrice identice conectate în paralel. Fiecare sursă are t.e.m. E și rezistența interioară r . Bateria astfel alcătuită se leagă la un rezistor care are rezistența $R = 0,9 r$. Raportul dintre intensitatea curentului electric prin rezistor și intensitatea curentului de scurtcircuit al bateriei este egal cu:

a. 100

b. 10

c. 0,1

d. 0,01

5. Un solenoid cu inductanța $L = 1 \text{ mH}$ este parcurs de curent electric a cărui intensitate variază în timp conform legii $i = 2t^2 - 4t$, în unități S.I. T.e.m. autoindusă, exprimată în unități S.I., este dată de relația:

a. $e = -4t + 1$, în volți

b. $e = -4 \cdot 10^{-3}(t-1) \text{ (V)}$

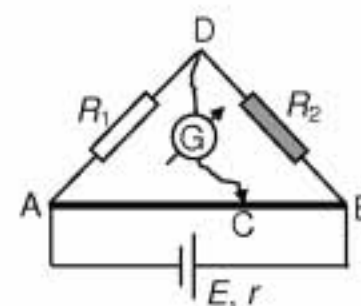
c. $e = 4(t-1) \text{ (mV)}$

d. $e = -4 \cdot 10^{-3}t \text{ (V)}$

II. Rezolvați următoarele probleme:**1.** La sursa electrică de parametri $E = 6 \text{ V}$ și $r = 0,4 \, \Omega$, sunt conectați rezistorul de rezistență $R_1 = 4 \, \Omega$, bobina de inductanță $L = 100 \text{ mH}$ și rezistență $R_2 = 5 \, \Omega$ și firul conductor AB omogen, de secțiune constantă și rezistență $R_1 = 6 \, \Omega$ (figura alăturată). Rezistența galvanometrului, conectat între punctele D și C, este neglijabil de mică iar contactul electric din punctul C poate aluneca de-a lungul firului AB. Poziția cursorului C este aleasă astfel încât galvanometrul nu indică trecerea curentului electric prin el. Determinați:

a. rezistența electrică între bornele A și B;

b. fluxul magnetic ce străbate solenoidul;

c. raportul ℓ_{AC} / ℓ_{CB} al lungimilor porțiunilor AC și CB ale firului.**15 puncte****2.** Un ion pozitiv monovalent (1) cu sarcina $q_1 = 1,6 \cdot 10^{-19} \text{ C}$ și masa $m_1 = 1,67 \cdot 10^{-27} \text{ kg}$ și altul negativ bivalent (2) cu sarcina $q_2 = 2q_1$ și masa $m_2 = 40m_1$ pătrund cu vitezele

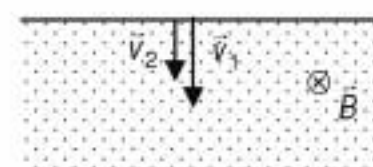
$v_1 = 8 \cdot 10^6 \text{ m/s} = 2v_2$ într-o regiune în care există câmp magnetic omogen de inducție $B = 0,167 \text{ T}$

perpendicular pe liniile de câmp ale acestuia (figura alăturată). Regiunea în care există câmpul magnetic are o extindere suficient de mare.

a. Efectuați desenul pe foaia de răspuns și desenați traiectoriile posibile ale ionilor până la părăsirea câmpului magnetic.

b. Calculați distanța dintre punctele prin care ionii părăsesc zona de câmp magnetic considerând că ei au pătruns în câmp prin același punct.

c. Determinați intervalul de timp care separă ieșirea ionilor din câmp.

**15 puncte**

Proba E: Specializarea : matematică –informatică, științe ale naturii

Proba F: Profil: tehnic – toate specializările

♦ Sunt obligatorii toți itemii din două arii tematice dintre cele patru prevăzute în programă, adică: A.MECANICĂ, B.ELECTRICITATE ȘI MAGNETISM, C. ELEMENTE DE TERMODINAMICĂ ȘI FIZICĂ MOLECULARĂ, D. OPTICĂ

♦ Se acordă 10 puncte din oficiu.

♦ Timpul efectiv de lucru este de 3 ore.

Varianta 85

ELECTRICITATE SI MAGNETISMSe consideră: sarcina electrică a protonului $q = 1,6 \cdot 10^{-19} \text{ C}$, masa protonului $m = 1,67 \cdot 10^{-27} \text{ kg}$, $\mu_0 = 4\pi \cdot 10^{-7} \text{ N/A}^2$.**I. Pentru itemii 1-5 scrieti pe foaia de răspuns litera corespunzătoare răspunsului considerat corect.****15 puncte**

1. Unitatea de măsură care nu corespunde fluxului magnetic este:

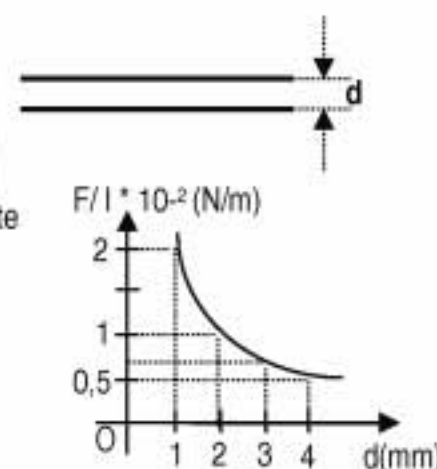
a. Wb

b. $\text{T} \cdot \text{m}^{-2}$ c. $\text{T} \cdot \text{m}^2$ d. $\frac{\text{Js}}{\text{C}}$

2. În circuitul din figură se realizează următoarele :

- se închide k_1 și se deschide k_2 și se măsoară puterea transmisă în circuitul exterior- se deschide k_1 și se închide k_2 și se măsoară puterea transmisă în circuitul exterior

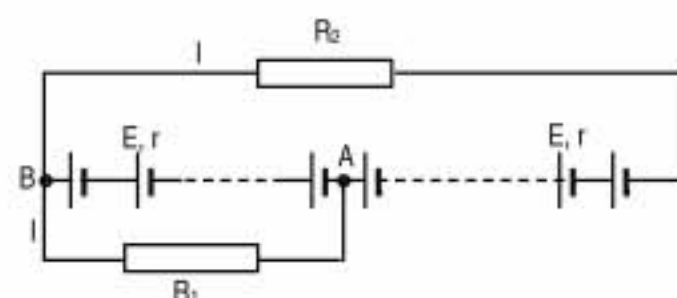
În ambele cazuri, în circuitul exterior se disipă aceeași putere. Rezistența internă a sursei este :

a. R_1 b. R_2 c. $R_1 R_2$ d. $\sqrt{R_1 R_2}$ 3. Un proton se mișcă în câmp magnetic uniform, într-un plan perpendicular pe liniile de câmp. Dacă raza traiectoriei este $R = 0,5 \text{ m}$ și inducția câmpului magnetic, $B = 0,3 \text{ T}$, energia cinetică a protonului este:a. $8,3 \cdot 10^{19} \text{ J}$ b. $5,8 \cdot 10^{-40} \text{ J}$ c. $1,2 \cdot 10^{-20} \text{ J}$ d. $1,7 \cdot 10^{-13} \text{ J}$ 4. O bobină fără miez magnetic cu lungimea de 10 cm și cu $N = 100$ spire este parcursă de un curent a cărui intensitate este variabilă în timp conform relației $i = 2t \text{ (A)}$, unde t este exprimat în secunde. Legea după care variază în timp inducția câmpului magnetic pe axa bobinei, la mijlocul ei este:a. $25,1 \cdot t \text{ (mT)}$ b. $12,5 \cdot t \text{ (}\mu\text{T)}$ c. $25,1 \cdot t \text{ (}\mu\text{T)}$ d. $25,1 \cdot t \text{ (mT)}$ 5. Doi conductori paraleli sunt parcurși de curenți cu aceeași intensitate I . Conductorii sunt așezați în plan vertical, în vid, unul sub altul, conform figurii alăturate. Graficul reprezintă dependența forței pe unitatea de lungime, de distanța dintre conductoare. Valoarea intensității curentului ce străbate conductorii, este:a. 10 A b. 100 A c. 1000 A d. $0,1 \text{ A}$.**II. Rezolvați următoarele probleme**1. O sursă cu parametri E și r debitează pe un rezistor de rezistență $R = 3,7 \Omega$ un curent cu intensitatea $I_0 = 0,5 \text{ A}$. Dacă se leagă bornele sursei printr-un fir conductor ideal, intensitatea curentului măsurat este $I_1 = 19 \text{ A}$. Se conectează n astfel de elemente, în serie. La bateria astfel formată, se conectează doi rezistori de rezistențe $R_1 = 3 \Omega$ și $R_2 = 8,1 \Omega$ astfel încât să fie parcurși de curenți electrici, fiecare cu intensitatea $I = 2 \text{ A}$. Determinați:

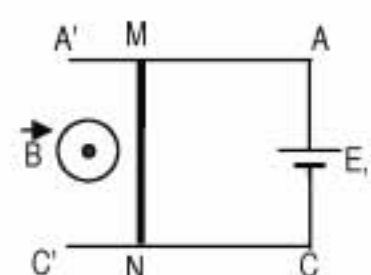
a. tensiunea electromotoare și rezistența internă a unui element;

b. numărul de elemente la care este conectat fiecare rezistor în parte;

c. tensiunea între punctele A și B.

**15 puncte**2. O sursă cu t.e.m. $E = 12 \text{ V}$ și rezistența interioară $r = 0,5 \Omega$, este conectată la două șine metalice paralele, orizontale, de rezistență neglijabilă, AA' și CC'. Pe cele două șine este așezată o bară MN de lungime $\ell = 30 \text{ cm}$ și rezistență $R = 2 \Omega$ care poate aluneca fără frecare, perpendicular pe șine ca în figură. Ansamblul se află într-un câmp magnetic de inducție $B = 0,8 \text{ T}$, perpendicular pe planul șinelor cu sensul figurat în desen. Determinați:

a. valoarea maximă a vitezei atinsă de bara MN;

b. forța care trebuie aplicată în sens invers mișcării, pentru ca viteza maximă a barei să fie $v_0 = 25 \text{ m/s}$;c. intensitatea curentului electric din circuit atunci când bara are viteza de 25 m/s , în condițiile în care se inversează sensul inducției câmpului magnetic.**15 puncte**

Proba E: Specializarea : matematică –informatică, științe ale naturii

Proba F: Profil: tehnic – toate specializările

♦ Sunt obligatorii toți itemii din două arii tematice dintre cele patru prevăzute în programă, adică: A.MECANICĂ, B.ELECTRICITATE ȘI MAGNETISM, C. ELEMENTE DE TERMODINAMICĂ ȘI FIZICĂ MOLECULARĂ, D. OPTICĂ

♦ Se acordă 10 puncte din oficiu.

♦ Timpul efectiv de lucru este de 3 ore.

Varianta 86

B. ELECTRICITATE ȘI MAGNETISMPermeabilitatea magnetică a vidului este $\mu_0 = 4\pi \cdot 10^{-7} \text{ N/A}^2$ **I. Pentru itemii 1-5 scrieți pe foaia de răspuns litera corespunzătoare răspunsului considerat corect.****15 puncte**

1. Ținând seama de simbolurile unităților de măsură din manualele de fizică, unitatea de măsură pentru intensitatea curentului electric este:

- a. $\Omega \cdot m$ b. V/m c. V/A d. A

2. Curentul electric dintr-un metal se datorează mișcării dirijate a purtătorilor de sarcină:

- a. cationii b. anionii c. protonii d. electronii

3. Ținând cont de simbolurile mărimilor fizice din manualele de fizică, expresia puterii electrice debitate de un generator pe întreg circuitul este:

- a. $P = UI$ b. $P = (R + r)I$ c. $P = \frac{E^2}{R + r}$ d. $P = \frac{E}{R + r}$

4. Căldura degajată de un conductor electric de rezistență $R = 1\text{k}\Omega$, prin care trece un curent de intensitate $I = 1\text{mA}$, timp de 30 de minute este:

- a. 30 J b. 1800J c. 1,8 J d. 0,03J

5. Inducția câmpului magnetic produs în centrul unui multiplicator, construit din N spire circulare de raza r , bine strânse, parcurs de un curent electric staționar de intensitate I , are expresia:

- a. $B = \mu_0 \frac{NI}{2\pi r}$ b. $B = \mu_0 \frac{NI}{r}$ c. $B = \mu_0 \frac{NI}{2r}$ d. $B = \mu_0 \frac{I}{2Nr}$

II. Rezolvați următoarele probleme:1. Două becuri ce funcționează normal la $U = 110 \text{ V}$, au puterile $P_1 = 40 \text{ W}$, respectiv $P_2 = 110 \text{ W}$. Calculați:

- a. rezistențele electrice ale becurilor în regim de funcționare normală;
b. intensitățile curenților care le străbat în regim de funcționare normală;
c. valoarea rezistenței electrice a unui rezistor care trebuie legat în paralel cu unul din becuri, astfel încât ambele becuri să funcționeze normal când gruparea lor serie este alimentată de o tensiune $U' = 220\text{V}$.

15 puncte2. O spirală conductoare de rază $r = 0,12 \text{ m}$, și rezistență electrică $R = 0,04\Omega$ este parcursă de un curent cu intensitatea $I = 0,5 \text{ A}$. Calculați:

- a. valoarea inducției magnetice în centrul spirei, plasată în aer;
b. valoarea fluxului magnetic prin suprafața spirei, produs de un câmp magnetic uniform de inducție $B = 0,8\text{T}$, perpendicular pe planul spirei deconectate de la sursa de tensiune;
c. sarcina electrică ce trece prin secțiunea conductorului spirei la inversarea sensului câmpului magnetic exterior, considerând neglijabilă inductanța spirei.

15 puncte

Proba E: Specializarea : matematică –informatică, științe ale naturii

Proba F: Profil: tehnic – toate specializările

♦ Sunt obligatorii toți itemii din două arii tematice dintre cele patru prevăzute în programă, adică: A.MECANICĂ, B.ELECTRICITATE ȘI MAGNETISM, C. ELEMENTE DE TERMODINAMICĂ ȘI FIZICĂ MOLECULARĂ, D. OPTICĂ

♦ Se acordă 10 puncte din oficiu.

♦ Timpul efectiv de lucru este de 3 ore.

Varianta 87

B. ELECTRICITATE ȘI MAGNETISMSe cunoaște $\mu_0 = 4\pi 10^{-7} \text{ N/A}^2$.**I. Pentru itemii 1-5 scrieți pe foaia de răspuns litera corespunzătoare răspunsului considerat corect****15 puncte**

1. Dacă notațiile sunt cele utilizate în manualele de fizică unitatea de măsură a fluxului magnetic exprimată în unități fundamentale S.I. este :

- a. kg m s A^{-2} b. $\text{kg m}^2 \text{s}^{-2} \text{A}^{-1}$ c. $\text{m s}^{-2} \text{A}^{-1}$ d. $\text{kg}^{-1} \text{m s}^{-2} \text{A}^{-1}$

2. Reprezentând grafic caracteristica curent – tensiune pentru un rezistor de rezistență electrică constantă se obține o :

- a. dreaptă ce trece prin origine b. parabolă c. hiperbolă d. dreaptă ce nu trece prin origine

3. Dacă notațiile sunt cele utilizate în manualele de fizică, atunci unitatea de măsură în S.I. a mărimii fizice descrise de relația $RI^2 \Delta t$ este:

- a. W b. J c. T d. Wb

4. Inducția magnetică creată de un conductor rectiliniu foarte lung parcurs de un curent electric de intensitate I la distanța r de acesta are expresia:

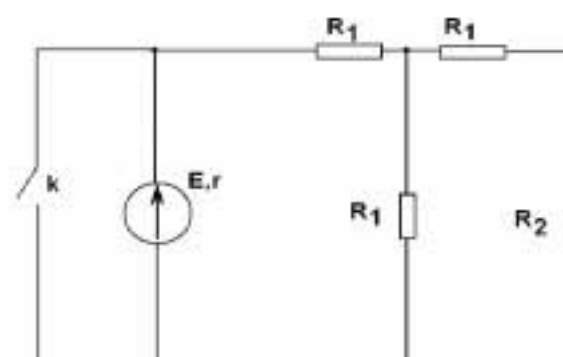
- a. $\frac{\mu I}{r}$ b. $\frac{\mu NI}{\pi r}$ c. $\frac{\mu I}{2\pi r}$ d. $\frac{\mu NI}{l}$

5. Intensitatea curentului electric care parcurge o bobină de inductanță L scade liniar de la valoarea I la zero într-un interval de timp t . În acest caz expresia tensiunii autoinduse ce apare în bobină este :

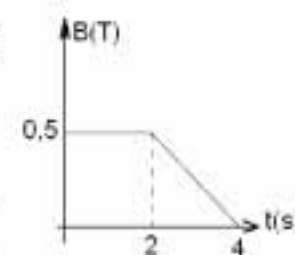
- a. $\frac{LI^2}{2}$ b. B/v c. B/I d. $\frac{LI}{t}$

II. Rezolvați următoarele probleme:1. Se dă circuitul din figură în care se cunosc $E=12V$, $r=2\Omega$. Dacă se conectează într-un circuit numai rezistorul de rezistență R_2 , la generator acesta transferă o putere maximă pe rezistor. Determinați :

- a. rezistența electrică R_2 ;
b. intensitatea curentului prin generator când întrerupătorul K este închis ;
c. rezistența echivalentă a circuitului când întrerupătorul k este deschis știind că în această situație raportul dintre puterea dezvoltată în circuitul exterior și puterea totală a generatorului (randamentul circuitului) este $\eta=75\%$.

**15 puncte**2. O spiră circulară de rază 2 cm și cu rezistența unității de lungime $r_0 = 0,1 \Omega/m$ este plasată în aer perpendicular pe direcția unui câmp magnetic vertical a cărui inducție magnetică variază cu timpul conform graficului din figura alăturată. Determinați :

- a. fluxul magnetic inițial prin spiră ;
b. intensitatea medie a curentului electric prin spiră în intervalul de timp (2; 4) s ;
c. sarcina electrică ce trece prin spiră în interval (0; 2) s (atunci când inducția magnetică este constantă) dacă spira se rotește cu 60° în jurul unei axe orizontale ce trece prin centrul ei .

**15 puncte**

Proba E: Specializarea : matematică –informatică, științe ale naturii

Proba F: Profil: tehnic – toate specializările

♦ Sunt obligatorii toți itemii din două arii tematice dintre cele patru prevăzute în programă, adică: A.MECANICĂ, B.ELECTRICITATE ȘI MAGNETISM, C. ELEMENTE DE TERMODINAMICĂ ȘI FIZICĂ MOLECULARĂ, D. OPTICĂ

♦ Se acordă 10 puncte din oficiu.

♦ Timpul efectiv de lucru este de 3 ore.

Varianta 88

B. ELECTRICITATE ȘI MAGNETISM**I. Pentru itemii 1-5 scrieți pe foaia de răspuns litera corespunzătoare răspunsului considerat corect.****15 puncte**

1. Alegeți unitatea de măsură care corespunde intensității curentului electric:

- a. $C \cdot s$ b. $N \cdot T^{-1} \cdot m^{-1}$ c. W/Ω d. $J \cdot s \cdot \Omega^{-1}$

2. Forța electromagnetică ce se exercită asupra unui conductor rectiliniu parcurs de curent aflat în câmp magnetic este maximă:

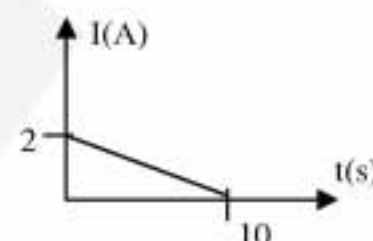
- a. când direcția conductorului este paralelă cu vectorul inducția câmpului magnetic B
b. atunci când vectorul inducția câmpului magnetic B face un unghi de 30° cu direcția conductorului
c. atunci când vectorul inducția câmpului magnetic B face un unghi de 45° cu direcția conductorului
d. atunci când vectorul inducția câmpului magnetic B face un unghi de 90° cu direcția conductorului

3. Un ampermetru având valoarea rezistenței interioare $R_A = 0,99 \Omega$, are intensitatea nominală $I = 1 \text{ mA}$. Dacă în paralel cu ampermetrul se conectează un resistor, gruparea obținută poate fi conectată într-un circuit parcurs de $I_1 = 10 \text{ mA}$. Rezistența electrică a rezistorului este:

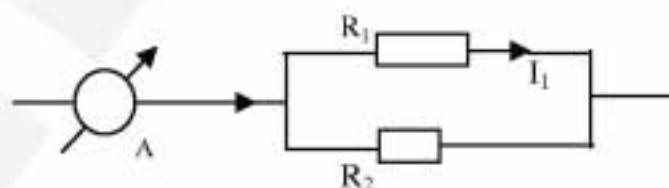
- a. 2Ω b. $1,5 \Omega$ c. $0,11 \Omega$ d. $0,9 \Omega$

4. Printr-o bobină cu inductanța $L = 4 \text{ mH}$ trece un curent electric variabil în timp așa cum este descris în figura alăturată. Tensiunea electromotoare autoindusă în bobină în cea de-a 9-a secundă este de:

- a. 2 mV b. $4,2 \text{ mV}$ c. $0,8 \text{ mV}$ d. $1,6 \text{ mV}$

5. În montajul din figură se cunoaște raportul rezistențelor electrice $R_1/R_2 = 3/2$. Valoarea curentului I_1 reprezintă o fracțiune din indicația ampermetrului egală cu :

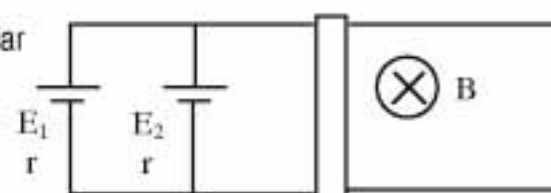
- a. 20% b. 40% c. 60% d. 80%

**II. Rezolvați următoarele probleme :**1. Dacă se conectează la bornele unei baterii cu t.e.m. $E = 10 \text{ V}$ o rezistență $R_1 = 1 \Omega$, pe ea se va debita aceeași putere ca și în cazul în care, la bornele aceleiași surse am lega o altă rezistență $R_2 = 4 \Omega$. Determinați:

- a. rezistența internă a bateriei;
b. puterea electrică debitată pe gruparea în serie a celor două rezistoare, grupate la bornele aceleiași surse;
c. raportul dintre puterea electrică debitată pe rezistorul R_1 , atunci când acesta este legat singur la bornele sursei și puterea totală debitată, în aceste condiții de sursă.

15 puncte2. Generatoarele electrice din figura alăturată au rezistențele interioare egale $r = 2 \Omega$, iar tensiunile lor electromotoare au valorile $E_1 = 6 \text{ V}$ și respectiv $E_2 = 24 \text{ V}$. Atât conductoarele de legătură cât și tija metalică masivă, care se poate deplasa fără frecări, au rezistențe electrice neglijabile. Lungimea tijei este de 1 m . Întreg sistemul este plasat în câmpul magnetic uniform de inducție $b = 10 \text{ mT}$, ale cărui linii de câmp sunt perpendiculare pe planul circuitului (ca în figură). Determinați:

- a. valoarea intensității curentului electric prin tija dacă aceasta nu se mișcă;
b. dacă va funcționa normal un bec pe care sunt înscrise valorile $P = 4 \text{ W}$ și $U = 4 \text{ V}$ dacă el este conectat în circuit în locul tijei;
c. valoarea forței electromagnetice ce va acționa asupra tijei dacă viteza ei de deplasare ar fi $v = 10 \text{ m/s}$.

15 puncte

Proba E: Specializarea : matematică –informatică, științe ale naturii

Proba F: Profil: tehnic – toate specializările

♦ Sunt obligatorii toți itemii din două arii tematice dintre cele patru prevăzute în programă, adică: A.MECANICĂ, B.ELECTRICITATE ȘI MAGNETISM, C. ELEMENTE DE TERMODINAMICĂ ȘI FIZICĂ MOLECULARĂ, D. OPTICĂ

♦Se acordă 10 puncte din oficiu.

♦Timpul efectiv de lucru este de 3 ore.

Varianta 89

B. ELECTRICITATE ȘI MAGNETISM

Permeabilitatea magnetică a vidului are valoarea $\mu_0 = 4\pi \cdot 10^{-7} \text{ N/A}^2$.

I. Pentru itemii 1-5 scrieți pe foaia de răspuns litera corespunzătoare răspunsului considerat corect

15 puncte

1. Dacă notațiile sunt cele utilizate în manualele de fizică, forța pe unitatea de lungime care se exercită între două conductoare paralele, rectilinii, lungi, parcurse de curent electric are expresia:

a. $F = \frac{\mu N^2 \ell}{2\pi}$

b. $F = \frac{\mu \cdot I_1 \cdot I_2}{2r}$

c. $F = \frac{\mu_r \cdot I_1 \cdot I_2}{r}$

d. $F = \frac{\mu \cdot I_1 \cdot I_2}{2\pi r}$

2. Unitatea de măsură în S.I. pentru inducția magnetică este:

a. $A^2 \cdot s^4 \cdot kg^{-1}$

b. $A^2 \cdot s^4 \cdot kg^{-1} \cdot m^{-2}$

c. $A^{-1} \cdot s^{-2} \cdot kg$

d. $A^{-1} \cdot s^{-1} \cdot kg \cdot m^2$

3. Regula lui Lenz afirmă că t.e.m. indusă și curentul indus au un astfel de sens încât:

a. curentul indus are sens opus celui inductor

b. fluxul magnetic al câmpului indus se opune fluxului magnetic inductor

c. câmpul magnetic indus are sens opus câmpului magnetic inductor

d. fluxul magnetic al câmpului indus se opune variației fluxului magnetic inductor

4. Un circuit de curent continuu este alimentat de o sursă cu t.e.m. E și rezistență internă $r = \frac{R}{2}$. În circuitul extern sunt conectați în serie

trei rezistori cu valorile $R/2$, R și $2R$, curentul electric fiind egal cu $1A$. Dacă din circuit se scoate rezistorul cu valoarea $2R$, curentul electric are valoare:

a. $0,5A$

b. $2A$

c. $1A$

d. $3,5A$

5. O baterie are t.e.m. $E = 12V$ și rezistență internă $r = 0,5\Omega$. Puterea maximă pe care această baterie o poate transfera circuitului exterior este:

a. $72W$

b. $288W$

c. $144W$

d. $24W$

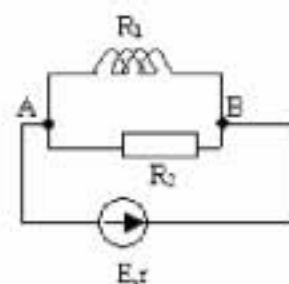
II. Rezolvați următoarele probleme:

1. Se consideră circuitul electric din figura alăturată alimentat la o sursă cu t.e.m. $E = 40V$ și rezistență internă r . Circuitul conține bobina cu $N = 2500$ spire, lungime $\ell = 40cm$, diametrul unei spire $d = 40mm$, având rezistența $R_1 = 15\Omega$ și rezistorul cu rezistența $R_2 = 60\Omega$. Inducția magnetică pe axul bobinei are valoarea $B = 5\pi mT$. Determinați:

a. puterea disipată pe rezistorul R_2

b. fluxul magnetic printr-o spiră a bobinei

c. rezistența internă a sursei

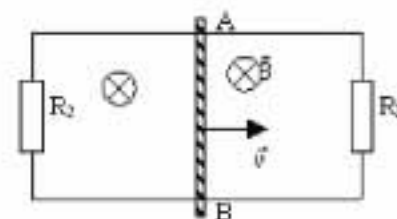


15 puncte

2. Un conductor AB are lungimea $\ell = 30cm$, masa $m = 50g$ și rezistența $r = 1\Omega$. El alunecă cu frecare pe două bare conductoare, cu viteza $v = 5m/s$ într-un câmp magnetic uniform cu inducția $B = 0,4T$, perpendicular pe planul de mișcare. Barele sunt legate la capete prin doi rezistori cu rezistențele $R_1 = 6\Omega$ și $R_2 = 3\Omega$. Determinați:

a. t.e.m. indusă în conductorul mobil

b. intensitatea curentului electric prin conductorul AB

c. forța mecanică necesară deplasării conductorului AB cu viteza dată, cunoscând că forța de frecare dintre conductor și bare este $F_f = 50mN$


15 puncte

Proba E: Specializarea : matematică –informatică, științe ale naturii

Proba F: Profil: tehnic – toate specializările

♦ Sunt obligatorii toți itemii din două arii tematice dintre cele patru prevăzute în programă, adică: A.MECANICĂ, B.ELECTRICITATE ȘI MAGNETISM, C. ELEMENTE DE TERMODINAMICĂ ȘI FIZICĂ MOLECULARĂ, D. OPTICĂ

♦ Se acordă 10 puncte din oficiu.

♦ Timpul efectiv de lucru este de 3 ore.

Varianta 90

B. ELECTRICITATE ȘI MAGNETISM**I. Pentru itemii 1-5 scrieți pe foaia de răspuns litera corespunzătoare răspunsului considerat corect****15 puncte**1. Dacă notațiile sunt cele utilizate în manualele de fizică, atunci unitatea de măsură în S.I. a mărimii fizice descrise de relația $B \cos \alpha$ este:

- a. T b. Wb c. H d. N

2. Fluxul magnetic prin spirele unui solenoid depinde de intensitatea curentului electric conform relației $\Phi = \frac{3}{2} I$, unde I reprezintă intensitatea curentului în mA. Inductanța solenoidului este :

- a. 6H b. 4H c. 1,5mH d. 1,5H

3. O particulă cu sarcina electrică $q = 10^{-7} \text{ C}$ intră cu viteza $v_0 = 10^6 \text{ ms}^{-1}$ într-un câmp magnetic cu inducția $B = 1 \text{ mT}$, perpendicular pe liniile de câmp. Forța pe care câmpul magnetic o exercită asupra particulei are valoarea de :

- a. 10^{-4} N b. $\sqrt{3} \cdot 10^{-5} \text{ N}$ c. 10^3 N d. 10^{+3} N

4. Patru rezistori cu rezistențele electrice egale sunt grupate fie în serie, fie în paralel. Raportul dintre rezistențele echivalente ale celor două grupări, $R_{\text{serie}}/R_{\text{paralel}}$ are valoarea :

- a. 16 b. 4 c. 2 d. 1

5. O sursă de tensiune electrică dezvoltă aceeași putere pe rezistențele electrice $R_1 = 4 \Omega$ și respectiv $R_2 = 9 \Omega$ când aceste rezistoare sunt conectate pe rând la bornele sursei. Rezistența electrică interioară a sursei de tensiune este :

- a. 36Ω b. 13Ω c. 6Ω d. $9/4 \Omega$

II. Rezolvați următoarele probleme:1. Doi conductori paraleli, foarte lungi, aflați în vid sunt parcurși de curenți electrice cu intensitățile $I_1 = 2 \text{ A}$ și $I_2 = 4 \text{ A}$. Conductorii se află la distanța de 10cm unul de celălalt. Să se calculeze :

- a. inducția câmpului magnetic în punctul M aflat la jumătatea distanței dintre cei doi conductori ;
b. punctul în care inducția magnetică este nulă ;
c. forța pe unitatea de lungime dintre cei doi conductori

15 puncte2. Un circuit simplu este format dintr-o sursă de tensiune cu t.e.m. $E = 12 \text{ V}$ și rezistența internă $r = 2 \Omega$ și un rezistor $R = 4 \Omega$:

- a. tensiunea la bornele sursei ;
b. randamentul electric al circuitului ;
c. valoarea rezistenței externe pentru ca puterea dezvoltată pe această rezistență să fie maximă.

15 puncte

Proba E: Specializarea : matematică –informatică, științe ale naturii

Proba F: Profil: tehnic – toate specializările

♦ Sunt obligatorii toți itemii din două arii tematice dintre cele patru prevăzute în programă, adică: A.MECANICĂ, B.ELECTRICITATE ȘI MAGNETISM, C. ELEMENTE DE TERMODINAMICĂ ȘI FIZICĂ MOLECULARĂ, D. OPTICĂ

♦ Se acordă 10 puncte din oficiu.

♦ Timpul efectiv de lucru este de 3 ore.

Varianta 91

B. ELECTRICITATE ȘI MAGNETISMPermeabilitatea magnetică a vidului are valoarea $\mu_0 = 4\pi \cdot 10^{-7} \text{ N/A}^2$; se va considera $\pi^2 \equiv 10$.**I. Pentru itemii 1-5 scrieți pe foaia de răspuns litera corespunzătoare răspunsului considerat corect.****15 puncte**1. Într-un circuit simplu format dintr-un generator (E, r) și un consumator cu rezistența $R = 2r$ se leagă în paralel cu consumatorul încă unul identic. În aceste condiții, tensiunea de la bornele generatorului:

- a. crește cu 25% b. scade cu 25% c. rămâne constantă d. crește cu 50%

2. Prin dublarea rezistenței electrice a unui conductor de cupru rezistivitatea acestuia:

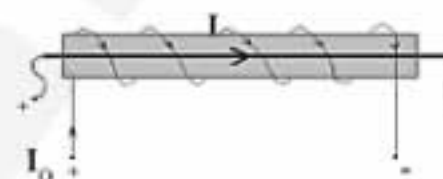
- a. se dublează b. scade de două ori c. nu se modifică d. crește ușor

3. Unitatea de măsură exprimată în S.I. prin $\text{Kg m}^2 \text{s}^{-2} \text{A}^{-1}$ se folosește pentru mărimea fizică

- a. tensiune electrică b. inducție magnetică c. inductanță d. flux magnetic

4. Coaxial cu bobina din figură (fără miez magnetic, parcursă de un curent cu intensitatea $I_0 = 1 \text{ A}$, cu $N = 100$ spire) se introduce un conductor liniar parcurs de un curent cu intensitatea $I = 2 \text{ A}$. Forța electromagnetică exercitată asupra conductorului în aceste condiții are valoarea:

- a. 0 N b. $250 \mu\text{N}$ c. $0,25 \text{ mN}$ d. $25 \cdot 10^{-5} \text{ N}$

5. În același plan cu o spiră circulară de rază $R = 10 \text{ cm}$ parcursă de curentul electric staționar cu intensitatea $I = 1 \text{ A}$, la distanța $d = 20 \text{ cm}$ de centrul său se află un conductor liniar parcurs de curent astfel încât inducția câmpului magnetic în centrul spirei este nulă. Intensitatea curentului prin conductor are valoarea:

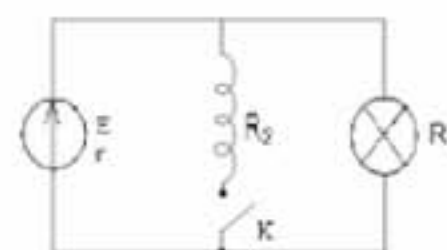
- a. $31,4 \text{ mA}$ b. $62,8 \text{ mA}$ c. $3,14 \text{ A}$ d. $6,28 \text{ A}$

II. Rezolvați următoarele probleme:1. Doi consumatori rezistivi cu puterile nominale $P_1 = 100 \text{ W}$ și $P_2 = 400 \text{ W}$ funcționează fiecare normal la tensiunea $U_0 = 110 \text{ V}$. Se realizează două circuite legând cei doi consumatori mai întâi în serie, apoi în paralel, și fiecare circuit se alimentează la tensiunea $U = 220 \text{ V}$. Pentru funcționarea normală a consumatorilor este necesar ca în fiecare caz să se folosească un rezistor suplimentar cu rezistența R_s în paralel cu rezistorul R_1 la gruparea serie, respectiv în serie cu gruparea paralel în cazul al doilea.

- a. Desenați cele două diagrame de alimentare a consumatorilor.
b. Determinați valorile celor două rezistențe suplimentare.
c. Calculați randamentul η cu care funcționează circuitul realizat prin legarea în paralel a consumatorilor.

15 puncte2. Circuitul din figură conține un generator cu t.e.m. $E = 4 \text{ V}$ și rezistența internă $r = 0,5 \Omega$, un bec cu rezistența $R_1 = 7,5 \Omega$ și o bobină fără miez magnetic ($\mu_{\text{aer}} \approx \mu_0$) cu rezistența $R_2 = 15 \Omega$. Bobina are $N = 50$ spire, fiecare cu diametrul $d = 1 \text{ cm}$ și lungimea înfășurării $l = 5 \text{ cm}$.

- a. Dacă întrerupătorul K este deschis, calculați intensitatea I_1 a curentului prin bec.
b. Se închide întrerupătorul. Determinați valoarea fluxului magnetic total al câmpului magnetic generat de curentul care va trece prin bobină.
c. Determinați t.e.m. autoindusă în bobină în intervalul de timp foarte scurt $\Delta t = 1 \mu\text{s}$ cât durează deschiderea întrerupătorului

**15 puncte**

Proba E: Specializarea : matematică –informatică, științe ale naturii

Proba F: Profil: tehnic – toate specializările

♦ Sunt obligatorii toți itemii din două arii tematice dintre cele patru prevăzute în programă, adică: A.MECANICĂ, B.ELECTRICITATE ȘI MAGNETISM, C. ELEMENTE DE TERMODINAMICĂ ȘI FIZICĂ MOLECULARĂ, D. OPTICĂ

♦ Se acordă 10 puncte din oficiu.

♦ Timpul efectiv de lucru este de 3 ore.

Varianta 92

B. ELECTRICITATE ȘI MAGNETISMPermeabilitatea magnetică a vidului are valoarea $\mu_0 = 4\pi \cdot 10^{-7} \text{ N/A}^2$.**I. Pentru itemii 1-5 scrieți pe foaia de răspuns litera corespunzătoare răspunsului considerat corect****15 puncte**

1. Una dintre unitățile de măsură enumerate NU corespunde puterii electrice :

- a. W b. $V \cdot A$ c. J/s d. $\Omega \cdot A$

2. Rezistivitatea unui metal variază cu temperatura astfel:

- a. crește exponențial b. nu variază c. crește liniar d. scade liniar

3. Într-o rețea electrică există n noduri. Se poate afirma că :

- a. prima lege a lui Kirchhoff se poate aplica de $(n-1)$ ori
 b. prin aplicarea primei legi a lui Kirchhoff se obțin n ecuații independente
 c. prin aplicarea primei legi a lui Kirchhoff se obțin $(n-1)$ ecuații independente
 d. prima lege a lui Kirchhoff reflectă legea conservării sarcinii electrice pentru $(n-1)$ noduri

4. O bobină cu miez feromagnetic de lungime l , are un singur strat format din N spire așezate una lângă alta. Bobina este formată dintr-un fir de cupru cu raza r prin care trece un curent electric de intensitate I . Permeabilitatea magnetică relativă a miezului de fier este μ_r , iar permeabilitatea vidului μ_0 . Inducția câmpului magnetic din interiorul bobinei are expresia:

- a. $B = \frac{\mu_0 \mu_r I}{2r}$ b. $B = \frac{\mu_0 \mu_r NI}{l}$ c. $B = \frac{\mu_0 \mu_r I}{2\pi r}$ d. $B = \frac{\mu_0 \mu_r NI}{2r}$

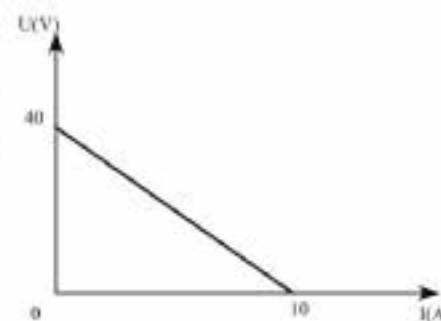
5. Inducția câmpului magnetic indus este de sens opus inducției câmpului magnetic inductor atunci când :

- a. fluxul câmpului magnetic inductor scade
 b. fluxul câmpului magnetic inductor crește
 c. fluxul câmpului magnetic inductor este nul
 d. fluxul câmpului magnetic inductor variază foarte lent

II. Rezolvați următoarele probleme:

1. Pentru o sursă de tensiune cu t.e.m. E și rezistența internă r s-a trasat caracteristica curent-tensiune reprezentată în figura alăturată. La bornele sursei de tensiune se conectează o grupare în paralel a doi rezistori de rezistențe electrice $R_1 = 10\Omega$ și $R_2 = 20\Omega$. Să se calculeze:

- a. t.e.m. și rezistența internă a sursei de tensiune;
 b. intensitățile curentului electric prin sursă și prin cei doi rezistori;
 c. puterea electrică consumată de sursă și puterea electrică furnizată de sursă grupării în paralel a rezistorilor.

**15 puncte**

2. Un solenoid aflat în aer ($\mu_r = 1$) are lungimea $l = 25\text{cm}$, aria secțiunii transversale $S = 25\text{cm}^2$ și $N = 500$ spire. Prin solenoid trece un curent electric cu intensitatea variabilă în timp $I = a \cdot t$, unde $a = 1\text{A/s}$. Să se determine:

- a. t.e.m. autoindusă în solenoid;
 b. inducția câmpului magnetic din interiorul bobinei la momentul $t = 10\text{s}$;
 c. t.e.m. indusă într-o spirală cu aria $s = 5\text{cm}^2$ aflată în interiorul solenoidului și plasată coaxial într-un plan perpendicular pe axa solenoidului.

15 puncte

Proba E: Specializarea : matematică –informatică, științe ale naturii

Proba F: Profil: tehnic – toate specializările

♦ Sunt obligatorii toți itemii din două arii tematice dintre cele patru prevăzute în programă, adică: A.MECANICĂ, B.ELECTRICITATE ȘI MAGNETISM, C. ELEMENTE DE TERMODINAMICĂ ȘI FIZICĂ MOLECULARĂ, D. OPTICĂ

♦ Se acordă 10 puncte din oficiu.

♦ Timpul efectiv de lucru este de 3 ore.

Varianta 93

B. ELECTRICITATE ȘI MAGNETISM

Permeabilitatea magnetică a vidului are valoarea $\mu_0 = 4\pi \cdot 10^{-7} \text{ N/A}^2$.

I. Pentru itemii 1-5 scrieți pe foaia de răspuns litera corespunzătoare răspunsului considerat corect

15 puncte

1. Unitatea de măsură în S.I. pentru rezistivitatea electrică a unui conductor este:

- a. Ω b. Ω/m c. $\Omega \cdot m$ d. $\Omega \cdot s$

2. Viteza unei particule încărcată electric este perpendiculară pe liniile unui câmp magnetic uniform și constant în timp. Mișcarea particulei este:

- a. rectilinie uniformă
b. rectilinie uniform variată
c. circulară uniformă
d. circulară uniform variată

3. Intensitatea curentului electric printr-un conductor este constantă și egală cu $2A$. Sarcina electrică care străbate o secțiune a conductorului într-un interval de timp egal cu $5s$ este:

- a. $10C$ b. $13C$ c. $15C$ d. $20C$

4. Inducția câmpului magnetic în centrul unei spire conductoare de rază r , parcursă de un curent electric de intensitate I este:

- a. $\frac{2\mu I}{r}$ b. $\frac{I}{r}$ c. $\frac{\mu I}{2\pi r}$ d. $\frac{\mu I}{2r}$

5. Puterea disipată pe un rezistor când acesta este parcurs de un curent electric având intensitatea egală cu $2A$ este de $100W$. Rezistența electrică a rezistorului este de:

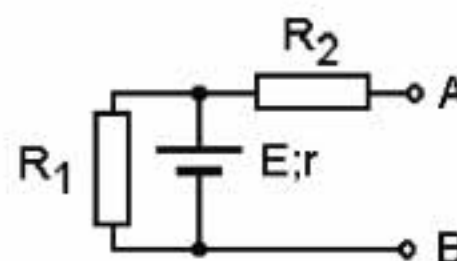
- a. 20Ω b. 25Ω c. 30Ω d. 50Ω

II. Rezolvați următoarele probleme:

1. Pentru circuitul din figura alăturată se cunosc: $E = 14V$; $r = 3\Omega$;

$R_1 = 4\Omega$; $R_2 = 8\Omega$. Determinați:

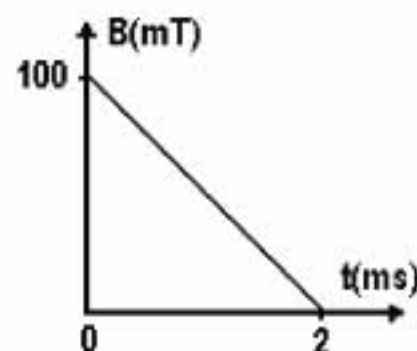
- a. tensiunea între punctele A și B ;
b. intensitatea curentului prin sursă dacă punctele A și B sunt scurtcircuitate;
c. valoarea rezistenței R_3 legată între punctele A și B pentru care puterea disipată de sursă pe circuitul exterior devine maximă.



15 puncte

2. O spirală circulară de rază $r = 8cm$ și rezistență electrică $R = 5\Omega$ este plasată perpendicular pe liniile unui câmp magnetic uniform. Inducția câmpului magnetic variază în timp conform graficului alăturat. Determinați:

- a. fluxul magnetic prin suprafața spirei la momentul inițial;
b. tensiunea electromotoare indusă în spirală;
c. puterea electrică disipată în spirală.



15 punct

Proba E: Specializarea : matematică –informatică, științe ale naturii

Proba F: Profil: tehnic – toate specializările

♦ Sunt obligatorii toți itemii din două arii tematice dintre cele patru prevăzute în programă, adică: A.MECANICĂ, B.ELECTRICITATE ȘI MAGNETISM, C. ELEMENTE DE TERMODINAMICĂ ȘI FIZICĂ MOLECULARĂ, D. OPTICĂ

♦ Se acordă 10 puncte din oficiu.

♦ Timpul efectiv de lucru este de 3 ore.

Varianta 94

B. ELECTRICITATE ȘI MAGNETISMSe cunoaște $\mu_0 = 4 \cdot \pi \cdot 10^{-7} \text{ N/A}^2$ **I. Pentru itemii 1-5 scrieți pe foaia de răspuns litera corespunzătoare răspunsului considerat corect. 15 puncte**

1. Curentul electric ce trece printr-un conductor metalic este pus pe seama deplasării:

- a. atomilor metalului b. nucleelor atomice c. electronilor liberi ai metalului d. moleculelor metalului

2. La bornele unui rezistor R se leagă două surse identice în paralel. Intensitatea curentului prin rezistor este:

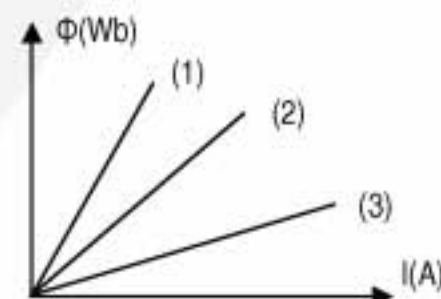
- a. $I = E/[R + (r/2)]$ b. $I = 2E/[R + 2r]$ c. $I = 2E/[R + r]$ d. $I = E/[R + 2r]$

3. O sursă de curent continuu, cu rezistența internă r, alimentează un circuit format din două rezistoare, legate în serie, care au împreună rezistența R. Dacă se scoate din circuit unul dintre consumatoare, rezistența circuitului exterior sursei scade cu $f = 40\%$, în timp ce valoarea curentului din circuit crește cu $g = 25\%$. Raportul R/r are valoarea:

- a. 0,8 b. 2 c. 1 d. 2,5

4. În diagrama alăturată este reprezentată variația fluxului magnetic în funcție de intensitatea curentului ce străbate trei bobine. Relația dintre valorile inductanțelor bobinelor este:

- a. $L_1 > L_2 > L_3$
b. $L_1 < L_2 < L_3$
c. $L_1 > L_2 < L_3$
d. $L_1 < L_2 > L_3$

5. Două conductoare paralele, foarte lungi, plasate în aer $\mu = \mu_0$ la o distanță $d = 10 \text{ cm}$ unul de celălalt, sunt parcurse de curenți de același sens și care au intensitățile $I_1 = 5 \text{ A}$ și $I_2 = 10 \text{ A}$. Inducția magnetică a câmpului rezultat în punctele coplanare cu conductoarele și aflate la jumătatea distanței dintre cele două conductoare este :

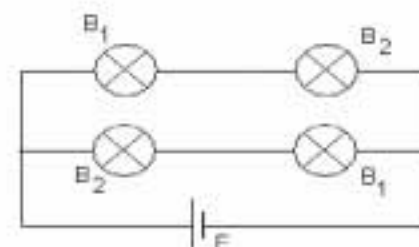
- a. $2 \cdot 10^{-5} \text{ T}$ b. $3 \cdot 10^{-4} \text{ T}$ c. $3 \cdot 10^{-5} \text{ T}$ d. 10^{-5} T

II. Rezolvați următoarele probleme :1. Un solenoid cu $N = 80$ spire și diametrul $d = 8 \text{ cm}$ se află într-un câmp magnetic uniform cu inducția $B = \frac{0,24}{\pi} \text{ T}$. Rezistența solenoidului este $R = 0,25 \Omega$. Axa solenoidului este paralelă cu liniile câmpului magnetic. Solenoidul este rotit cu 180° astfel încât axa lui redevine paralelă cu liniile câmpului magnetic. Durata acestei operațiuni a fost de $0,2 \text{ s}$. Determinați:

- a. variația de flux magnetic printr-o spirală a solenoidului în urma rotirii acestuia;
b. valoarea medie a tensiunii electromotoare induse în solenoid;
c. funcționarea normală știind intensitatea medie a curentului electric ce trece prin solenoid, dacă între capetele solenoidului, înainte de rotirea acestuia, se leagă un fir conductor ideal.

15 puncte2. În montajul din figura alăturată pe soclurile becurilor folosite se pot citi valorile $(300 \text{ W}; 150 \text{ V})$ pentru B_1 și $(100 \text{ W}; 50 \text{ V})$ pentru B_2 . Determinați

- a. valoarea rezistenței filamentului becului B_1 atunci când el funcționează la parametri nominali;
b. temperatura filamentului becului B_1 la funcționarea normală, știind rezistența sa electrică la 0° C , $R_{01} = 25 \Omega$, și coeficientul termic al filamentului $\alpha = 10^{-3} \text{ grad}^{-1}$;
c. valoarea rezistenței electrice pe care trebuie să o aibă un rezistor legat în serie cu sursa pentru a asigura funcționarea normală a becurilor în circuitul considerat dacă sursa ar avea t.e.m $E = 400 \text{ V}$ și $r = 0$.

**15 puncte**

Proba E: Specializarea : matematică –informatică, științe ale naturii

Proba F: Profil: tehnic – toate specializările

♦ Sunt obligatorii toți itemii din două arii tematice dintre cele patru prevăzute în programă, adică: A.MECANICĂ, B.ELECTRICITATE ȘI MAGNETISM, C. ELEMENTE DE TERMODINAMICĂ ȘI FIZICĂ MOLECULARĂ, D. OPTICĂ

♦ Se acordă 10 puncte din oficiu.

♦ Timpul efectiv de lucru este de 3 ore.

Varianta 95

B. ELECTRICITATE ȘI MAGNETISM

I. Pentru itemii 1-5 scrieți pe foaia de răspuns litera corespunzătoare răspunsului considerat corect

15 puncte

1. Unitatea de măsură în S.I. pentru tensiunea electrică este:

- a. Am^{-1} b. VA c. Ωm d. V

2. Puterea maximă transmisă de o sursă în circuitul exterior are expresia:

- a. $\frac{E^2}{4r}$ b. $\frac{E^2}{2r}$ c. $\frac{E}{R+r}$ d. $\frac{E}{4R}$

3. Fluxul magnetic se definește prin relația:

- a. $\vec{\Phi} = \vec{B} \times \vec{S}$ b. $\vec{\Phi} = \vec{B}S$ c. $\Phi = \frac{B}{S}$ d. $\Phi = \vec{B}\vec{S}$

4. Două baterii, având fiecare t.e.m. E și rezistența interioară r sunt conectate în serie și debitează pe un consumator cu rezistența R . Intensitatea curentului electric prin rezistorul R este:

- a. $I = \frac{E}{R+r}$ b. $I = \frac{E}{R+r/2}$ c. $I = \frac{2E}{R+2r}$ d. $I = \frac{E}{R+2r}$

5. Trei conductoare rectilinii paralele sunt situate într-un plan perpendicular pe planul foii. Cei trei curenți electrici au aceeași intensitate și parcurg conductoarele în sensul arătat în figura alăturată. Forța care acționează asupra conductorului B este:

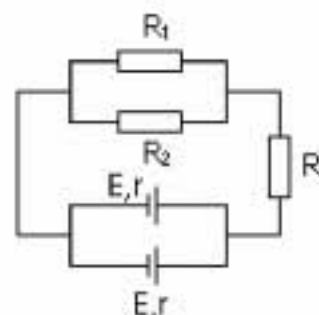
- a. orientată perpendicular pe planul determinat de conductoare
b. orientată în sensul BC
c. orientată în sensul BA
d. nulă.



II. Rezolvați următoarele probleme:

1. Circuitul electric a cărui diagramă este ilustrată în figura alăturată conține două surse identice având fiecare t.e.m. $E = 36V$ și rezistența internă $r = 1,8\Omega$ și trei rezistori având rezistențele electrice: $R_1 = 7\Omega$, $R_2 = 3\Omega$ și $R_3 = 6\Omega$. Determinați:

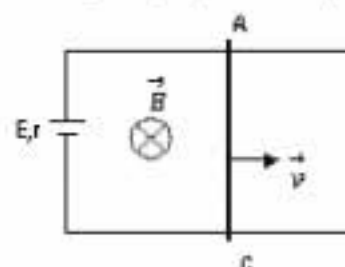
- a. rezistența electrică echivalentă a circuitului exterior;
b. intensitatea curentului prin rezistorul R_3 ;
c. puterea electrică debitată de sursă în circuitul exterior.



15 puncte

2. Bara conductoare AC de lungime $\ell = 0,5m$ și rezistență electrică $R = 4\Omega$ este trasată fără frecare cu viteza constantă $v = 2m/s$ sub acțiunea unei forțe externe. Circuitul din care face parte bara este așezat perpendicular pe liniile de câmp ale unui câmp magnetic uniform de inducție $B = 5T$. Dacă sursa electrică are t.e.m. $E = 10V$ și rezistența interioară $r = 1\Omega$, să se calculeze:

- a. intensitatea curentului electric din circuit;
b. forța electromagnetică ce acționează asupra barei;
c. puterea mecanică consumată pentru deplasarea barei.



15 puncte

Proba E: Specializarea : matematică –informatică, științe ale naturii

Proba F: Profil: tehnic – toate specializările

♦ Sunt obligatorii toți itemii din două arii tematice dintre cele patru prevăzute în programă, adică: A.MECANICĂ, B.ELECTRICITATE ȘI MAGNETISM, C. ELEMENTE DE TERMODINAMICĂ ȘI FIZICĂ MOLECULARĂ, D. OPTICĂ

♦ Se acordă 10 puncte din oficiu.

♦ Timpul efectiv de lucru este de 3 ore.

Varianta 96

B. ELECTRICITATE ȘI MAGNETISM**I. Pentru itemii 1-5 scrieți pe foaia de răspuns litera corespunzătoare răspunsului considerat corect.****15 puncte**Se cunoaște $\mu_0 = 4\pi \cdot 10^{-7} \text{ N/A}^2$ 1. Inducția magnetică în centrul spirelor, produsă de un cadru circular cu N spire de rază r , parcurs de un curent staționar de intensitate I , are expresia :

a. $B = \frac{\mu NI}{2r}$

b. $B = \frac{\mu N^2 S}{l}$

c. $B = \frac{\mu NI}{2\pi r}$

d. $B = \frac{\mu NI}{r}$

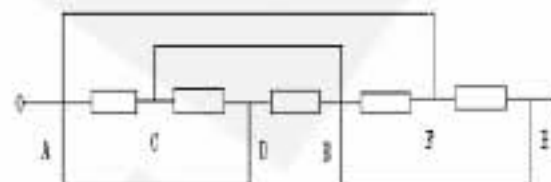
2. În circuitul din figură toate cele cinci rezistoare au aceeași valoare a rezistenței electrice. Rezistența echivalentă a circuitului între punctele A și B are valoarea egală cu:

a. 0

b. $R/3$

c. $R/5$

d. $R/7$



3. Inducția magnetică reprezintă :

a. o mărime fizică scalară ce caracterizează câmpul magnetic

b. un vector tangent la liniile de câmp magnetic

c. un fenomen fizic

d. o mărime fizică vectorială ce caracterizează o bobină.

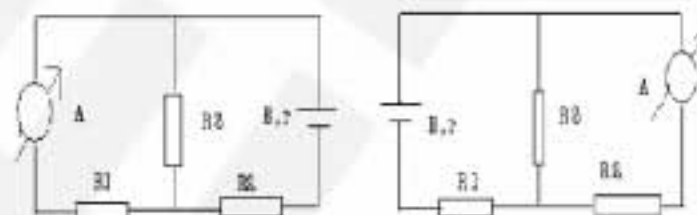
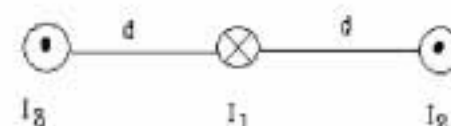
4. Pentru un circuit electric, așa cum este cel din figură, se cunosc $r = R/2$, $R_1 = R$, $R_2 = 2R$ și $R_3 = 3R$. Dacă schimbăm între ele ampermetrul și sursa, atunci ampermetrul indică:

a. aceeași valoare

b. o valoare mai mare

c. o valoare mai mică

d. valoarea 0

5. Trei conductoare rectilinii paralele, coplanare, cu lungimea $l = 1\text{ m}$, parcurse de curenți $I_1 = -I_2 = -I_3 = 2\text{ A}$ se află la distanța $d = 4\text{ cm}$ unul de celălalt, ca în figura alăturată. Conductorii 1 și 2 sunt fixați, iar conductorul 3 este mobil. În această situație conductorul 3, lăsat liber se va:a. îndepărta de conductorul I_1 sub acțiunea forței rezultante $F = 10^{-4} \text{ N}$ b. apropia de conductorul I_1 sub acțiunea forței rezultante $F = 10^{-4} \text{ N}$ c. îndepărta de conductorul I_1 sub acțiunea forței rezultante $F = 10^{-5} \text{ N}$ d. apropia de conductorul I_1 sub acțiunea forței $F = 10^{-5} \text{ N}$ **II. Rezolvați următoarele probleme :**1. O bobină fără miez, având $N = 1000$ spire, lungimea $\ell = 20\text{ cm}$ și secțiunea $S_1 = 3\text{ cm}^2$ este parcursă de un curent electric cu intensitatea $I_1 = 10\text{ A}$. Se plasează coaxial cu bobina o spirală circulară cu $S_2 = 2\text{ cm}^2$ și rezistența $R = 5\Omega$ care face unghiul $\alpha = 30^\circ$ cu axul bobinei. Determinați:

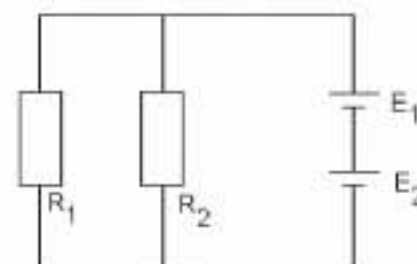
a. fluxul magnetic total prin spirele bobinei;

b. în cât timp trebuie să scadă la zero curentul prin bobină pentru ca în spirală să se inducă o t.e.m. de 1 V ;

c. intensitatea curentului indus în spirală.

15 puncte2. Pentru circuitul din figura alăturată se știe că sursele sunt identice $E_1 = E_2 = E$ și $r_1 = r_2 = r = 1\Omega$. Valorile celor două rezistențe sunt $R_1 = 2\Omega$ și respectiv $R_2 = 4\Omega$. Se cunoaște și valoarea intensității curentului prin R_1 , $I_1 = 3\text{ A}$. Determinați:a. valoarea tensiunii electrice la bornele rezistorului R_2 ;b. puterea electrică disipată pe rezistorul R_1 ;

c. tensiunea electromotoare a fiecărei surse.

**15 puncte**

Proba E: Specializarea : matematică –informatică, științe ale naturii

Proba F: Profil: tehnic – toate specializările

♦ Sunt obligatorii toți itemii din două arii tematice dintre cele patru prevăzute în programă, adică: A.MECANICĂ, B.ELECTRICITATE ȘI MAGNETISM, C. ELEMENTE DE TERMODINAMICĂ ȘI FIZICĂ MOLECULARĂ, D. OPTICĂ

♦ Se acordă 10 puncte din oficiu.

♦ Timpul efectiv de lucru este de 3 ore.

Varianta 97

B. ELECTRICITATE ȘI MAGNETISMPermeabilitatea magnetică a vidului are valoarea $\mu_0 = 4\pi \cdot 10^{-7} \text{ N/A}^2$.**I. Pentru itemii 1-5 scrieți pe foaia de răspuns litera corespunzătoare răspunsului considerat corect****15 puncte**1. Trei rezistori au rezistențele electrice: $R_1 = 5\Omega$; $R_2 = 0,05k\Omega$ și $R_3 = 5000mV/A$. Între cele trei rezistențe electrice există relația:

a. $R_3 > R_1 > R_2$

b. $R_1 = R_2 < R_3$.

c. $R_2 > R_1 = R_3$

d. $R_1 = R_2 = R_3$

2. Forța de interacțiune dintre doi conductori paraleli parcurși de curenți electrici staționari:

a. este de atracție dacă curenții au același sens

b. crește dacă distanța dintre conductori crește

c. depinde de secțiunea conductorilor

d. scade când intensitatea curentului printr-un conductor crește

3. În interiorul unei bobine alimentată la o sursă de curent continuu se găsește un miez de fier. La scoaterea miezului de fier din bobină intensitatea curentului electric prin circuit:

a. scade

b. crește

c. rămâne constantă

d. se anulează

4. Știind că simbolurile mărimilor fizice sunt cele utilizate în manualele de fizică, mărimea fizică descrisă de relația $q \cdot v \cdot B$ reprezintă:

a. frecvență

b. inductanță

c. flux magnetic

d. forță

5. O baterie are tensiunea electromotoare $E = 100V$ și rezistența internă $r = 10\Omega$. Tensiunea măsurată la bornele bateriei cu un voltmetru având rezistența $R_v = 990\Omega$ este:

a. 90V

b. 95V

c. 99V

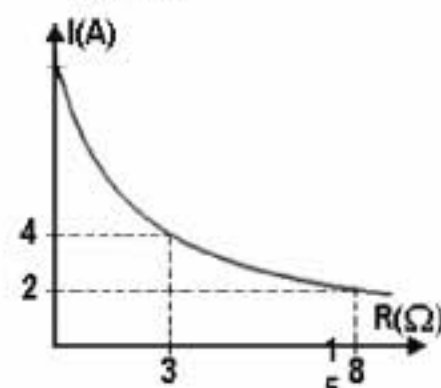
d. 100V

II. Rezolvați următoarele probleme:1. Graficul alăturat prezintă variația intensității curentului electric staționar generat de o sursă având tensiune electromotoare E și rezistență internă r , printr-un rezistor, în funcție de rezistența electrică R a rezistorului. Folosind datele din grafic determinați:

a. tensiunea electromotoare a sursei;

b. intensitatea curentului de scurtcircuit prin sursă;

c. putere maximă pe care o poate transfera sursa circuitului exterior.

**15 puncte**2. Un conductor flexibil de rezistență $R = 1\Omega$ este închis sub forma unui pătrat de latură $l = 10cm$ și așezat perpendicular pe liniile unui câmp magnetic uniform de inducție $B = 5T$.

a. Enunțați legea inducției electromagnetice.

b. Calculați fluxul magnetic prin suprafața circuitului.

c. Determinați sarcina electrică ce trece prin conductor în cazul în care pătratul este transformat în triunghi echilateral.

15 puncte

Proba E: Specializarea : matematică –informatică, științe ale naturii

Proba F: Profil: tehnic – toate specializările

♦ Sunt obligatorii toți itemii din două arii tematice dintre cele patru prevăzute în programă, adică: A.MECANICĂ, B.ELECTRICITATE ȘI MAGNETISM, C. ELEMENTE DE TERMODINAMICĂ ȘI FIZICĂ MOLECULARĂ, D. OPTICĂ

♦ Se acordă 10 puncte din oficiu.

♦ Timpul efectiv de lucru este de 3 ore.

Varianta 98

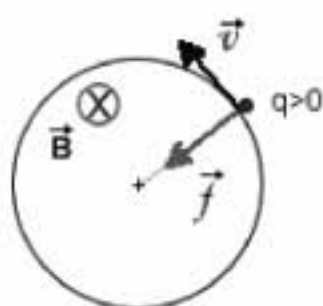
B. ELECTRICITATE ȘI MAGNETISM

Permeabilitatea magnetică a vidului are valoarea $\mu_0 = 4\pi \cdot 10^{-7} \frac{N}{A^2}$; sarcina electrică elementară $e = 1,6 \cdot 10^{-19} C$.

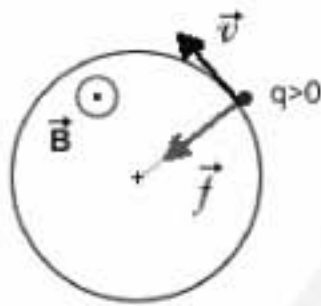
I. pentru itemii 1-5 scrieți pe foaia de răspuns litera corespunzătoare răspunsului considerat corect.

15 puncte

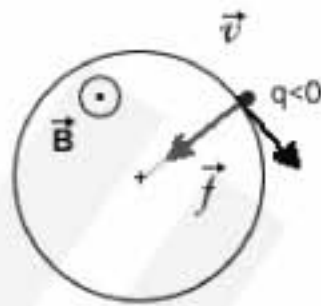
1. Reprezentarea corectă a forței Lorentz cu care un câmp magnetic uniform de inducție \vec{B} acționează asupra unei particule încărcate cu sarcina q care se deplasează cu viteza \vec{v} perpendicular pe liniile de câmp este



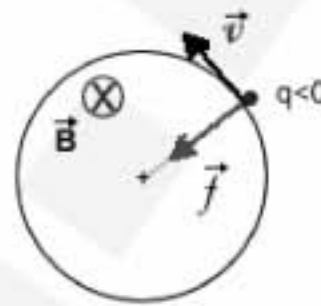
a.



b.



c.



d.

2. Viteza medie de transport a electronilor de conducție într-un conductor metalic (concentrația purtătorilor de sarcină electrică $n = 10^{20} m^{-3}$) cu diametrul $d = 1 mm$, parcurs de un curent cu intensitatea $I = 3,14 A$ are valoarea

a. 2,5 m/s

b. 2,5 dm/s

c. 2,5 cm/s

d. 2,5 mm/s

3. Valoarea rezistenței rezistorului legat în paralel cu un ampermetru cu rezistența proprie $r_0 = 75 \Omega$ în scopul măririi domeniului său de măsurare este $r = 50 \Omega$. Rezistența echivalentă a celor două dispozitive este

a. 130 Ω

b. 125 Ω

c. 30 Ω

d. 25 Ω

4. Centrul unei spire circulare cu raza $r = 1 cm$ parcursă de un curent cu intensitatea $I = 10 A$ se găsește la distanța $d = 2 cm$ de un conductor liniar dispus perpendicular pe planul spirei și parcurs de un curent cu intensitatea $I' = 20 A$. Inducția câmpului magnetic în centrul spirei în aceste condiții are valoarea aproximativă

a. 0,314 mT

b. 0,628 mT

c. 3,14 T

d. 6,28 T

5. Unitatea de măsură exprimată în S.I. prin $kgm^2s^{-3}A^{-2}$ se folosește pentru mărimea fizică

a. tensiune electrică

b. flux magnetic

c. rezistivitate electrică

d. rezistență electrică

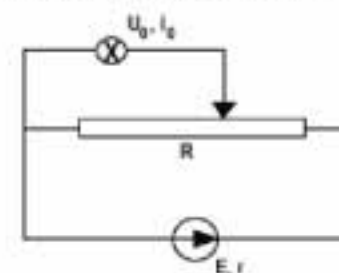
II. Rezolvați următoarele probleme:

1. Se consideră un circuit simplu format dintr-un generator cu tem $E = 8 V$ și rezistența internă $r = 1,5 \Omega$ la bornele căruia este legat un reostat cu rezistența $R = 50 \Omega$.

a. Calculați valorile rezistenței reostatului, R_1 , R_2 , pentru care puterea disipată de generator pe circuitul exterior are aceeași valoare, $P = 2,5 W$.

b. Determinați puterea maximă pe care o poate furniza generatorul circuitului exterior.

c. Se folosesc generatorul și reostatul în montajul de alimentare a unui bec (prezentat în figura alăturată) ce funcționează normal la tensiunea $U_b = 3,5 V$. Determinați valoarea I a intensității curentului debitat de generator dacă la bornele becului se află o fracțiune $f = 73\%$ din rezistența R , considerând rezistența internă a generatorului neglijabilă.



15 puncte

2. Un fascicul de electroni se deplasează în vid cu viteza v paralel cu un conductor liniar de grosime neglijabilă, lungime L parcurs de un curent constant de intensitate I , la distanța d de conductor.

a. Scrieți expresia modului forței exercitate de câmpul magnetic creat de curent asupra unui electron din fascicul.

b. Dacă fasciculul de electroni ar constitui un curent de intensitate I printr-un conductor identic precizezați printr-un desen cum ar interacționa cele două conductoare și scrieți expresia forței respective.

c. Determinați forța care se exercită asupra unui electron dacă fasciculul inițial pătrunde cu viteza v perpendicular pe planul unei spire de rază r parcursă de curentul de intensitate I , în centrul acesteia.

15 puncte

Proba E: Specializarea : matematică –informatică, științe ale naturii

Proba F: Profil: tehnic – toate specializările

♦ Sunt obligatorii toți itemii din două arii tematice dintre cele patru prevăzute în programă, adică: A.MECANICĂ, B.ELECTRICITATE ȘI MAGNETISM, C. ELEMENTE DE TERMODINAMICĂ ȘI FIZICĂ MOLECULARĂ, D. OPTICĂ

♦ Se acordă 10 puncte din oficiu.

♦ Timpul efectiv de lucru este de 3 ore.

Varianta 99

B. ELECTRICITATE ȘI MAGNETISMPermeabilitatea magnetică a vidului are valoarea $\mu_0 = 4\pi \cdot 10^{-7} \text{ N/A}^2$ **I. Pentru itemii 1-5 scrieți pe foaia de concurs litera corespunzătoare răspunsului considerat corect****15 puncte**

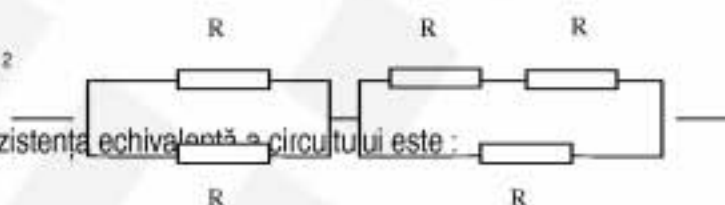
1. O spiră de secțiune $S = 10 \text{ cm}^2$ este situată în întregime în interiorul unui solenoid bobinat cu $n = 1000$ spire pe metru, coaxial cu acesta. Sistemul spiră-solenoid este plasat în aer ($\mu_r = 1$). Viteza de variație a intensității curentului prin solenoid dacă t.e.m. indusă în spiră are valoarea $e = 0,0314 \text{ mV}$ este :

- a. 10 A/s b. 20 A/s c. 25 A/s d. 30 A/s

2. Considerați două rezistoare confecționate din același material având rezistențele $R_1 = 25 \Omega$, respectiv $R_2 = 100 \Omega$. Rezistorul R_1 este confecționat din sârmă de secțiune $S_1 = 1 \text{ mm}^2$, iar rezistorul R_2 este de 10 ori mai lung decât R_1 . Valoarea secțiunii sârmei din care este confecționat rezistorul R_2 este :

- a. $2,5 \text{ mm}^2$ b. $6,25 \text{ mm}^2$ c. 1 cm^2 d. 10 cm^2

3. În circuitul din figura alăturată toți rezistorii au aceeași rezistență R . Rezistența echivalentă a circuitului este :



- a. R b. $\frac{7}{6}R$ c. $\frac{5}{4}R$ d. $2R$

4. Printr-un conductor trece un curent electric a cărui intensitate variază în timp după legea $I = 0,2 + 0,01 t \text{ (A)}$, unde t reprezintă timpul în secunde. Sarcina electrică transportată printr-o secțiune transversală a conductorului în intervalul de timp $t \in [80\text{s}; 180\text{s}]$ este :

- a. 100C b. 150C c. 200C d. 250C

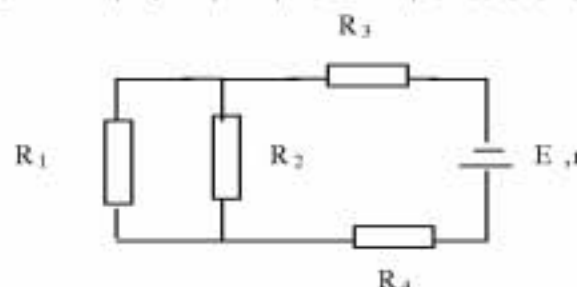
5. Un generator electric debitează aceeași putere pe rezistorii având rezistențele R_1 și respectiv R_2 . Rezistența internă a generatorului este dată de relația :

- a. $R_1 + R_2$ b. $2 R_1 R_2$ c. $\frac{R_1 R_2}{R_1 + R_2}$ d. $\sqrt{R_1 R_2}$

II. Rezolvați următoarele probleme :

1. În circuitul electric din figura alăturată, rezistoarele au rezistențele: $R_1 = 8 \Omega$, $R_2 = 12 \Omega$, $R_3 = 2,2 \Omega$, $R_4 = 4 \Omega$, iar bateria are t.e.m. $E = 24 \text{ V}$ și rezistența interioară $r = 1 \Omega$. Determinați :

- a. rezistența circuitului exterior ;
b. intensitatea curentului prin rezistorul de rezistență R_1 ;
c. energia dezvoltată pe circuitul exterior în timpul $t = 5 \text{ min}$.

**15 puncte**

2. La bornele unui acumulator cu t.e.m. $E = 6\text{V}$ și rezistența internă $r = 0,1 \Omega$ se leagă un rezistor de rezistență electrică $R_1 = 3,9 \Omega$ în serie cu o bobină fără miez magnetic ($\mu_{\text{aer}} = \mu_0$), cu rezistența electrică $R_2 = 2 \Omega$, care are $N = 2000$ de spire, secțiunea $S = 25 \cdot 10^{-4} \text{ m}^2$ și lungimea $l = 0,314 \text{ m}$. Determinați:

- a. intensitatea curentului din circuit;
b. inducția câmpului magnetic în interiorul bobinei;
c. t.e.m. autoindusă în bobină, dacă la deschiderea circuitului, intensitatea curentului din circuit scade liniar la zero în timp de $0,2\text{s}$.

15 puncte

Proba E: Specializarea : matematică –informatică, științe ale naturii

Proba F: Profil: tehnic – toate specializările

♦ Sunt obligatorii toți itemii din două arii tematice dintre cele patru prevăzute în programă, adică: A.MECANICĂ, B.ELECTRICITATE ȘI MAGNETISM, C. ELEMENTE DE TERMODINAMICĂ ȘI FIZICĂ MOLECULARĂ, D. OPTICĂ

♦ Se acordă 10 puncte din oficiu.

♦ Timpul efectiv de lucru este de 3 ore.

Varianta 100

B. ELECTRICITATE ȘI MAGNETISMPermeabilitatea magnetică a vidului are valoarea $\mu_0 = 4\pi \cdot 10^{-7} \text{ N/A}^2$.**I. Pentru itemii 1-5 scrieți pe foaia de răspuns litera corespunzătoare răspunsului considerat corect****15 puncte**

1. O sârmă de cupru are rezistența electrică R și masa m . Cunoscând densitatea d și rezistivitatea ρ ale cuprului, lungimea sârmei este:

- a. $\sqrt{\frac{mR}{\rho d}}$ b. $\sqrt{\frac{\rho m}{d}}$ c. $\sqrt{\frac{m\rho}{\pi d}}$ d. $\sqrt{\frac{m\pi R}{\rho d}}$

2. Rezistența circuitului exterior al unei surse cu t.e.m. $E = 1,5 \text{ V}$ este $R = 2 \Omega$. Dacă tensiunea la bornele sursei este $U = 1 \text{ V}$, rezistența internă a sursei este:

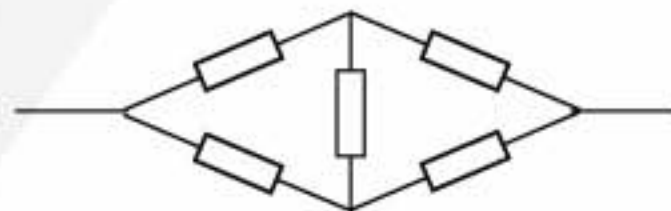
- a. 2Ω b. 4Ω c. 3Ω d. 1Ω

3. Dintr-o sârmă de cupru, cu rezistivitatea ρ și secțiunea S se confecționează o spirală circulară. Dacă spirei i se aplică o tensiune U , câmpul magnetic în centrul ei are valoarea B . Intensitatea curentului care parcurge spira este:

- a. $\frac{US\rho}{\pi\mu_0}$ b. $\sqrt{\frac{USB}{\pi\rho\mu_0}}$ c. $\sqrt{\frac{U}{\rho}}$ d. $\frac{USB}{\pi\rho\mu_0}$

4. Toate rezistențele circuitului din figură au aceeași valoare R . Rezistența echivalentă a circuitului este:

- a. R b. $2R$ c. $R/2$ d. $5R$



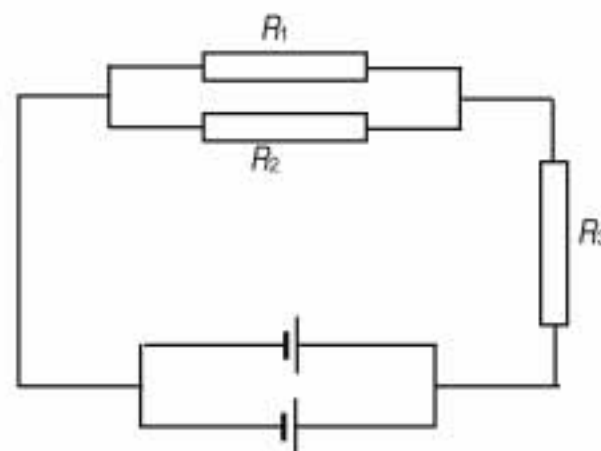
5. Considerând că notațiile sunt cele din manualele de fizică, expresia matematică a forței Lorentz este:

- a. $\vec{f} = q\vec{v} \times \vec{B}$ b. $\vec{f} = \vec{v} \cdot \vec{q} \cdot \vec{B}$ c. $\vec{f} = v\vec{q} \times \vec{B}$ d. $\vec{f} = B\vec{l} \times \vec{l}$

II. Rezolvați următoarele probleme:

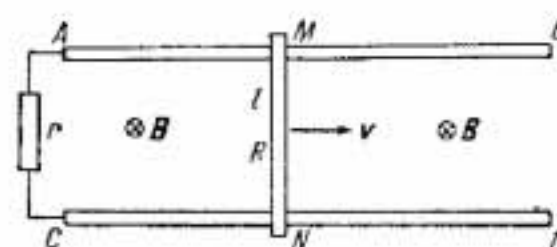
1. Două surse cu t.e.m. $E = 6 \text{ V}$ și rezistența internă $r = 4 \Omega$ fiecare, alimentează o rețea formată din rezistoare, cu rezistențele $R_1 = 6 \Omega$, $R_2 = 6 \Omega$ și $R_3 = 1 \Omega$, ca în figură. Calculați:

- a. tensiunea la bornele rezistorului R_1 ;
b. curentul prin rezistorul R_2 ;
c. căldura disipată în rezistorul R_3 în timp de 1 oră.

**15 puncte**

2. Se consideră circuitul electric din figură, așezat perpendicular pe liniile unui câmp magnetic uniform, cu inducția $B = 0,6 \text{ T}$. Liniile de câmp intră în planul foi de hârtie. Conductoarele AB și CD au rezistențe electrice neglijabile, conductorul MN are rezistența $R = 0,1 \Omega$, iar rezistorul r are rezistența $r = 0,1 \Omega$. Conductorul MN, de lungime $l = 1 \text{ m}$, alunecă fără frecare, cu viteza $v = 10 \text{ m/s}$ în sensul indicat pe figură. Determinați:

- a. sensul și valoarea t.e.m. induse în circuit;
b. intensitatea curentului electric din circuit;
c. puterea mecanică necesară deplasării conductorului MN, cu viteza $v = 10 \text{ m/s}$.

**15 puncte**