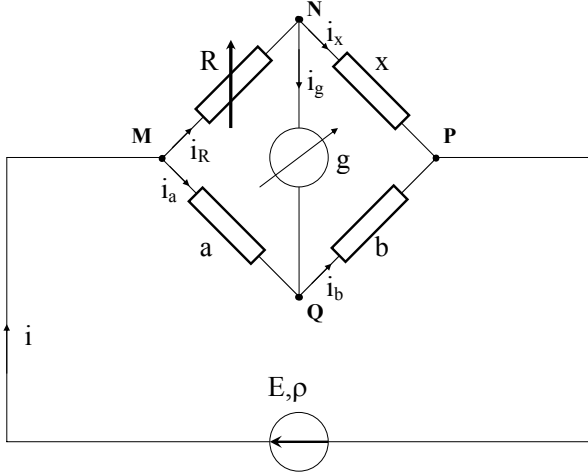


Subiect	Parțial	Punctaj
1. Subiect 1, total:		10
<p>a) Rezistența echivalentă a celor n becuri conectate în paralel este R/n, de unde rezultă expresia intensității curentului prin sursă:</p> $I = \frac{E}{r + r_i + \frac{R}{n}}.$	1	3
<p>Puterea consumată de toate becurile este:</p> $P_n = \left(\frac{R}{n}\right) I^2 = \left(\frac{R}{n}\right) \frac{E^2}{\left(r + r_i + \frac{R}{n}\right)^2}$	1	
<p>și puterea consumată de un singur bec:</p> $P_1 = \frac{P_n}{n} = \left(\frac{R}{n^2}\right) \frac{E^2}{\left(r + r_i + \frac{R}{n}\right)^2}$ <p>care poate fi exprimată în mod echivalent sub forma:</p> $P_1 = \frac{E^2}{R} \frac{1}{\left(1 + \frac{r + r_i}{R} n\right)^2}.$	1	
b)		4
<p>b1. Cazul $\frac{R}{n} \square r + r_i$ (număr mare de becuri).</p> <p>În formula</p> $P_1 = \left(\frac{R}{n^2}\right) \frac{E^2}{\left(r + r_i + \frac{R}{n}\right)^2}$ <p>se poate neglija la numitor termenul $\left(\frac{R}{n}\right)$ față de $(r + r_i)$ și se obține:</p> $P_1 \cong \left(\frac{R}{n^2}\right) \frac{E^2}{(r + r_i)^2}$ <p>care este în acord cu expresia găsită de Preece.</p>	1	
<p>b2. Cazul $\frac{R}{n} \cong r + r_i$.</p> <p>Sistemul este în apropierea regimului de transfer maxim de putere pe rețeaua de becuri. Transferul de putere este maxim când $\frac{R}{n} = r + r_i$.</p> <p>Dacă înlocuim în expresia $P_1 = \frac{E^2}{R} \frac{1}{\left(1 + \frac{r + r_i}{R} n\right)^2}$, găsim: $P_1 = P_{1,\text{maxim}} = \frac{E^2}{4R}$.</p>	1	

1. Orice rezolvare corectă ce ajunge la rezultatul corect va primi punctajul maxim pe itemul respectiv.
2. Orice rezolvare corectă, dar care nu ajunge la rezultatul final, va fi punctată corespunzător, proporțional cu conținutul de idei prezent în partea cuprinsă în lucrare din totalul celor ce ar fi trebuit aplicate pentru a ajunge la rezultat, prin metoda aleasă de elev.

Subiect	Parțial	Punctaj
<p>b3. Cazul $\frac{R}{n} \ll r + r_i$ (număr mic de becuri).</p> <p>În formula $P_1 = \left(\frac{R}{n^2}\right) \frac{E^2}{\left(r + r_i + \frac{R}{n}\right)^2}$</p> <p>se poate neglija la numitor termenul $(r + r_i)$ față de $\left(\frac{R}{n}\right)$ și se obține: $P_1 \cong \frac{E^2}{R}$ care este independentă de n.</p>	1	
<p>Concluzie: Formula lui Preece se poate aplica cu suficientă precizie doar pentru rețele care conțin un număr mare de becuri $n \gg \frac{R}{r + r_i}$.</p>	1	
<p>c) Tensiunea pe orice bec din rețea este dată de:</p> $U_b = \left(\frac{R}{n}\right) \frac{E}{r + r_i + \frac{R}{n}} = \frac{E}{1 + n \frac{r + r_i}{R}} \Rightarrow n = \left(\frac{E}{U_b} - 1\right) \frac{R}{r + r_i}.$	0,5	1
<p>Pentru $U_b = 100V \Rightarrow n_1 = 480$ becuri.</p> <p>Pentru $U_b = 120V \Rightarrow n_2 = 333,33$.</p> <p>Observăm că tensiunea pe becuri scade cu creșterea numărului de becuri, ceea ce înseamnă că trebuie să alegem $n_2 = 334$ becuri.</p> <p>Condițiile optime de funcționare sunt în acest caz îndeplinite pentru un număr de becuri în rețea cuprins între 334 și 480 de becuri.</p>	0,5	
<p>d) Becurile moderne au rezistența $R_M = \frac{U_M^2}{P_M} = 960\Omega$.</p>	0,5	1
<p>Pentru a asigura funcționarea în regim de transfer maxim de putere pe consumatorul extern a sursei avem: $\frac{R_M}{n'} = r + r_i \Rightarrow n' = \frac{R_M}{r + r_i} = 1920$ becuri.</p>	0,5	
Oficiu		1

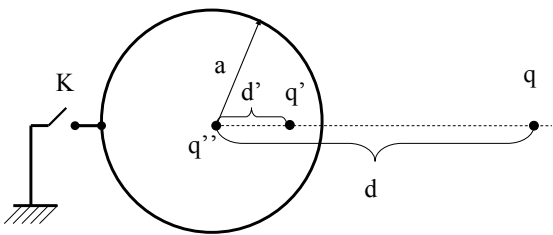
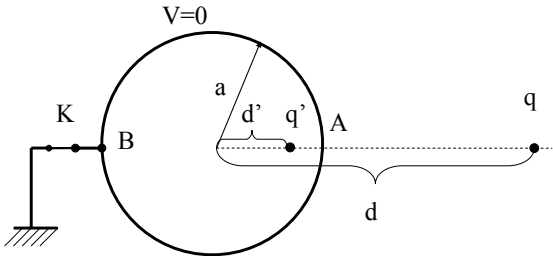
1. Orice rezolvare corectă ce ajunge la rezultatul corect va primi punctajul maxim pe itemul respectiv.
2. Orice rezolvare corectă, dar care nu ajunge la rezultatul final, va fi punctată corespunzător, proporțional cu conținutul de idei prezent în partea cuprinsă în lucrare din totalul celor ce ar fi trebuit aplicate pentru a ajunge la rezultat, prin metoda aleasă de elev.

2. Subiect 2, total:		10
<p>a)</p>  <p>Fig. 2s</p>	1	2
<p>Folosim notațiile din figura 2s Din condiția $i_g = 0$ rezultă că $i_R = i_x$ și $i_a = i_b$. Din legea a doua lui Kirchhoff pentru ochiul de rețea MNQ rezultă $Ri_R - ai_a = 0$ iar pentru ochiul de rețea NPQ, $xi_x - bi_b = 0$. Utilizând aceste relații, obținem:</p> $\begin{cases} Ri_R = ai_a \\ xi_x = bi_b \\ i_R = i_x \\ i_a = i_b \end{cases} \Rightarrow \frac{R}{x} = \frac{a}{b} \Rightarrow x = R \frac{b}{a}.$	1	
<p>b) Domeniul de valori ale rezistenței R pentru care curentul prin galvanometru este mai mic decât valoarea limită i_0 se obține din condiția: $i_g < i_0$.</p>	1	7
<p>Pentru a determina expresia curentului prin galvanometru scriem legile lui Kirchhoff pentru circuit în cazul general:</p> $\begin{cases} E = Ri_R + xi_x \\ 0 = Ri_R - ai_a \\ 0 = xi_x - bi_b \\ i = i_R + i_a \\ i = i_x + i_b \\ i_R = i_g + i_x \end{cases}.$	1	

1. Orice rezolvare corectă ce ajunge la rezultatul corect va primi punctajul maxim pe itemul respectiv.
2. Orice rezolvare corectă, dar care nu ajunge la rezultatul final, va fi punctată corespunzător, proporțional cu conținutul de idei prezent în partea cuprinsă în lucrare din totalul celor ce ar fi trebuit aplicate pentru a ajunge la rezultat, prin metoda aleasă de elev.

<p>Soluția acestui sistem o reprezintă curenții $(i, i_R, i_x, i_a, i_b, i_g)$. Obținem succesiv:</p> $i_a = i_R \frac{R}{a}, \quad i_b = i_x \frac{x}{b}$ $i = i_R \left(1 + \frac{R}{a}\right) = i_x \left(1 + \frac{x}{b}\right) \Rightarrow i_R = i \frac{a}{a+R}; \quad i_x = i \frac{b}{b+x}$ $E = i \left(\frac{aR}{a+R} + \frac{bx}{b+x} \right) \Rightarrow i = E \frac{(a+R)(b+x)}{aR(b+x) + bx(a+R)}$ $i_g = i_R - i_x = E \frac{(ax - bR)}{aR(b+x) + bx(a+R)}.$	1	
<p>Să notăm R_1 valoarea rezistenței R pentru care $i_g = +i_0$ și R_2 valoarea rezistenței pentru care $i_g = -i_0$. Dacă înlocuim aceste notații în expresia curentului prin galvanometru, obținem:</p> $\begin{cases} +i_0 = E \frac{(ax - bR_1)}{aR_1(b+x) + bx(a+R_1)} \\ -i_0 = E \frac{(ax - bR_2)}{aR_2(b+x) + bx(a+R_2)} \end{cases}$	1	
<p>din care obținem expresiile pentru R_1 și R_2:</p> $\begin{cases} R_1 = \frac{ax(E - bi_0)}{b(E + ai_0) + x(a+b)i_0} \\ R_2 = \frac{ax(E + bi_0)}{b(E - ai_0) - x(a+b)i_0} \end{cases}.$	1	
<p>Dacă notăm R_0 valoarea rezistenței R pentru care $i_g = 0$, observăm că putem exprima R_1 și R_2 sub forma:</p> $\begin{cases} R_1 = R_0 \frac{E - bi_0}{E + \left[a + \frac{x(a+b)}{b} \right] i_0} < R_0 \\ R_2 = R_0 \frac{E + bi_0}{E - \left[a + \frac{x(a+b)}{b} \right] i_0} > R_0 \end{cases}.$	1	
<p>Rezultă că $R_1 < R < R_2$.</p>	1	
<p>Oficiu</p>		1

1. Orice rezolvare corectă ce ajunge la rezultatul corect va primi punctajul maxim pe itemul respectiv.
2. Orice rezolvare corectă, dar care nu ajunge la rezultatul final, va fi punctată corespunzător, proporțional cu conținutul de idei prezent în partea cuprinsă în lucrare din totalul celor ce ar fi trebuit aplicate pentru a ajunge la rezultat, prin metoda aleasă de elev.

3. Subiect 3, total		10
<p>3.1) Completăm semisfera din enunț cu o semisferă identică situată la dreapta originii O, formând astfel o sferă. Dacă sarcina totală de pe sferă este q, potențialul creat de sferă în A este:</p> $V_{A,sfera} = V_{A1} + V_{A2} = \frac{1}{4\pi\epsilon_0} \frac{q}{1,5R},$ <p>unde V_{A1} este potențialul necunoscut (dat de semisfera din stânga) iar V_{A2} este contribuția la potențialul total în A dat de semisfera din dreapta.</p>	1	3
<p>Folosind simetria problemei și valorile din tabel se observă că $V_{A2} = V(1,5R) = 46,5V$. Valoarea potențialului unei semisfere în centrul acesteia este dat de: $V(0) = \frac{1}{4\pi\epsilon_0} \frac{q/2}{R} = 100V$ de unde rezultă:</p> $\frac{1}{4\pi\epsilon_0} \frac{q}{R} = 2V(0).$	1	
<p>Dacă se înlocuiește în expresia potențialul creat de sferă în A, obținem:</p> $V_{A,sfera} = V_{A1} + V(1,5R) = \frac{1}{4\pi\epsilon_0} \frac{q}{1,5R} = \frac{2}{3} 2V(0) \Rightarrow$ $V_{A1} = \frac{4}{3} V(0) - V(1,5R) = \frac{4}{3} 100 - 46,5 = 86,83V$	1	
3.2)		
 <p style="text-align: center;">Fig. 3.2s1</p>	0,5	1
 <p style="text-align: center;">Fig. 3.2s2</p>	0,5	

1. Orice rezolvare corectă ce ajunge la rezultatul corect va primi punctajul maxim pe itemul respectiv.
2. Orice rezolvare corectă, dar care nu ajunge la rezultatul final, va fi punctată corespunzător, proporțional cu conținutul de idei prezent în partea cuprinsă în lucrare din totalul celor ce ar fi trebuit aplicate pentru a ajunge la rezultat, prin metoda aleasă de elev.

3.2a		
<p>În prezența sarcinii q pe sfera conductoare apar sarcini de influență care asigură anularea câmpului în interiorul conductorului. În cazul în care întrerupătorul este pe poziția deschis, sfera conductoare este izolată, sarcina totală de pe aceasta fiind zero. Potențialul sferei este constant, dar nenul. Când întrerupătorul este pe poziția închis, potențialul sferei ajunge zero, datorită legăturii la Pământ.</p> <p>Este mai simplu să calculăm sistemul echivalent de sarcini (punctiforme) care asigură condiția de potențial nul pe sfera conductoare. Se calculează mărimea și poziția unei sarcini electrice punctiforme q' aflate la distanța d' de centrul sferei care, împreună cu sarcina q asigură condiția $V = 0$ pe orice punct de pe sferă. Este suficient să impunem condiția de potențial nul în punctele A și B (vezi figura 3.2s2). Se obține:</p> $\begin{cases} \frac{1}{4\pi\epsilon_0} \frac{q}{(d-a)} + \frac{1}{4\pi\epsilon_0} \frac{q'}{(a-d')} = V_A = 0 \\ \frac{1}{4\pi\epsilon_0} \frac{q}{(d+a)} + \frac{1}{4\pi\epsilon_0} \frac{q'}{(a+d')} = V_B = 0 \end{cases}$	1	3
<p>de unde rezultă succesiv:</p> $\begin{cases} \frac{q}{(d-a)} = -\frac{q'}{(a-d')} \\ \frac{q}{(d+a)} = -\frac{q'}{(a+d')} \end{cases} \Rightarrow \begin{cases} \frac{(d+a)}{(d-a)} = \frac{(a+d')}{(a-d')} \\ q' = -q \frac{(a-d')}{(d-a)} \end{cases} \Rightarrow \begin{cases} d' = \frac{a^2}{d} \\ q' = -q \frac{a}{d} \end{cases}$	1	
<p>Sarcina q' este chiar sarcina totală de influență deoarece aceasta, împreună cu sarcina q, creează același câmp în exteriorul sferei conductoare ca și sistemul real (q și sarcini de influență). În consecință, dacă aplicăm teorema lui Gauss pentru o sferă având raza cu puțin mai mare decât a ar trebui pentru ambele sisteme să obținem același flux, adică sarcina totală interioară acestei sfere ar trebui să fie aceeași în ambele cazuri.</p>	1	

1. Orice rezolvare corectă ce ajunge la rezultatul corect va primi punctajul maxim pe itemul respectiv.
2. Orice rezolvare corectă, dar care nu ajunge la rezultatul final, va fi punctată corespunzător, proporțional cu conținutul de idei prezent în partea cuprinsă în lucrare din totalul celor ce ar fi trebuit aplicate pentru a ajunge la rezultat, prin metoda aleasă de elev.

3.2b		
<p>Când sfera este izolată (înainte de închiderea circuitului), sarcina totală de pe aceasta este nulă iar potențialul este nenul. Pentru a asigura un astfel de potențial pe sferă, se adaugă încă o sarcină în sistemul echivalent, sarcina q'' poziționată chiar în centrul sferei. După cum se știe o astfel de sarcină va asigura un potențial diferit de zero și constant pe sferă.</p> <p>Valoarea sarcinii q'' se determină din proprietatea că sarcina totală de influență, pe sferă, este nulă. Se știe că atât sistemul format din sarcina q și sarcinile de influență, respectiv sistemul echivalent (q, q', q'') produc același câmp electric în afara sferei.</p> <p>Dacă se aplică teorema lui Gauss pentru o sferă de rază cu puțin mai mare decât a, fluxul total prin aceasta trebuie să fie nul (sferă izolată, deci cu sarcina totală zero). Aceasta este valabil și pentru sistemul real cât și pentru sistemul echivalent. Dacă pentru sistemul echivalent fluxul total este zero, rezultă că sarcina totală din interiorul sferei (de rază cu puțin mai mare decât a) este tot zero. Rezultă că:</p> $q' + q'' = 0 \Rightarrow q'' = -q' = q \frac{a}{d}.$	1	2
<p>Se calculează forțele care acționează asupra sarcinii q în cele două situații (K deschis – sferă izolată, respectiv K închis – sferă la potențial zero).</p> <p>Cazul K deschis:</p> $F_1 = \frac{1}{4\pi\epsilon_0} \frac{qq'}{(d-d')^2} + \frac{1}{4\pi\epsilon_0} \frac{qq''}{d^2}.$	0,5	
<p>Cazul K închis:</p> $F_2 = \frac{1}{4\pi\epsilon_0} \frac{qq'}{(d-d')^2}.$	0,5	
Oficiu		1

1. Orice rezolvare corectă ce ajunge la rezultatul corect va primi punctajul maxim pe itemul respectiv.
2. Orice rezolvare corectă, dar care nu ajunge la rezultatul final, va fi punctată corespunzător, proporțional cu conținutul de idei prezent în partea cuprinsă în lucrare din totalul celor ce ar fi trebuit aplicate pentru a ajunge la rezultat, prin metoda aleasă de elev.